
Probas de acceso a ciclos formativos de grao medio

CMPS003

Ciencias sociais

Parte sociolingüística. Ciencias sociais



1. Formato da proba

Formato

- A proba consta de vinte cuestións tipo test.
- As cuestións tipo test teñen tres posibles respostas das que soamente unha é correcta.

Puntuación

- 0,50 puntos por cuestión tipo test correctamente contestada.
- Cada cuestión tipo test incorrecta restará 0,125 puntos.
- Polas respostas en branco non se descontará puntuación.
- No caso de marcar máis dunha resposta por pregunta considerarase como unha resposta en branco.

Materiais e instrumentos que se poden empregar durante a proba

- Bolígrafo con tinta negra ou azul.

Duración

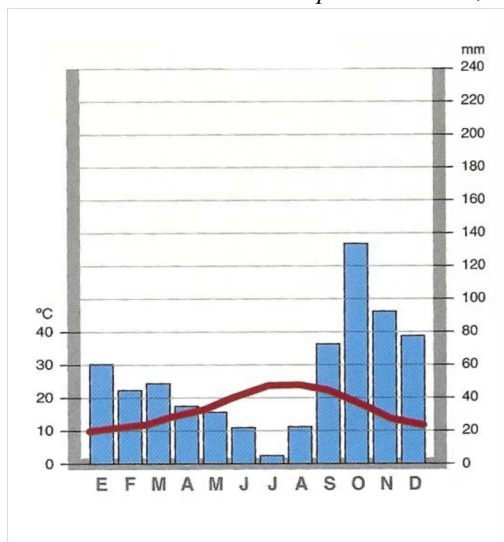
- Este exercicio terá unha duración máxima de 50 minutos.

2. Exercicio

1. Polas súas características de temperaturas moderadas e precipitacións concentradas no período outonal, o climograma proposto é o correspondente a un clima:

Por sus características de temperaturas moderadas y precipitaciones concentradas en el período otoñal, el climograma propuesto es el correspondiente a un clima:

- A Mediterráneo.
- B Continental.
- C Tropical seco.



2. Cal é a secuencia histórica cronoloxicamente correcta?

¿Cuál es la secuencia histórica cronológicamente correcta?

- A Chegada do pobo suevo a Galicia - cultura castrexa - revolta Irmandiña.
Llegada del pueblo suevo a Galicia - cultura castreña - revuelta Irmandiña.
- B Cultura castrexa - chegada do pobo suevo a Galicia - revolta Irmandiña.
Cultura castreña - llegada del pueblo suevo a Galicia - revuelta Irmandiña.
- C Revolta Irmandiña - cultura castrexa - chegada do pobo suevo a Galicia.
Revuelta Irmandiña - cultura castreña - llegada del pueblo suevo a Galicia.

3. O xogo violento de luces e sombras mediante unha iluminación forzada é característico da corrente artística denominada:

El juego violento de luces y sombras mediante una iluminación forzada es característico de la corriente artística denominada:

- A Rococó.
- B Tenebrismo.
- C Manierismo.



4. Sinale a secuencia cronoloxicamente correcta dos reis de España, da casa de Borbón.

Señale la secuencia cronológicamente correcta de los reyes de España, de la casa de Borbón.

A Carlos III - Filipe V - Fernando VI.

Carlos III - Felipe V - Fernando VI.

B Fernando VI - FilipeV - Carlos III.

Fernando VI - Felipe V - Carlos III.

C Filipe V - Fernando VI - Carlos III.

Felipe V - Fernando VI - Carlos III.

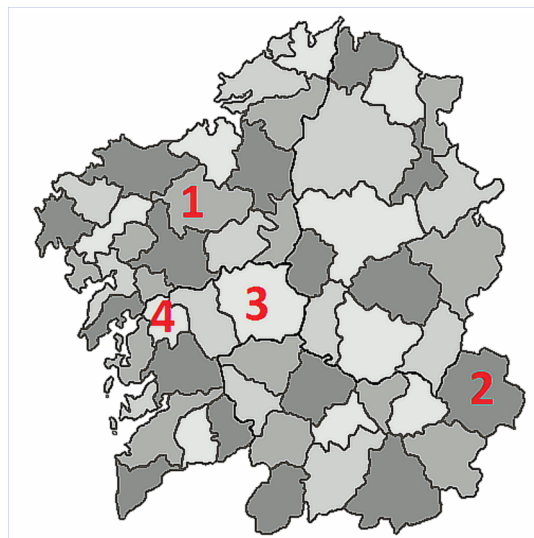
5. Identifique a secuencia correcta das comarcas numeradas no mapa de Galicia.

Identifique la secuencia correcta de las comarcas numeradas en el mapa de Galicia.

A 1: Santiago. 2: Quiroga. 3: Meira.
4: Arzúa.

B 1: Ordes. 2: Valdeorras. 3: Deza.
4: Caldas.

C 1: Terra de Xallas. 2: Sarria. 3: Meira.
4: A Fonsagrada.



6. Os países coñecidos pola sigla BRICS (Brasil, Rusia, India, China, Suráfrica) caracterízanse por:

Los países conocidos por la sigla BRICS (Brasil, Rusia, India, China, Sudáfrica) se caracterizan por:

A Un rápido crecemento do seu PIB, o que os fai moi interesantes de cara aos proxectos dos investidores.

Un rápido crecimiento de su PIB, lo que los hace muy interesantes de cara a los proyectos de los inversores.

B Un rápido avellentamento da súa poboación, que atrae a man de obra estranxeira.

Un rápido envejecimiento de su población, que atrae la mano de obra extranjera.

C Un alto índice de inseguridade financeira, que desaconsella o investimento estranxeiro.

Un alto índice de inseguridad financiera, que desaconseja la inversión extranjera.

7. O uso de instrumental de pedra pulimentada é característico do período:

El uso de instrumental de piedra pulimentada es característico del período:

A Paleolítico Superior.

B Cultura castrexa.
Cultura castreña.

C Neolítico.



8. Entre as causas que desencadearon o estoupido da Segunda Guerra Mundial adoita destacarse:

Entre las causas que desencadenaron el estallido de la Segunda Guerra Mundial suele destacarse:

A As cláusulas do Tratado de Versalles, consideradas abusivas por Hitler e boa parte do pobo alemán.

Las cláusulas del Tratado de Versalles, consideradas abusivas por Hitler y buena parte del pueblo alemán.

B A sinatura da paz de Brest-Litovsk coa Rusia revolucionaria.

La firma de la paz de Brest-Litovsk con la Rusia revolucionaria.

C O asasinato de Francisco Fernando, herdeiro do Imperio Austrohúngaro, en Saraxevo.

El asesinato de Francisco Fernando, heredero del Imperio Austrohúngaro, en Sarajevo.

9. O Congreso de Viena, que inaugura o período histórico coñecido como Restauración, tivo lugar:

El Congreso de Viena, que inaugura el período histórico conocido como Restauración, tuvo lugar:

A En 1808, logo das abdicacións de Baiona en favor de Napoleón Bonaparte.

En 1808, tras las abdicaciones de Bayona en favor de Napoleón Bonaparte.

B En 1814, logo da definitiva caída de Napoleón Bonaparte.

En 1814, tras la definitiva caída de Napoleón Bonaparte.

C En 1820, logo do pronunciamento de Rafael del Riego en Cabezas de San Juan.

En 1820, tras el pronunciamiento de Rafael del Riego en Cabezas de San Juan.



- 10.** A definitiva restauración da independencia do Reino de Portugal da monarquía hispánica, reinando Filipe IV, tivo lugar, coincidindo co ciclo de revoltas do ano:

La definitiva restauración de la independencia del Reino de Portugal de la monarquía hispánica, reinando Felipe IV, tuvo lugar, coincidiendo con el ciclo de revueltas del año:

- A** 1494
- B** 1640
- C** 1812

- 11.** Cal é a afirmación correcta sobre as causas da colonización de África por parte das potencias europeas no século XIX?

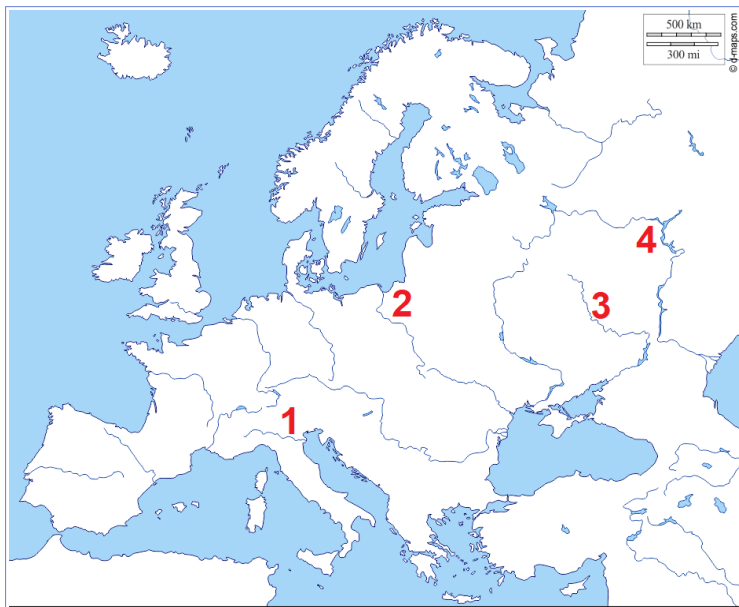
¿Cuál es la afirmación correcta sobre las causas de la colonización de África por parte de las potencias europeas en el siglo XIX?

- A** A busca de novas materias primas e man de obra barata.
La búsqueda de nuevas materias primas y mano de obra barata.
- B** O desexo de axuda aos países menos desenvolvidos.
El deseo de ayuda a los países menos desarrollados.
- C** A loita ideolóxica contra o Islam.
La lucha ideológica contra el Islam.

- 12.** Identifique a secuencia correcta dos ríos europeos sinalados no mapa.

Identifique la secuencia correcta de los ríos europeos señalados en el mapa.

- A** 1: Po. 2: Vístula. 3: Don. 4: Volga.
- B** 1: Po. 2: Oder. 3: Dniéper. 4: Don.
- C** 1: Danubio. 2: Vístula. 3: Don. 4: Dniéster.





- 13.** A columnata de Bernini en San Pedro de Roma, pola súa concepción escenográfica e a súa disposición elíptica, debe considerarse unha obra de estilo:

La columnata de Bernini en San Pedro de Roma, por su concepción escenográfica y su disposición elíptica, debe considerarse una obra de estilo:

- A** Gótica.
- B** Barroca.
- C** Renacentista.



- 14.** Identifique os elementos do relevo peninsular correctamente numerados.

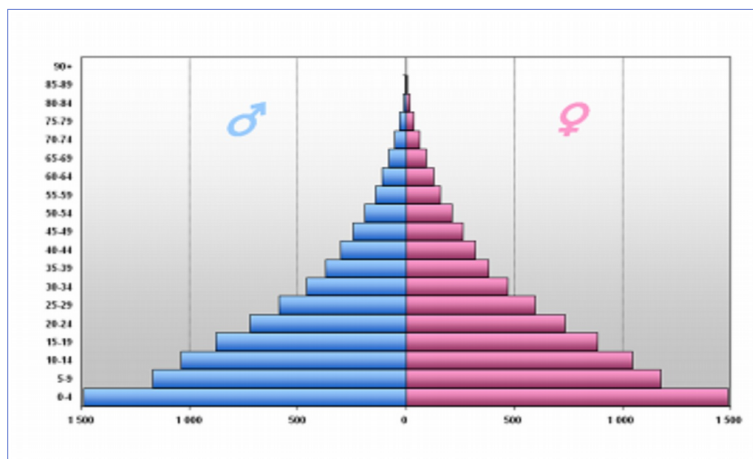
Identifique los elementos del relieve peninsular correctamente numerados.



- A** 1: Serra Morena. 2: Serra de Guadalupe. 3: Serra de Cazorla. 4: Picos de Urbión.
1: Sierra Morena. 2: Sierra de Guadalupe. 3: Sierra de Cazorla. 4: Picos de Urbión.
- B** 1: Serra Morena. 2: Picos de Urbión. 3: Serra de Cazorla. 4: Serra de Guadalupe.
1: Sierra Morena. 2: Picos de Urbión. 3: Sierra de Cazorla. 4: Sierra de Guadalupe.
- C** 1: Serra de Guadalupe. 2: Serra Morena. 3: Picos de Urbión. 4: Serra de Cazorla.
1: Sierra de Guadalupe. 2: Sierra Morena. 3: Picos de Urbión. 4: Sierra de Cazorla.

15. Sinale a resposta que describe correctamente as características da seguinte pirámide de poboación:

Señale la respuesta que describe correctamente las características de la siguiente pirámide de población:



- A** Pola prevalencia dos grupos de idade mais novos e a escaseza de poboación anciá, trátase dunha demografía correspondente a un país de desenvolvemento económico acelerado.

Por la prevalencia de los grupos de edad mas jóvenes y la escasez de población anciana, se trata de una demografía correspondiente a un país en proceso de desarrollo económico acelerado.

- B** Pola prevalencia dos grupos de idade mais novos e a escaseza de poboación anciá, trátase dunha demografía correspondente a un país de baixo desenvolvemento económico.

Por la prevalencia de los grupos de edad mas jóvenes y la escasez de población anciana, se trata de una demografía correspondiente a un país de bajo desarrollo económico.

- C** Pola prevalencia dos grupos de idade mais vellos e a escaseza de poboación nova, trátase dunha demografía correspondente a un país de desenvolvemento económico acelerado.

Por la prevalencia de los grupos de edad más viejos y la escasez de población joven, se trata de una demografía correspondiente a un país en proceso de desarrollo económico acelerado.

16. En que ano se promulgou a derradeira Constitución Española?

¿En qué año fue promulgada la última Constitución Española?

- A** 1978
B 1992
C 1812



17. O primeiro período de Taifas (1031-1085) foi interrompido pola chegada á Península Ibérica de pobos norteafricanos chamados:

El primer período de Taifas (1031-1085) fue interrumpido por la llegada a la Península Ibérica de pueblos norteafricanos llamados:

- A** Fenicios.
- B** Otomanos.
- C** Almorábides.

18. En que sector produtivo se iniciou a Revolución Industrial?

¿En qué sector productivo se inició la Revolución Industrial?

- A** Siderúrxico.
Siderúrgico.
- B** Comercio naval.
Comercio naval.
- C** Industria téxtil.
Industria textil.

19. Como se chama a vangarda artística que valoraba o onírico, o irracional e a forza do subconsciente?


¿Cómo se llama la vanguardia artística que valoraba lo onírico, lo irracional y la fuerza del subconsciente?

- A** Fauvismo.
- B** Surrealismo.
- C** Construtivismo.
Constructivismo.

20. En que período tivo lugar a aparición das primeiras formas cerámicas?

¿En qué período tuvo lugar la aparición de las primeras formas cerámicas?

- A** Neolítico.
- B** Paleolítico.
- C** Medieval.





3. Solución para as preguntas tipo test

Nº	A	B	C	
1	X			
2		X		
3		X		
4			X	
5		X		
6	X			
7			X	
8	X			
9		X		
10		X		
11	X			
12	X			
13		X		
14			X	
15		X		
16	X			
17			X	
18			X	
19		X		
20	X			
N.º de respostas correctas (C)				
N.º de respostas incorrectas (Z)				
Puntuación do test= $C \times 0,5 - Z \times 0,125$				

Nas preguntas de test, por cada resposta incorrecta descontaranse 0,125 puntos. As respostas en branco non descontarán puntuación.