


# Historia 1º ESO



## TEMA: AS PRIMEIRAS CIVILIZACIÓNS.

### 1. XURDIMENTO DAS PRIMEIRAS CIVILIZACIÓNS URBANAS.

Recorda:

1.1.. Que implicou a aparición da agricultura e gandería no Neolítico no que respecta á economía e aos asentamentos?

1.2. Que ocorreu nas beiras dos grandes ríos durante o III milenio a.C. (anos 3000 a 2000 a.C.)?

1.3. Cales son as chamadas “civilizacións fluviais”? Indica cales son e márcas nos mapas.



Localiza os ríos Indo e Ganxes.



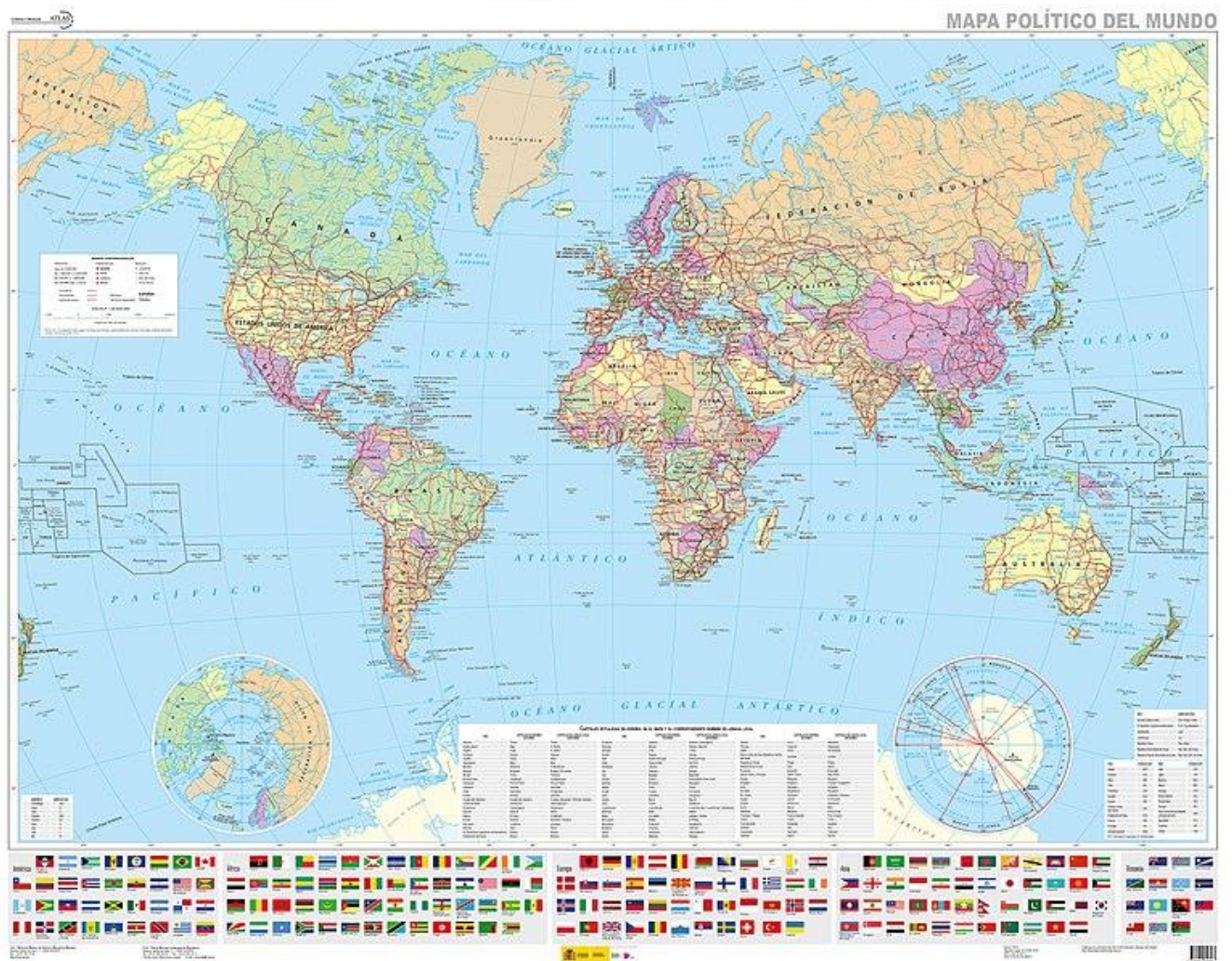
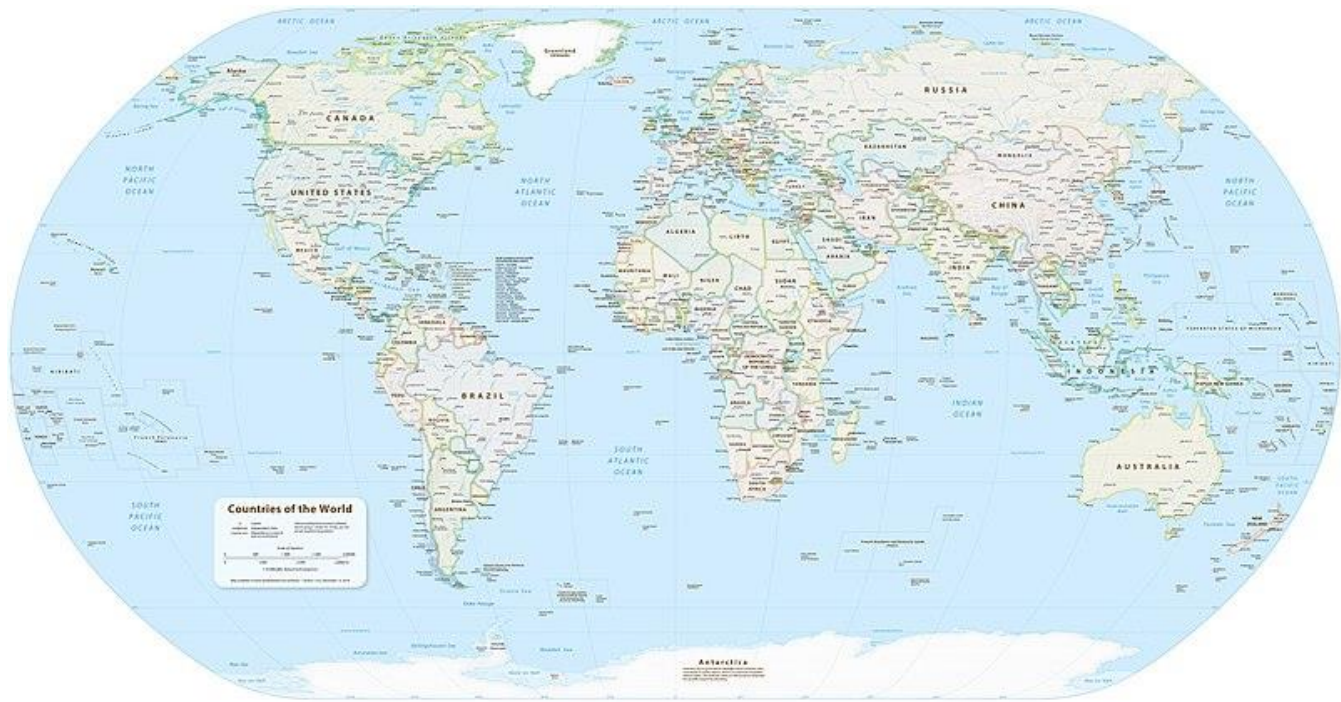
Localiza o río Azul e o río Amarelo.



Localiza os ríos Tigris e Éufrates.

Localiza o río Nilo.





Marca as zonas citadas anteriormente nun destes mapas:



## 2. CARACTERÍSTICAS DAS CIVILIZACIÓNS URBANAS

Economía	
Sociedade	
Política	
Carácter urbano	
Escritura	


9. Interpreta estas imaxes tiradas de [viaxeaitaca.net](http://viaxeaitaca.net):

<p>Economía (Exipto)</p>	 <p><b>A agricultura ás beiras do Nilo</b></p> <p>Imaxes: kalipedia.com e elaboración propia viaxeaitaca.com</p>
<p>Sociedade (Exipto)</p>	 <p><b>PIRÁMIDE SOCIAL EXIPTO</b></p> <p>A sociedade do Antigo Exipto era unha sociedade xerarquizada na que os grupos teñen diferente grao de poder social, político e económico.</p>
<p>Carácter urbano (Mesopotamia)</p>	 <p><b>CIDADE MESOPOTÁMICA DE UR</b></p> <p>Chegou a ter 360.000 habitantes arredor do 2.000 a.C.</p>
<p>A escritura</p>	 <p>Escritura cuneiforme sumeria      Escriba exipcio      Escritura xeroglífica exipcia</p>

### 3. MESOPOTAMIA.

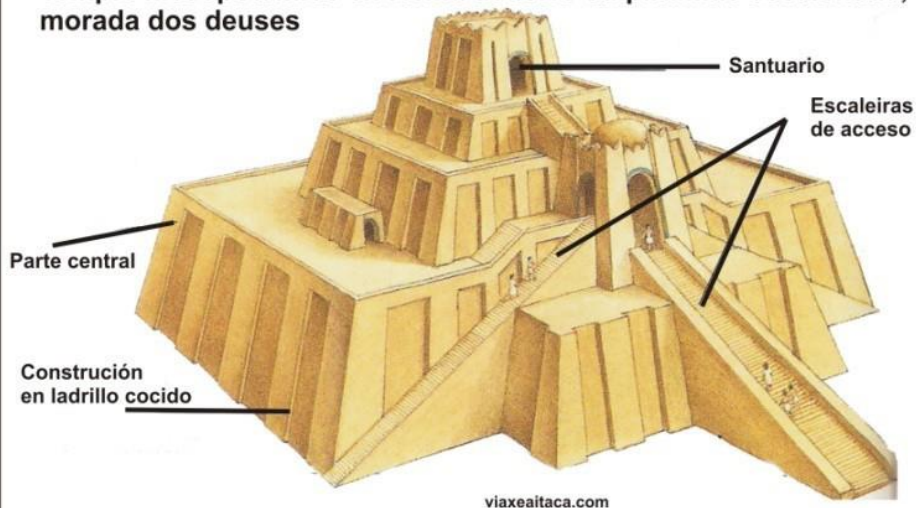
1. Localización		
2. Etapas	C-E	Como eran?
	I	Explica os imperios Babilonio, Asirio e Persa.
3. Relixión		
4. Escritura		
5. Arquitectura		
6. Escultura		
7. Outras aportacións		

Interpreta estas imaxes tiradas de de [viaxeitaca.net](http://viaxeitaca.net):



## CIGURAT

Templo mesopotámico en forma de torre ou pirámide escalonada, morada dos deuses







#### 4. EXIPTO.

1. Localización: O control do Nilo.			
2. Etapas			
+ O faraón			
3. Relixión			
4. Escritura			
5. Arquitectura	T		
	T	M	
		P	
		H	
6. Escultura e pintura: A lei da frontalidade.			

Interpreta estas imaxes tiradas de de [viaxeaitaca.net](http://viaxeaitaca.net):

Deus exipcio Anubis  
Señor da cidade  
dos mortos



Faraón Tutankamon



Templos de Karnak, Luxor e Abi Simbel




Busto de Nefertiti



O faraón Mikerinos e a súa esposa



Pintura exipcia



Mastaba



Pirámides de Keops, Kefrén e Micerinos



Hipoxeo do Val dos Reis

Mastaba

Pirámides de...

Hipoxeo do...