

UNIDADE 1: O PLANETA TERRA

Consulta a unidade 1 de viaxeaitaca.net e responde ás cuestións.

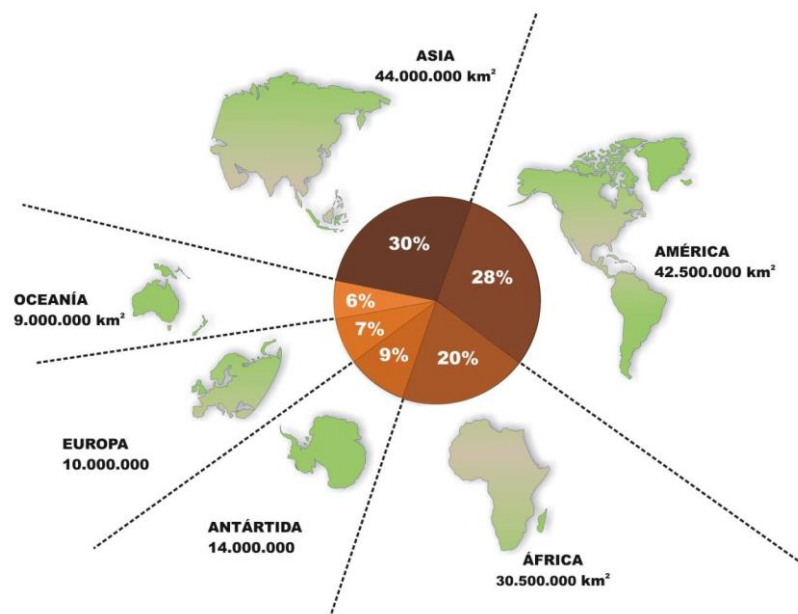
1. Que partes podemos distinguir na superficie terrestre? Explica.

	Do grego:	Destacamos:	% Superficie terrestre
L			
H			
A			

2. Cales son os continentes? E os océanos? Sitúaos no mapa.

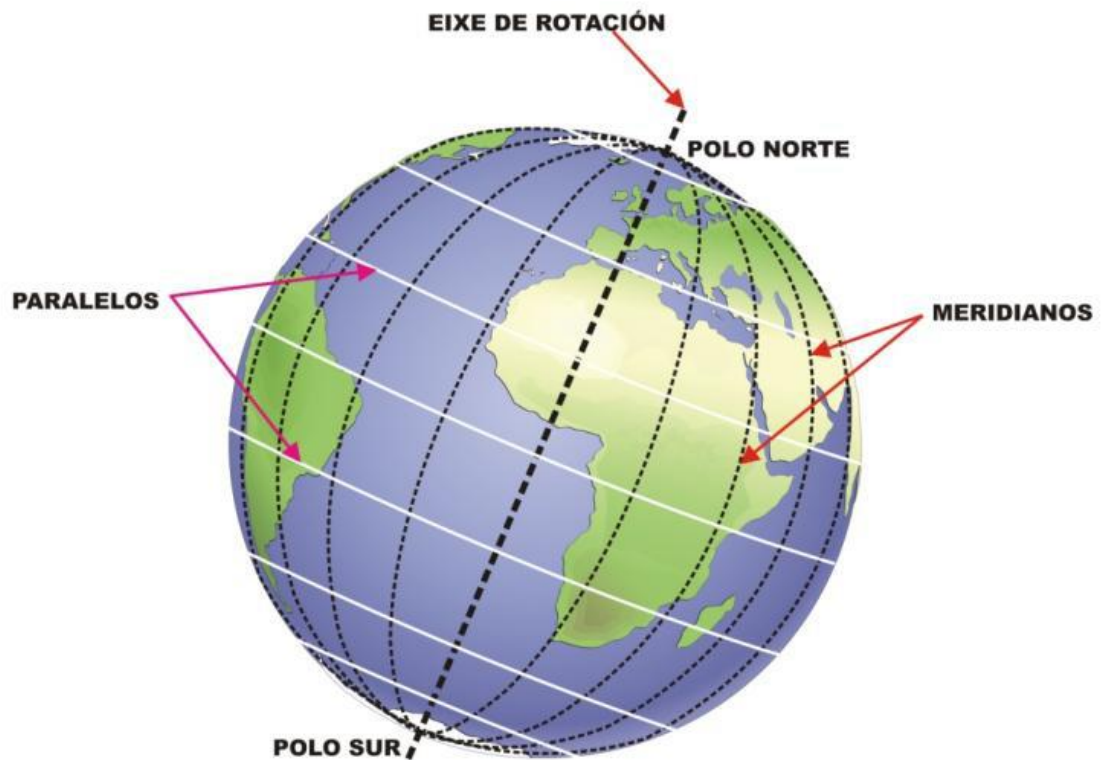


3. Completa, indicando os nomes dos continentes:



4. Que son as liñas imaxinarias?

5. Completa:

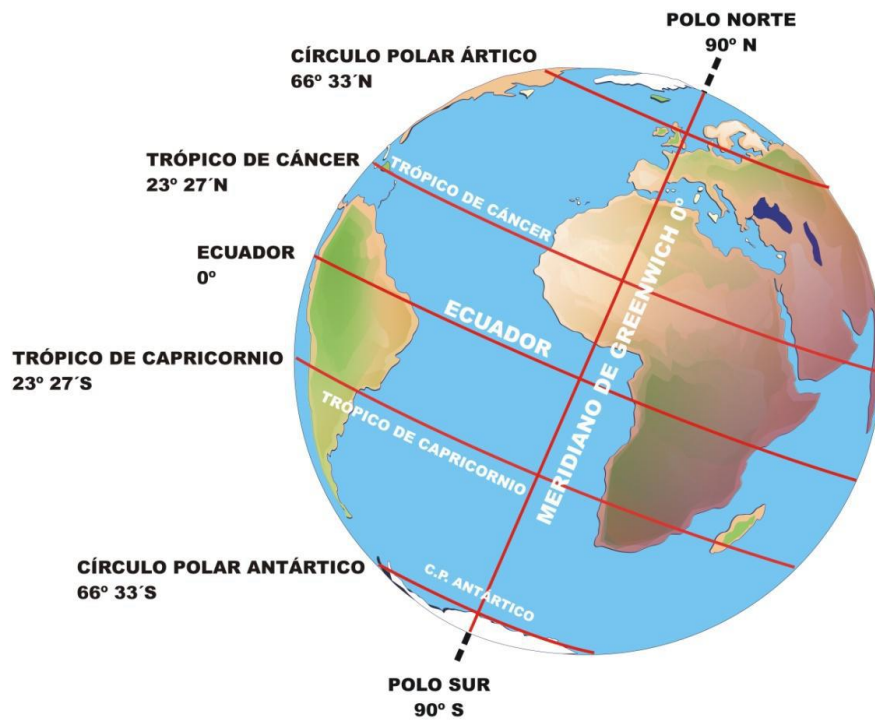


6. Que é o eixe terrestre (ou eixe de rotación)?

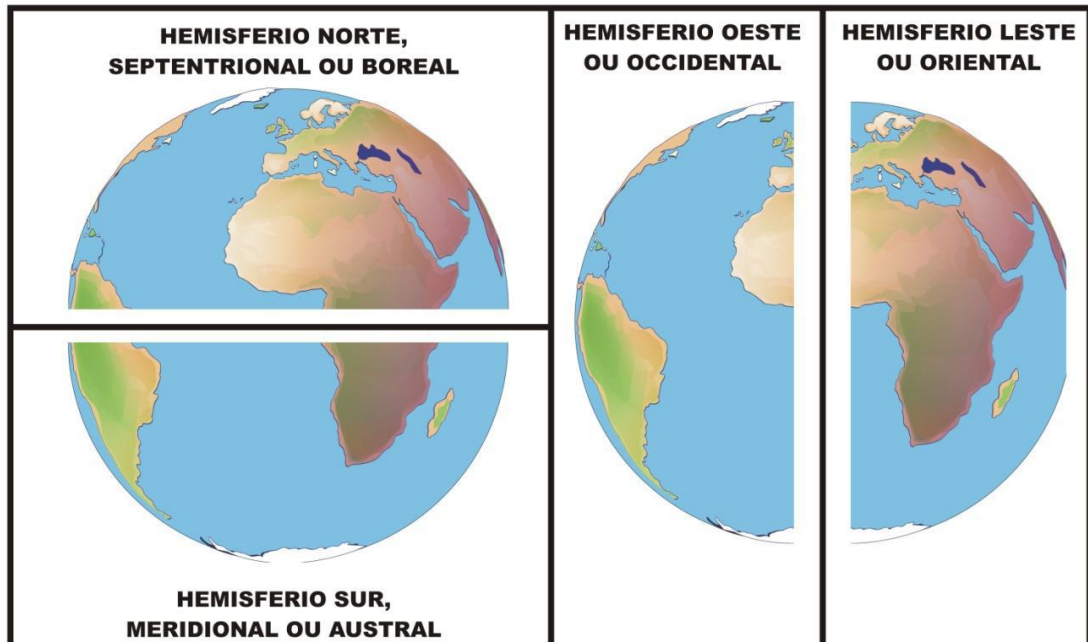
7. Que son os paralelos? Indica cales son os máis importantes.

8. Que son os meridianos? Indica cal é o máis importante.

9. Completa:

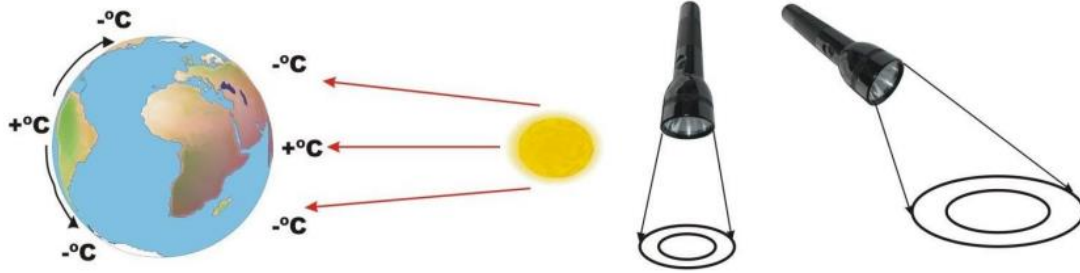


OS HEMISFERIOS TERRESTRES



10. Que son as coordenadas xeográficas? Explícao.

14. Interpreta esta imaxe:



- Que ocorre a maior inclinación? Hai máis superficie iluminada, entón a radiación solar estará máis repartida. Que ocorre coa temperatura?
- Que ocorre cando a incidencia é máis perpendicular? A mesma radiación solar concentrárase nunha menor superficie e a temperatura será maior. Que ocorre coa temperatura?

15. Que son os mapas? Que é a escala?

16. Como calculamos a distancia real sabendo a distancia no mapa?

1º	
2º	
3º	
4º	

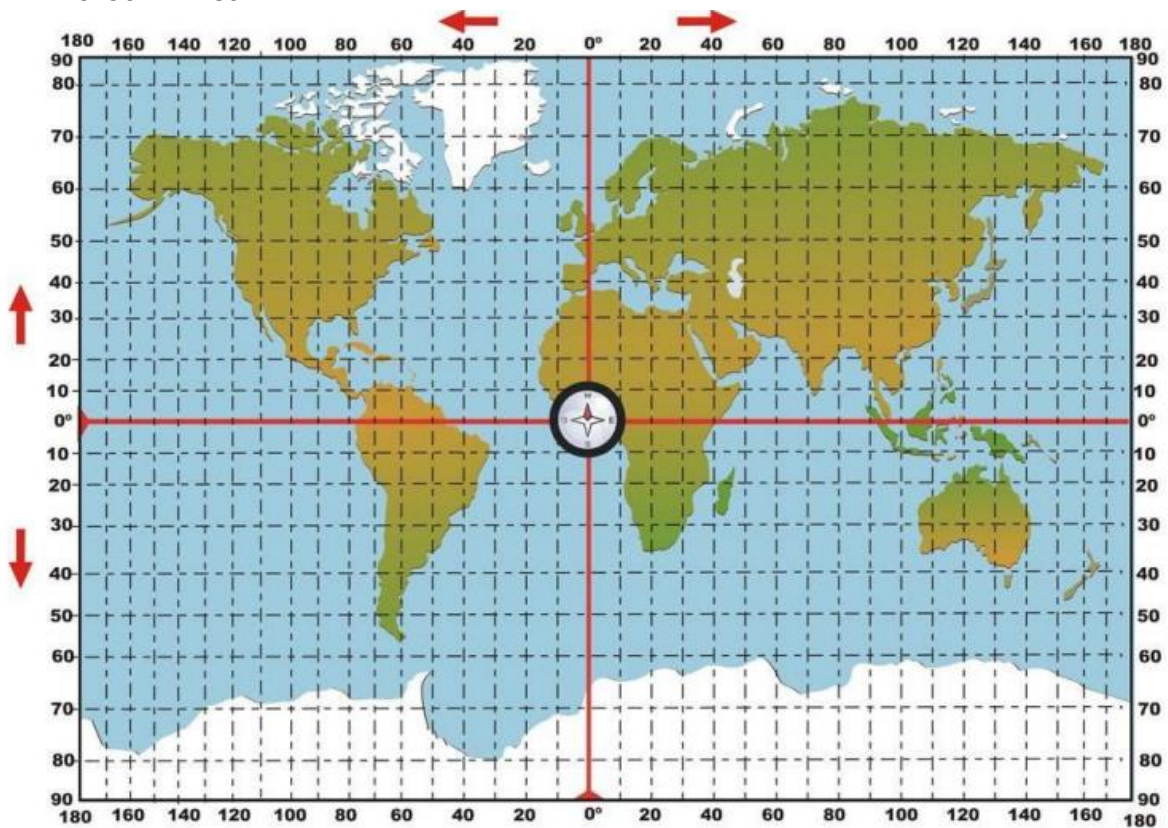
17. Explica que son as coordenadas xeográficas:

Latitude	
Lonxitude	

18. Como se localiza un punto sobre un mapa? (ver “coordenadas xeográficas”). Mira [este vídeo](#) desde o minuto 2.20.

18. No seguinte planisferio localiza as liñas imaxinarias, os puntos cardinais, os océanos, os continentes e os seguintes puntos:

- 1: $30^{\circ}\text{N} - 60^{\circ}\text{O}$
- 2: $45^{\circ}\text{N} - 120^{\circ}\text{L}$
- 3: $60^{\circ}\text{S} - 90^{\circ}\text{O}$
- 4: $66^{\circ}33'\text{S} - 150^{\circ}\text{L}$
- 5: $0^{\circ}\text{N} - 0^{\circ}\text{O}$
- 6: $90^{\circ}\text{N} - 0^{\circ}\text{L}$
- 7: $0^{\circ}\text{O} - 180^{\circ}\text{O}$
- 8: $90^{\circ}\text{N} - 180^{\circ}\text{O}$
- 9: $90^{\circ}\text{N} - 180^{\circ}\text{L}$



19. Pon nesta rosa dos ventos os seguintes puntos cardinais: N, S, L, O, NO, NL, SO, SL.

