

# **CUADERNO DE VERANO**

## **2º DE ESO**

NOMBRE:

CURSO:

FECHA DE ENTREGA: **El día fijado para el examen de Septiembre**

---

**PARA HACER LOS EJERCICIOS CON MAYOR FACILIDAD SIGUE ESTOS CONSEJOS:**

- 1. LEE CON ATENCIÓN LOS TEMAS.**
- 2. LEE CON ATENCIÓN LAS PREGUNTAS PARA QUE PUEDES COMPRENDER LO QUE SE TE PIDE.**
- 3. RESPONDE CON BREVEDAD.**
- 4. REPASA LA RESPUESTA Y COMPÁRALA CON EL LIBRO CUANDO HAYAS TERMINADO.**
- 5. PROCURA QUE LOS EJERCICIOS ESTÉN BIEN REDACTADOS Y SIN FALTAS DE ORTOGRAFÍA.**
- 6. SE VALORARÁ UNA BUENA PRESENTACIÓN CON ESTE CUADERNILLO DENTRO DE UNA FUNDA PLÁSTICA.**
- 7. SI NO ENTREGAS ESTE CUADERNILLO TENDRÁS UN 0 Y NO SUMARÁ NADA A TU NOTA DEL EXAMEN DE SEPTIEMBRE.**

---

## BIZANTINOS Y CAROLINGIOS

1. **Define los siguientes términos históricos** (empieza con un sustantivo que no sea “cosa” y di sus características esenciales):

- Mayordomo de palacio.
  
- Bárbaros.
  
- Visigodos.
  
- Cisma.
  
- Francos.
  
- Marqués.
  
- Colonos.
  
- Autoconsumo.
  
- Conde.
  
- Mercenario.
  
- Basileus.

---

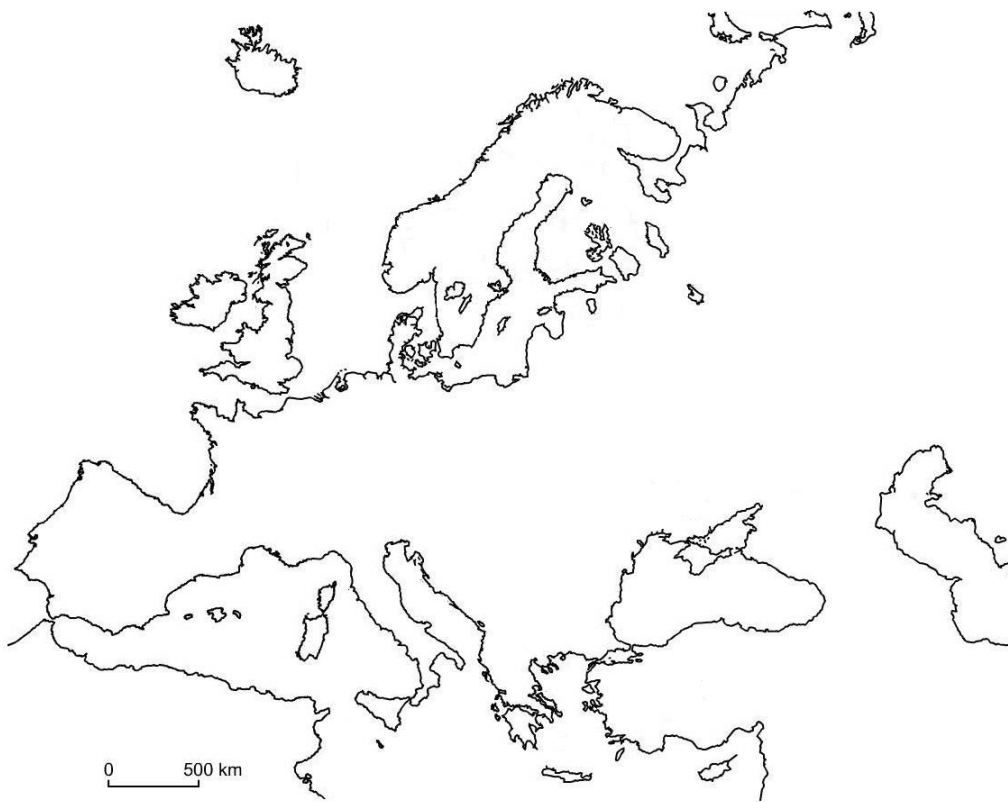
**2. Completa el siguiente cuadro:**

	<b>Imperio bizantino</b>	<b>Imperio carolingio</b>
<b>Organización del Imperio</b>		
<b>Economía</b>		
<b>Cultura y arte</b>		

**3. Contesta a las siguientes preguntas.**

- **¿Qué hechos marcaron el principio y el fin de la Edad Media?**
  
  
  
  
  
  
  
  
  
  
- **¿Qué pueblos amenazaron el Imperio bizantino después de la muerte de Justiniano?**

- 
- Señala en el mapa con distintos colores en qué zonas geográficas se desarrollaron los imperios bizantino y carolingio.



- Escribe el nombre de los países actuales que ocupan el territorio de estos imperios.
  
- ¿Qué causas originaron la crisis del Imperio bizantino en el siglo XI?

---

**4. Indica si las siguientes afirmaciones son verdaderas o falsas y convierte las falsas en verdaderas.**

- Carlomagno fue un emperador bizantino.
- El Imperio bizantino fue invadido por los francos.
- Carlos Martel detuvo el avance musulmán en la batalla de Poitiers.
- Justiniano recuperó Italia, el sur y sudeste de la península ibérica y el norte de África.
- Los turcos conquistaron Estambul a la que llamaron Constantinopla.
- El Imperio bizantino se dividía en marcas y condados.
- El Tratado de Verdún supuso la desintegración del imperio carolingio.

**EL ISLAM**

**5. Define los siguientes términos:**

- Nómada.
- Jaima.
- Ataurique.
- Hégira.
- Corán.
- Visir.
- Musulmán.
- Guerra Santa.
- Medina.
- Zoco.

- Lacería.
- Ramadán.
- Minarete.
- Islam.

**6. Relaciona cada término con su definición, coloca en la columna de la derecha el número al que corresponda la definición.**

<b>1</b> <b>Califa</b>	Propietarios de extensas tierras y ganado vinculados a los califas, gozaban de poder político y económico.
<b>2</b> <b>Emir</b>	Residencia del gobernador, estaba fortificada y dentro de la muralla.
<b>3</b> <b>Aristocracia</b>	Judíos y cristianos que pagaban un impuesto especial por practicar su religión y conservar sus propiedades.
<b>4</b> <b>Alcázar</b>	Máxima autoridad del mundo musulmán, tiene todos los poderes: político, militar y religioso.
<b>5</b> <b>Arrabales</b>	Gobernador de una provincia, representaba la autoridad del califa y tenía poderes militares y civiles.
<b>6</b> <b>Cadi</b>	Zona de la ciudad situada en el interior de la muralla.
<b>7</b> <b>No musulmanes</b>	Doctor que interpreta el Corán.
<b>8</b> <b>Medina</b>	Funcionario encargado de recaudar los impuestos.
<b>9</b> <b>Ulema</b>	Barrios situados fuera de la muralla.
<b>10</b> <b>Tesorero real</b>	Era el encargado de aplicar las leyes que se extraían de las enseñanzas del Corán.






9. Escribe el nombre y el estilo al que pertenece cada imagen




Nombre \_\_\_\_\_  
Estilo \_\_\_\_\_



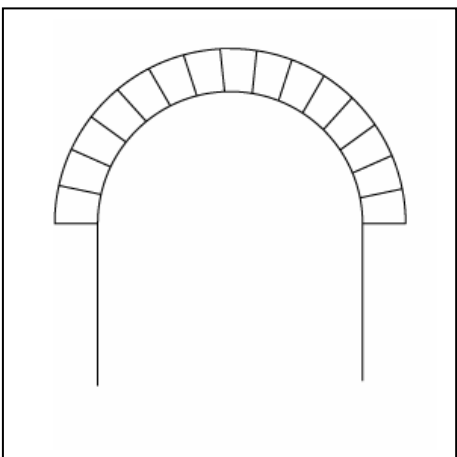
Nombre \_\_\_\_\_  
Estilo \_\_\_\_\_



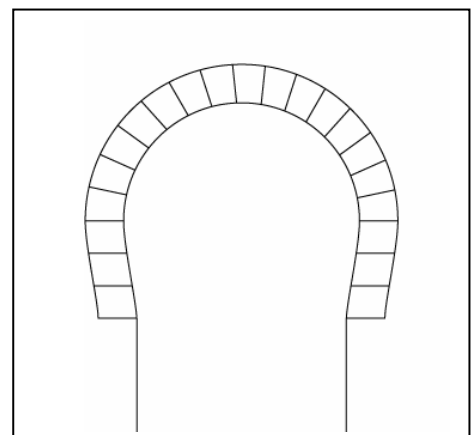
Nombre \_\_\_\_\_  
Estilo \_\_\_\_\_



Nombre \_\_\_\_\_  
Estilo \_\_\_\_\_



Tipo de arco \_\_\_\_\_



Tipo de arco \_\_\_\_\_

---

## AL-ÁNDALUS

### 10. Define los siguientes términos:

- Al-Ándalus.
  
- Mezquita.
  
- Alcazaba.
  
- Razias.
  
- Dinar.
  
- Muladíes.
  
- Almorávides.
  
- Bereberes.
  
- Almohade.
  
- Dovela.
  
- Reinos de taifas.
  
- Mihrab.
  
- Mozárabe.

---

**11. Completa el siguiente cuadro sobre la economía de Al-Ándalus.**

<b>Agricultura</b>	
<b>Ganadería</b>	
<b>Minería</b>	
<b>Artesanía</b>	
<b>Comercio</b>	

**12. Contesta a las siguientes preguntas:**

- Cita las distintas fases políticas por las que pasó Al-Ándalus y ponles fecha.
  
  
  
  
  
  
  
  
  
  
- Cita los dos filósofos más destacados de AL-Ándalus, di cuál es judío y cuál es musulmán.
  
  
  
  
  
  
  
  
  
  
- ¿Quién fue el último rey nazarí y a quién se rindió?

- 
- ¿Qué tres religiones convivieron en Al-Ándalus?
  
  - ¿Cuándo dieron comienzo las persecuciones de cristianos y judíos en Al-Ándalus?
  
  - Enumera las características de la arquitectura nazarí.
  
  - Cita un edificio importante de cada una de las etapas del arte hispanomusulmán diciendo a qué etapa corresponde cada uno.

**13. Ordena cronológicamente los acontecimientos ocurridos en la península ibérica:**

- Córdoba se convierte en la capital del califato.
- Un ejército de árabes y bereberes derrotan a los visigodos.
- Abderramán I se independiza políticamente de Bagdad.
- Boabdil entrega Granada a los Reyes Católicos.
- Los musulmanes son derrotados por un ejército cristiano en la batalla de las Navas de Tolosa.
- Los almorávides se hicieron con el poder y unificaron Al-Ándalus.
- Al-Ándalus se disgregó en pequeños reinos llamados taifas.

**14. Relaciona los elementos de las dos columnas. Une los números con las letras correspondientes.**

1. Justiniano	A. Arte bizantino	1 .....
2. Imán	B. Mercado musulmán	2 .....
3. Constantinopla	C. Emperador Bizantino.	3 .....
4. Mahoma	D. Hégira	4 .....
5. Zoco	E. Emperador de la cristiandad.	5 .....
6. Santa Sofía	F. Director oraciones musulmanas	6 .....
7. Quibla	G. Bizancio	7 .....
8. Carlomagno	H. Mezquita	8 .....

---

**15. Relaciona cada palabra con su definición y escríbela al lado:**  
**Bárbaros, Visigodos, Ostrogodos, Bizantinos, Árabes y Francos.**

1. Pueblo germánico establecido en Italia \_\_\_\_\_
2. Habitantes del Imperio Romano de Oriente \_\_\_\_\_
3. Extranjeros, según los romanos \_\_\_\_\_
4. Pueblo germánico establecido en la Península Ibérica \_\_\_\_\_
5. Pueblo germánico establecido en la Galia \_\_\_\_\_
6. Naturales de la Península de Arabia \_\_\_\_\_

### **LA EUROPA FEUDAL**

**16. Define los siguientes términos:**

- Feudo.
  
  
  
  
  
  
  
  
  
  
  
  
  
  
  
- Siervo.
  
  
  
  
  
  
  
  
  
  
  
  
  
  
  
- Mesnada.
  
  
  
  
  
  
  
  
  
  
  
  
  
  
  
- Cruzada.
  
  
  
  
  
  
  
  
  
  
  
  
  
  
  
- Barbecho.
  
  
  
  
  
  
  
  
  
  
  
  
  
  
  
- Manso.
  
  
  
  
  
  
  
  
  
  
  
  
  
  
  
- Estamento.
  
  
  
  
  
  
  
  
  
  
  
  
  
  
  
- Castillo.

- 
- Teocentrismo.
  - Economía de autoabastecimiento.
  - Vasallo.
  - Monasterio.
  - Colono.
  - Clero secular.
  - Románico.
  - Reserva.
  - Clero regular.

**17. Completa las siguientes frases:**

- El feudalismo surge tras la desaparición del Imperio\_\_\_\_\_.
- Los\_\_\_\_\_solo poseían sus armas y su caballo.
- El\_\_\_\_\_era el núcleo en torno al cual se disponían las estancias necesarias para la vida monástica.
- En el feudo, la vida giraba en torno al\_\_\_\_\_.
- La tierra dedicada al cultivo en el feudo se dividía en la\_\_\_\_\_y los\_\_\_\_\_.
- Las obras arquitectónicas del estilo románico fueron las\_\_\_\_\_, los\_\_\_\_\_y los\_\_\_\_\_.
- La pintura románica posee un carácter\_\_\_\_\_y\_\_\_\_\_.
- El sentimiento religioso medieval fue el origen de las\_\_\_\_\_y las\_\_\_\_\_.

---

**18. Explica en el cuadro las relaciones de dependencia personal.**

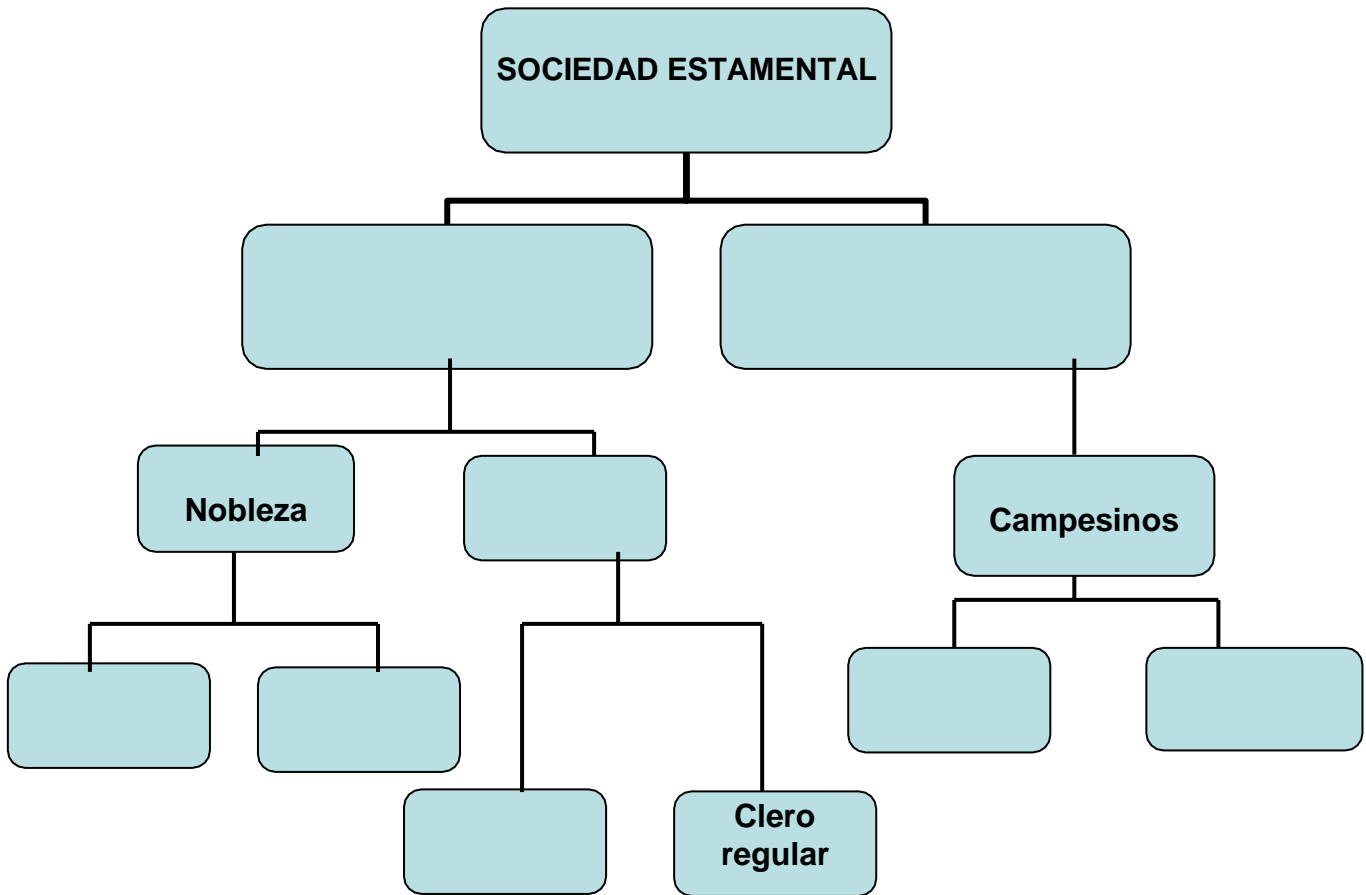
<b>Relaciones de dependencia personal</b>	
<b>Entre el rey y los señores feudales (nobles)</b>	
<b>Entre los señores feudales y los caballeros</b>	
<b>Entre los señores feudales y los campesinos</b>	



**19. Responde a las siguientes preguntas:**

- ¿Qué era la reserva?
  
- ¿Y los mansos?
  
- ¿Cuál era la principal actividad de los campesinos en el feudo?
  
- ¿Cuáles eran las técnicas agrícolas que empleaban?
  
- ¿Qué se usaba como abono?

- ¿En qué consistía el barbecho?
- ¿Qué animal adquirió importancia por su utilidad en la guerra?


20. Completa los siguientes cuadros sobre la sociedad feudal:



	Estamento	Función
		
		



21. **Completa con los términos adecuados este dibujo:** nave central, crucero, nave lateral, torres, cubierta, cimborrio, ábside, portada lateral, bóveda de cañón, arco de medio punto y transepto.



---

## EL RENACER URBANO DE EUROPA

### 22. Define los siguientes términos:

- Excedente.
  
- Rotación trienal.
  
- Feria.
  
- Tímpano.
  
- Pináculo.
  
- Hansa.
  
- Ayuntamiento.
  
- Patriciado urbano.
  
- Cartas de privilegio.
  
- Burguesía.
  
- Maestro artesano.
  
- Gremio.

- 
- Peste negra.
  
  - Cisma de Occidente

**23. Responde a las siguientes preguntas:**

- ¿Por qué a partir del siglo XII los reyes buscaban el apoyo de la burguesía?
  
- ¿Qué innovaciones hicieron posible el aumento de la producción agrícola?
  
- ¿Qué son los excedentes agrícolas? ¿Cuál era su destino?
  
- ¿Qué cambios sufrió la nobleza a partir del siglo XII?
  
- ¿Qué función tenían las Cortes y los Parlamentos durante la Edad Media?

- 
- ¿Qué es un artesano? ¿Quiénes trabajaban en su taller?

- ¿Qué eran los gremios y quiénes los formaban?

**24. Completa el cuadro de las rutas comerciales.**

<b>RUTAS COMERCIALES</b>	<b>ZONAS QUE PONE EN CONTACTO</b>	<b>PRODUCTOS DE COMERCIO</b>
<b>MEDITERRÁNEA</b>		
<b>NORTE Y BÁLTICO</b>		
<b>NORTE DE ITALIA Y MAR BÁLTICO</b>		

**25. Ordena estas frases según se refieran a la crisis del siglo XIV o al tránsito a la Edad Moderna.**

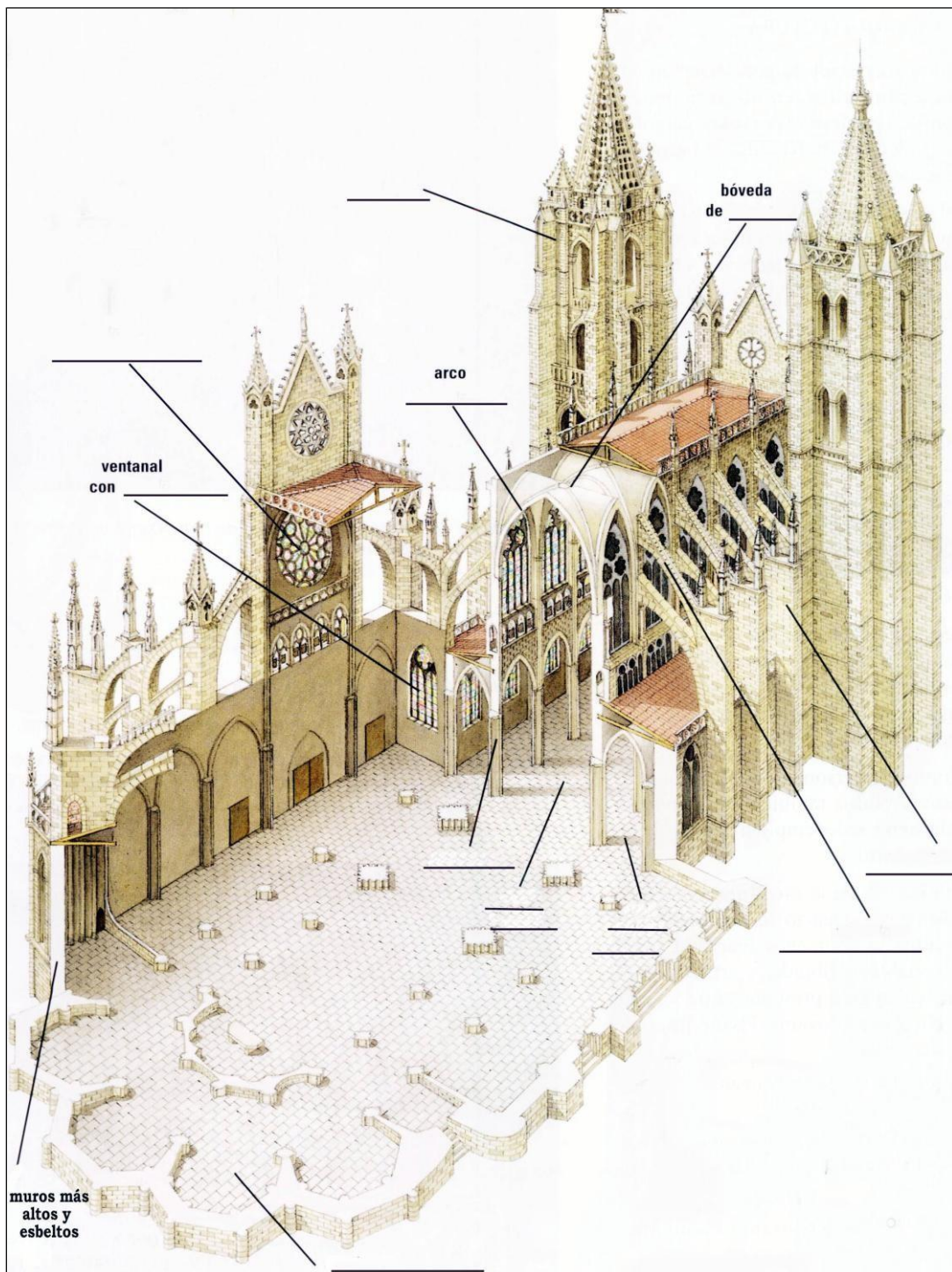
- Se desarrollaron técnicas de navegación.
- Tuvo lugar la Guerra de los Cien Años.
- Los monarcas se apoyaban en las cortes.
- Recuperación de la población y periodo de buenas cosechas.
- Se produjeron malas cosechas y se perdió población.
- Se difundieron nuevas corrientes de pensamiento.
- Abundaban los mendigos y los bandoleros.
- Los reyes contaron con el apoyo de la burguesía.
- Se produjo dentro de la Iglesia católica el Cisma de Occidente.
- Algunas monarquías europeas centralizaron el poder en sus manos.

<b>Crisis del siglo XIV</b>	<b>Tránsito a la Edad Moderna</b>

**26. Relaciona las dos columnas.**

<b>RELIGIÓN</b>	<b>Imprenta</b>
	<b>Geocentrismo</b>
	<b>Cisma de Occidente</b>
<b>CIENCIA</b>	<b>Matemáticas</b>
	<b>Rueca</b>
	<b>Carabela</b>
<b>TÉCNICA</b>	<b>Cruzadas</b>

27. Completa con los términos adecuados este dibujo: torre, bóveda de crucería, arco apuntado, ventanal con vidrieras, columna, nave central, contrafuerte, nave lateral, arbotante, absidiolos.



---

**28. Completa el siguiente cuadro.**

	<b>ROMANICO</b>	<b>GOTICO</b>
<b>TIPO DE CONSTRUCCIONES</b>		
<b>ARCOS CARACTERÍSTICOS</b>		
<b>BÓVEDAS</b>		

### **LOS REINOS CRISTIANOS**

**29. Define los siguientes términos:**

- Justicia Mayor.
  
- Parias.
  
- Concejo.
  
- Veguer.
  
- Merindades.
  
- Mudéjar.
  
- Marca Hispánica.

- 
- Repoblación.
  - Reconquista.
  - Veguerías.
  - Judería.
  - Mesta.
  - Merino.
  - Chancillería.
  - Trashumancia.
  - Payeses de remensa.
  - Lonja.

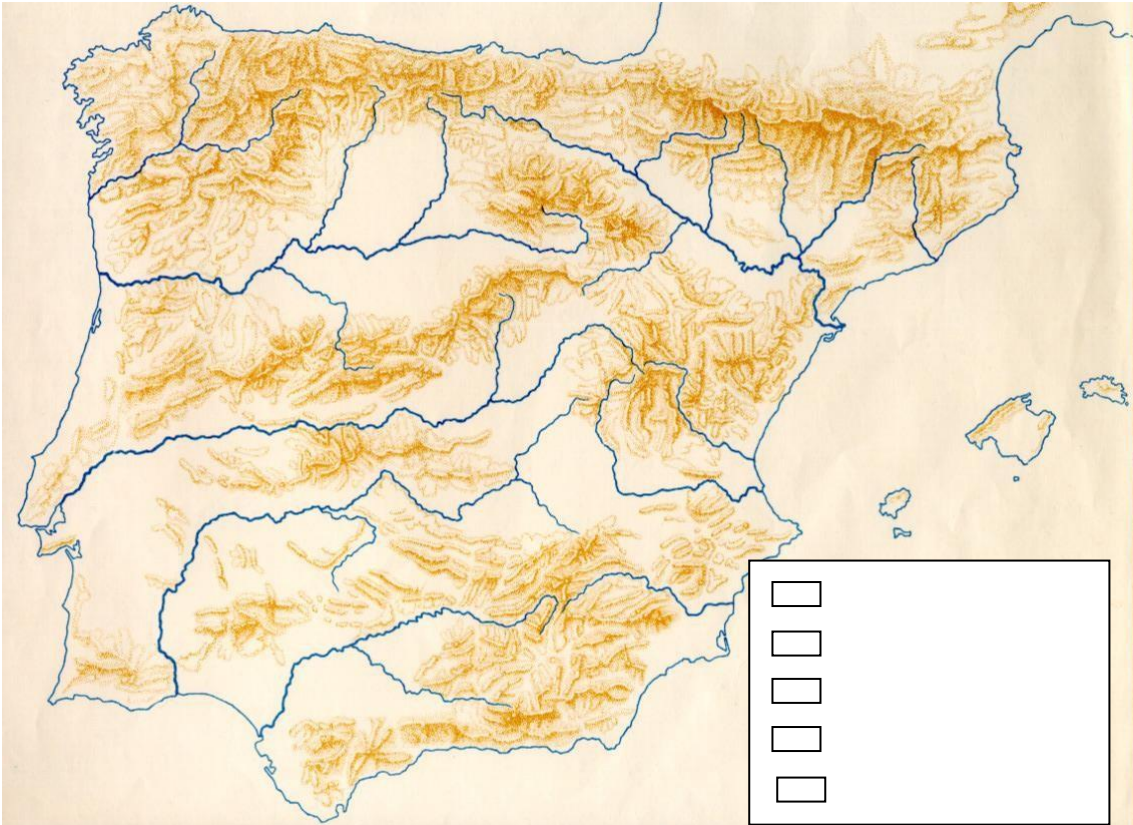
**30. Completa estas frases:**

- Alfonso I fue el primer rey de\_\_\_\_\_.
- En Castilla el territorio se dividió en\_\_\_\_\_dirigidas por un \_\_\_\_\_.
- \_\_\_\_\_ se convirtió en capital cultural.
- La\_\_\_\_\_era el tribunal que administraba justicia.
- En Aragón el territorio se dividió en\_\_\_\_\_dirigidas por un \_\_\_\_\_.
- En 1212 tuvo lugar la batalla de las\_\_\_\_\_.



- 
- La baja nobleza estaba compuesta por \_\_\_\_\_ o \_\_\_\_\_.
  - La alta nobleza estaba formada por \_\_\_\_\_, \_\_\_\_\_ y \_\_\_\_\_.

**31. Señala en el mapa, empleando colores diferentes, las etapas de la Reconquista. Completa también la leyenda.**



**32. Responde a las siguientes preguntas.**

- ¿Dónde tenía más fuerza la monarquía, en Castilla o en Aragón? ¿Y las Cortes?
- ¿Qué actividades se desarrollaban en las ciudades?
- ¿Cuál era la base de la economía de Castilla?

- ¿Qué impulsó el desarrollo de los mercados y de las ferias? ¿Cuál fue la feria más importante?
  
- ¿Cuáles fueron los puertos más importantes del Mediterráneo?
  
- ¿A través de qué puertos del Cantábrico se exportaba la lana a los Países Bajos?

**33. Relaciona los personajes con los acontecimientos de las siguientes columnas:**

<b>PERSONAJE</b>	<b>ACONTECIMIENTO</b>
<b>1. Ramiro I</b>	Conde de Barcelona, se impone a los otros condes catalanes y se independiza de los francos.
<b>2. Fernán González</b>	Rey de Navarra.
<b>3. Alfonso Enríquez</b>	Unificó Castilla y León definitivamente.
<b>4. Fernando I</b>	En el siglo XII se proclamó rey de Portugal.
<b>5. Fernando III</b>	Consiguió la independencia de Castilla.
<b>6. Sancho III</b>	Independizó Pamplona del reino franco y creó el reino de Pamplona.
<b>7. Familia Arista</b>	Extendió el reino hasta el valle del Duero, puso la capital en León y pasó a denominarse reino de León.
<b>8. Alfonso III</b>	Primer rey de Castilla.
<b>9. Wifredo el Velloso</b>	Primer rey de Aragón.

34. Escribe el nombre y el estilo al que pertenece cada imagen.




Nombre \_\_\_\_\_  
 Estilo \_\_\_\_\_



Nombre \_\_\_\_\_  
 Estilo \_\_\_\_\_




Nombre \_\_\_\_\_  
 Estilo \_\_\_\_\_




Nombre \_\_\_\_\_  
 Estilo \_\_\_\_\_



Nombre \_\_\_\_\_  
 Estilo \_\_\_\_\_



Arco \_\_\_\_\_



Arco \_\_\_\_\_

---

## **GEOGRAFÍA**

### **La población**

#### **35. Explica los siguientes conceptos demográficos:**

1. Natalidad
2. Mortalidad
3. Densidad de población
4. Crecimiento natural o vegetativo
5. Migraciones

#### **36. Focos de concentración mundial y focos de despoblamiento. ¿Por qué?**

#### **37. Los movimientos migratorios:**

##### **A) Causas de las migraciones**

---

## **B) Tipos de migraciones**

### **38. La estructura de la población por edad y sexo: las pirámides de población:**

¿Qué son las pirámides?

¿Qué tipos de pirámides conoces?

### **La ciudad**

**39. ¿Qué es una ciudad?**

**40. ¿Cómo es la estructura de la ciudad en Europa?**

a) Casco histórico

---

b) Ensanche y extrarradio

c) Periferia

**41. Explica la formación y tipos de aglomeraciones urbanas:**

a) El área metropolitana

b) La conurbación

c) La región urbana

d) La Megalópolis

**42. Los principales problemas urbanos**

a) Equipamientos

---

b) Problemas sociales

c) Problemas medioambientales