
Probas de acceso a ciclos formativos de grao medio

CMPS003

Ciencias sociais

Parte sociolingüística. Ciencias sociais



1. Formato da proba

Formato

- A proba consta de vinte cuestións tipo test.
- As cuestións tipo test teñen tres posibles respostas, das que soamente unha é correcta.

Puntuación

- Puntuación: 0,50 puntos por cuestión tipo test correctamente contestada.
- Cada cuestión tipo test incorrecta restará 0,125 puntos.
- As respostas en branco non descontarán puntuación.
- No caso de marcar máis dunha resposta por pregunta considerarase como unha resposta en branco.

Duración

- Este exercicio terá unha duración máxima de: 40 minutos.

Materiais e instrumentos que se poden empregar durante a proba

- Bolígrafo con tinta negra ou azul.



2. Exercicio

1. A columnata de Bernini debe considerarse unha obra de estilo:

La columnata de Bernini debe considerarse una obra de estilo:

- A Barroco.
- B Rococó.
- C Neoclásico.



2. Que data se considera como o final do Imperio Romano de Occidente?

¿Qué fecha se considera como el final del Imperio Romano de Occidente?

- A 1453 d. C.
- B 711 d. C.
- C 476 d.C

3. Sinale a resposta correcta de entre as definicións propostas.

Señale la respuesta correcta de entre las definiciones propuestas.

- A** O crecemento vexetativo ou natural da poboación é a diferenza entre o número de nados e o número de falecidos nun lugar durante un ano.

El crecimiento vegetativo o natural de la población es la diferencia entre el número de nacidos y el número de fallecidos en un lugar durante un año.

- B** O crecemento vexetativo ou natural da poboación é a diferenza entre o número de nados e o número de falecidos nun lugar durante un ano, descontada a emigración.

El crecimiento vegetativo o natural de la población es la diferencia entre el número de nacidos y el número de fallecidos en un lugar durante un año, descontada a emigración.

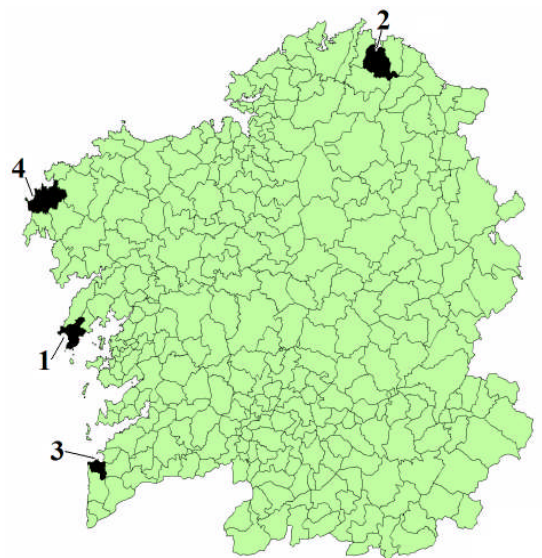
- C** O crecemento real da poboación é a diferenza entre o número de nados e o número de falecidos nun lugar durante un ano.

El crecimiento real de la población es la diferencia entre el número de nacidos y el número de fallecidos en un lugar durante un año

4. Identifique a localización dos seguintes concellos costeiros galegos.

Identifique la localización de los siguientes municipios costeros gallegos.

- A 1: Muros; 2: Viveiro; 3: Baiona; 4: Muxía.
- B 1: Baiona; 2: Muxía; 3: Viveiro; 4: Muros.
- C 1: Fisterra; 2: Ribadeo; 3: A Garda; 4: Baio.





5. Convencionalmente, sitúase a Idade Moderna entre dúas datas: 1453 e 1789. A que feitos históricos corresponden?

Convencionalmente, se sitúa la Edad Moderna entre dos fechas: 1453 y 1789. ¿A qué hechos históricos corresponden?

- A** 1453: caída de Constantinopla en poder dos persas. 1789: fin da Revolución Francesa.
1453: caída de Constantinopla en poder de los persas. 1789: fin de la Revolución Francesa.
- B** 1453: caída de Constantinopla en poder dos turcos otománs. 1789: inicio da Revolución Francesa.
1453: caída de Constantinopla en poder de los turcos otomanos. 1789: inicio de la Revolución Francesa.
- C** 1453: chegada de navegantes portugueses á China e ao Xapón. 1789: inicio da Revolución Francesa.
1453: llegada de navegantes portugueses a China y a Japón. 1789: inicio de la Revolución Francesa.

6. Unha conurbación é:

Una conurbación es:

- A** Cando varias áreas metropolitanas chegan a unirse.
Cuando varias áreas metropolitanas llegan a unirse.
- B** A zona que arrodea unha cidade e que depende dos seus servizos e postos de traballo.
La zona que rodea una ciudad, y que depende de sus servicios y puestos de trabajo.
- C** Vínculo que se establece entre a cidade máis importante dunha rexión e o resto de localidades que dependen dela.
Vínculo que se establece entre la ciudad mas importante de una región y el resto de las localidades que dependen de ella.

7. Identifique, de oeste a leste, os países americanos que atravesa a liña.

Identifique, de oeste a este, los países americanos que atraviesa la línea.

- A** Canadá, EEUU, México, Colombia, Perú, Bolivia, Paraguai, Uruguai, Arxentina.
Canadá, EEUU, México, Colombia, Perú, Bolivia, Paraguay, Uruguay, Argentina.
- B** EEUU, México, Ecuador, Perú, Bolivia, Paraguai, Arxentina, Brasil.
EEUU, México, Ecuador, Perú, Bolivia, Paraguay, Argentina, Brasil.
- C** Alaska, EEUU, México, Colombia, Perú, Bolivia, Paraguai, Uruguai, Brasil.
Alaska, EEUU, México, Colombia, Perú, Bolivia, Paraguay, Uruguay, Brasil.





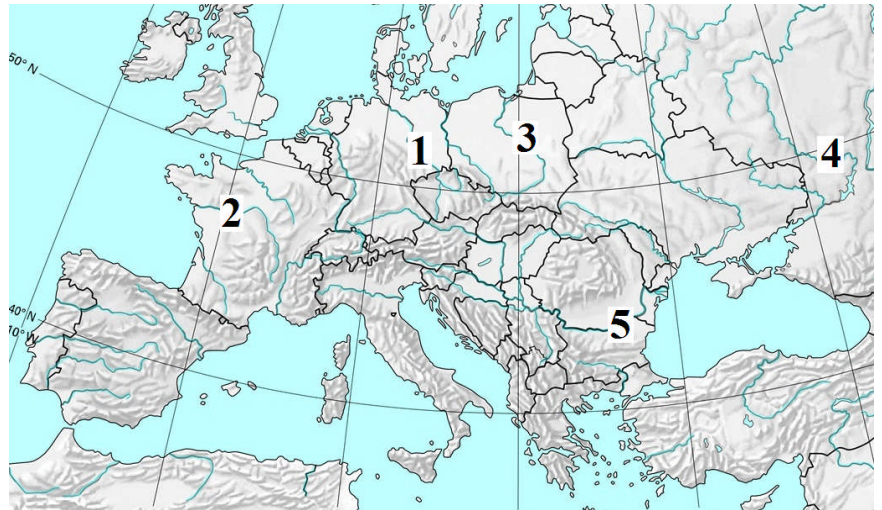
8. No mapa de Europa proposto indique os nomes correctos dos ríos identificados polos seus correspondentes números.

En el mapa de Europa proposto indique los nombres correctos de los ríos identificados por sus correspondientes números.

A 1: Elba, 2: Loira, 3: Vístula, 4: Don, 5: Danuvio.

B 1: Rin, 2: Rodano, 3: Tigris, 4: Volga, 5: Danuvio.

C 1: Rin, 2: Tiber, 3: Dnieper, 4: Don, 5: Danuvio.



9. O artigo 62 a) da Constitución Española sinala que lle corresponde ao Rei sancionar e promulgar as leis. En función disto, sinala a interpretación correcta.

El artículo 62 a) de la Constitución Española señala que corresponde al Rey sancionar y promulgar las leyes. En función de esto, señale la interpretación correcta.

A O Rei, xunto ao Consello de Ministros, elabora as leis orgánicas.
El Rey, junto al Consejo de Ministros, elabora las leyes orgánicas.

B O Rei límitase a asinar as leis procedentes do Parlamento español.
El Rey se limita a firmar las leyes procedentes del Parlamento español.

C O Rei sinala ao parlamento que leis deben elaborarse.
El Rey señala al parlamento qué leyes deben elaborarse,

10. Cal é a función asignada á Comisión Europea no seo da UE?

¿Cuál es la función asignada a la Comisión Europea en el seno de la UE?

A Ocúpase de supervisar a acción dos xuíces.
Se ocupa de supervisar la acción de los jueces.

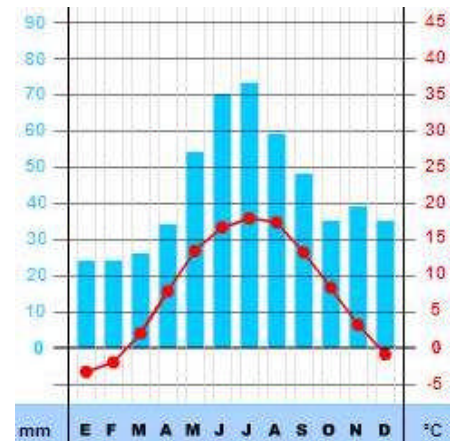
B Constitúe o Parlamento da Unión Europea.
Constituye el Parlamento de la Unión Europea.

C Actúa como gabinete de goberno, desenvolvendo o poder executivo na UE.
Actúa como gabinete de gobierno, desarrollando el poder ejecutivo en la UE.

11. Pola súa particular distribución de precipitacións e a presenza de veráns cálidos e de invernos fríos, o climograma proposto representa un clima de tipo...

Por su particular distribución de precipitaciones y la presencia de veranos cálidos y de inviernos fríos, el climograma propuesto representa un clima de tipo...

- A** Continental.
- B** Monzónico.
- C** Chino.
Chinés.



12. Cal dos seguintes organismos internacionais se relaciona coa alimentación e agricultura?

¿Cuál de los siguientes organismos internacionales se relaciona con la alimentación y agricultura?

- A** OIT.
- B** UNESCO.
- C** FAO.

13. O fenómeno da Transición política en España define o paso da ditadura do xeneral Franco a un Estado democrático e constitucional. Entre que anos tivo lugar este proceso?

El fenómeno de la Transición política en España define el paso de la dictadura del general Franco a un Estado democrático y constitucional. ¿Entre qué años tuvo lugar este proceso?

- A** 1978-1981
- B** 1975-1978
- C** 1936-1978

14. O mapa do risco de desertización en España amosa que máis de 2/3 do territorio están expostas a este problema. Indique a resposta que mellor reflicta as causas do fenómeno.

El mapa de riesgo de desertización en España muestra que más de 2/3 del territorio están expuestas a este problema. Indique la respuesta que mejor refleje las causas del fenómeno.

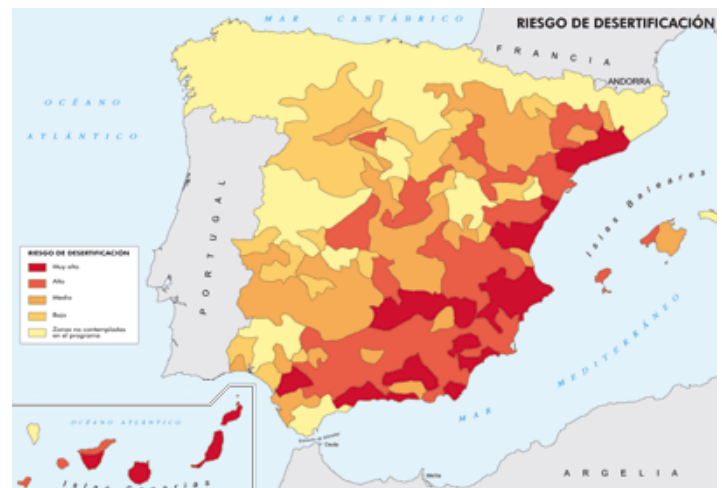
- A** A principal causa é o éxodo rural.
La principal causa es el éxodo rural.

- B** A principal causa é a excesiva presión da actividade humana sobre áreas climáticas moi fráxiles e deficitarias no seu réxime de precipitacións.

La principal causa es la excesiva presión de la actividad humana sobre áreas climáticas muy frágiles y deficitarias en su régimen de precipitaciones.

- C** A principal causa é o mantemento da gandería extensiva no país.

La principal causa es el mantenimiento de la ganadería extensiva en el país.

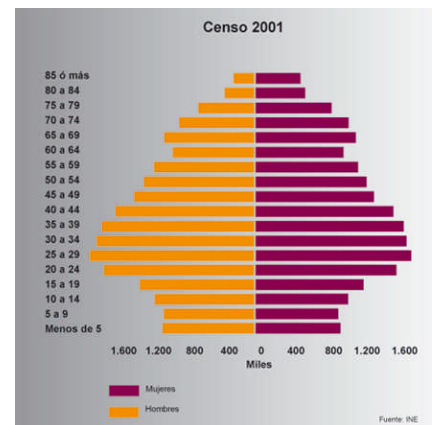
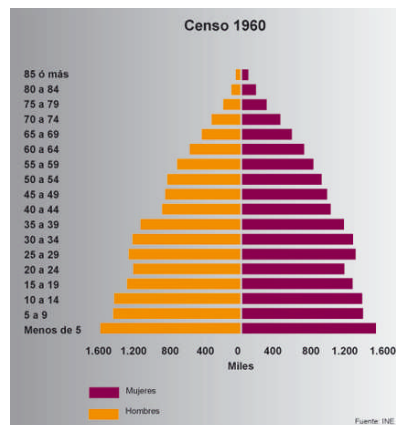


15. O desenvolvemento tecnolóxico da primeira Revolución Industrial referiuse nomeadamente a determinado tipo de industrias. Sinala a resposta correcta.

El desarrollo tecnológico de la primera Revolución Industrial se refirió esencialmente a determinado tipo de industrias. Señale la respuesta correcta,

- A** Microelectrónica, informática, biotecnoloxía.
Microelectrónica, informática, biotecnología.
- B** Motor de explosión, industria química, aparellos eléctricos.
Motor de explosión, industria química, aparatos eléctricos.
- C** Industria metalúrxica e téxtil.
Industria metalúrgica y textil.

16. A comparación entre estas dúas pirámides da poboación española correspondentes aos anos 1960 e 2001 amosa unha mudanza moi profunda na demografía do país. Sinala a resposta que, na súa opinión, mellor reflicte o devandito fenómeno.



La comparación entre estas dos pirámides de población española correspondientes a 1960 y a 2001 muestra un cambio muy profundo en la demografía del país, Señale la respuesta que, en su opinión, mejor refleje dicho fenómeno.

- A** Na evolución histórica, apréciase como se produciu un profundo aumento da natalidade á vez que se mantiña a esperanza de vida de homes e mulleres, dando como consecuencia unha poboación moi estable.
En la evolución histórica, se aprecia cómo se produjo un profundo aumento de la natalidad a la vez que se mantenía la esperanza de vida de hombres y mujeres, dando como consecuencia una población muy estable.
- B** Na evolución histórica, apréciase como se produciu unha profunda caída da natalidade á vez que medraba a esperanza de vida de homes e mulleres, dando como consecuencia unha poboación marcadamente avellentada.
En la evolución histórica, se aprecia cómo se produjo una profunda caída de la natalidad a la vez que crecía la esperanza de vida de hombres y mujeres, dando como consecuencia una población marcadamente envejecida.
- C** Na evolución histórica, apréciase como se produciu un profundo aumento da natalidade á vez que medraba a esperanza de vida de homes e mulleres, dando como consecuencia unha poboación en crecemento continuo.
En la evolución histórica, se aprecia cómo se produjo un profundo aumento de la natalidad a la vez que crecía la esperanza de vida de hombres y mujeres, dando como consecuencia una población en crecimiento continuo.



17. Cal é a secuencia cronolóxica correcta dos períodos da historia de España propostos?

¿Cuál es la secuencia cronológica correcta de los períodos la historia de España propuestos?

- A** Reinado de Fernando VII – Reinado de Carlos III – Reinado de Filipe V.
Reinado de Fernando VII – Reinado de Carlos III – Reinado de Felipe V.
- B** Reinado de Filipe V – Reinado de Carlos III – Reinado de Fernando VII.
Reinado de Felipe V – Reinado de Carlos III – Reinado de Fernando VII.
- C** Reinado de Carlos III – Reinado de Fernando VII – Reinado de Filipe V.
Reinado de Carlos III – Reinado de Fernando VII – Reinado de Felipe V.

18. Sinale cal é, entre os propostos, un estilo pictórico pertencente ao período Barroco.

Señale cual es, entre los propuestos, un estilo pictórico perteneciente al periodo Barroco.

- A** Simbolismo.
- B** Historicismo.
- C** Tenebrismo.

19. Cal das frases propostas NON pode considerarse unha causa da II Guerra Mundial.

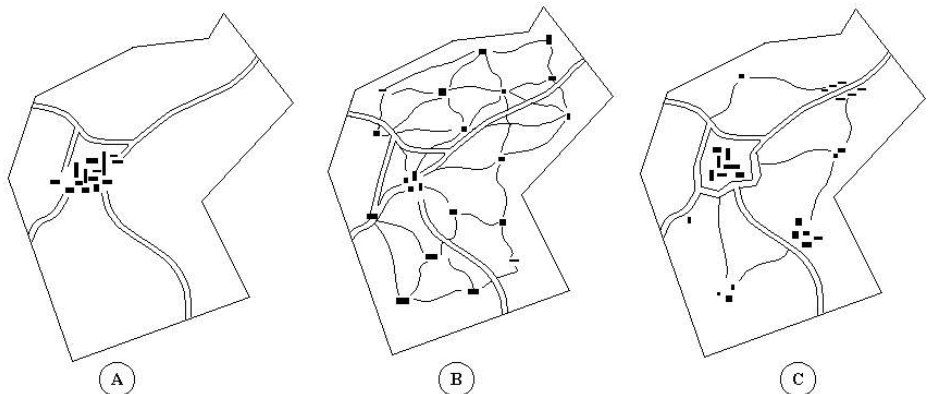
¿Cuál de las frases propuestas NO puede considerarse una causa de la II Guerra Mundial?

- A** O inevitable enfrontamento dos imperios coloniais.
El inevitable enfrentamiento de los imperios coloniales.
- B** O malestar que o Tratado de Versalles causou en Alemaña.
El malestar que el Tratado de Versalles causó en Alemania.
- C** O expansionismo alemán e o fracaso da política de pacificación de Neville Chamberlain.
El expansionismo alemán y el fracaso de la política de apaciguamiento de Neville Chamberlain.

20. Dos tres tipos de hábitats propostos, sinale cál se asemella máis ao modo de ocupación clásica do terreo no agro galego.

De los tres tipos de hábitats propuestos, señale cual se asemeja mas al modo de ocupación clásica del terreno en el agro gallego.

- A** Concentrado.
- B** Disperso.
- C** Intercalar.





3. Solución para as preguntas tipo test

Nº	A	B	C	
1	X			
2			X	
3	X			
4	X			
5		X		
6	X			
7		X		
8	X			
9		X		
10			X	
11	X			
12			X	
13		X		
14		X		
15			X	
16		X		
17		X		
18			X	
19	X			
20		X		

Nº de respostas correctas (C)	
Nº de respostas incorrectas (Z)	
Puntuación do test = $C \times 0'5 - Z \times 0'125$	

Nas preguntas de test, por cada resposta incorrecta descontaranse 0'125 puntos. As respostas en branco non descontarán puntuación.