


2

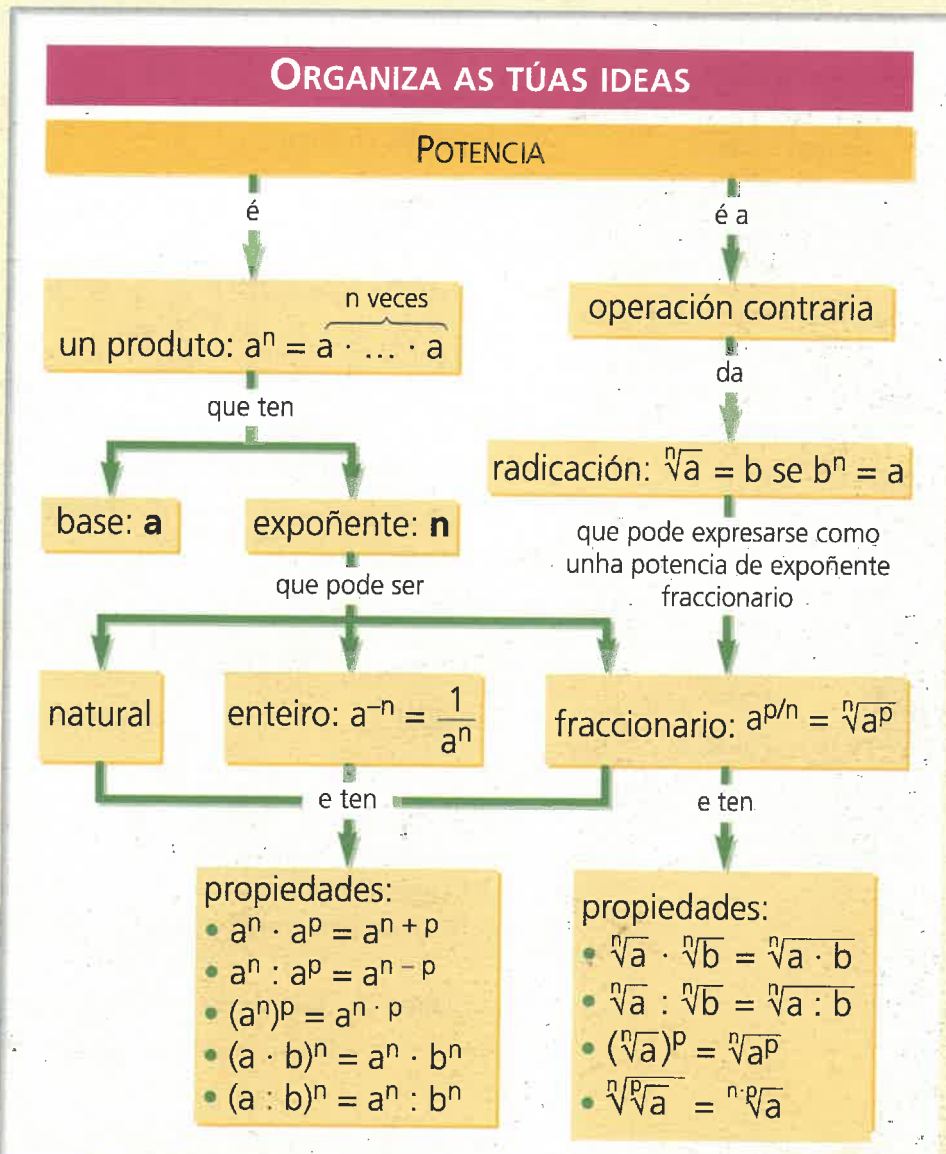
Potencias e raíces



Na primeira parte do tema estúdanse as potencias. Comézase coas potencias de expoñente natural e as súas propiedades e, posteriormente, coas potencias de expoñente enteiro.

A segunda parte do tema dedícase ao estudo dos radicais e dos procedementos básicos para operar con eles. Esta parte conclúe coas propiedades dos radicais, as potencias de expoñentes fraccionarios e a relación entre os radicais e as potencias.

A importancia das potencias reside na súa aplicación, tanto ás Matemáticas como ao resto das materias relacionadas con elas. Por exemplo, en Informática utilízanse discos flexibles (CD-ROM, DVD, etc.) para gardar información, cuxa capacidade mídese en Kb, Mb e Gb. Aínda que 1 Kb se aproxima a 1 000 bytes, este non é o seu valor exacto; en realidade, 1 Kb = 2^{10} = 1 024 bytes. De igual maneira se define 1 Mb, que equivale a 2^{10} Kb; e 1 Gb, cuxo valor é 2^{10} Mb.

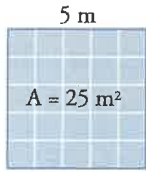


1. Potencias de expoñente natural

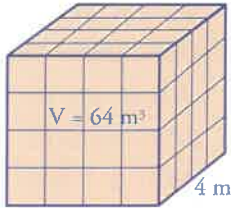
PENSA E CALCULA



Completa no teu caderno a seguinte táboa de cadrados e cubos perfectos:



Número	1	2	3	4	5	6	10
Cadrado perfecto	1	4			25		
Cubo perfecto	1	8				216	



1.1. Potencia de expoñente natural

Unha **potencia** é un produto de factores iguais.

$$\begin{array}{c} \text{expoñente} \rightarrow \\ \text{base} \rightarrow \end{array} a^n = \underbrace{a \cdot a \cdot \dots \cdot a}_n$$

A **base dunha potencia** é o factor que se multiplica, e o **expoñente** é o número de veces que se multiplica a base.

Se o expoñente é 2, lese **ao cadrado**; se é 3, **ao cubo**; se é 4, **á cuarta**; se é 5, **á quinta**, etcétera.

Exemplo

$$5^3 = 5 \cdot 5 \cdot 5 = 125$$

$$(-2)^5 = -2 \cdot (-2) \cdot (-2) \cdot (-2) \cdot (-2) = -32$$

$$\left(\frac{2}{5}\right)^3 = \frac{2}{5} \cdot \frac{2}{5} \cdot \frac{2}{5} = \frac{8}{125}$$

Casos particulares

- a) Unha potencia de base cero e expoñente distinto de cero é cero:

$$0^3 = 0$$

Comprobación:

$$0^3 = 0 \cdot 0 \cdot 0 = 0$$

- b) Unha potencia de base un e calquera expoñente é un:

$$1^4 = 1$$

Comprobación:

$$1^4 = 1 \cdot 1 \cdot 1 \cdot 1 = 1$$

1.2. Uso da calculadora

A calculadora ten as teclas de cadrado, $\boxed{x^2}$; cubo, $\boxed{x^3}$; potencia en xeral, $\boxed{x^y}$; e potencia de base 10, $\boxed{\text{EXP}}$

Exemplo

$$\boxed{\wedge} \text{ o } \boxed{x^y} \quad \text{Calcula } x \text{ elevado a } y \quad 7^5 \quad \boxed{7} \boxed{\wedge} \boxed{5} = \boxed{16807}$$

$$\boxed{\text{EXP}} \quad \text{Calcula } 10 \text{ elevado a } \dots \quad 10^6 \quad \boxed{\text{EXP}} \boxed{6} = \boxed{1000000}$$

$\boxed{x^2}$	Cadrado
$\boxed{x^3}$	Cubo
$\boxed{\wedge}$ o $\boxed{x^y}$	Potencias
$\boxed{\text{EXP}}$	Potencia de base 10

1.3. Signo dunha potencia de expoñente natural

O **signo dunha potencia** é positivo excepto se a base é negativa e o expoñente impar, en cuxo caso é negativo.

Base	Expoñente	Signo do resultado	Exemplo
+	Par ou impar	+	$2^3 = 8$; $2^4 = 16$
-	Par	+	$(-2)^4 = 16$
-	Impar	-	$(-2)^5 = -32$

1.4. Propiedades das potencias

a) Produto de potencias da mesma base

O produto de dúas potencias da mesma base é outra potencia que ten a mesma base e, como expoñente, a suma dos expoñentes.

$$a^n \cdot a^p = a^{n+p}$$

Exemplo

$$2^3 \cdot 2^4 = 2^7 \quad \text{Comprobación: } 2^3 \cdot 2^4 = \overbrace{2 \cdot 2 \cdot 2}^3 \cdot \overbrace{2 \cdot 2 \cdot 2 \cdot 2}^4 = 2^7$$

b) Cociente de potencias da mesma base

O cociente de dúas potencias da mesma base é outra potencia que ten a mesma base e, como expoñente, a diferenza dos expoñentes.

$$a^n : a^p = a^{n-p}$$

Exemplo

$$7^5 : 7^3 = 7^2 \quad \text{Comprobación: } 7^5 : 7^3 = \frac{7^5}{7^3} = \frac{\overbrace{7 \cdot 7 \cdot 7 \cdot 7 \cdot 7}^5}{\overbrace{7 \cdot 7 \cdot 7}^3} = 7 \cdot 7 = 7^2$$

c) Potencia de potencia

A potencia dunha potencia é outra potencia que ten a mesma base e, como expoñente, o produto dos expoñentes.

$$(a^n)^p = a^{n \cdot p}$$

Exemplo

$$(7^2)^3 = 7^6 \quad \text{Comprobación: } (7^2)^3 = \overbrace{(7^2) \cdot (7^2) \cdot (7^2)}^3 = \overbrace{(7 \cdot 7) \cdot (7 \cdot 7) \cdot (7 \cdot 7)}^2 = \overbrace{7 \cdot 7 \cdot 7 \cdot 7 \cdot 7 \cdot 7}^2 = 7^6$$

Casos particulares

- a) Un número distinto de cero elevado a cero, é igual a un:

$$a^0 = 1, \quad a \neq 0$$

Exemplo:

$$3^0 = 1$$

- b) Un número elevado a un é igual ao dito número:

$$a^1 = a$$

Exemplo:

$$5^1 = 5$$

APLICA A TEORÍA

1 Escribe en forma de potencia:

a) $5 \cdot 5 \cdot 5 \cdot 5$ b) $-5 \cdot (-5) \cdot (-5)$

2 Calcula mentalmente:

a) 2^3 b) $(-2)^3$ c) $(-2)^4$
d) 0^7 e) $(-7)^1$ f) $(-9)^0$

3 Calcula:

a) 3^4 b) $(-3)^4$ c) 3^5 d) $(-3)^5$

4 Calcula:

a) 13^2 b) $0,25^2$ c) 17^3 d) $2,5^3$

5 Utilizando a calculadora, busca as seguintes potencias:

a) 2^{10} b) $3,75^{18}$ c) 2^{64} d) π^{10}

6 Expressa o resultado en forma dunha soa potencia utilizando as propiedades das potencias:

a) $2^5 \cdot 2^4$ b) $5^9 : 5^3$ c) $(2^4)^3$ d) $3^2 \cdot 3^3 \cdot 3^4$

7 Expressa o resultado en forma dunha soa potencia utilizando as propiedades das potencias:

a) $x^2 \cdot x^3$ b) $x^5 : x^2$
c) $(x^3)^4$ d) $x^2 \cdot x^3 \cdot x^4$

8 Multiplica para eliminar as parénteses:

a) $3a^2b(2ab^2 - 5a^2b^3)$
b) $2x^3y^2z(3xy^2z^2 + 4x^2yz^3 - 6x^3z^4)$

9 Sacra factor común todos os factores que poidas:

a) $6a^3b^2 - 8a^4b^5$
b) $18x^2y^5z^2 + 12x^2y^3z^3 - 6x^3y^3z^4$

10 Temos un depósito de gasóleo para a calefacción, con forma de cubo cuxa aresta mide 2,25 m. Se o litro de gasóleo de calefacción custa a 0,65 €, calcula o que custa encher o depósito.

2. Potencias de expoñente enteiro

PENSA E CALCULA



Exprésalo resultado en forma dunha soa potencia utilizando as propiedades das potencias e calcula o resultado:

- a) $2^7 : 2^4$ b) $2^5 : 2^4$ c) $2^5 : 2^5$ d) $2^4 : 2^7$

2.1. Potencia de expoñente enteiro

Cando se aplica a propiedade do cociente de dúas potencias da mesma base distinta de cero, e o expoñente do dividendo é menor que o do divisor, preséntase, por exemplo, a seguinte situación:

$$a^3 : a^5 = a^{3-5} = a^{-2}$$

Obsérvase que o expoñente é negativo.

Se neste mesmo exemplo simplificamos, no canto de aplicar a propiedade do cociente de dúas potencias da mesma base, teremos:

$$a^3 : a^5 = \frac{\cancel{a} \cdot \cancel{a} \cdot \cancel{a}}{\cancel{a} \cdot \cancel{a} \cdot \cancel{a} \cdot a \cdot a} = \frac{1}{a \cdot a} = \frac{1}{a^2}$$

Pódese afirmar que:

$$a^{-2} = \frac{1}{a^2} \text{ sempre que } a \neq 0$$

Pódese xeralizar a seguinte definición:

Unha **potencia de expoñente enteiro negativo** é igual a 1 dividido pola mesma potencia pero con expoñente positivo:

$$a^{-n} = \frac{1}{a^n} \text{ sempre que } a \neq 0$$

Exemplo

Calcula 2^{-3}

$$2^{-3} = \frac{1}{2^3} = \frac{1}{2 \cdot 2 \cdot 2} = \frac{1}{8}$$

Con esta definición de potencia de expoñente enteiro negativo cúmprense todas as propiedades das potencias.

2.2. Inverso dun número

O **inverso dun número** obtense dividindo 1 entre o devandito número e defínese como o número que multiplicado polo número inicial dá como resultado 1

O inverso dun número **a** represéntase por a^{-1}

Exemplo

O inverso de 5 é $\frac{1}{5}$ Comprobación: $5 \cdot \frac{1}{5} = \frac{5}{5} = 1$

Inversa dunha fracción

A inversa dunha fracción obtense intercambiando o numerador polo denominador.

Exemplo

A inversa de $\frac{2}{3}$ é:

$$\left(\frac{2}{3}\right)^{-1} = \frac{3}{2}$$

Comprobación:

$$\frac{2}{3} \cdot \frac{3}{2} = \frac{6}{6} = 1$$

2.3. Operacións con potencias

a) Potencia dun produto

A **potencia dun produto** é igual ao produto de cada un dos factores elevado ao mesmo expoñente.

$$(a \cdot b)^n = a^n \cdot b^n$$

Exemplo

$$(2 \cdot 5)^3 = 2^3 \cdot 5^3 \quad \text{Comprobación:}$$

$$(2 \cdot 5)^3 = \overbrace{(2 \cdot 5)}^3 \cdot \overbrace{(2 \cdot 5)}^3 \cdot \overbrace{(2 \cdot 5)}^3 = (2 \cdot 2 \cdot 2) \cdot (5 \cdot 5 \cdot 5) = 2^3 \cdot 5^3$$

b) Potencia dun cociente

A **potencia dun cociente** é igual ao cociente de cada un dos números elevado ao mesmo expoñente.

$$(a : b)^n = a^n : b^n$$

Exemplo

$$(2 : 5)^3 = 2^3 : 5^3 \quad \text{Comprobación:}$$

$$(2 : 5)^3 = \left(\frac{2}{5}\right)^3 = \frac{\overbrace{2 \cdot 2 \cdot 2}^3}{\underbrace{5 \cdot 5 \cdot 5}_3} = \frac{2 \cdot 2 \cdot 2}{5 \cdot 5 \cdot 5} = \frac{2^3}{5^3} = 2^3 : 5^3$$

2.4. Como evitar erros habituais

Teoría	Exemplo	
a) Non confundir potencia con produto: a^n non é igual que $a \cdot n$	$5^3 = 5 \cdot 5 \cdot 5 = 125$	$5 \cdot 3 = 15$
b) Non confundir $(-a)^n$ con $-a^n$: se n é impar son iguais; e se n é par é igual a a^n	$(-2)^5 = -32$ $(-2)^4 = 16$	$-2^5 = -32$ $-2^4 = -16$
c) $(a + b)^n$ non é igual que $a^n + b^n$	$(3 + 5)^2 = 8^2 = 64$	$3^2 + 5^2 = 9 + 25 = 34$
d) $(a - b)^n$ non é igual que $a^n - b^n$	$(8 - 3)^2 = 5^2 = 25$	$8^2 - 3^2 = 64 - 9 = 55$

APLICA A TEORÍA

11 Calcula mentalmente en forma de fracción o resultado das seguintes potencias:

- a) 2^{-1} b) $(-2)^{-1}$ c) 2^{-2}
d) $(-2)^{-2}$ e) 2^{-3} f) $(-2)^{-3}$

12 Calcula:

- a) 1^{-9} b) $(-7)^{-1}$ c) 3^{-2} d) $(-3)^2$
e) 5^{-1} f) $(-5)^{-1}$ g) $\left(\frac{3}{4}\right)^{-1}$ h) $\left(\frac{1}{6}\right)^{-1}$

13 Expresa o resultado en forma dunha soa potencia utilizando as propiedades das potencias:

- a) $2^{-5} \cdot 2^4$ b) $5^4 : 5^7$ c) $(2^{-4})^3$ d) $3^2 \cdot 3^{-3} \cdot 3^4$

14 Aplicando a potencia dun produto ou dun cociente, escribe como unha soa potencia:

- a) $3^5 \cdot 5^5 \cdot 7^5$ b) $7^6 : 9^6$
c) $6^{-3} \cdot 7^{-3}$ d) $3^{-4} : 5^{-4}$

15 Substitúe no teu caderno os puntos por un dos signos = ou \neq entre as seguintes expresións:

- a) $4^3 \dots 12$ b) $(-7)^5 \dots -7^5$
c) $7^{3^2} \dots 7^6$ d) $(8 - 5)^2 \dots 9$

16 O disco duro dun ordenador portátil ten 40 Gb de capacidade, e un CD-ROM, 650 Mb. Cantos CD-ROM caben no disco duro se 1 Gb = 2^{10} Mb?

3. Radicais



Completa no teu caderno a seguinte táboa:

Número		2								
Cadrado ou cubo perfecto	4	8	9	16	25	27	81	100	125	1000

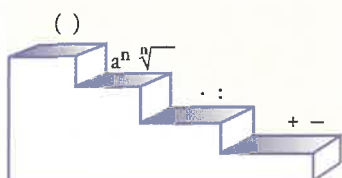
$\sqrt{\quad}$	Signo radical
n	Índice
a	Radicando
b	Raíz

Evitar erros habituais

$$\begin{aligned} \sqrt{-9} &\neq -3 \\ 3^2 &= 9 \\ (-3)^2 &= 9 \end{aligned}$$

Xerarquía das operacións

- Parénteses.
- Potencias e raíces.
- Multiplicacións e divisións.
- Sumas e restas.
- Se as operacións teñen o mesmo nivel, comézase pola esquerda.



Exemplo:

$$\begin{aligned} (5^3 - 119) \cdot \sqrt[3]{8} &= \\ = (125 - 119) \cdot 2 &= \\ = 6 \cdot 2 &= 12 \end{aligned}$$

3.1. Raíz enésima dun número

A **raíz enésima** dun número **a** é outro número **b** tal que **b** elevado á potencia **n** é **a**: $\sqrt[n]{a} = b$ se $b^n = a$

A raíz enésima é a operación contraria da potencia.

Os radicais de índice impar teñen unha soa raíz; os de índice par e radicando positivo teñen dúas opostas e se o radicando é negativo non teñen raíces reais.

Exemplo

$$\sqrt[3]{8} = 2 \text{ porque } 2^3 = 8; \sqrt[4]{81} = \pm 3 \text{ porque } \begin{cases} 3^4 = 81 \\ (-3)^4 = 81 \end{cases}$$

Se o índice da raíz é $n = 2$, non se escribe e chámase raíz cadrada. Os seguintes índices: 3, 4, 5, etc., chámanse raíz cúbica, cuarta, quinta, etc.

3.2. Radicais equivalentes

Dous **radicais son equivalentes** se teñen as mesmas raíces. Se nun radical se multiplica o índice e o expoñente polo mesmo número, obtense outro radical equivalente.

Exemplo

$$\sqrt[3]{5^2} = \sqrt[6]{5^4} = \sqrt[9]{5^6} = \sqrt[12]{5^8} = \dots = 2,92\dots$$

Simplificación de radicais

Para **simplificar un radical** divídese o índice da raíz e o expoñente do radicando polo M.C.D. de ambos. Esta simplificación é válida se existen os dous radicais.

Exemplo

$$\sqrt[18]{5^{12}} = \sqrt[18]{5^{12 \cdot 6}} = \sqrt[3]{5^2}$$

↑
M.C.D. (12, 18) = 6

3.3. Introducir factores no radicando

Para **introducir un factor no radical** elévase o factor ao número que indica o índice e multiplícase polo radicando.

Exemplo

$$2\sqrt[3]{5} = \sqrt[3]{2^3 \cdot 5} = \sqrt[3]{8 \cdot 5} = \sqrt[3]{40}$$

Convenio

Nas operacións combinadas con radicais de índice par, a raíz toma o signo que leve o radical.

$$\sqrt{49} - \sqrt{9} = 7 - 3 = 4$$

$$\begin{array}{r} 5 \overline{) 3} \\ 2 \quad 1 \end{array} \qquad \begin{array}{r} 17 \overline{) 3} \\ 2 \quad 5 \end{array}$$

$$\begin{array}{r} 12 \overline{) 3} \\ 0 \quad 4 \end{array} \qquad \begin{array}{r} 7 \overline{) 3} \\ 1 \quad 2 \end{array}$$

3.4. Extraer factores do radicando

Para **extraer un factor dun radical**, descomponse o radicando en factores primos e divídese o expoñente de cada factor entre o índice da raíz. O cociente da división sae fóra do radical como expoñente do número, e o resto queda dentro do radical como expoñente do factor. Todos os expoñentes do radicando teñen que quedar menores que o índice.

Exemplo

$$\sqrt[3]{32a^{17}b^{12}c^7} = \sqrt[3]{2^5a^{17}b^{12}c^7} = 2a^5b^4c^2\sqrt[3]{2^2a^2c}$$

3.5. Suma e resta de radicais

Radicais semellantes son aqueles radicais que, despois de simplificalos, teñen o mesmo índice e o mesmo radicando.

Para **sumar e restar radicais**, estes teñen que ser semellantes. Nese caso, súmanse ou réstanse os coeficientes e déixase o mesmo radical.

Exemplo

$$\begin{aligned} 4\sqrt{50} - 7\sqrt{8} + 5\sqrt{18} &= 4 \cdot 5\sqrt{2} - 7 \cdot 2\sqrt{2} + 5 \cdot 3\sqrt{2} = \\ &= 20\sqrt{2} - 14\sqrt{2} + 15\sqrt{2} = (20 - 14 + 15)\sqrt{2} = 21\sqrt{2} \end{aligned}$$

Cálculo mental

Para extraer factores dun radical cuadrático, descomponse o radicando como produto do maior cadrado perfecto e un número.

$$\sqrt{50} = \sqrt{25 \cdot 2} = 5\sqrt{2}$$

$$\sqrt{8} = \sqrt{4 \cdot 2} = 2\sqrt{2}$$

$$\sqrt{18} = \sqrt{9 \cdot 2} = 3\sqrt{2}$$

3.6. Como evitar erros habituais

Nas operacións con radicais aplícase a xerarquía das operacións.

Tipo de erro	Exemplo
a) $\sqrt[n]{a+b}$ non é igual que $\sqrt[n]{a} + \sqrt[n]{b}$	$\sqrt{9+16} = \sqrt{25} = 5$ e $\sqrt{9} + \sqrt{16} = 3+4=7$
b) $\sqrt[n]{a-b}$ non é igual que $\sqrt[n]{a} - \sqrt[n]{b}$	$\sqrt{25-9} = \sqrt{16} = 4$ e $\sqrt{25} - \sqrt{9} = 5-3=2$

APLICA A TEORÍA

17 Cantas raíces reais teñen os seguintes radicais?

- a) $\sqrt{36}$ b) $\sqrt{0}$
 c) $\sqrt{-25}$ d) $\sqrt[3]{-8}$
 e) $\sqrt{1}$ f) $\sqrt[3]{1}$

18 Calcula mentalmente se é posible:

- a) $\sqrt{25}$ b) $\sqrt[3]{-125}$
 c) $\sqrt{-49}$ d) $\sqrt[3]{-27}$

19 Simplifica os radicais:

- a) $\sqrt[6]{5^4}$ b) $\sqrt[3]{5^6}$
 c) $\sqrt[12]{5^8}$ d) $\sqrt[24]{5^{18}}$

20 Extrae todos os factores posibles de:

- a) $\sqrt{81a^5bc^6}$ b) $\sqrt[3]{128a^8b^2c^{15}}$

21 Suma e resta os seguintes radicais:

- a) $\sqrt{50} - \sqrt{32} + \sqrt{18}$ b) $5\sqrt{98} - 3\sqrt{200} + 4\sqrt{8}$

22 Substitúe no teu caderno os puntos por un dos signos: = ou \neq , entre as seguintes expresións:

- a) $\sqrt{36+64} \dots \sqrt{36} + \sqrt{64}$
 b) $\sqrt{100-36} \dots \pm 8$
 c) $\sqrt[3]{8+27} \dots \sqrt[3]{8} + \sqrt[3]{27}$

23 Un contedor ten forma de cubo. Se ten unha capacidade de 8 m^3 , canto mide a aresta?

4. Propiedades e relación entre potencias e radicais

PENSA E CALCULA



Calcula o resultado das seguintes operacións:

a) $\sqrt{25} \cdot \sqrt{49}$ b) $\sqrt{36} : \sqrt{9}$ c) $(\sqrt{4})^3$ d) $\sqrt[3]{\sqrt{64}}$

4.1. Propiedades dos radicais

As seguintes operacións de radicais coñécense como propiedades dos radicais.

Propiedades	Fórmula	Exemplo
a) Produto de radicais do mesmo índice O produto de dous radicais do mesmo índice é outro radical do mesmo índice, e de radicando o produto dos radicandos.	$\sqrt[n]{a} \cdot \sqrt[n]{b} = \sqrt[n]{a \cdot b}$	$\sqrt[3]{5} \cdot \sqrt[3]{25} = \sqrt[3]{5 \cdot 25} = \sqrt[3]{125} = 5$
b) Cociente de radicais do mesmo índice O cociente de dous radicais do mesmo índice é outro radical do mesmo índice, e de radicando o cociente dos radicandos.	$\sqrt[n]{a} : \sqrt[n]{b} = \sqrt[n]{a : b}$	$\sqrt[3]{32} : \sqrt[3]{4} = \sqrt[3]{32 : 4} = \sqrt[3]{8} = 2$
c) Potencia dun radical A potencia dun radical é igual ao radical da potencia.	$(\sqrt[n]{a})^p = \sqrt[n]{a^p}$	$(\sqrt[3]{5})^2 = \sqrt[3]{5^2}$
d) Raíz dun radical A raíz dun radical é outro radical, de índice o produto dos índices e de radicando o mesmo.	$\sqrt[n]{\sqrt[m]{a}} = \sqrt[n \cdot m]{a}$	$\sqrt[3]{\sqrt{5}} = \sqrt[6]{5}$

4.2. Relación na escritura entre potencias e radicais

Potencia	Exemplo
$a^{1/n} = \sqrt[n]{a}$	$5^{1/3} = \sqrt[3]{5}$
$a^{-1/n} = \frac{1}{\sqrt[n]{a}}$	$2^{-1/5} = \frac{1}{\sqrt[5]{2}}$
$a^{p/n} = \sqrt[n]{a^p}$	$5^{2/3} = \sqrt[3]{5^2}$
$a^{-p/n} = \frac{1}{\sqrt[n]{a^p}}$	$3^{-2/5} = \frac{1}{\sqrt[5]{3^2}}$

Unha **potencia de expoñente fraccionario** é equivalente a un radical cuxo índice é o denominador do expoñente e cuxo radicando é a base elevada ao numerador do expoñente, e viceversa. Se o expoñente é negativo, o radical está no denominador.

$$a^{p/n} = \sqrt[n]{a^p}, a > 0 \qquad a^{-p/n} = \frac{1}{\sqrt[n]{a^p}}, a > 0$$

4.3. Uso da calculadora

A calculadora ten a tecla $\sqrt[x]{y}$ ou $x^{1/y}$. No caso de non ter o signo radical, tense que pasar a raíz a potencia e utilizar a tecla \wedge ou x^y

Exemplo

$$\sqrt[5]{23} \quad 5 \quad \sqrt[5] \quad 23 \quad = \quad 1.87$$

- $\sqrt{\quad}$ Raíz cadrada
- $\sqrt[3]{\quad}$ Raíz cúbica
- $\sqrt[x]{\quad}$ Raíz x

4.4. Cadro resumo das potencias e radicais

Potencias	Exemplo
$a^n = a \cdot a \cdot \dots$ n veces $\dots \cdot a$	$2^3 = 2 \cdot 2 \cdot 2 = 8$
$0^n = 0 \cdot \dots$ n veces $\dots \cdot 0 = 0$	$0^5 = 0$
$1^n = 1$	$1^3 = 1$
$a^0 = 1, a \neq 0$	$5^0 = 1$
$a^1 = a$	$4^1 = 4$
$a^n \cdot a^p = a^{n+p}$	$5^3 \cdot 5^4 = 5^7$
$a^n : a^p = a^{n-p}$	$2^8 : 2^3 = 2^5$
$(a^n)^p = a^{n \cdot p}$	$(5^3)^2 = 5^6$
$(a \cdot b)^n = a^n \cdot b^n$	$(2 \cdot 3)^5 = 2^5 \cdot 3^5$
$(a : b)^n = a^n : b^n$	$(5 : 7)^3 = 5^3 : 7^3$
$a^{-n} = \frac{1}{a^n}$	$2^{-3} = \frac{1}{2^3}$
$a^{1/n} = \sqrt[n]{a}$	$6^{1/5} = \sqrt[5]{6}$
$a^{-1/n} = \frac{1}{\sqrt[n]{a}}$	$5^{-1/4} = \frac{1}{\sqrt[4]{5}}$
$a^{p/n} = \sqrt[n]{a^p}$	$7^{2/3} = \sqrt[3]{7^2}$
$a^{-p/n} = \frac{1}{\sqrt[n]{a^p}}$	$6^{-3/4} = \frac{1}{\sqrt[4]{6^3}}$

Radicais	Exemplo
$\sqrt[n]{a} = b$ se $b^n = a$	$\sqrt{25} = \pm 5$
$\sqrt[3]{a} = b$ se $b^3 = a$	$\sqrt[3]{8} = 2$
$\sqrt[n]{a} = b$ se $b^n = a$	$\sqrt[5]{32} = 2$
$\sqrt[n]{a^n} = (\sqrt[n]{a})^n = a$	$\sqrt[3]{7^3} = (\sqrt[3]{7})^3 = 7$
$\sqrt[n]{a^p} = \sqrt[n]{a^p}$	$\sqrt[10]{7^6} = \sqrt[5]{7^3 \cdot 2} = \sqrt[5]{7^3}$
$a \sqrt[n]{b} = \sqrt[n]{a^n \cdot b}$	$2 \sqrt[3]{5} = \sqrt[3]{2^3 \cdot 5} = \sqrt[3]{40}$
$\sqrt[n]{a} \cdot \sqrt[n]{b} = \sqrt[n]{a \cdot b}$	$\sqrt{2} \cdot \sqrt{3} = \sqrt{6}$
$\sqrt[n]{a} : \sqrt[n]{b} = \sqrt[n]{a : b}$	$\sqrt[3]{2} : \sqrt[3]{5} = \sqrt[3]{2 : 5}$
$(\sqrt[n]{a})^p = \sqrt[n]{a^p}$	$(\sqrt[3]{7})^2 = \sqrt[3]{7^2}$
$\sqrt[n]{\sqrt[n]{a}} = \sqrt[n \cdot n]{a}$	$\sqrt[3]{\sqrt[3]{7}} = \sqrt[9]{7}$
$\sqrt[n]{a} = a^{1/n}$	$\sqrt[3]{7} = 7^{1/3}$
$\frac{1}{\sqrt[n]{a}} = a^{-1/n}$	$\frac{1}{\sqrt{2}} = 2^{-1/2}$
$\sqrt[n]{a^p} = a^{p/n}$	$\sqrt[3]{5^2} = 5^{2/3}$
$\frac{1}{\sqrt[n]{a^p}} = a^{-p/n}$	$\frac{1}{\sqrt[4]{7^3}} = 7^{-3/4}$

APLICA A TEORÍA

24 Aplicando as propiedades dos radicais, expresa como unha soa raíz:

- a) $\sqrt{5} \cdot \sqrt{3}$ b) $\sqrt{6} : \sqrt{3}$
 c) $(\sqrt[3]{5})^2$ d) $\sqrt[3]{\sqrt{5}}$

25 Aplica as propiedades dos radicais e calcula:

- a) $\sqrt{6} \cdot \sqrt{6}$ b) $\sqrt{20} : \sqrt{5}$
 c) $\sqrt[3]{25} \cdot \sqrt[3]{5}$ d) $\sqrt{\sqrt[3]{64}}$

26 Escribe os seguintes radicais en forma de potencia:

- a) $\sqrt[5]{3}$ b) $\frac{1}{\sqrt[6]{5}}$
 c) $\sqrt[3]{3^5}$ d) $\frac{1}{\sqrt[3]{7^2}}$

27 As catro paredes dun cuarto de baño son cadradas e teñen en total 324 azulexos cadrados. Se cada azulexo mide 25 cm de lado, canto mide de lonxitude cada parede?

28 Escribe as seguintes potencias en forma de radical e calcula o resultado:

- a) $27^{1/3}$ b) $49^{-1/2}$
 c) $128^{3/7}$ d) $243^{-2/5}$

29 Realiza as seguintes operacións coa calculadora e redondea os resultados a dous decimais:

- a) $\sqrt{583}$
 b) $\sqrt[3]{875}$
 c) $\sqrt[3]{3^5}$
 d) $\sqrt{85} - \sqrt[3]{805} + \sqrt[5]{2345}$

30 Realiza as seguintes operacións coa calculadora e redondea os resultados a dous decimais:

- a) $2,3^5 \cdot \sqrt{80} - \sqrt{675} : 4,8^3$
 b) $(9,2^3 - \sqrt{34703}) \cdot 1,5^{17}$



1. Potencias de expoñente natural

- 31** Escribe en forma de potencia:
- a) $2 \cdot 2 \cdot 2 \cdot 2$ b) $-2 \cdot (-2) \cdot (-2)$
 c) $3 \cdot 3 \cdot 3 \cdot 3 \cdot 3$ d) $-3 \cdot (-3)$
- 32** Calcula mentalmente:
- a) 3^3 b) $(-3)^3$ c) $(-3)^4$
 d) 7^0 e) $(-1)^7$ f) $(-1)^8$
- 33** Calcula:
- a) 19^2 b) $0,75^2$ c) 23^3 d) $1,5^3$
- 34** Expressa o resultado en forma dunha soa potencia utilizando as propiedades das potencias:
- a) $3^2 \cdot 3^6$ b) $5^7 : 5^6$ c) $(3^2)^5$ d) $5^2 \cdot 5 \cdot 5^3$
- 35** Expressa o resultado en forma dunha soa potencia utilizando as propiedades das potencias:
- a) $x^3 \cdot x^4$ b) $x^7 : x^4$ c) $(x^3)^5$ d) $x \cdot x^2 \cdot x^3$
- 36** Multiplica para eliminar as parénteses:
- a) $2a^3b(3a^2b - 6a^3b^3)$
 b) $3xy^2z^3(4x^2y^3z + 5x^3y - 7x^5z)$
- 37** Saca factor común todos os factores que poidas:
- a) $12a^4b^5 - 18a^3b^6$
 b) $6x^5y^2z^3 + 15x^2y^5z^3 - 18x^2y^3z^5$
- 38** Calcula o número de bytes que caben nun disco duro de 50 Gb, sabendo que:
 1 Kb = 2^{10} bytes; 1 Mb = 2^{10} Kb; 1 Gb = 2^{10} Mb

2. Potencias de expoñente enteiro

- 39** Calcula mentalmente en forma de fracción o resultado das seguintes potencias:
- a) 3^{-1} b) $(-3)^{-1}$ c) 3^{-2}
 d) $(-3)^{-2}$ e) 3^{-3} f) $(-3)^{-3}$
- 40** Calcula:
- a) 7^{-1} b) $(-7)^{-1}$ c) $(\frac{5}{3})^{-1}$ d) $(\frac{1}{2})^{-1}$
- 41** Expressa o resultado en forma dunha soa potencia utilizando as propiedades das potencias:
- a) $3^5 \cdot 3^{-4}$ b) $2^4 : 2^{-3}$
 c) $(5^{-4})^{-3}$ d) $17^{-2} \cdot 17^3 \cdot 17^{-4}$

- 42** Aplicando a potencia dun produto ou dun cociente, escribe como unha soa potencia:
- a) $2^6 \cdot 3^6 \cdot 7^6$ b) $3^5 : 7^5$
 c) $2^{-3} \cdot 5^{-3}$ d) $5^{-4} : 7^{-4}$

- 43** Substitúe no teu caderno os puntos por un dos signos = ou \neq entre as seguintes expresións:
- a) $4^3 \dots 6^4$ b) $(-7)^5 \dots 7^5$
 c) $7^{3^2} \dots 7^9$ d) $(8-5)^2 \dots 3^2$

- 44** Un bloque de casas ten 6 plantas, e en cada planta hai 6 vivendas. Se viven de media 6 persoas en cada vivenda, escribe en forma de potencia o número de persoas que viven no bloque, e calcula o resultado.

3. Radicais

- 45** Calcula mentalmente se se pode:
- a) $\sqrt{49}$ b) $\sqrt[3]{-8}$ c) $\sqrt[4]{-16}$ d) $\sqrt[3]{125}$
- 46** Simplifica os radicais:
- a) $\sqrt[6]{7^2}$ b) $\sqrt[15]{7^{12}}$ c) $\sqrt[20]{7^{12}}$ d) $\sqrt[30]{7^{18}}$
- 47** Extrae todos os factores posibles de:
- a) $\sqrt{243a^8b^3c^7}$
 b) $\sqrt[3]{125a^9b^{17}c^{25}}$
- 48** Suma e resta os radicais:
- a) $3\sqrt{32} - 2\sqrt{50} + \sqrt{72}$
 b) $2\sqrt{200} - 3\sqrt{18} - 4\sqrt{98}$
- 49** Substitúe no teu caderno os puntos por un dos signos = ou \neq entre as seguintes expresións:
- a) $\sqrt{36+64} \dots \sqrt{100}$
 b) $\sqrt{100-36} \dots \sqrt{100} - \sqrt{36}$
 c) $\sqrt[4]{16+81} \dots \sqrt[4]{16} + \sqrt[4]{81}$
- 50** Un cartón de leite é de forma cúbica e contén dous litros. Outro cartón de 2 litros ten forma de prisma cuadrangular e a aresta da súa base mide 10 cm. Calcula a superficie de ambos. Cal é menor?

Exercicios e problemas

4. Propiedades e relación entre potencias e radicais

51 Aplicando as propiedades dos radicais, expresa como unha soa raíz:

- a) $\sqrt{3} \cdot \sqrt{7}$ b) $\sqrt{14} : \sqrt{2}$
 c) $(\sqrt[5]{7})^3$ d) $\sqrt[5]{\sqrt{3}}$

52 Aplica as propiedades dos radicais e calcula:

- a) $\sqrt{27} \cdot \sqrt{3}$ b) $\sqrt{45} : \sqrt{5}$
 c) $\sqrt[3]{4} \cdot \sqrt[3]{16}$ d) $\sqrt[5]{\sqrt{1024}}$

53 Escribe en forma de potencia os seguintes radicais:

- a) $\sqrt[3]{2}$ b) $\frac{1}{\sqrt{7}}$
 c) $\sqrt[5]{3^2}$ d) $\frac{1}{\sqrt[3]{2^3}}$

54 Escribe en forma de radical as seguintes potencias:

- a) $3^{1/5}$ b) $5^{-1/3}$
 c) $6^{4/5}$ d) $7^{-3/5}$

Para ampliar



55 Calcula o valor de x en cada un dos seguintes casos:

- a) $2^x = 32$ b) $3^4 = x$
 c) $x^3 = 125$ d) $x^3 = -8$

56 Calcula:

- a) $2^5 + 3^3 + 5^2$ b) $(-2)^5 + 3^2 - 5^3$
 c) $(-2)^6 + 3^4 - (-5)^3$ d) $10^6 - (-10)^3 + 10^2$

57 Calcula:

- a) $\left(\frac{2}{3}\right)^3$ b) $\left(-\frac{2}{3}\right)^3$ c) $\left(\frac{2}{3}\right)^4$ d) $\left(-\frac{2}{3}\right)^4$

58 Calcula:

- a) 5^{-1} b) $(-5)^{-1}$ c) 2^{2^3} d) $\left(-\frac{1}{3}\right)^{-1}$

59 Expressa o resultado en forma dunha soa potencia utilizando as propiedades das potencias:

- a) $5^{-3} \cdot 5^{-4}$ b) $3^{-4} : 3^{-7}$
 c) $(7^{-3})^{-5}$ d) $13^{-2} \cdot 13^{-3} \cdot 13^{-4}$

60 Substitúe no teu caderno os puntos por un dos signos: = ou \neq , entre as seguintes expresións:

- a) $5^3 \dots 15$ b) $(-2)^5 \dots -32$
 c) $2^{3^5} \dots 2^{15}$ d) $(7-3)^5 \dots 4^5$

61 Calcula mentalmente:

- a) $\sqrt[3]{125}$ b) $\sqrt[3]{-125}$
 c) $\sqrt[3]{0,001}$ d) $\sqrt[3]{-0,008}$

62 Entre que dous números enteiros están as seguintes raíces?

- a) $\sqrt{55}$ b) $\sqrt[3]{84}$ c) $\sqrt[4]{93}$ d) $\sqrt[5]{100}$

63 Introdúe dentro do radical os factores que están fóra:

- a) $3^2 ab^3 c \sqrt{5ab}$
 b) $2^3 a^2 b^5 c^2 \sqrt[3]{5a^2 bc^2}$
 c) $3^2 ab^3 c^4 \sqrt[4]{10ab^3 c^2}$
 d) $2^3 a^2 bc^4 \sqrt[5]{15a^4 bc^2}$

64 Calcula o valor de x en cada un dos seguintes casos:

- a) $\sqrt{x} = \pm 5$ b) $\sqrt{49} = x$
 c) $\sqrt[3]{x} = 5$ d) $\sqrt[3]{32} = 2$

65 Calcula descompoñendo en factores primos:

- a) $\sqrt[3]{216}$ b) $\sqrt[3]{3375}$ c) $\sqrt[3]{\frac{8}{125}}$ d) $\sqrt[5]{\frac{243}{32}}$

66 Calcula o valor das seguintes potencias:

- a) $4^{3/2}$ b) $8^{2/3}$ c) $16^{3/4}$ d) $32^{4/5}$

Con calculadora

67 Utilizando a calculadora, obtén:

- a) 3^{10} b) $7,25^{13}$ c) $(3/2)^{15}$
 d) π^2 e) 3^{-5} f) $(-3)^8$

Exercicios e problemas

68 Realiza as seguintes operacións coa calculadora e redondea os resultados a dous decimais:

a) $\sqrt{45\,760}$

b) $\sqrt[3]{8\,043}$

c) $\sqrt[5]{55\,555}$

d) $\sqrt[6]{2,5^5}$

69 Realiza as seguintes operacións coa calculadora e redondea os resultados a dous decimais:

a) $5,2^3 (\sqrt{209} - \sqrt{3\,217}) : 7,2^5$

b) $(7,25^5 - \sqrt[3]{874\,658}) \cdot 1,75^7$

Problemas



70 Temos unha leira en forma de cadrado cuxo lado mide 14,75 m. Calcula o prezo de venda sabendo que o metro cadrado vale 23 €

71 Calcula o número de bytes que caben nun disco duro de 20 Gb, sabendo que 1 Kb = 2^{10} bytes, 1 Mb = 2^{10} Kb e 1 Gb = 2^{10} Mb

72 Nunha tenda mercan unha ducia de ducias de ovos. Por cada ovo pagaron 0,05 €. Canto pagaron por todos os ovos?

73 Alba ten unha caixa en forma de cubo chea de bólas. Ten 5 bólas de longo, outras 5 de ancho e outras 5 de alto. Escribe en forma de potencia o número total de bólas e calcula o prezo sabendo que cada bóla custa 0,15 €

74 Temos 12 caixas de cocos e cada caixa ten 12 cocos. Escribe en forma de potencia o número total de cocos e obtén o prezo sabendo que cada un custa 1,5 €

75 Escribe en forma de potencia o número de avós que ten cada persoa, e calcula o resultado.

76 Temos un bloque de xeo de 1 m de longo, 20 cm de ancho e 20 cm de alto. Cortámolo en cubos para arrefriar refrescos. Cada cubo mide 2 cm de longo, 2 cm de ancho e 2 cm de alto, e en cada refresco poñemos dous cubos. Para cantos refrescos teremos?

77 Unha leira cadrada de 100 m de lado está plantada de nogueiras. Se cada nogueira ocupa 25 m², cantas nogueiras hai plantadas?

78 O patio de butacas dun teatro ten igual número de filas que de columnas, e véndense todas as entradas para unha sesión, obténdose 675 €. Se cada entrada custa 3 €, cantas filas ten o teatro?

79 Queremos poñer baldosas no chan dun cuarto cadrado, e en cada lado caben 13 baldosas. Se cada baldosa custa 1,5 €, canto custan todas as baldosas que necesitamos?

80 Unha leira é cadrada e ten unha superficie de 1 369 m². Canto mide o lado?

81 Un bloque de casas ten x plantas, e en cada planta hai x vivendas. Se viven x persoas de media en cada vivenda, calcula o valor de x sabendo que na casa viven 64 persoas.

Para profundar

82 Unha empresa de produtos lácteos mercou un cubo de leite de 1,5 m de aresta. Este leite envasouse en recipientes de 1 litro, que se venderon a 0,85 € cada un. Se o litro de leite se pagara a 0,5 €, e o transporte e o custo de envasado xeraran un gasto de 0,15 € por litro, cal foi o beneficio?

83 Expressa en forma de potencia de 2 o número total de cadrados que ten un taboleiro de xadrez, sabendo que posúe 8 filas e 8 columnas.

84 Escribe en forma de potencia o número de bisavós que ten cada persoa e calcula o resultado.

85 Unha célula reproducése cada hora por bipartición. Cantos días tardará en sobrepasar un millón?

86 Un veleiro custa 0,5 millóns de euros e depreciase cada ano un 18%. Cantos anos tardará en valer menos de 150 000 €? Observa que se se deprecia un 18%, o seu valor será un 82% do prezo inicial.

87 Unha caixa ten forma de cubo cuxo volume é de 3,375 m³. Calcula a súa superficie.

Aplica as túas competencias



As potencias e os ordenadores

A información gárdase nos discos de forma dixital, por iso cando se copia dun disco a outro, non perde calidade. Un byte ocupa dúas posicións.

$$1 \text{ Kb} = 2^{10} \text{ bytes}$$

$$1 \text{ Mb} = 2^{10} \text{ Kb}$$

$$1 \text{ Gb} = 2^{10} \text{ Mb}$$

- 88 Un disco de 3 1/2 ten 1,44 Mb. Calcula a súa capacidade en bytes.
- 89 Un CD-ROM ten 640 Mb. Calcula a súa capacidade en bytes.
- 90 O disco duro dun ordenador ten 40 Gb. Calcula a súa capacidade en bytes.

Comproba o que sabes



- 1 Que son radicais equivalentes? Pon un exemplo.
- 2 Expresa o resultado en forma dunha soa potencia utilizando as propiedades das potencias:
a) $3^5 \cdot 3^4$ b) $a^9 : a^3$
c) $(x^n)^p$ d) $x^3 : x^7$
- 3 Substitúe os puntos por un dos signos: = ou \neq , entre as seguintes expresións:
a) $5^3 \dots 15$ b) $(-6)^5 \dots -6^5$
c) $3^{5^2} \dots 3^{10}$ d) $(7-5)^4 \dots 16$
- 4 Extrae todos os factores posibles de:
a) $\sqrt{81a^5bc^6}$ b) $\sqrt[3]{32a^8b^2c^{12}}$
- 5 Suma e resta os radicais:
a) $3\sqrt{32} - 2\sqrt{50} + \sqrt{72}$ b) $2\sqrt{75} - 4\sqrt{27} + 5\sqrt{12}$
- 6 Escribe en forma de radical as seguintes potencias e calcula o resultado:
a) $25^{1/2}$ b) $125^{-1/3}$
c) $16^{3/4}$ d) $32^{-2/5}$
- 7 O disco duro dun ordenador portátil ten unha capacidade de 40 Gb, e un CD-ROM, de 650 Mb. Cantos CD-ROM caben no disco duro se $1 \text{ Gb} = 2^{10} \text{ Mb}$?
- 8 Unha leira ten forma de cadrado. Se se vende a razón de 3,6 €/m² e se obtiveron pola venda 3 802,5 €, canto mide de lado a leira?



2. POTENCIAS E RAÍCES

Paso a paso

Axusta a configuración: na barra de menú elixe **Opcións/Axustes de Modo.../Simplificación/Restablecer**

91 Calcula:

$$\left(\frac{3}{4}\right)^5$$

Solución:

a) Na **Entrada de Expresións** escribe:

$$(3/4)^5$$

Preme **Introducir e Simplificar**

$$\frac{243}{1024}$$

92 Calcula:

$$7,28^5$$

Solución:

a) Na **Entrada de Expresións** escribe:

$$7.28^5$$

b) Preme **Introducir e Aproximar**

$$2.044828533 \cdot 10^4$$

93 Calcula:

$$\sqrt{12\,607,25}$$

Solución:

a) Na **Entrada de Expresións** escribe:

$$\sqrt{12\,607,25}$$

b) Preme **Introducir e Aproximar**

$$112.2820110$$

94 Calcula:

$$\sqrt[3]{86^5}$$

Solución:

a) Na **Entrada de Expresións** escribe:

$$86^{(5/7)}$$

b) Preme **Introducir e Aproximar**

$$24.08710512$$

95 Suma e resta os seguintes radicais:

$$4\sqrt{50} - 7\sqrt{8} + 5\sqrt{18}$$

Solución:

a) Na **Entrada de Expresións** escribe:

$$4\sqrt{50} - 7\sqrt{50} + 5\sqrt{50}$$

b) Preme **Introducir e Simplificar**

$$21\sqrt{2}$$

96 Calcula:

$$1,5^7 (\sqrt{83} - \sqrt[3]{678})$$

Solución:

a) Na **Entrada de Expresións** escribe:

$$1.5^7 * (\sqrt{83} - 678^{(1/5)})$$

b) Preme **Introducir e Aproximar**

$$92.72638330$$

Enuncia o seguinte problema e resólveo coa axuda de DERIVE:

97 Temos un depósito de gasóleo para a calefacción, con forma de cubo cuxa aresta mide 2,25 m. Se o litro de gasóleo de calefacción custa 0,65 € o litro, calcula o que custa encher o depósito.

Solución:

$$\text{Formulación: } 2,25^3 \cdot 1\,000 \cdot 0,65$$

a) Na **Entrada de Expresións** escribe:

$$2.25^3 \cdot 1000 \cdot 0.65$$

b) Preme **Introducir e Aproximar**

$$7403,90625$$

Custa 7 043,91 €

98 **Internet.** Abre a páxina web: www.xerais.es e elixe **Matemáticas, curso e tema.**

Así funciona

Potencias

Signo de potencia, 5^3 escríbese 5^3

O signo $^$ é o acento circunflexo francés. Pódese obter no teclado mantendo pulsada a tecla [Maiús] e pulsando a tecla [^]. Cando se fai isto non aparece o acento $^$, pois como todos os

acentos está esperando a vogal correspondente para colocarse enriba. Porén, como o que se escribe a continuación é un número, e o acento non pode poñerse enriba, aparecerán ao mesmo tempo o signo \wedge e o número.

Tamén se pode obter na **Ventá de Símbolos**



O signo de potencia \wedge é o que está na primeira fila no quinto lugar. Non se debe confundir co signo de conxunción, que é \wedge . É moi parecido, pero é maior e está máis abaixo; atópase na segunda fila.


Raíces


 Signo de raíz cadrada. Obtense na **Ventá de Símbolos**

Para facer unha raíz que non sexa cadrada, haina que pasar previamente a potencia e facela como potencia.

$$\sqrt[3]{86^5} = 86^{5/7} \text{ en DERIVE escríbese } 86^{(5/7)}$$

Se no radicando hai unha operación, haina que poñer entre parénteses.

 **Introducir e Simplificar:** escribe na **Ventá Álgebra** a expresión e simplifica o resultado.

 **Introducir e Aproximar:** escribe na **Ventá Álgebra** a expresión, aproxima o resultado e dáo como número decimal. Se o número é moi grande e ten máis de 4 cifras enteiras, dá o resultado en notación científica.

Practica

99 Calcula as seguintes potencias:

a) $(2/3)^6$ b) $(-2/3)^7$

100 Calcula as seguintes potencias:

a) 2^{64} b) $239,72^5$

101 Calcula:

a) $\sqrt{3}$ b) $\sqrt{256,256}$

102 Calcula:

a) $\sqrt[3]{4913}$ b) $\sqrt[5]{845,23}$

103 Suma os radicais:

a) $7\sqrt{50} - 2\sqrt{8} + 5\sqrt{162}$
 b) $9\sqrt{147} - 5\sqrt{75} + 3\sqrt{12}$

104 Calcula e logo redondea mentalmente a dous decimais:

a) $\sqrt{473,5 + 75,47}$
 b) $\sqrt{473,5} + \sqrt{75,47}$
 c) $\sqrt[3]{45,5^2 - 7,25^3} + 5,2^7$
 d) $(73,5^3 - 55,35)^2 \cdot \sqrt[3]{3760}$

Escribe as expresións numéricas correspondentes aos seguintes enunciados e calcula o resultado:

105 O número 23,45 elevado ao cadrado, menos a raíz cadrada de 825,83

106 O número 1,5 elevado á quinta, menos a raíz cadrada de 1,83, máis a raíz cúbica de 2,5

Enuncia os seguintes problemas e resólveos coa axuda de DERIVE:

107 Queremos vender os chopos dun terreo que ten 54 filas e 54 columnas, ao prezo de 54 € cada chopo. Expresa en forma de potencia o valor dos chopos e calcula o resultado.

108 Calcula a aresta dun depósito de forma cúbica que custou enchelo de leite 3 215,625 €, se o litro de leite se pagou a 0,6 €

109 Calcula o número de bytes que caben nun CD-ROM de 650 Mb, sabendo que:

$$1 \text{ Kb} = 2^{10} \text{ bytes e } 1 \text{ Mb} = 2^{10} \text{ Kb}$$



2. POTENCIAS E RAÍCES

Paso a paso

91 Calcula:

$$\left(\frac{3}{4}\right)^5$$

Solución:

a) Na barra de menús, elixe **Edición** e elixe **Comentar**. Escribe nun só bloque o número e o título do tema, o nome dos dous alumnos e **Paso a paso**. Fai clic en **Calcular**

b) En **Operacións**, para escribir cada fracción, elixe **Fracción** e para elixir un tamaño de parénteses que se axuste ao seu contido **Parénteses**. Escribe:

$$\left(\frac{3}{4}\right)^5$$

c) Fai clic en **Calcular**

2. Potencias e raíces
Xiana Outeiro Vilar
Brais Méndez Eiras
Paso a paso

Exercicio 91
 $\left(\frac{3}{4}\right)^5 \rightarrow \frac{243}{1024}$

92 Calcula:

$$7,28^5$$

Solución:

Exercicio 92
precisión(15) $\rightarrow 5$
 $7,28^5 \rightarrow 20448,2853306368$

93 Calcula:

$$\sqrt{12\,607,25}$$

Solución:

Exercicio 93
 $\sqrt{12607,25} \rightarrow 112,28$

94 Calcula: $\sqrt[3]{86^5}$

Solución:

Exercicio 94
 $\sqrt[3]{86^5} \rightarrow 24,087$

95 Suma e resta os seguintes radicaís:

$$4\sqrt{50} - 7\sqrt{8} + 5\sqrt{18}$$

Solución:

a) Escribe: $4\sqrt{50} - 7\sqrt{8} + 5\sqrt{18}$

b) Fai clic en **Calcular**
 $21\sqrt{2}$

96 Calcula:

$$1,5^7 (\sqrt{83} - \sqrt[3]{678})$$

Solución:

a) Escribe: $1,5^7 (\sqrt{83} - \sqrt[3]{678})$

b) Fai clic en **Calcular**
92,726

Enuncia o seguinte problema e resólveo coa axuda de Wiris:

97 Temos un depósito de gasóleo para a calefacción, con forma de cubo cuxa aresta mide 2,25 m. Se o litro de gasóleo de calefacción custa 0,65 € o litro, calcula o que custa encher o depósito.

Solución:

Formulación: $2,25^3 \cdot 1\,000 \cdot 0,65$

a) Escribe: $2,25^3 \cdot 1\,000 \cdot 0,65$

b) Fai clic en **Calcular**
7403,9

Custa 7 043,9 €

98 **Internet.** Abre a páxina web: www.xerais.es e elixe **Matemáticas**, **curso** e **tema**.

Así funciona

Escritura de comentarios ou textos

Elíxese na barra de menús a opción **Edición** e a ferramenta **Comentar**

Partes da ventá de Wiris

Na parte superior está a barra de menús. A segunda barra contén as iconas das ferramentas do menú seleccionado.

Na parte inferior temos ligazóns a:

Documentación: contén unha **Guía rápida** e un **índice alfabético**

Primaria: é un **Wiris** reducido para uso en **Educación Primaria**. O tal enlace cámbiase polo de **Secundaria**.

Colección: é un conxunto de actividades.

Signo de multiplicar

O signo de **multiplicar** é un dos dous símbolos seguintes: o \cdot que está na parte superior do número 3; obtense mantendo pulsada a tecla [⇧] **Maiúsculas** e pulsando o número 3; o $*$ que se obtén premendo o signo de multiplicar do teclado; ou deixar un espazo en branco. Se o número multiplica a unha paréntese, non é necesario deixar o espazo en branco, $3(5 + 6)$

Ferramentas do menú Operacións utilizadas

Na barra de menús elíxese **Operacións** e selecciónase:

Parénteses

Fracción

Potencia

Raíz cadrada

Raíz

Practica

99 Calcula as seguintes potencias:

a) $(2/3)^6$ b) $(-2/3)^7$

100 Calcula as seguintes potencias:

a) 2^{64} b) $239,72^5$

101 Calcula:

a) $\sqrt{3}$ b) $\sqrt{256,256}$

102 Calcula:

a) $\sqrt[3]{4913}$ b) $\sqrt[5]{845,23}$

103 Suma os radicais:

a) $7\sqrt{50} - 2\sqrt{8} + 5\sqrt{162}$
b) $9\sqrt{147} - 5\sqrt{75} + 3\sqrt{12}$

104 Calcula e logo redondea mentalmente a dous decimais:

a) $\sqrt{473,5 + 75,47}$
b) $\sqrt{473,5} + \sqrt{75,47}$
c) $\sqrt[3]{45,5^2 - 7,25^3} + 5,2^7$
d) $(73,5^3 - 55,35)^2 \cdot \sqrt[3]{3760}$

Escribe as expresións numéricas correspondentes aos seguintes enunciados e busca o resultado:

105 O número 23,45 elevado ao cadrado, menos a raíz cadrada de 825,83

106 O número 1,5 elevado á quinta, menos a raíz cadrada de 1,83, máis a raíz cúbica de 2,5

Enuncia os seguintes problemas e resólveos coa axuda de Wiris:

107 Queremos vender os chopos dun terreo que ten 54 filas e 54 columnas, ao prezo de 54 € cada chopo. Expresa en forma de potencia o valor dos chopos e calcula o resultado.

108 Calcula a aresta dun depósito de forma cúbica que custou enchelo de leite 3 215,625 €, se o litro de leite se pagou a 0,6 €

109 Calcula o número de bytes que caben nun CD-ROM de 650 Mb, sabendo que:

$$1 \text{ Kb} = 2^{10} \text{ bytes e } 1 \text{ Mb} = 2^{10} \text{ Kb}$$