

ACROSPORT 3º ESO

Figuras parellas

Tarefa martes 28 de abril

Mirade as seguintes imaxes:

RECORDAMOS QUE HAI OUTRA FICHA DE FIGURAS EN PARELLA NO MATERIAL DA AULA VIRTUAL DA SEMANA PASADA.

ACTIVIDADES:






1. Tedes que facer unha táboa con 9 fotos de diferentes equilibrios (poden ser os que vedes nestas fichas ou outros), e enviála ao meu correo, marta.cruz.anhon@gmail.com
2. Tedes dúas opcións para facer as posturas: cun familiar (irmáns, ou pais colaboradores) ou **ACROSPORT VIRTUAL** (como os exemplos da profe que aparecen na táboa de arriba como exemplo).

3. HOXE UNHAS PREGUNTAS DE INVESTIGACIÓN

A) Busca por que nos podemos referir ao acrosport como o “**deporte das tres ces**”

B) Cales son **as capacidades físicas e/ou calidades motrices máis traballadas** ao realizar ACROSPORT?

4. SEGUIMOS CORREXINDO ERROS (para que non os cometas ti). **Analiza** as seguintes fotos, EXPLICANDO se hai ERROS OU NON na execución das figuras **e xustifica** a túa resposta (mira polos apuntes).

FIGURA 1		
FIGURA 2		
FIGURA A 3		
FIGURA 4		
FIGURA 5		

PREGUNTA 3. A)

PLAZO DE ENTREGA: MARTES-XOVES **12-14 DE MAIO**