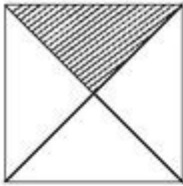
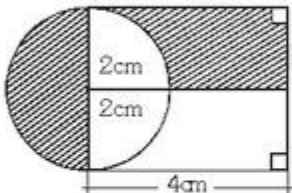


PRACTIQUEMOS EN CASA

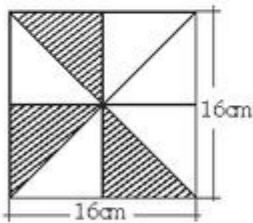
1. ¿Qué tanto por ciento del área del cuadrado es el área de la parte sombreada?



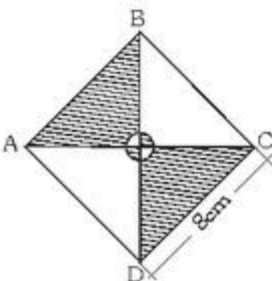
2. El área de la parte sombreada mide :



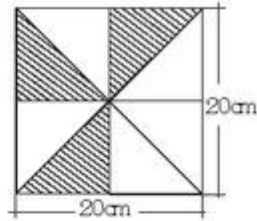
3. Hallar la parte sombreada :



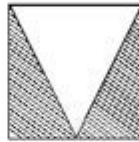
4. Hallar el área de la región sombreada, si ABCD es un cuadrado



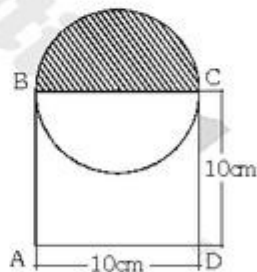
5. Hallar el área de la región sombreada.



6. Si el área del cuadrado mide 64cm^2 , el área de la parte sombreada mide :



7. Hallar el área de la región sombreada; si ABCD es un cuadrado



8. Hallar el área de la región sombreada :

