

Unidad 7 Figuras planas

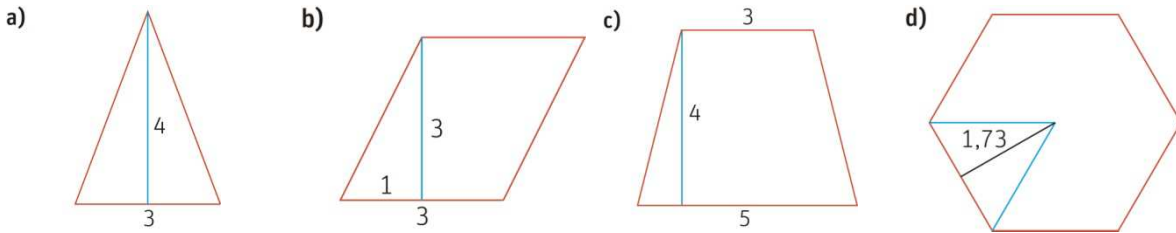
FICHA DE

CONSOLIDACIÓN

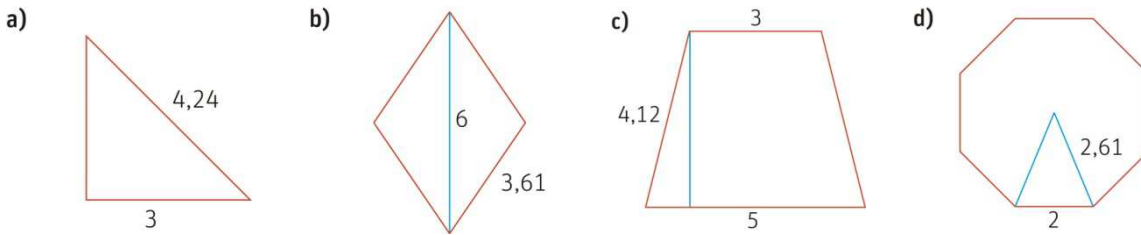


Longitudes y áreas

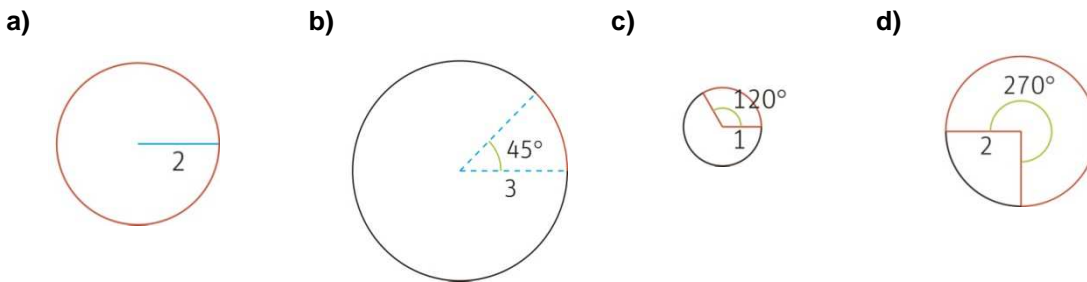
1.- Calcula las áreas y los perímetros de las siguientes figuras. Las medidas están en centímetros.



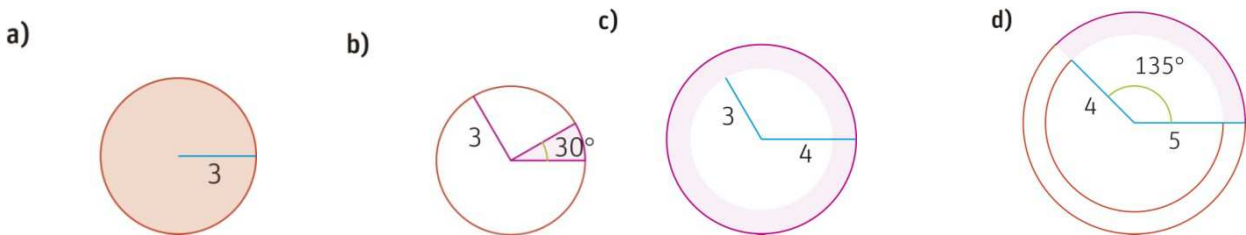
2.- Calcula las áreas y perímetro de las siguientes figuras. Las medidas están en metros.



3.- Calcula las longitudes marcadas en rojo. Las medidas están en decímetros.



4.- Calcula las áreas sombreadas en las siguientes figuras. Las medidas están en decímetros.



5.- Calcula el área y el perímetro de un triángulo rectángulo que tiene una hipotenusa de 13 cm, y un cateto, de 12 cm.

6.- La diagonal menor de un rombo mide 8 m y su área es 48 m² Calcula su perímetro.

7.- Calcula el área de las figuras sombreadas en verde. Las medidas están en metros.

