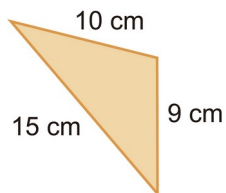


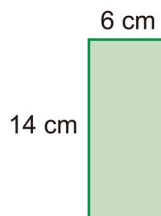
## Tareas para el día 16: 15 de abril de 2020

1. Calcula el perímetro de las siguientes figuras.

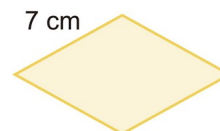
a)



b)



c)



**Soluciones:** a) 34 cm b) 40 cm. c) 28cm..

2. Calcula el área de las siguientes figuras.

a) Un cuadrado de 8 metros de lado.

b) Un rectángulo de 12 centímetros de base y 5 centímetros de altura.

c) Un triángulo de 18 centímetros de base y 10 cm de altura.

d) Un círculo de 6 centímetros de radio.

**Soluciones:** a) 64 cm<sup>2</sup>. b) 60 cm<sup>2</sup>. c) 90 cm<sup>2</sup>. d) 113,04 cm<sup>2</sup>.

3. Rellena la siguiente tabla, en la que aparecen las dimensiones de distintos triángulos.

<b>Base</b>	16 cm	18 cm	22 cm		8 m
<b>Altura</b>	12 cm	15 cm		6 m	
<b>Área</b>			55 cm <sup>2</sup>	21 m <sup>2</sup>	8 m <sup>2</sup>

**Soluciones:**

<b>Base</b>	16 cm	18 cm	22 cm	<b>7m</b>	8 m
<b>Altura</b>	12 cm	15 cm	<b>5 cm</b>	6 m	<b>2 m</b>
<b>Área</b>	<b>96 cm<sup>2</sup>.</b>	<b>135 cm<sup>2</sup>.</b>	55 cm <sup>2</sup>	21 m <sup>2</sup>	8 m <sup>2</sup>