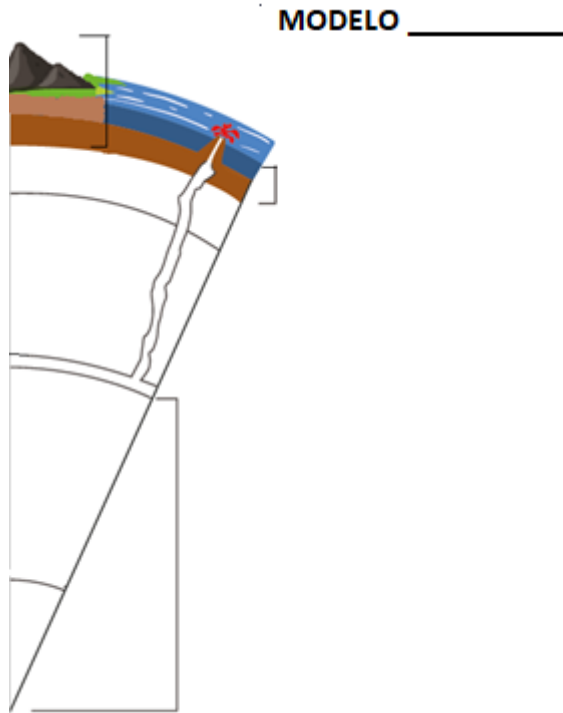


1. (3'5 puntos)

a) **Completa** o seguinte modelo coas **capas da xeosfera**. Escribe o seu **nome, características e estado dos materiais** que as forman.



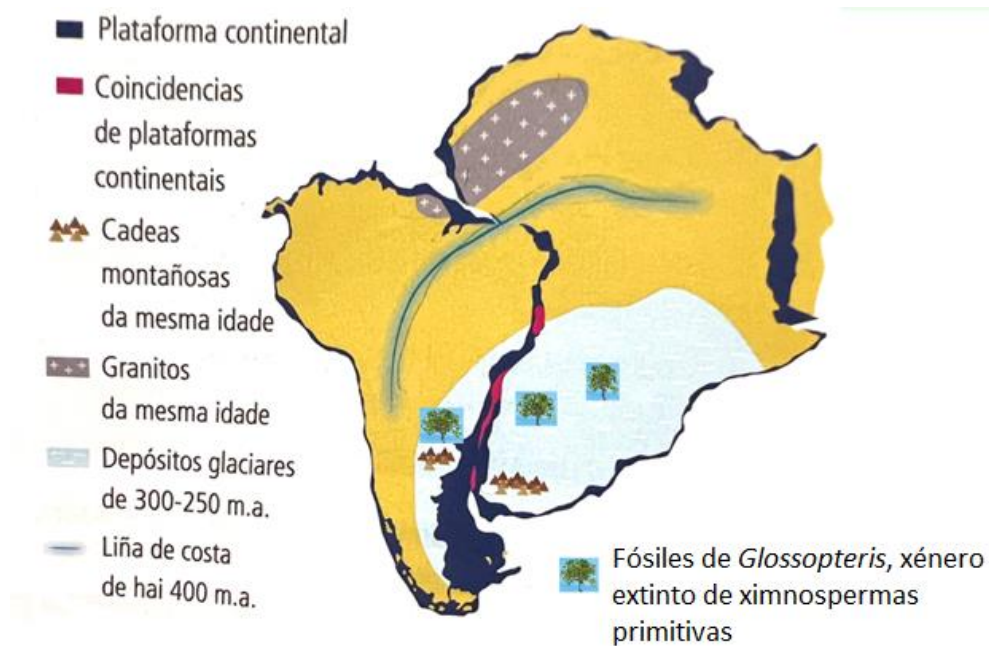
b) **Sitúa** as correntes de convección no modelo, **defíneas** e **explica brevemente** os **efectos** que producen.

2. **Relaciona** as seguintes estruturas co seu correspondente límite de placas (**1 punto**):

ESTRUTURA	LÍMITE DE PLACAS
Rift	
Fosa oceánica	
Arco insular	
Cunca marxinal	

3. (2'5 puntos).

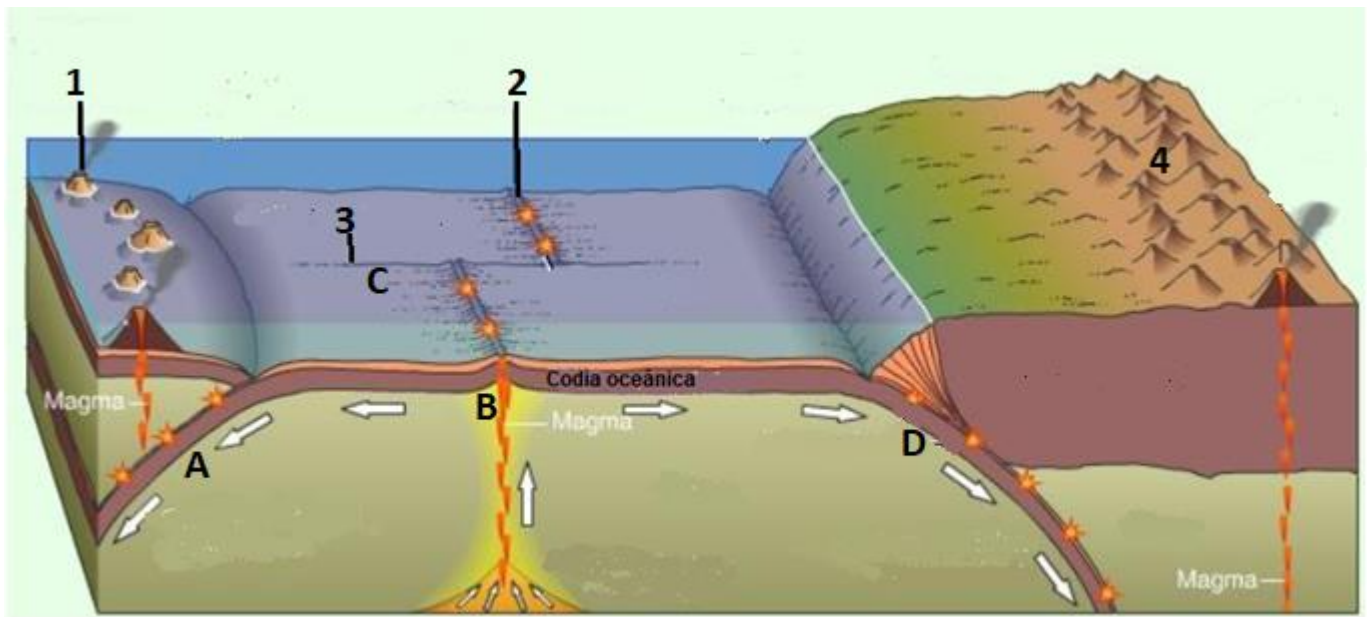
a) Que **probas da deriva continental** podes observar nesta imaxe?
Explica en que consisten.



b) **Quen** enunciou a teoría da deriva continental?

c) **Que foi** o que este científico **non foi capaz de explicar** na súa teoría?

4. Observa a seguinte imaxe de diversos procesos xeolóxicos relacionados coa tectónica de placas. (3 puntos)



a) **Nomea** os **tipos de límites de placas** que aparecen sinalados con letras.

A:

B:

C:

D:

b) **Identifica** os elementos marcados con números. **Explica** como se orixinan.

1:

2:

3:

4: