



CPR PLURILINGÜE SAGRADO CORAZÓN PLACERES
 Rúa da Praia nº 8, Lourizán- Pontevedra 36910
 E-mail: cpr.sagradocorazon.lourizan@edu.xunta.es
 Telf: 986 88 13 49
 NIF: R36001321

placeres.redsagradocorazon.es
 ColegioSagradoPlaceres
 @sagradoplaceres



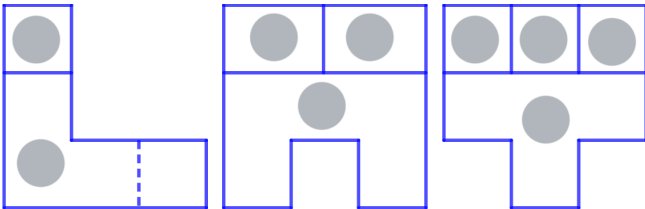
Blog de tecnología
Pelandintecno

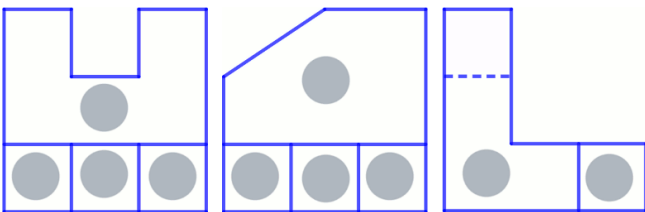
<http://www.pelandintecno.blogspot.com>

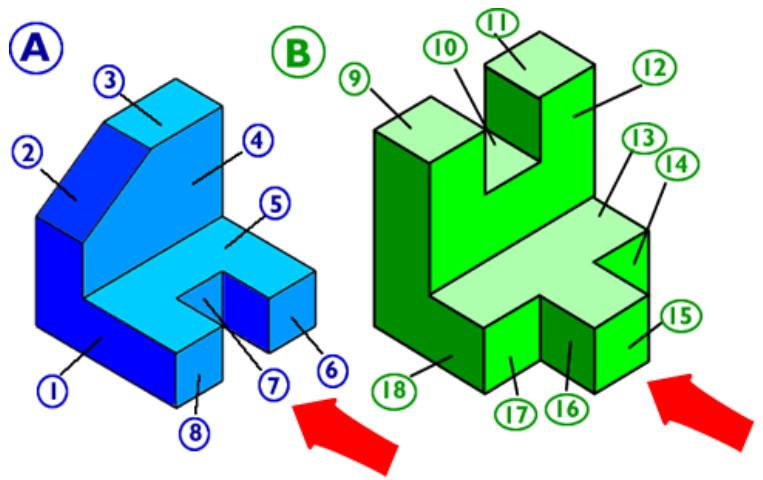


NOMBRE		APELLIDOS	CURSO
--------	--	-----------	-------

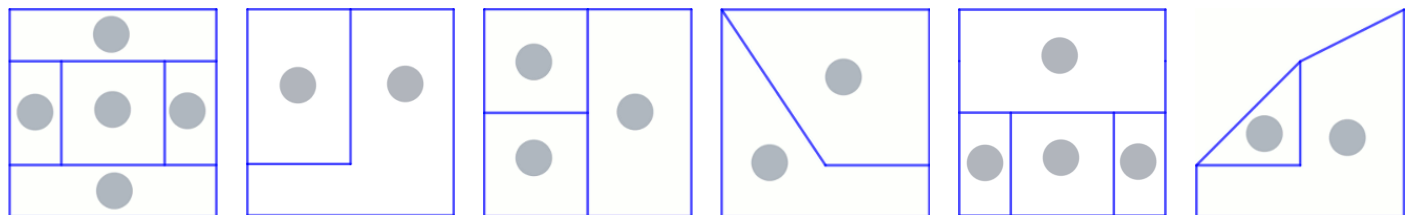
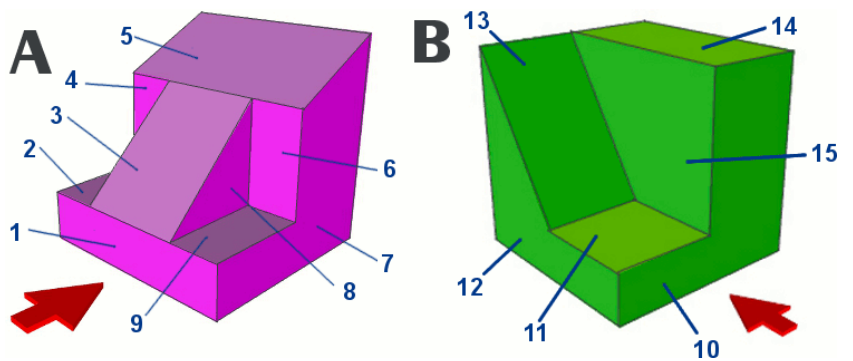
1 A continuación se muestran las vistas de las figuras A y B. Indica, para cada vista, a qué figura corresponde y si se trata de la planta, el alzado o el perfil. (la flecha indica la dirección y sentido del alzado). Además, en los círculos grises de las vistas, indica a qué cara de las figuras se corresponden.



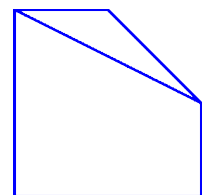
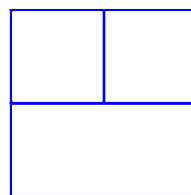



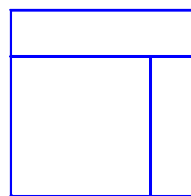
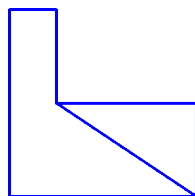
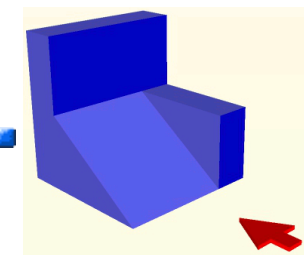
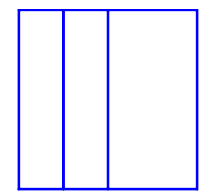
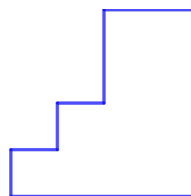

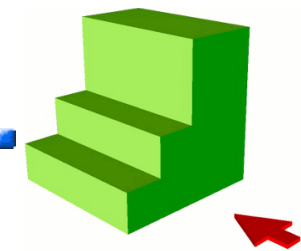

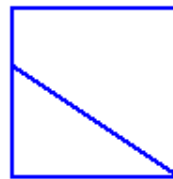
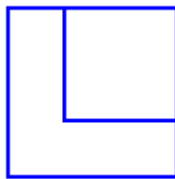
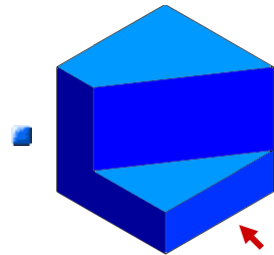
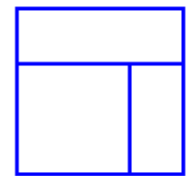
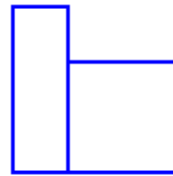
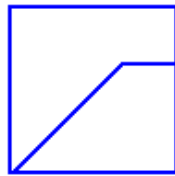
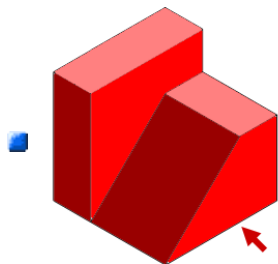
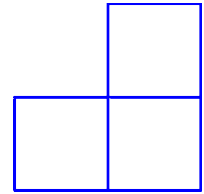
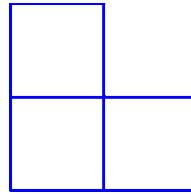
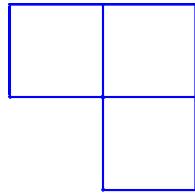
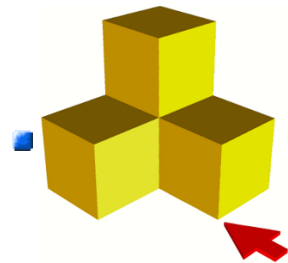


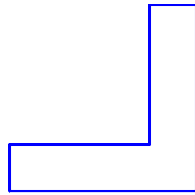
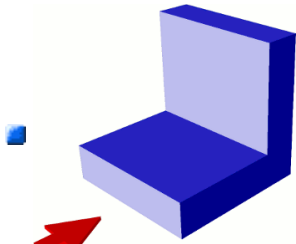


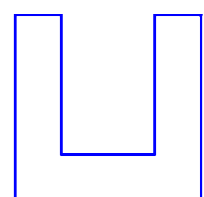
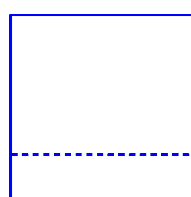

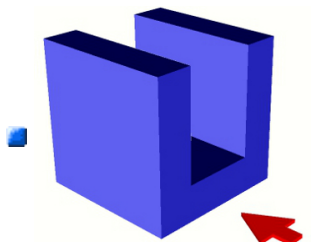
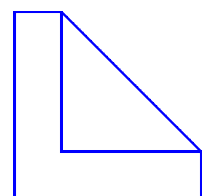
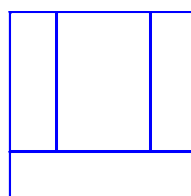
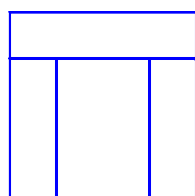
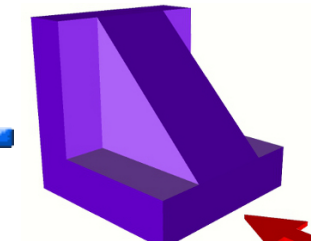
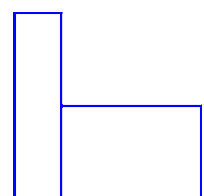
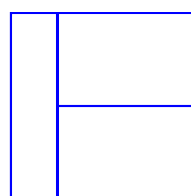
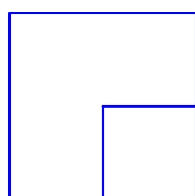
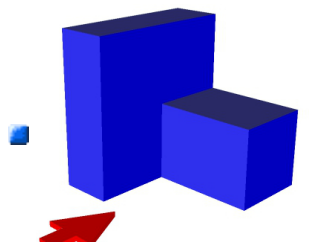

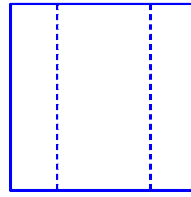
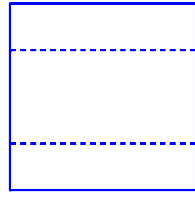

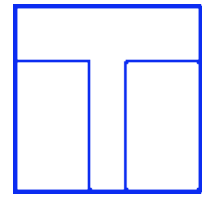
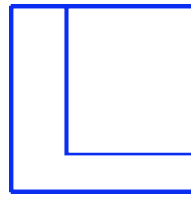
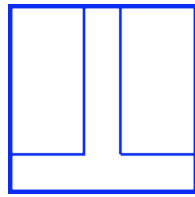
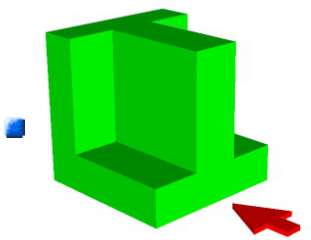
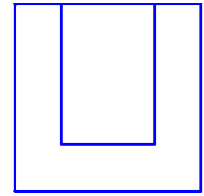
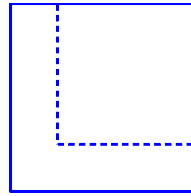
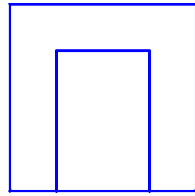
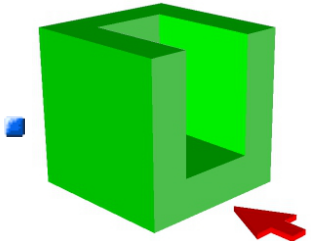
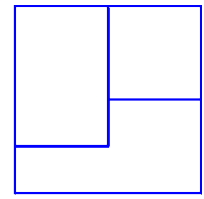
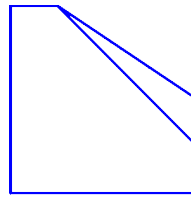
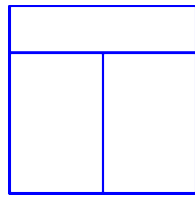
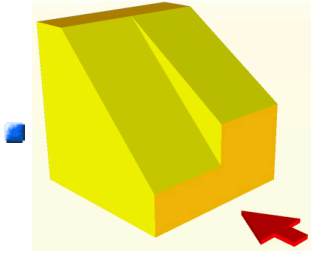


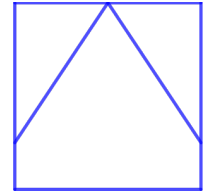
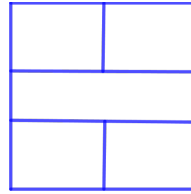
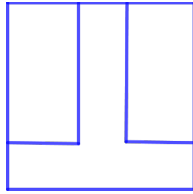
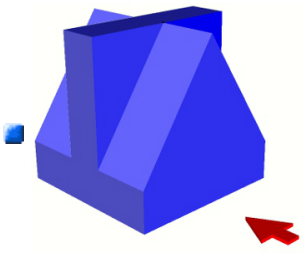
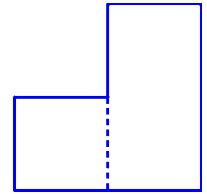
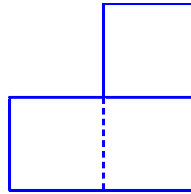
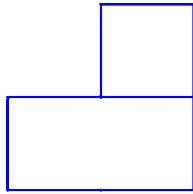
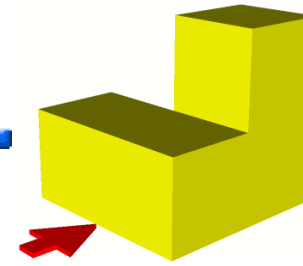
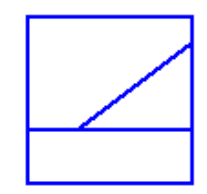
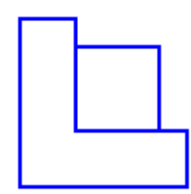
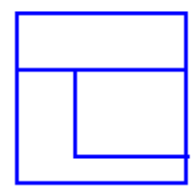
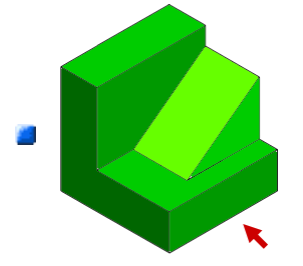
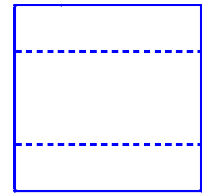
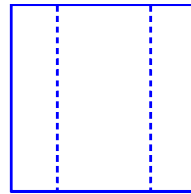

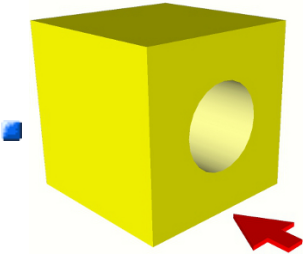
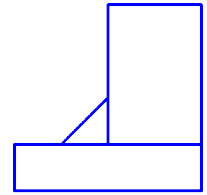
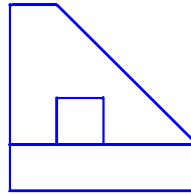
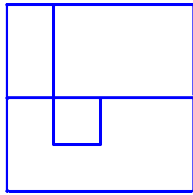
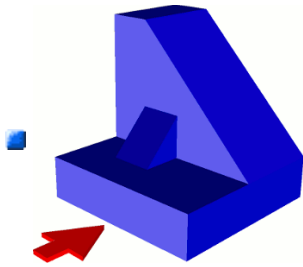

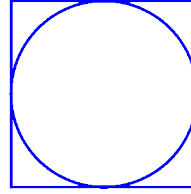

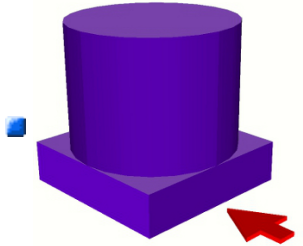
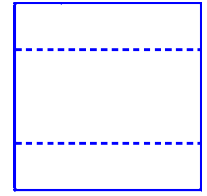
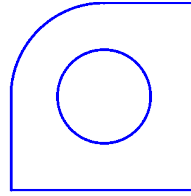
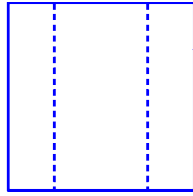
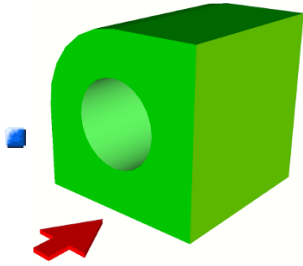
2 A continuación se muestran las vistas de las figuras A y B. Indica, para cada vista, a qué figura corresponde y si se trata de la planta, el alzado o el perfil. (la flecha indica la dirección y sentido del alzado). Además, en los círculos grises de las vistas, indica a qué cara de las figuras se corresponden.



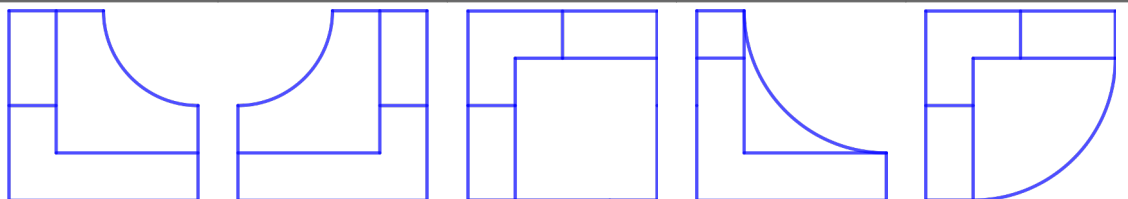
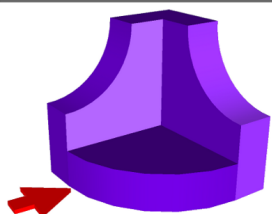
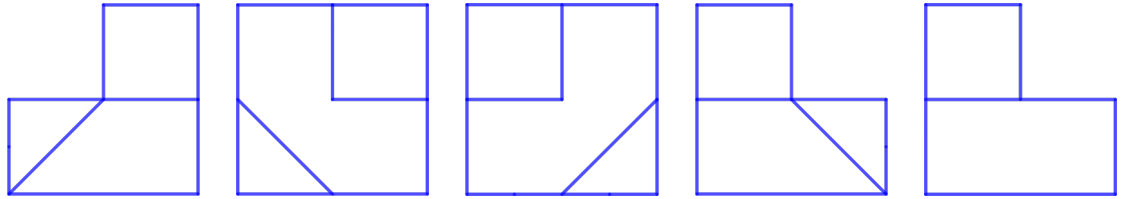
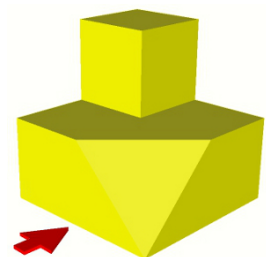

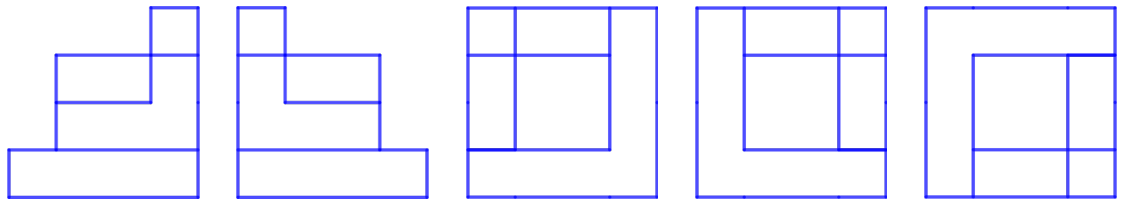
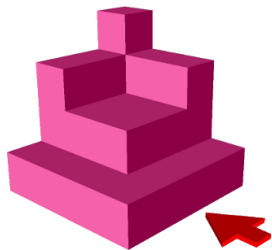
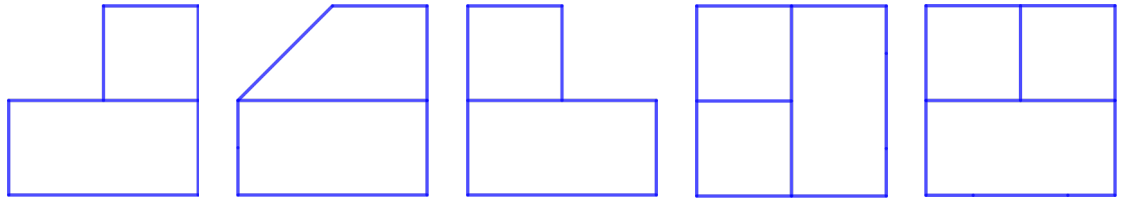
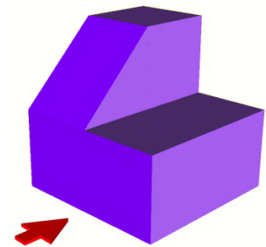
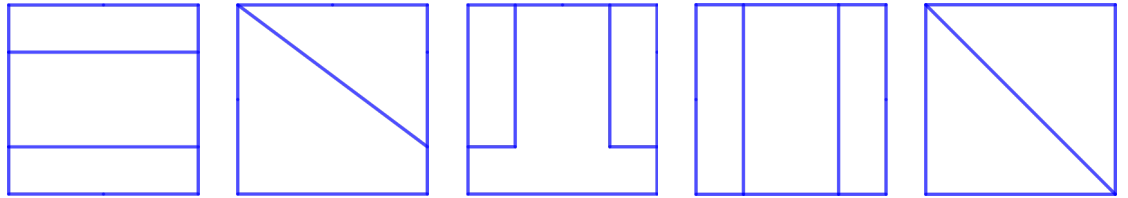


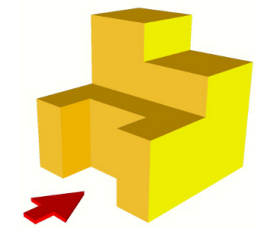
3 Para cada uno de los objetos, indica a qué vista (planta, alzado o perfil) se corresponde cada una de las vistas mostradas. Ten en cuenta que la flecha indica la dirección del alzado:







4 Selecciona en cada apartado las vistas que representan el alzado (A), la planta (P) y el perfil (Pe) de la figura mostrada.



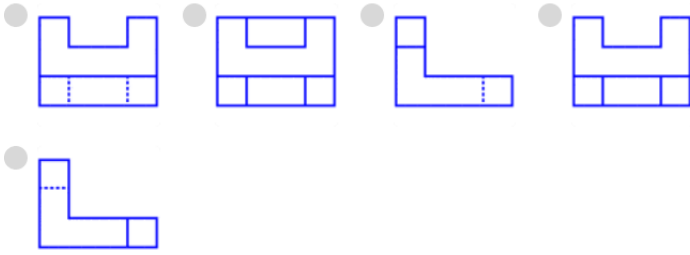
5 Selecciona la(s) respuesta(s) correcta(s) (marcando con una X) a cada una de las siguientes preguntas.

<p> Q. ¿Cuál de las siguientes vistas NO se corresponde con las de la figura mostrada?</p> <p>— opciones de respuesta</p> <p><input type="radio"/>  <input type="radio"/>  <input type="radio"/>  <input type="radio"/> </p>	<p> Q. ¿Cuál de las siguientes vistas NO se corresponde con las de la figura mostrada?</p> <p>— opciones de respuesta</p> <p><input type="radio"/>  <input type="radio"/>  <input type="radio"/>  <input type="radio"/> </p>
<p> Q. ¿Cuál de las siguientes vistas NO se corresponde con las de la figura mostrada?</p> <p>— opciones de respuesta</p> <p><input type="radio"/>  <input type="radio"/>  <input type="radio"/>  <input type="radio"/> </p>	<p> Q. ¿Cuál de las siguientes vistas se corresponde con el PERFIL de la figura mostrada?</p> <p>— opciones de respuesta</p> <p><input type="radio"/>  <input type="radio"/>  <input type="radio"/>  <input type="radio"/> </p>
<p> Q. ¿Cuál de las siguientes vistas se corresponde con el PLANTA de la figura mostrada?</p> <p>— opciones de respuesta</p> <p><input type="radio"/>  <input type="radio"/>  <input type="radio"/>  <input type="radio"/> </p>	<p> Q. Descarta la vista que NO se corresponde con la figura mostrada</p> <p>— opciones de respuesta</p> <p><input type="radio"/>  <input type="radio"/>  <input type="radio"/>  <input type="radio"/> </p>
<p> Q. ¿Cuáles de las siguientes vistas NO se corresponden con las de la figura mostrada?</p> <p>— opciones de respuesta</p> <p><input type="radio"/>  <input type="radio"/>  <input type="radio"/>  <input type="radio"/> </p> <p><input type="radio"/>  <input type="radio"/> </p>	<p> Q. ¿Cuál de las siguientes vistas se corresponde con la PLANTA de la figura mostrada?</p> <p>— opciones de respuesta</p> <p><input type="radio"/>  <input type="radio"/>  <input type="radio"/>  <input type="radio"/> </p> <p><input type="radio"/> </p>
<p> Q. ¿Cuáles de las siguientes vistas NO se corresponde con las de la figura mostrada?</p> <p>— opciones de respuesta</p> <p><input type="radio"/>  <input type="radio"/>  <input type="radio"/>  <input type="radio"/> </p> <p><input type="radio"/> </p>	<p> Q. Selecciona las dos vistas que no se corresponden con las de la figura mostrada</p> <p>— opciones de respuesta</p> <p><input type="radio"/>  <input type="radio"/>  <input type="radio"/>  <input type="radio"/> </p> <p><input type="radio"/> </p>



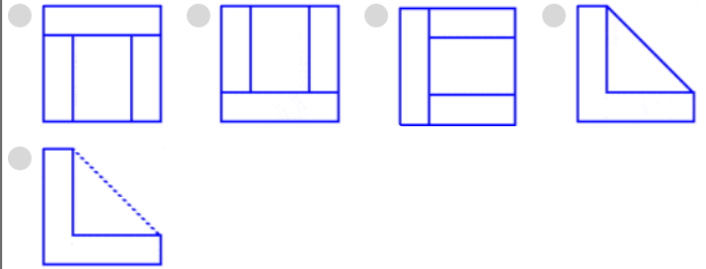
Q. Selecciona las 2 vistas que se corresponden con alguna de las de la figura mostrada

— opciones de respuesta



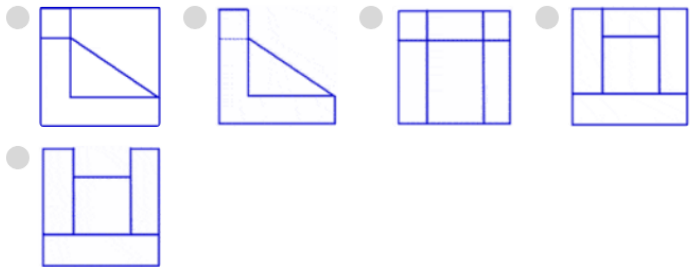
Q. Selecciona las 3 vistas principales de la figura mostrada

— opciones de respuesta



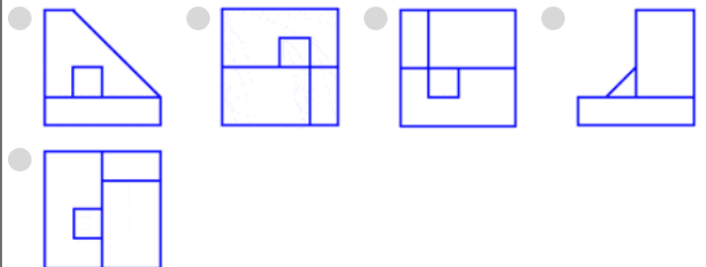
Q. Selecciona las dos vistas que **NO** se corresponden con las de la figura mostrada

— opciones de respuesta



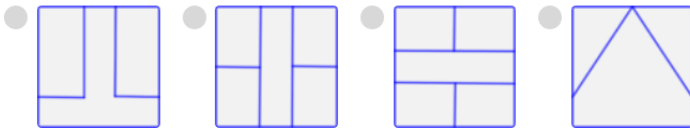
Q. Selecciona las dos vistas que **NO** se corresponden con las de la figura mostrada

— opciones de respuesta



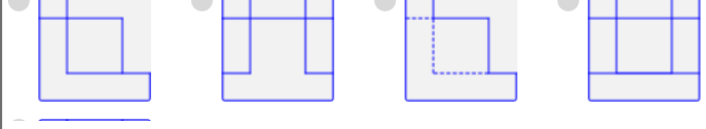
Q. Selecciona la vista que representa la **PLANTA** de la figura mostrada

— opciones de respuesta



Q. ¿Cuál de las siguientes vistas se corresponde con el **ALZADO** de la figura mostrada?

— opciones de respuesta



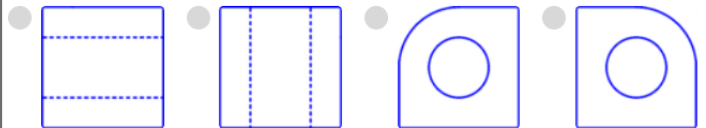
Q. ¿Cuál de las vistas mostradas se corresponde con la **PLANTA** de la figura?

— opciones de respuesta




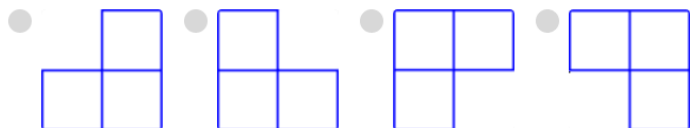
Q. Selecciona la vista correspondiente a la **PLANTA** de la figura mostrada.

— opciones de respuesta



Q. Selecciona la vista que se corresponde con la **PLANTA** de la figura mostrada

— opciones de respuesta



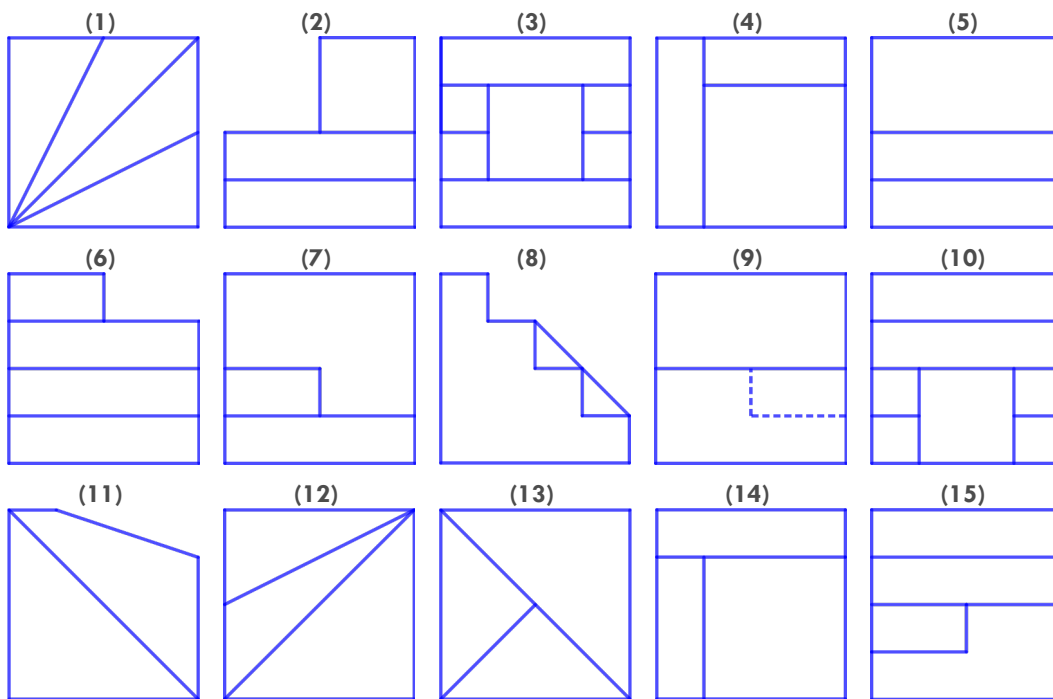
Q. Selecciona la vistas que **NO** se corresponde con la figura mostrada

— opciones de respuesta



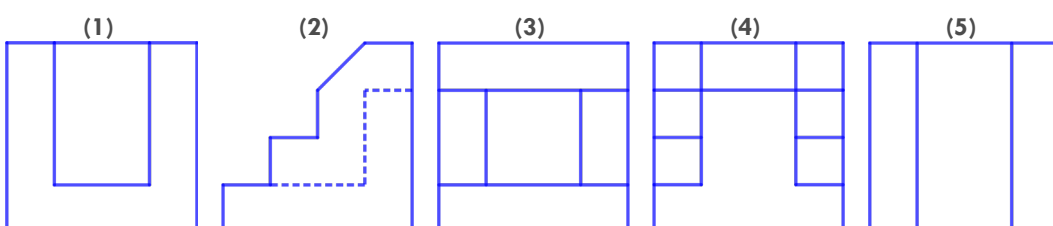
6 Cubre la siguiente tabla con los números de las vistas correspondientes a las piezas que se muestran (ten en cuenta que la flecha indica la dirección del alzado):

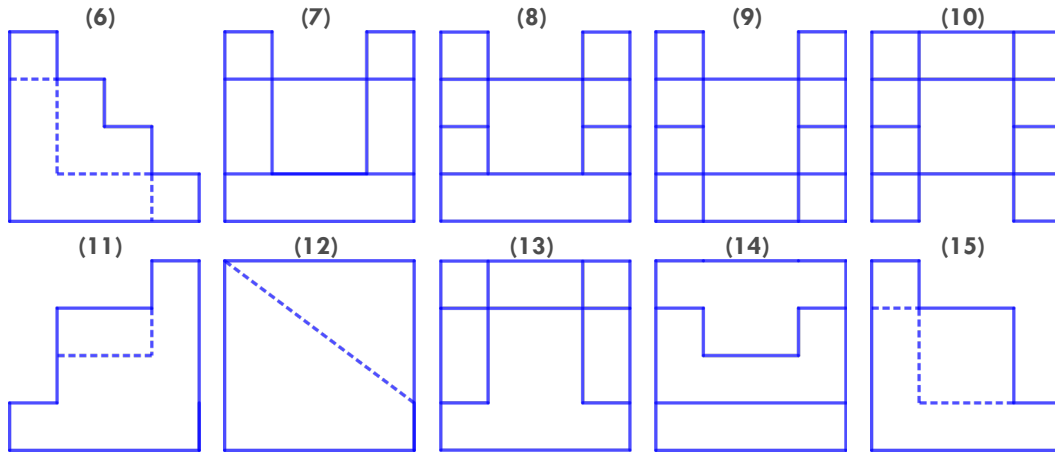
ALZADO					
PLANTA					
PERFIL					



7 Cubre la siguiente tabla con los números de las vistas correspondientes a las piezas que se muestran (ten en cuenta que la flecha indica la dirección del alzado):

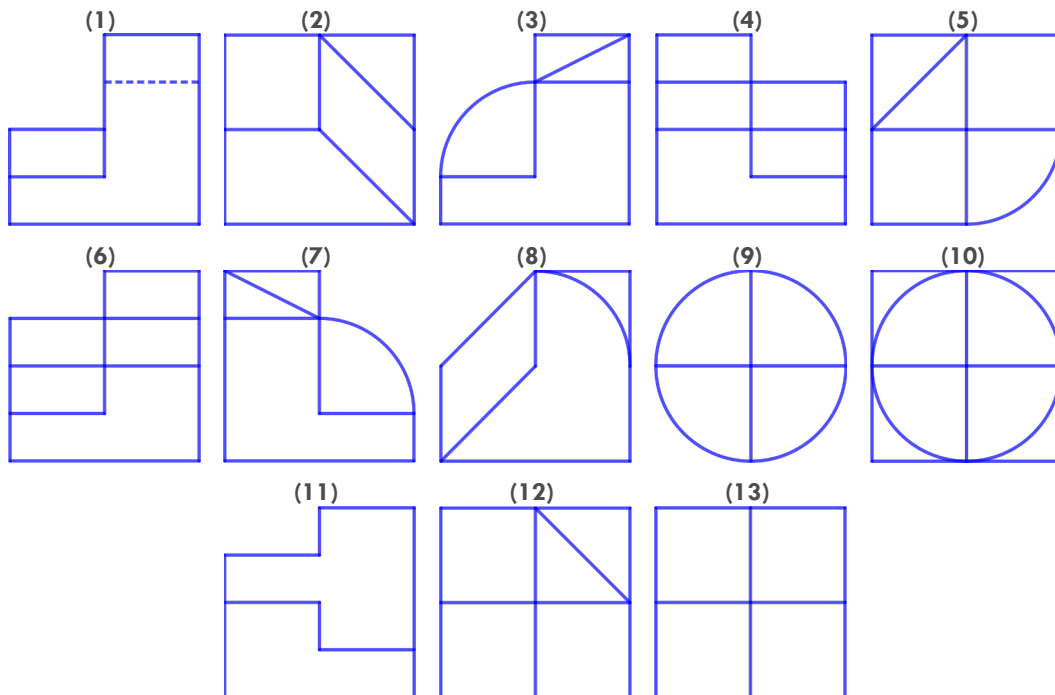
ALZADO					
PLANTA					
PERFIL					





8 Cubre la siguiente tabla con los números de las vistas correspondientes a las piezas que se muestran (ten en cuenta que la flecha indica la dirección del alzado):

ALZADO					
PLANTA					
PERFIL					



Este obra cuyo autor es Pedro Landín ha sido publicada bajo una licencia de Creative Commons Reconocimiento-NoComercial-CompartirIgual 4.0 Internacional.