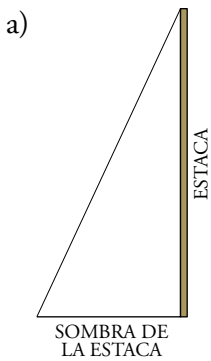


Página 143

Resuelve

1. a) **Razona que la estaca y su sombra forman un triángulo rectángulo. ¿Ocurre lo mismo con cada árbol y su sombra?**
- b) **¿Por qué se han de dar prisa en señalar los extremos de las sombras? Razona que todos los triángulos formados por un árbol, o la estaca, y sus correspondientes sombras en cada instante son semejantes.**
- c) **Sabiendo que hay un chopo cuya sombra midió 3,92 m, halla su altura.**



La estaca es vertical y el suelo es horizontal. La sombra se proyecta sobre el suelo. Por tanto, la estaca y su sombra son los catetos de un triángulo rectángulo.

Lo mismo ocurre con cada árbol y su sombra. (Los árboles hay que idealizarlos para considerarlos como segmentos verticales).

- b) Hay que señalar las sombras muy deprisa para que no les afecte el movimiento del Sol. Los triángulos formados por una estaca y su sombra y por un árbol y su sombra siempre serán semejantes porque siempre serán rectángulos y compartirán un ángulo agudo (el que corresponde a la inclinación de los rayos del Sol).

$$c) \begin{cases} \text{Longitud estaca} = 163 \text{ cm} \\ \text{Sombra de la estaca} = 76 \text{ cm} \end{cases} \quad \begin{cases} \text{Altura del chopo} = x \\ \text{Sombra del chopo} = 3,92 \text{ m} = 392 \text{ cm} \end{cases}$$

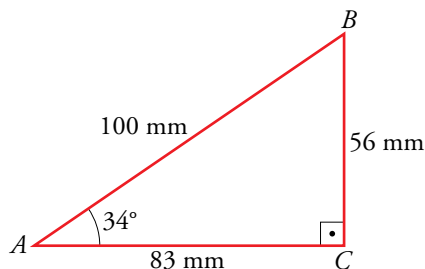
$$\frac{x}{392} = \frac{163}{76} \rightarrow x = 392 \cdot \frac{163}{76} \rightarrow x = 840,7 \text{ cm} = 8,407 \text{ m}$$

1 Razones trigonométricas de un ángulo agudo

Página 144

1. Dibuja sobre un ángulo como el anterior, 34° , un triángulo rectángulo de tal modo que $\overline{AB} = 100$ mm.

Halla sus razones trigonométricas y observa que obtienes, aproximadamente, los mismos valores que en el ejemplo de arriba.



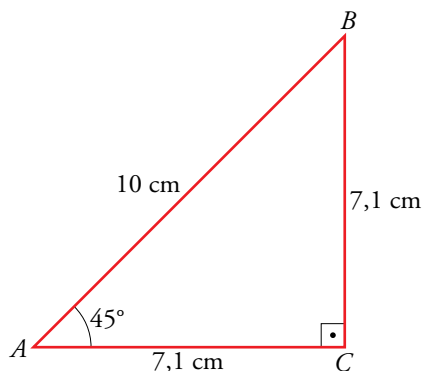
$$\text{sen } 34^\circ = \frac{\overline{BC}}{\overline{AB}} = \frac{56}{100} = 0,56$$

$$\text{cos } 34^\circ = \frac{\overline{AC}}{\overline{AB}} = \frac{83}{100} = 0,83$$

$$\text{tg } 34^\circ = \frac{\overline{BC}}{\overline{AC}} = \frac{56}{83} = 0,67$$

2. Dibuja, sobre un ángulo de 45° , un triángulo rectángulo cuya hipotenusa mida 10 cm.

Calcula, como en el ejemplo de arriba, las razones trigonométricas de 45° . ¿Cómo son entre sí el seno y el coseno? ¿Cuánto vale la tangente? Explica por qué.



$$\text{sen } 45^\circ = \frac{\overline{BC}}{\overline{AB}} = \frac{7,1}{10} = 0,71$$

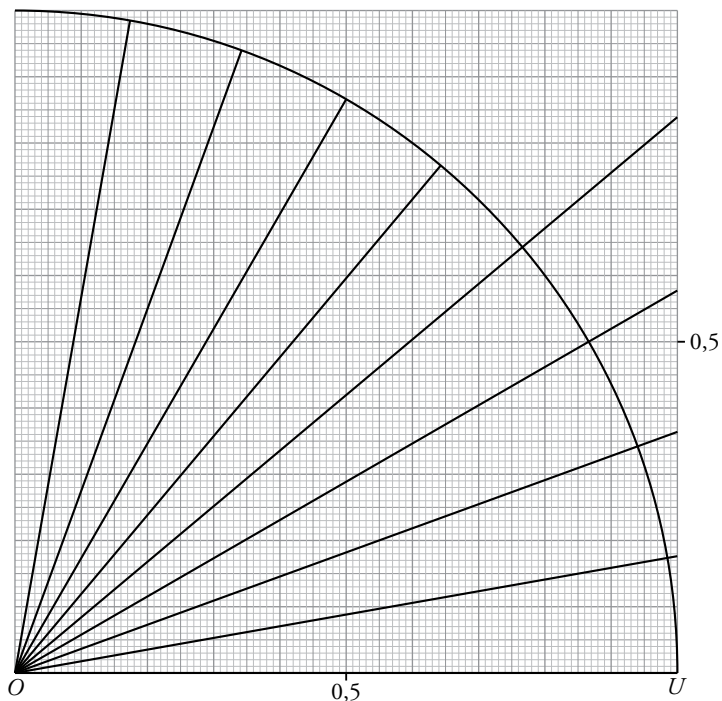
$$\text{cos } 45^\circ = \frac{\overline{AC}}{\overline{AB}} = \frac{7,1}{10} = 0,71$$

$$\text{tg } 45^\circ = \frac{\overline{BC}}{\overline{AC}} = \frac{7,1}{7,1} = 1$$

El triángulo además de rectángulo es isósceles y, por tanto, los dos catetos tienen la misma longitud, de ahí que el seno y el coseno de 45° sean iguales y la tangente valga 1.

Página 145

3. Utilizando una plantilla de papel milimetrado como la de arriba y un transportador de ángulos, calcula el seno y el coseno de 10° , 20° , 30° , 40° , 50° , 60° , 70° y 80° , y la tangente de aquellos que puedas.



$$\text{sen } 10^\circ = 0,18, \quad \text{cos } 10^\circ = 0,98, \quad \text{tg } 10^\circ = 0,18$$

$$\text{sen } 20^\circ = 0,34, \quad \text{cos } 20^\circ = 0,94, \quad \text{tg } 20^\circ = 0,37$$

$$\text{sen } 30^\circ = 0,5, \quad \text{cos } 30^\circ = 0,86, \quad \text{tg } 30^\circ = 0,58$$

$$\text{sen } 40^\circ = 0,64, \quad \text{cos } 40^\circ = 0,76, \quad \text{tg } 40^\circ = 0,84$$

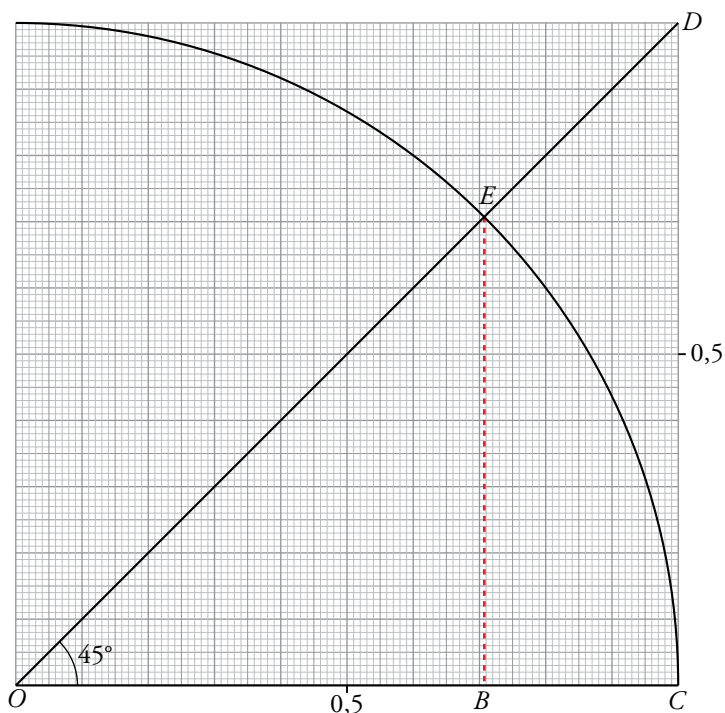
$$\text{sen } 50^\circ = 0,76, \quad \text{cos } 50^\circ = 0,64$$

$$\text{sen } 60^\circ = 0,86, \quad \text{cos } 60^\circ = 0,5$$

$$\text{sen } 70^\circ = 0,94, \quad \text{cos } 70^\circ = 0,34$$

$$\text{sen } 80^\circ = 0,98, \quad \text{cos } 80^\circ = 0,18$$

4. Calcula las razones trigonométricas, seno, coseno y tangente, de 45° y comprueba que coinciden (excepto decimales) con lo que calculaste en el ejercicio 2 de la página anterior.



$$\text{sen } 45^\circ = \frac{\overline{EB}}{1} \rightarrow \text{sen } 45^\circ = \overline{EB} \rightarrow \text{sen } 45^\circ = 0,71$$

$$\text{cos } 45^\circ = \frac{\overline{OB}}{1} \rightarrow \text{cos } 45^\circ = \overline{OB} \rightarrow \text{cos } 45^\circ = 0,71$$

$$\text{tg } 45^\circ = \frac{\overline{CD}}{\overline{OC}} = \frac{\overline{CD}}{1} = \overline{CD} \rightarrow \text{tg } 45^\circ = 1$$

2 Relaciones trigonométricas fundamentales

Página 146

1. $\text{sen } \alpha = 0,6$. Calcula $\text{cos } \alpha$ y $\text{tg } \alpha$.

$$\begin{aligned} \bullet \text{sen}^2 \alpha + \text{cos}^2 \alpha = 1 &\rightarrow 0,6^2 + \text{cos}^2 \alpha = 1 \rightarrow \text{cos}^2 \alpha = 1 - 0,6^2 \rightarrow \\ &\rightarrow \text{cos}^2 \alpha = 0,64 \xrightarrow{\text{tomamos la raíz positiva}} \text{cos } \alpha = 0,8 \end{aligned}$$

$$\bullet \text{tg } \alpha = \frac{\text{sen } \alpha}{\text{cos } \alpha} \rightarrow \text{tg } \alpha = \frac{0,6}{0,8} \rightarrow \text{tg } \alpha = 0,75$$

Por tanto, $\text{cos } \alpha = 0,8$ y $\text{tg } \alpha = 0,75$.

2. $\text{tg } \beta = 0,53$. Calcula $\text{sen } \beta$ y $\text{cos } \beta$.

$$\bullet \left. \begin{array}{l} \frac{\text{sen } \beta}{\text{cos } \beta} = 0,53 \\ \text{sen}^2 \beta + \text{cos}^2 \beta = 1 \end{array} \right\} \rightarrow \text{sen } \beta = 0,53 \text{cos } \beta$$

$$(0,53 \text{cos } \beta)^2 + \text{cos}^2 \beta = 1 \rightarrow 0,2809 \text{cos}^2 \beta + \text{cos}^2 \beta = 1 \rightarrow 1,2809 \text{cos}^2 \beta = 1 \rightarrow$$

$$\rightarrow \text{cos}^2 \beta = \frac{1}{1,2809} \xrightarrow{\text{tomamos la raíz positiva}} \text{cos } \beta = 0,88$$

$$\bullet \text{sen } \beta = 0,53 \text{cos } \beta \rightarrow \text{sen } \beta = 0,47$$

Por tanto, $\text{sen } \beta = 0,47$ y $\text{cos } \beta = 0,88$.

Página 147

- 3. Teniendo en cuenta que $tg\ 45^\circ = 1$, deduce el valor de $sen\ 45^\circ$ y de $cos\ 45^\circ$ mediante las relaciones fundamentales.**

$$\frac{sen\ 45^\circ}{cos\ 45^\circ} = 1; \quad sen\ 45^\circ = cos\ 45^\circ$$

$$(sen\ 45^\circ)^2 + (cos\ 45^\circ)^2 = 1$$

$$(cos\ 45^\circ)^2 + (cos\ 45^\circ)^2 = 1 \rightarrow cos\ 45^\circ = \pm\sqrt{\frac{1}{2}} = \pm\frac{\sqrt{2}}{2}$$

$$\text{Solo tomamos el resultado positivo: } cos\ 45^\circ = \frac{\sqrt{2}}{2} \rightarrow sen\ 45^\circ = \frac{\sqrt{2}}{2}$$

- 4. Teniendo en cuenta que $sen\ 30^\circ = 1/2$, halla el valor de $cos\ 30^\circ$ y de $tg\ 30^\circ$ mediante las relaciones fundamentales.**

$$sen\ 30^\circ = \frac{1}{2}$$

$$(sen\ 30^\circ)^2 + (cos\ 30^\circ)^2 = 1 \rightarrow \frac{1}{4} + (cos\ 30^\circ)^2 = 1 \rightarrow cos\ 30^\circ = \pm\frac{\sqrt{3}}{2}$$

$$\text{Tomamos el resultado positivo: } cos\ 30^\circ = \frac{\sqrt{3}}{2}$$

$$tg\ 30^\circ = \frac{1/2}{\sqrt{3}/2} = \frac{1}{\sqrt{3}} = \frac{\sqrt{3}}{3}$$

- 5. Calcula el seno y la tangente de un ángulo cuyo coseno vale 0,8.**

$$cos\ \alpha = 0,8$$

$$(sen\ \alpha)^2 + (cos\ \alpha)^2 = 1 \rightarrow (0,8)^2 + (sen\ \alpha)^2 = 1 \rightarrow sen\ \alpha = \pm 0,6$$

$$\text{Tomamos solo el valor positivo: } sen\ \alpha = 0,6$$

$$tg\ \alpha = \frac{0,6}{0,8} = 0,75$$

- 6. Halla el seno y el coseno de un ángulo cuya tangente vale 0,7.**

$$tg\ \alpha = \frac{sen\ \alpha}{cos\ \alpha} = 0,7; \quad sen\ \alpha = 0,7 \cdot cos\ \alpha$$

$$(sen\ \alpha)^2 + (cos\ \alpha)^2 = 1$$

$$(0,7\ cos\ \alpha)^2 + (cos\ \alpha)^2 = 1 \rightarrow 1,49(cos\ \alpha)^2 = 1 \rightarrow cos\ \alpha = \pm 0,82$$

$$\text{Solo tomamos el valor positivo: } cos\ \alpha = 0,82$$

$$sen\ \alpha = 0,7 \cdot 0,82 \rightarrow sen\ \alpha = 0,57$$

7. Copia en tu cuaderno y completa la siguiente tabla de razones trigonométricas:

$\text{sen } \alpha$	0,94		4/5			
$\text{cos } \alpha$		0,82			$\sqrt{3}/2$	
$\text{tg } \alpha$				3,5		1

En las operaciones donde aparezcan fracciones o radicales, trabaja con ellos; no utilices su expresión decimal.

En todos los casos, solo tomaremos los resultados positivos.

• $\text{sen } \alpha = 0,94$

$$(\text{cos } \alpha)^2 + (0,94)^2 = 1 \rightarrow \text{cos } \alpha = 0,34$$

$$\text{tg } \alpha = \frac{0,94}{0,34} = 2,76$$

• $\text{sen } \alpha = \frac{4}{5}$

$$\left(\frac{4}{5}\right)^2 + (\text{cos } \alpha)^2 = 1 \rightarrow \text{cos } \alpha = \frac{3}{5}$$

$$\text{tg } \alpha = \frac{4/5}{3/5} = \frac{4}{3}$$

• $\text{cos } \alpha = \frac{\sqrt{3}}{2}$

$$(\text{sen } \alpha)^2 + \left(\frac{\sqrt{3}}{2}\right)^2 = 1 \rightarrow \text{sen } \alpha = \frac{1}{2}$$

$$\text{tg } \alpha = \frac{1/2}{\sqrt{3}/2} = \frac{1}{\sqrt{3}} = \frac{\sqrt{3}}{3}$$

• $\text{cos } \alpha = 0,82$

$$(\text{sen } \alpha)^2 + (0,82)^2 = 1 \rightarrow \text{sen } \alpha = 0,57$$

$$\text{tg } \alpha = \frac{0,57}{0,82} = 0,69$$

• $\text{tg } \alpha = 3,5 = \frac{\text{sen } \alpha}{\text{cos } \alpha} \rightarrow \text{sen } \alpha = 3,5 \cdot \text{cos } \alpha$

$$(\text{sen } \alpha)^2 + (\text{cos } \alpha)^2 = 1$$

$$(3,5 \text{cos } \alpha)^2 + (\text{cos } \alpha)^2 = 1 \rightarrow \text{cos } \alpha = 0,27$$

$$\text{sen } \alpha = 3,5 \cdot 0,27 \rightarrow \text{sen } \alpha = 0,96$$

• $\text{tg } \alpha = 1$

$$\frac{\text{sen } \alpha}{\text{cos } \alpha} = 1; \text{sen } \alpha = \text{cos } \alpha$$

$$(\text{sen } \alpha)^2 + (\text{cos } \alpha)^2 = 1$$

$$(\text{cos } \alpha)^2 + (\text{cos } \alpha)^2 = 1 \rightarrow \text{cos } \alpha = \frac{1}{\sqrt{2}} = \frac{\sqrt{2}}{2}$$

$$\text{sen } \alpha = \frac{\sqrt{2}}{2}$$

$\text{sen } \alpha$	0,94	0,57	4/5	0,96	1/2	$\sqrt{2}/2$
$\text{cos } \alpha$	0,34	0,82	3/5	0,27	$\sqrt{3}/2$	$\sqrt{2}/2$
$\text{tg } \alpha$	2,76	0,69	4/3	3,5	$\sqrt{3}/3$	1

3 Utilización de la calculadora en trigonometría

Página 148

1. Obtén las siguientes razones trigonométricas y escribe en tu cuaderno los resultados redondeando a las milésimas.

a) $\text{sen } 86^\circ$

b) $\text{cos } 59^\circ$

c) $\text{tg } 22^\circ$

d) $\text{sen } 15^\circ 25' 43''$

e) $\text{cos } 59^\circ 27'$

f) $\text{tg } 86^\circ 52'$

g) $\text{sen } 10^\circ 30''$ (atención, $10^\circ 0' 30''$)

a) $\text{sen } 86^\circ = 0,998$

b) $\text{cos } 59^\circ = 0,515$

c) $\text{tg } 22^\circ = 0,404$

d) $\text{sen } (15^\circ 25' 43'') = 0,266$

e) $\text{cos } (59^\circ 27') = 0,508$

f) $\text{tg } (86^\circ 52') = 18,268$

g) $\text{sen } (10^\circ 30'') = 0,174$

Página 149

2. Da el valor del ángulo α en forma sexagesimal, en cada caso:

a) $\operatorname{sen} \alpha = 0,91$

b) $\operatorname{tg} \alpha = 5,83$

c) $\operatorname{cos} \alpha = 0,42$

d) $\operatorname{tg} \alpha = 0,34$

e) $\operatorname{sen} \alpha = 0,08$

f) $\operatorname{cos} \alpha = 0,88$

a) $\alpha = 65^\circ 30' 19''$

b) $\alpha = 80^\circ 16' 1''$

c) $\alpha = 65^\circ 9' 55''$

d) $\alpha = 18^\circ 46' 41''$

e) $\alpha = 4^\circ 35' 19''$

f) $\alpha = 28^\circ 21' 27''$

3. a) Calcula $\operatorname{sen} \alpha$ sabiendo que $\operatorname{cos} \alpha = 0,91$.

b) Calcula $\operatorname{cos} \alpha$ sabiendo que $\operatorname{tg} \alpha = 6,41$.

c) Calcula $\operatorname{tg} \alpha$ sabiendo que $\operatorname{cos} \alpha = 0,06$.

d) Calcula $\operatorname{tg} \alpha$ sabiendo que $\operatorname{cos} \alpha = 0,96$.

e) Calcula $\operatorname{sen} \alpha$ sabiendo que $\operatorname{tg} \alpha = 0,1$.

a) $\operatorname{cos} \alpha = 0,91 \rightarrow \operatorname{sen} \alpha = 0,415$

b) $\operatorname{tg} \alpha = 6,41 \rightarrow \operatorname{cos} \alpha = 0,154$

c) $\operatorname{cos} \alpha = 0,06 \rightarrow \operatorname{tg} \alpha = 16,637$

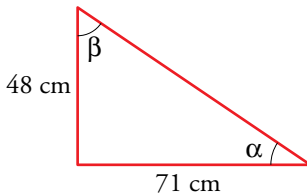
d) $\operatorname{cos} \alpha = 0,96 \rightarrow \operatorname{tg} \alpha = 0,292$

e) $\operatorname{tg} \alpha = 0,1 \rightarrow \operatorname{sen} \alpha = 0,0995$

4 Resolución de triángulos rectángulos

Página 150

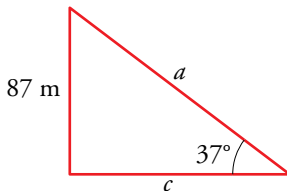
1. Los dos catetos de un triángulo rectángulo miden 48 cm y 71 cm. Halla los dos ángulos agudos.



$$\operatorname{tg} \alpha = \frac{48}{71} = 0,676 \rightarrow \alpha = 34^\circ 3' 39,27''$$

$$\beta = 90^\circ - 34^\circ 3' 39,27'' = 55^\circ 86' 51,73''$$

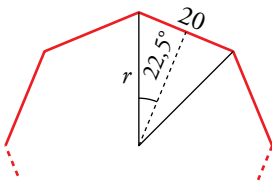
2. En un triángulo rectángulo, un ángulo agudo mide 37° , y el cateto opuesto, 87 m. Halla el otro cateto y la hipotenusa.



$$\operatorname{sen} 37^\circ = \frac{87}{a} \rightarrow a = \frac{87}{\operatorname{sen} 37^\circ} = 144,56 \text{ m}$$

$$\operatorname{tg} 37^\circ = \frac{87}{c} \rightarrow c = \frac{87}{\operatorname{tg} 37^\circ} = 115,45 \text{ m}$$

3. Calcula el radio de un octógono regular de 20 cm de lado. ¿Cuánto mide su apotema?

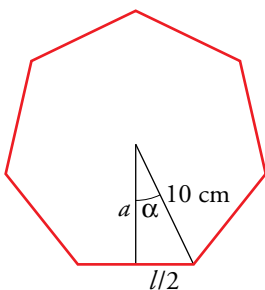


$$\operatorname{sen} 22,5^\circ = \frac{10}{r} \rightarrow r = \frac{10}{\operatorname{sen} 22,5^\circ} \approx 26,13 \text{ cm}$$

$$\operatorname{cos} 22,5^\circ = \frac{\text{apotema}}{r} \rightarrow \text{apotema} \approx 24,14 \text{ cm}$$

4. Halla la apotema de un heptágono regular de 10 cm de radio.

Calcula también la longitud del lado.



$$\alpha = 360^\circ : 14 = 25^\circ 42' 51''$$

$$\operatorname{cos} (25^\circ 42' 51'') = \frac{a}{10} \rightarrow a = 10 \cdot \operatorname{cos} (25^\circ 42' 51'') \rightarrow$$

$$\rightarrow a = 9 \text{ cm}$$

$$\operatorname{sen} (25^\circ 42' 51'') = \frac{l/2}{10} \rightarrow \frac{l}{2} = 10 \cdot \operatorname{sen} (25^\circ 42' 51'') \rightarrow$$

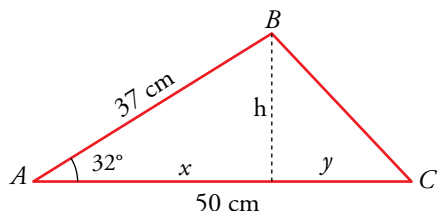
$$\rightarrow \frac{l}{2} = 4,34 \text{ cm} \rightarrow l = 8,68 \text{ cm}$$

Por tanto, el lado del heptágono mide 8,68 cm y su apotema 9 cm.

5 Resolución de triángulos oblicuángulos

Página 151

1. En un triángulo ABC , halla \overline{BC} conociendo $\overline{AB} = 37$ cm, $\overline{AC} = 50$ cm y $\hat{A} = 32^\circ$.



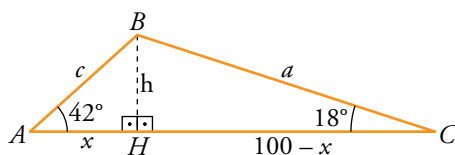
$$\cos 32^\circ = \frac{x}{37} \rightarrow x = 31,38 \text{ cm}$$

$$\text{sen } 32^\circ = \frac{h}{37} \rightarrow h = 19,61 \text{ cm}$$

$$y = 50 - x = 50 - 31,38 = 18,62 \text{ cm}$$

$$\overline{BC} = \sqrt{h^2 + y^2} = 27,04 \text{ cm}$$

2. Halla los lados \overline{AB} y \overline{BC} de un triángulo ABC en el que sabemos $\overline{AC} = 100$ cm, $\hat{A} = 42^\circ$ y $\hat{C} = 18^\circ$.



- Trazamos la altura sobre AC y dividimos el triángulo \widehat{ABC} en dos triángulos rectángulos \widehat{ABH} y \widehat{BHC} .

$$\left. \begin{array}{l} \text{En } \widehat{ABH}: \text{tg } 42^\circ = \frac{h}{x} \\ \text{En } \widehat{BHC}: \text{tg } 18^\circ = \frac{h}{100-x} \end{array} \right\} \rightarrow \left. \begin{array}{l} 0,900 = \frac{h}{x} \\ 0,325 = \frac{h}{100-x} \end{array} \right\} \rightarrow \left. \begin{array}{l} h = 0,900x \\ h = 0,325(100-x) \end{array} \right\} \rightarrow$$

$$\rightarrow 0,900x = 0,325(100-x) \rightarrow 0,900x = 32,5 - 0,325x \rightarrow$$

$$\rightarrow 1,225x = 32,5 \rightarrow x = \frac{32,5}{1,225} \rightarrow x = 26,5 \text{ cm} \rightarrow$$

$$\rightarrow h = 23,85 \text{ cm}$$

- Conociendo x y h podemos hallar los lados \overline{AB} y \overline{BC} .

$$\text{En } \widehat{ABH}: \cos 42^\circ = \frac{26,5}{c} \rightarrow c = \frac{26,5}{\cos 42^\circ} \rightarrow c = 35,7 \text{ cm}$$

$$\text{En } \widehat{BHC}: \cos 18^\circ = \frac{100 - 26,5}{a} \rightarrow a = \frac{73,5}{\cos 18^\circ} \rightarrow a = 77,3 \text{ cm}$$

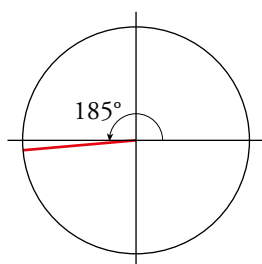
Por tanto, $\overline{AB} = c = 35,7$ cm y $\overline{BC} = a = 77,3$ cm.

6 Razones trigonométricas de 0° a 360°

Página 153

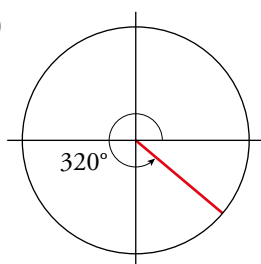
1. Indica el signo de cada una de estas razones trigonométricas, situando aproximadamente los ángulos en la circunferencia goniométrica:

a) $\text{sen } 185^\circ$



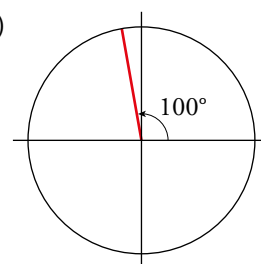
$\text{sen } 185^\circ < 0$

b) $\text{cos } 320^\circ$



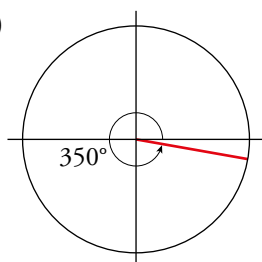
$\text{cos } 320^\circ > 0$

c) $\text{tg } 100^\circ$



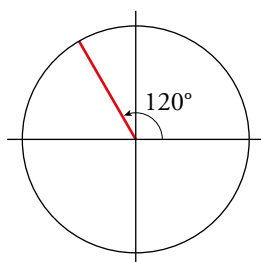
$\text{tg } 100^\circ < 0$

d) $\text{cos } 350^\circ$



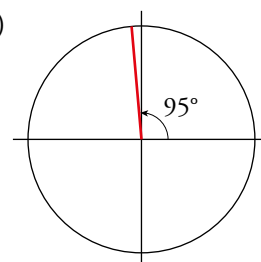
$\text{cos } 350^\circ > 0$

e) $\text{cos } 120^\circ$



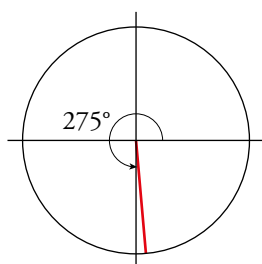
$\text{cos } 120^\circ < 0$

f) $\text{tg } 95^\circ$



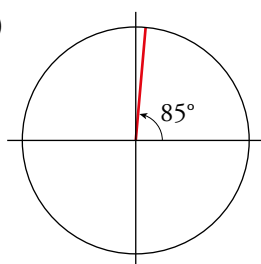
$\text{tg } 95^\circ < 0$

g) $\text{cos } 275^\circ$



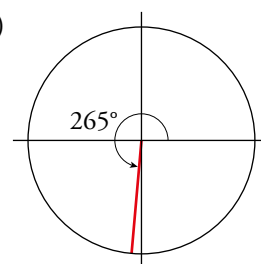
$\text{cos } 275^\circ > 0$

h) $\text{sen } 85^\circ$



$\text{sen } 85^\circ > 0$

i) $\text{tg } 265^\circ$



$\text{tg } 265^\circ > 0$

2. Indica en qué cuadrante se encuentra cada uno de los ángulos α , β , γ y ϕ :

a) $\text{sen } \alpha < 0$ y $\text{tg } \alpha > 0$

b) $\text{cos } \beta > 0$ y $\text{tg } \beta < 0$

c) $\text{sen } \gamma < 0$ y $\text{cos } \gamma < 0$

d) $\text{cos } \phi > 0$ y $\text{sen } \phi < 0$

¿Qué signo tiene cada una de las razones trigonométricas que faltan?

$$\left. \begin{array}{l} \text{a) } \text{sen } \alpha < 0 \rightarrow \alpha \in \text{III o IV cuadrante} \\ \text{tg } \alpha > 0 \rightarrow \alpha \in \text{I o III cuadrante} \end{array} \right\} \rightarrow \alpha \in \text{III cuadrante}$$

Además, $\text{cos } \alpha < 0$.

$$\left. \begin{array}{l} \text{b) } \cos \beta > 0 \rightarrow \beta \in \text{I o IV cuadrante} \\ \text{tg } \beta < 0 \rightarrow \beta \in \text{II o IV cuadrante} \end{array} \right\} \rightarrow \beta \in \text{IV cuadrante}$$

Además, $\text{sen } \beta < 0$.

$$\left. \begin{array}{l} \text{c) } \text{sen } \gamma < 0 \rightarrow \gamma \in \text{III o IV cuadrante} \\ \cos \gamma < 0 \rightarrow \gamma \in \text{II o III cuadrante} \end{array} \right\} \rightarrow \gamma \in \text{III cuadrante}$$

Además, $\text{tg } \gamma > 0$.

$$\left. \begin{array}{l} \text{d) } \cos \phi > 0 \rightarrow \phi \in \text{I o IV cuadrante} \\ \text{sen } \phi < 0 \rightarrow \phi \in \text{III o IV cuadrante} \end{array} \right\} \rightarrow \phi \in \text{IV cuadrante}$$

Además, $\text{tg } \phi < 0$.

3. Dibuja sobre una circunferencia goniométrica, en papel milimetrado, los ángulos siguientes:

62° , 154° , 243° y 300°

Representa sus razones trigonométricas y da su valor aproximado.

$$\text{sen } 62^\circ = 0,88$$

$$\cos 62^\circ = 0,47$$

$$\text{tg } 62^\circ = 1,88$$

$$\text{sen } 154^\circ = 0,44$$

$$\cos 154^\circ = -0,9$$

$$\text{tg } 154^\circ = -0,49$$

$$\text{sen } 243^\circ = -0,89$$

$$\cos 243^\circ = -0,45$$

$$\text{tg } 243^\circ = 1,96$$

$$\text{sen } 300^\circ = -0,87$$

$$\cos 300^\circ = 0,5$$

$$\text{tg } 300^\circ = -1,73$$

4. En la página anterior, en la circunferencia goniométrica sobre la que se han representado el seno y el coseno, hay un triángulo coloreado, $OA'A$.

a) Razonando sobre él y teniendo en cuenta que $\overline{OA} = 1$, justifica que $\cos \alpha = \overline{OA'}$ y $\text{sen } \alpha = \overline{A'A}$.

b) Aplicando el teorema de Pitágoras en este triángulo, justifica que $(\text{sen } \alpha)^2 + (\cos \alpha)^2 = 1$.

c) Justifica que $(\text{sen } \beta)^2 + (\cos \beta)^2 = 1$, razonando sobre el correspondiente triángulo.

$$\text{a) } \cos \alpha = \frac{\overline{OA'}}{\overline{OA}} = \frac{\overline{OA'}}{1} = \overline{OA'}$$

$$\text{b) } (\text{sen } \alpha)^2 + (\cos \alpha)^2 = (\overline{A'A})^2 + (\overline{OA'})^2 = (\overline{OA})^2 = 1$$

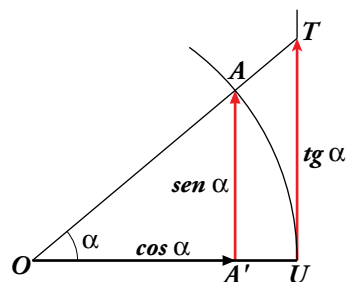
$$\text{c) } (\text{sen } \beta)^2 + (\cos \beta)^2 = \overline{OB}^2 = 1$$

5. Di el valor de $\text{sen } \alpha$ y $\cos \alpha$ cuando α vale 0° , 90° , 180° , 270° y 360° .

α	0°	90°	180°	270°	360°
$\text{sen } \alpha$	0	1	0	-1	0
$\cos \alpha$	1	0	-1	0	1

6. Teniendo en cuenta la semejanza de los triángulos $OA'A$ y OAT , y que $\overline{OU} = 1$, demuestra que:

$$\frac{\text{sen } \alpha}{\text{cos } \alpha} = \text{tg } \alpha$$



Por la semejanza de triángulos:

$$\frac{\overline{OA'}}{\overline{AA'}} = \frac{\overline{OU}}{\overline{UT}} \rightarrow \overline{UT} = \frac{\overline{AA'} \cdot \overline{OU}}{\overline{OA'}} = \frac{\overline{AA'}}{\overline{OA'}} \rightarrow \text{tg } \alpha = \frac{\overline{AA'}}{\overline{OA'}} = \frac{\text{sen } \alpha}{\text{cos } \alpha}$$

7 Ángulos de medidas cualesquiera. Razones trigonométricas

Página 154

1. Expresa con valores comprendidos entre -180° y 180° estos ángulos:

a) $1\ 837^\circ$

b) $3\ 358^\circ$

c) $1\ 381^\circ$

d) $3\ 805^\circ$

Comprueba con la calculadora que, en cada caso, coinciden las razones trigonométricas de uno y otro ángulo.

$$\text{a) } 1\ 837 \begin{array}{l} | 360 \\ \hline 37 \quad 5 \end{array}$$

$$1\ 837^\circ = 5 \cdot 360^\circ + 37^\circ = 37^\circ$$

$$\text{sen } 1\ 837^\circ = \text{sen } 37^\circ = 0,602$$

$$\text{cos } 1\ 837^\circ = \text{cos } 37^\circ = 0,799$$

$$\text{tg } 1\ 837^\circ = \text{tg } 37^\circ = 0,754$$

$$\text{b) } 3\ 358 \begin{array}{l} | 360 \\ \hline 118 \quad 9 \end{array}$$

$$3\ 358^\circ = 9 \cdot 360^\circ + 118^\circ = 118^\circ$$

$$\text{sen } 3\ 358^\circ = \text{sen } 118^\circ = 0,883$$

$$\text{cos } 3\ 358^\circ = \text{cos } 118^\circ = -0,469$$

$$\text{tg } 3\ 358^\circ = \text{tg } 118^\circ = -1,881$$

$$\text{c) } 1\ 381 \begin{array}{l} | 360 \\ \hline 301 \quad 3 \end{array}$$

$$1\ 381^\circ = 3 \cdot 360^\circ + 301^\circ = 301^\circ = 301^\circ - 360^\circ = -59^\circ$$

$$\text{sen } 1\ 381^\circ = \text{sen } (-59^\circ) = -0,857$$

$$\text{cos } 1\ 381^\circ = \text{cos } (-59^\circ) = 0,515$$

$$\text{tg } 1\ 381^\circ = \text{tg } (-59^\circ) = -1,664$$

$$\text{d) } 3\ 805 \begin{array}{l} | 360 \\ \hline 205 \quad 10 \end{array}$$

$$3\ 805^\circ = 10 \cdot 360^\circ + 205^\circ = 205^\circ = 205^\circ - 360^\circ = -155^\circ$$

$$\text{sen } 3\ 805^\circ = \text{sen } (-155^\circ) = -0,423$$

$$\text{cos } 3\ 805^\circ = \text{cos } (-155^\circ) = -0,906$$

$$\text{tg } 3\ 805^\circ = \text{tg } (-155^\circ) = 0,466$$

8 Funciones trigonométricas. El radián

Página 155

1. Pasa a radianes los siguientes ángulos:

a) 25°

b) 100°

c) 150°

d) 250°

Expresa el resultado en función de π y, luego, en forma decimal. Por ejemplo:
 $180^\circ = \pi \text{ rad} = 3,14 \text{ rad}$.

a) $25^\circ = \frac{25 \cdot 2\pi}{360} \text{ rad} = \frac{5\pi}{36} \text{ rad} = 0,44 \text{ rad}$

b) $100^\circ = \frac{100 \cdot 2\pi}{360} \text{ rad} = \frac{5\pi}{9} \text{ rad} = 1,74 \text{ rad}$

c) $150^\circ = \frac{150 \cdot 2\pi}{360} \text{ rad} = \frac{5\pi}{6} \text{ rad} = 2,62 \text{ rad}$

d) $250^\circ = \frac{250 \cdot 2\pi}{360} \text{ rad} = \frac{25\pi}{18} \text{ rad} = 4,36 \text{ rad}$

2. Pasa a grados los siguientes ángulos:

a) $0,5 \text{ rad}$

b) $1,5 \text{ rad}$

c) $\frac{\pi}{3} \text{ rad}$

d) $\frac{3\pi}{4} \text{ rad}$

e) $4,8 \text{ rad}$

f) $3\pi \text{ rad}$

a) $0,5 \text{ rad} = \frac{0,5 \cdot 360^\circ}{2\pi} = 28^\circ 39' 36''$

b) $1,5 \text{ rad} = \frac{1,5 \cdot 360^\circ}{2\pi} = 85^\circ 59' 24''$

c) $\frac{\pi}{3} \text{ rad} = \frac{180^\circ}{3} = 60^\circ$

d) $\frac{3\pi}{4} \text{ rad} = \frac{3 \cdot 180^\circ}{4} = 135^\circ$

e) $4,8 \text{ rad} = \frac{4,8 \cdot 360^\circ}{2\pi} = 275^\circ 8' 36''$

f) $3\pi \text{ rad} = 3 \cdot 180^\circ = 540^\circ$

Página 156

3. ¿Verdadero o falso?

- a) El radián es una medida de longitud equivalente al radio.
- b) Un radián es un ángulo algo menor que 60° .
- c) Puesto que la longitud de la circunferencia es $2\pi r$, un ángulo completo (360°) tiene 2π radianes.
- d) 180° es algo menos de 3 radianes.
- e) Un ángulo recto mide $\pi/2$ radianes.
- f) Las funciones trigonométricas son periódicas.
- g) Las funciones $\operatorname{sen} x$ y $\operatorname{cos} x$ tienen un periodo de 2π .
- h) La función $\operatorname{tg} x$ tiene periodo π .
- i) La función $\operatorname{cos} x$ es como $\operatorname{sen} x$ desplazada $\pi/2$ a la izquierda.

a) Falso, el radián es una unidad de medida de ángulos. Se llama radián a un ángulo tal que el arco que abarca tiene la misma longitud que el radio con el que se ha trazado.

b) Verdadero. $1 \text{ rad} = 57^\circ 17' 45''$

c) Verdadero.

d) Falso. $180^\circ = \pi \text{ rad} \approx 3,14 \text{ rad}$

e) Verdadero.

f) Verdadero.

g) Verdadero.

h) Verdadero.

i) Verdadero, se cumple $\operatorname{sen}\left(\alpha + \frac{\pi}{2}\right) = \operatorname{cos} \alpha, \forall \alpha$.

Página 157

Hazlo tú. Repite el problema anterior suponiendo que el satélite ve la Tierra bajo un ángulo de 100° .

a) En este caso, $\widehat{TSO} = 50^\circ$ y, por tanto, $\widehat{SOT} = 40^\circ$.

Siguiendo el mismo razonamiento que en el libro de texto:

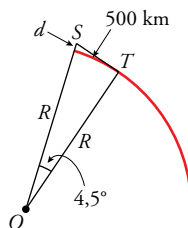
$$d = \frac{6371}{\cos 40^\circ} - 6371 \approx 1946 \text{ km}$$

b) $h = R \cdot (1 - \cos 40^\circ) = 6371 \cdot (1 - \cos 40^\circ) = 1490,53$

$$\text{Área del casquete} = 2\pi R \cdot h \approx 59635926 \text{ km}^2$$

El área de la porción visible de la Tierra es de unos 60 millones de km^2 .

Hazlo tú. ¿A qué altura hemos de subir para ver un lugar situado a 500 km?



Como el cuadrante de meridiano terrestre tiene 10000 km y corresponde a un ángulo recto, al arco de 500 km le corresponde un ángulo de $4,5^\circ$.

Siguiendo el mismo razonamiento que en el ejercicio resuelto en el libro de texto:

$$d = 6371 \cdot \left(\frac{1}{\cos 4,5^\circ} - 1 \right) = 19,17 \text{ km}$$

Deberíamos elevarnos unos 19 km.

Hazlo tú. Repite el problema con estos datos: 1.ª medición, 50° ; camina 10 m; 2.ª medición, 25° .

Siguiendo el planteamiento del ejercicio resuelto del libro de texto:

$$\left. \begin{array}{l} \text{tg } 50^\circ = \frac{y}{x} \\ \text{tg } 25^\circ = \frac{y}{x + 10} \end{array} \right\} \begin{array}{l} \rightarrow y = 1,19x \\ \rightarrow y = (x + 10) \cdot 0,47 \end{array} \left. \right\} \rightarrow x = 6,53; y = 7,77$$

El ancho del río es 6,53 m y la altura del árbol, 7,77 m.

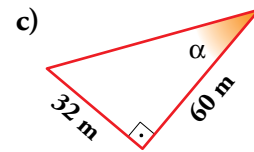
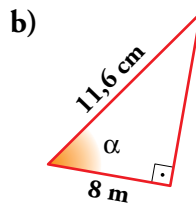
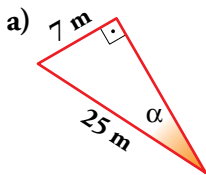
Ejercicios y problemas

Página 158

Practica

Razones trigonométricas de un ángulo agudo

1.  Halla las razones trigonométricas del ángulo α en cada uno de estos triángulos:




$$\text{a) } \operatorname{sen} \alpha = \frac{7}{25} = 0,28; \operatorname{cos} \alpha = \frac{\sqrt{25^2 - 7^2}}{25} = \frac{24}{25} = 0,96; \operatorname{tg} \alpha = \frac{7}{24} \approx 0,29$$

$$\text{b) } \operatorname{sen} \alpha = \frac{\sqrt{11,6^2 - 8^2}}{11,6} = \frac{8,4}{11,6} \approx 0,724$$

$$\operatorname{cos} \alpha = \frac{8}{11,6} \approx 0,69; \operatorname{tg} \alpha = \frac{8,4}{8} = 1,05$$

$$\text{c) } \operatorname{sen} \alpha = \frac{32}{\sqrt{32^2 + 60^2}} = \frac{32}{68} = \frac{8}{17} \approx 0,47$$

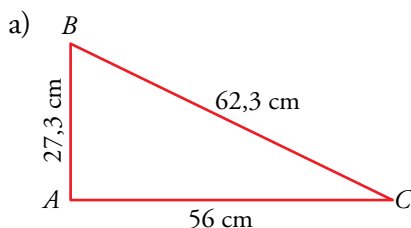
$$\operatorname{cos} \alpha = \frac{60}{68} = \frac{15}{17} \approx 0,88; \operatorname{tg} \alpha = \frac{32}{60} = \frac{8}{15} \approx 0,53$$

2.  Halla las razones trigonométricas de los ángulos agudos de los siguientes triángulos rectángulos ($\hat{A} = 90^\circ$):

a) $b = 56$ cm; $a = 62,3$ cm

b) $b = 33,6$ cm; $c = 4,5$ cm

c) $b = 16$ cm; $a = 36$ cm



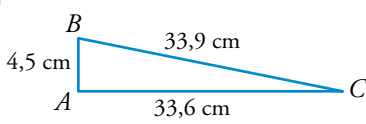
$$\operatorname{sen} \hat{B} = \frac{56}{62,3} \approx 0,90$$

$$\operatorname{cos} \hat{B} = \frac{\sqrt{62,3^2 - 56^2}}{62,3} = \frac{27,3}{62,3} \approx 0,438$$

$$\operatorname{tg} \hat{B} = \frac{56}{27,3} \approx 2,051$$

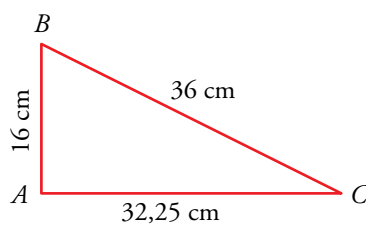
$$\operatorname{sen} \hat{C} = \frac{27,3}{62,3} \approx 0,438; \operatorname{cos} \hat{C} = \frac{56}{62,3} \approx 0,90; \operatorname{tg} \hat{C} = \frac{27,3}{56} = 0,4875$$

b)



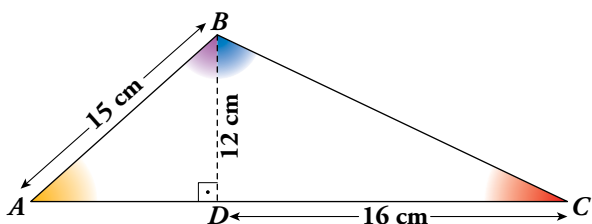
$$\begin{aligned} \operatorname{sen} \hat{B} &= \frac{33,6}{\sqrt{4,5^2 + 33,6^2}} = \frac{33,6}{33,9} \approx 0,991 \\ \operatorname{cos} \hat{B} &= \frac{4,5}{33,9} \approx 0,133 \\ \operatorname{tg} \hat{B} &= \frac{33,6}{4,5} \approx 7,467 \\ \operatorname{sen} \hat{C} &= \frac{4,5}{33,9} \approx 0,133; \operatorname{cos} \hat{C} = \frac{33,6}{33,9} \approx 0,991; \operatorname{tg} \hat{C} = \frac{4,5}{33,6} \approx 0,134 \end{aligned}$$

c)



$$\begin{aligned} \operatorname{sen} \hat{B} &= \frac{\sqrt{36^2 - 16^2}}{36} \approx \frac{32,25}{36} \approx 0,896 \\ \operatorname{cos} \hat{B} &= \frac{16}{36} = 0,4\hat{4} \\ \operatorname{tg} \hat{B} &= \frac{32,25}{16} \approx 2,016 \\ \operatorname{sen} \hat{C} &= \frac{16}{36} = 0,4\hat{4}; \operatorname{cos} \hat{C} = \frac{32,25}{36} \approx 0,896; \operatorname{tg} \hat{C} = \frac{16}{32,25} \approx 0,496 \end{aligned}$$

3.  Calcula las razones trigonométricas de los ángulos \hat{A} , \hat{C} , \widehat{ABD} y \widehat{CBD} .




$$\overline{AD} = \sqrt{15^2 - 12^2} = 9 \text{ cm}$$


$$\overline{BC} = \sqrt{12^2 + 16^2} = 20 \text{ cm}$$

	\hat{A}	\hat{C}	\widehat{ABD}	\widehat{CBD}
sen	$\frac{12}{15} = 0,8$	$\frac{12}{20} = 0,6$	$\frac{9}{15} = 0,6$	$\frac{16}{20} = 0,8$
cos	$\frac{9}{15} = 0,6$	$\frac{16}{20} = 0,8$	$\frac{12}{15} = 0,8$	$\frac{12}{20} = 0,6$
tg	$\frac{12}{9} = 1,3\hat{3}$	$\frac{12}{16} = 0,75$	$\frac{9}{12} = 0,75$	$\frac{16}{12} = 1,3\hat{3}$

Relaciones fundamentales

4.  Si $\operatorname{sen} \alpha = 0,28$, calcula $\operatorname{cos} \alpha$ y $\operatorname{tg} \alpha$ utilizando las relaciones fundamentales ($\alpha < 90^\circ$).

$$\operatorname{cos} \alpha = \sqrt{1 - 0,28^2} = 0,96; \operatorname{tg} \alpha = \frac{0,28}{0,96} = 0,292$$

5.  Halla el valor exacto (con radicales) de $\operatorname{sen} \alpha$ y $\operatorname{tg} \alpha$ sabiendo que $\operatorname{cos} \alpha = 2/3$ ($\alpha < 90^\circ$).


$$\operatorname{sen} \alpha = \sqrt{1 - \left(\frac{2}{3}\right)^2} = \sqrt{1 - \frac{4}{9}} = \frac{\sqrt{5}}{3}; \operatorname{tg} \alpha = \frac{\sqrt{5}/3}{2/3} = \frac{\sqrt{5}}{2}$$

6.  Si $tg \alpha = \sqrt{5}$, calcula $sen \alpha$ y $cos \alpha$ ($\alpha < 90^\circ$).

$$\left. \begin{array}{l} \frac{sen \alpha}{cos \alpha} = \sqrt{5} \\ sen^2 \alpha + cos^2 \alpha = 1 \end{array} \right\} s = \sqrt{5} c$$

$$(\sqrt{5}c)^2 + c^2 = 1 \rightarrow 6c^2 = 1 \rightarrow cos \alpha = \frac{1}{\sqrt{6}} = \frac{\sqrt{6}}{6}$$

$$sen \alpha = \sqrt{5} \cdot \frac{\sqrt{6}}{6} = \frac{\sqrt{30}}{6}$$

7.  Completa en tu cuaderno esta tabla con las razones trigonométricas que faltan siendo $\alpha < 90^\circ$. Utiliza radicales cuando sea posible.

$sen \alpha$	0,92			2/3		
$cos \alpha$		0,12			$\sqrt{2}/3$	
$tg \alpha$			0,75			2

Como $\alpha < 90^\circ \rightarrow sen \alpha > 0$, $cos \alpha > 0$ y $tg \alpha > 0$ en todos los casos.

• $sen \alpha = 0,92 \rightarrow cos \alpha = \sqrt{1 - 0,92^2} = 0,39 \rightarrow tg \alpha = \frac{0,92}{0,39} = 2,36$

• $cos \alpha = 0,12 \rightarrow sen \alpha = \sqrt{1 - 0,12^2} = 0,99 \rightarrow tg \alpha = \frac{0,99}{0,12} = 8,25$

• $tg \alpha = 0,75$

$$\left. \begin{array}{l} \frac{sen \alpha}{cos \alpha} = 0,75 \\ sen^2 \alpha + cos^2 \alpha = 1 \end{array} \right\} \rightarrow sen \alpha = 0,75 \cdot cos \alpha$$

$$(0,75 \cdot cos \alpha)^2 + cos^2 \alpha = 1 \rightarrow 0,5625 cos^2 \alpha + cos^2 \alpha = 1 \rightarrow 1,5625 cos^2 \alpha = 1 \rightarrow$$

$$\rightarrow cos^2 \alpha = \frac{1}{1,5625} \rightarrow cos \alpha = 0,8$$

$$sen \alpha = 0,75 \cdot cos \alpha \rightarrow sen \alpha = 0,6$$

• $sen \alpha = \frac{2}{3} \rightarrow cos \alpha = \sqrt{1 - \frac{4}{9}} = \sqrt{\frac{5}{9}} = \frac{\sqrt{5}}{3} \rightarrow tg \alpha = \frac{2/3}{\sqrt{5}/3} = \frac{2}{\sqrt{5}} = \frac{2\sqrt{5}}{5}$

• $cos \alpha = \frac{\sqrt{2}}{3} \rightarrow sen \alpha = \sqrt{1 - \frac{2}{9}} = \sqrt{\frac{7}{9}} = \frac{\sqrt{7}}{3} \rightarrow tg \alpha = \frac{\sqrt{7}/3}{\sqrt{2}/3} = \frac{\sqrt{7}}{\sqrt{2}} = \frac{\sqrt{14}}{2}$

• $tg \alpha = 2$

$$\left. \begin{array}{l} \frac{sen \alpha}{cos \alpha} = 2 \\ sen^2 \alpha + cos^2 \alpha = 1 \end{array} \right\} \rightarrow sen \alpha = 2 \cdot cos \alpha$$


$$(2 \cdot cos \alpha)^2 + cos^2 \alpha = 1 \rightarrow 4cos^2 \alpha + cos^2 \alpha = 1 \rightarrow 5cos^2 \alpha = 1 \rightarrow$$

$$\rightarrow cos^2 \alpha = \frac{1}{5} \rightarrow cos \alpha = \frac{1}{\sqrt{5}} = \frac{\sqrt{5}}{5}$$

$$sen \alpha = 2 \cdot cos \alpha \rightarrow sen \alpha = \frac{2\sqrt{5}}{5}$$

Por tanto:

$\text{sen } \alpha$	0,92	0,99	0,6	$\frac{2}{3}$	$\frac{\sqrt{7}}{3}$	$\frac{2\sqrt{5}}{5}$
$\text{cos } \alpha$	0,39	0,12	0,8	$\frac{\sqrt{5}}{3}$	$\frac{\sqrt{2}}{3}$	$\frac{\sqrt{5}}{5}$
$\text{tg } \alpha$	2,36	8,25	0,75	$\frac{2\sqrt{5}}{5}$	$\frac{\sqrt{14}}{2}$	2

8.  Calcula el valor de las siguientes expresiones sin utilizar la calculadora:

a) $\text{sen } 45^\circ - \text{cos } 45^\circ$

b) $\text{sen } 30^\circ + \text{cos } 60^\circ$

c) $\text{sen } 30^\circ + \text{cos } 30^\circ$

d) $\text{tg } 30^\circ + \text{tg } 60^\circ$

e) $\text{tg } 45^\circ - \text{cos } 60^\circ$

f) $\text{tg } 45^\circ + \text{sen } 45^\circ$

a) $\text{sen } 45^\circ - \text{cos } 45^\circ = \frac{\sqrt{2}}{2} - \frac{\sqrt{2}}{2} = 0$

b) $\text{sen } 30^\circ + \text{cos } 60^\circ = \frac{1}{2} + \frac{1}{2} = 1$

c) $\text{sen } 30^\circ + \text{cos } 30^\circ = \frac{1}{2} + \frac{\sqrt{3}}{2} = \frac{1 + \sqrt{3}}{2}$

d) $\text{tg } 30^\circ + \text{tg } 60^\circ = \frac{\sqrt{3}}{3} + \sqrt{3} = \frac{4\sqrt{3}}{3}$

e) $\text{tg } 45^\circ - \text{cos } 60^\circ = 1 - \frac{1}{2} = \frac{1}{2}$

f) $\text{tg } 45^\circ + \text{sen } 45^\circ = 1 + \frac{\sqrt{2}}{2} = \frac{2 + \sqrt{2}}{2}$

Calculadora

9.  Completa en tu cuaderno la tabla siguiente, utilizando la calculadora:

α	15°	$55^\circ 20'$	$72^\circ 25' 40''$	$85,5^\circ$
$\text{sen } \alpha$	0,26	0,82	0,95	0,997
$\text{cos } \alpha$	0,97	0,57	0,30	0,078
$\text{tg } \alpha$	0,27	1,45	3,16	12,71

10.  Halla el ángulo $\alpha < 90^\circ$ en cada caso. Exprésalo en grados, minutos y segundos.

a) $\text{sen } \alpha = 0,58$

b) $\text{cos } \alpha = 0,75$

c) $\text{tg } \alpha = 2,5$

d) $\text{sen } \alpha = \frac{\sqrt{5}}{3}$

e) $\text{cos } \alpha = \frac{1}{\sqrt{3}}$

f) $\text{tg } \alpha = 3\sqrt{2}$

a) $\alpha = 35^\circ 27' 2''$


b) $\alpha = 41^\circ 24' 35''$

c) $\alpha = 68^\circ 11' 55''$

d) $\alpha = 48^\circ 11' 23''$

e) $\alpha = 54^\circ 44' 8''$

f) $\alpha = 76^\circ 44' 14''$

11.  Halla, con la calculadora, las otras razones trigonométricas del ángulo $\alpha < 90^\circ$ en cada uno de los casos siguientes:

a) $\text{sen } \alpha = 0,23$

b) $\text{cos } \alpha = 0,74$

c) $\text{tg } \alpha = 1,75$

d) $\text{sen } \alpha = \frac{1}{\sqrt{2}}$

e) $\text{tg } \alpha = \sqrt{3}$

f) $\text{cos } \alpha = \frac{\sqrt{3}}{2}$

a) $\text{cos } \alpha = 0,97$; $\text{tg } \alpha = 0,24$

b) $\text{sen } \alpha = 0,67$; $\text{tg } \alpha = 0,91$


c) $\text{sen } \alpha = 0,87$; $\text{cos } \alpha = 0,5$

d) $\text{cos } \alpha = 0,71$; $\text{tg } \alpha = 1$

e) $\text{sen } \alpha = 0,87$; $\text{cos } \alpha = 0,5$

f) $\text{sen } \alpha = 0,5$; $\text{tg } \alpha = 0,58$

Resolución de triángulos

12.  Resuelve los siguientes triángulos rectángulos ($\hat{C} = 90^\circ$) hallando la medida de todos los elementos desconocidos:

a) $a = 5$ cm, $b = 12$ cm.

Halla c , \hat{A} , \hat{B} .

b) $a = 43$ m, $\hat{A} = 37^\circ$.

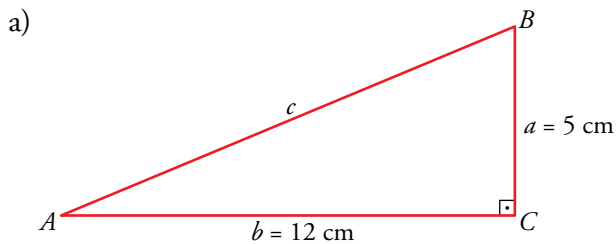
Halla b , c , \hat{B} .

c) $a = 7$ m, $\hat{B} = 58^\circ$.

Halla b , c , \hat{A} .

d) $c = 5,8$ km, $\hat{A} = 71^\circ$.

Halla a , b , \hat{B} .

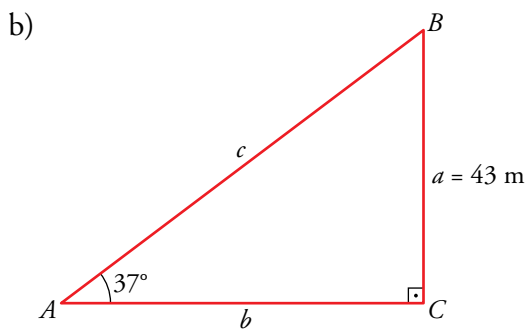


• Por el teorema de Pitágoras:

$$c^2 = 5^2 + 12^2 \rightarrow c^2 = 169 \rightarrow c = 13 \text{ cm}$$

• $\text{tg } \hat{A} = \frac{5}{12} \rightarrow \hat{A} = 22^\circ 37' 11''$

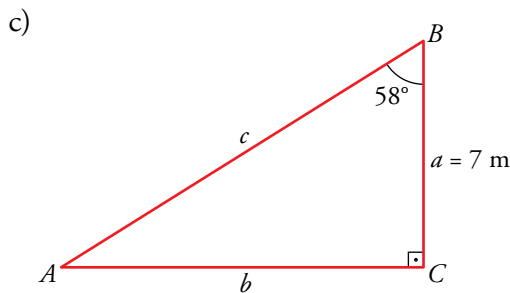
• $\hat{B} = 90^\circ - \hat{A} \rightarrow \hat{B} = 67^\circ 22' 49''$



• $\hat{B} = 90^\circ - \hat{A} \rightarrow \hat{B} = 53^\circ$

• $\text{sen } 37^\circ = \frac{43}{c} \rightarrow c = \frac{43}{\text{sen } 37^\circ} \rightarrow c = 71,45 \text{ m}$

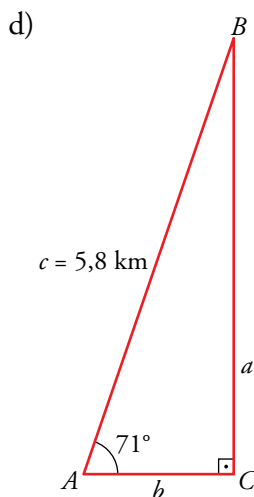
• $\text{tg } 37^\circ = \frac{43}{b} \rightarrow b = \frac{43}{\text{tg } 37^\circ} \rightarrow b = 57,06 \text{ m}$



• $\hat{A} = 90^\circ - \hat{B} \rightarrow \hat{A} = 32^\circ$

• $\text{tg } 58^\circ = \frac{b}{7} \rightarrow b = 7 \cdot \text{tg } 58^\circ \rightarrow b = 11,20 \text{ m}$


• $\text{cos } 58^\circ = \frac{7}{c} \rightarrow c = \frac{7}{\text{cos } 58^\circ} \rightarrow c = 13,21 \text{ m}$

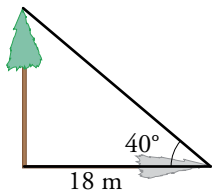


• $\hat{B} = 90^\circ - \hat{A} \rightarrow \hat{B} = 19^\circ$


• $\text{sen } 71^\circ = \frac{a}{5,8} \rightarrow a = 5,8 \cdot \text{sen } 71^\circ \rightarrow a = 5,48 \text{ km}$

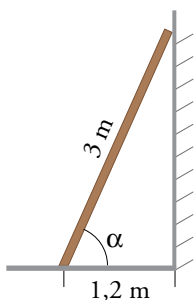
• $\text{cos } 71^\circ = \frac{b}{5,8} \rightarrow b = 5,8 \cdot \text{cos } 71^\circ \rightarrow b = 1,89 \text{ km}$

13.  Cuando los rayos del sol forman 40° con el suelo, la sombra de un árbol mide 18 m. ¿Cuál es su altura?




$$\operatorname{tg} 40^\circ = \frac{x}{18} \rightarrow \text{El árbol mide } x = 15,1 \text{ m.}$$

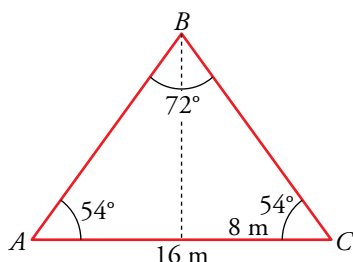
14.  Una escalera de 3 m está apoyada en una pared. ¿Qué ángulo forma la escalera con el suelo si su base está a 1,2 m de la pared?



$$\cos \alpha = \frac{1,2}{3} = 0,4 \rightarrow \alpha = 66^\circ 25' 19''$$

Página 159

15.  Calcula el perímetro y el área de un triángulo isósceles en el que el ángulo desigual mide 72° y la medida del lado opuesto a ese ángulo es de 16 m.




$$\hat{A} = \frac{180^\circ - 72^\circ}{2} = 54^\circ$$

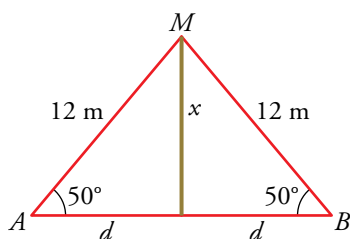
$$\cos 54^\circ = \frac{8}{BC} \rightarrow \overline{BC} = \frac{8}{\cos 54^\circ} = 13,6 \text{ m}$$

Perímetro = $13,6 \cdot 2 + 16 = 43,2 \text{ m}$

Altura, h : $\operatorname{tg} 54^\circ = \frac{h}{8} \rightarrow h = 8 \cdot \operatorname{tg} 54^\circ = 11,01 \text{ m}$

Área = $\frac{16 \cdot 11,01}{2} \approx 88,1 \text{ m}^2$


16.  Un mástil está sujeto a tierra con dos cables de 12 m que forman ángulos de 50° con el suelo. Calcula la altura del mástil y la distancia de la base a los puntos de sujeción.

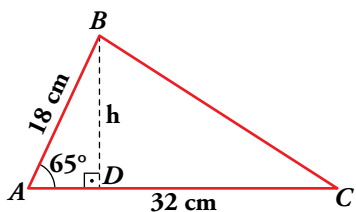


$$\operatorname{sen} 50^\circ = \frac{x}{12} \rightarrow x = 12 \cdot \operatorname{sen} 50^\circ \rightarrow x = 9,19 \text{ m}$$

$$\cos 50^\circ = \frac{d}{12} \rightarrow d = 12 \cdot \cos 50^\circ \rightarrow d = 7,71 \text{ m}$$

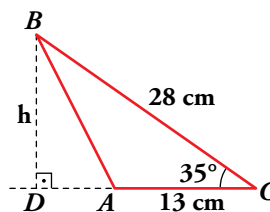
El mástil mide 9,19 m y la distancia de la base del mástil a los puntos de sujeción A y B es 7,71 m.

17.  Calcula la altura, h , y el área de los siguientes triángulos:




$$\operatorname{sen} 65^\circ = \frac{h}{18} \rightarrow h \approx 16,3 \text{ cm}$$

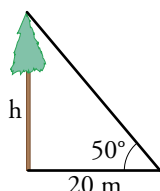
$$A = \frac{32 \cdot 16,3}{2} = 260,8 \text{ cm}^2$$




$$\operatorname{sen} 35^\circ = \frac{h}{28} \rightarrow h \approx 16,1 \text{ cm}$$

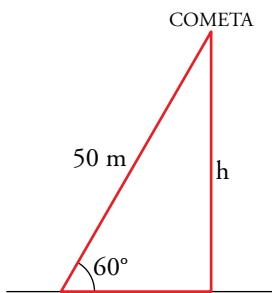
$$A = \frac{13 \cdot 16,1}{2} = 104,61 \text{ cm}^2$$

18.  Para medir la altura de un árbol, nos situamos a 20 m de su base y observamos, desde el suelo, su parte más alta bajo un ángulo de 50° . ¿Cuánto mide el árbol?



$$\operatorname{tg} 50^\circ = \frac{h}{20} \rightarrow h = 20 \cdot \operatorname{tg} 50^\circ = 23,8 \text{ m}$$

19.  Una cometa está sujeta al suelo mediante un hilo que mide 50 m y que forma con la horizontal un ángulo de 60° . ¿A qué altura está la cometa?



$$\begin{aligned} \operatorname{sen} 60^\circ &= \frac{h}{50} \rightarrow h = 50 \cdot \operatorname{sen} 60^\circ \rightarrow h = 50 \cdot \frac{\sqrt{3}}{2} \rightarrow \\ &\rightarrow h = 25\sqrt{3} \text{ m} \end{aligned}$$

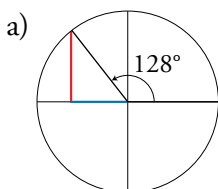
La cometa está a una altura de $25\sqrt{3}$ m.

Razones trigonométricas de ángulos cualesquiera

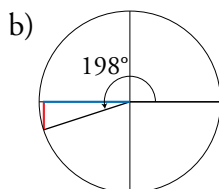
20.  Sitúa en la circunferencia goniométrica los siguientes ángulos e indica el signo de sus razones trigonométricas.

- a) 128° b) 198° c) 87° d) 98° e) 285° f) 305°

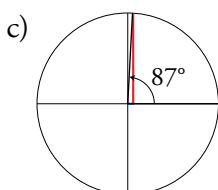
Compruébalo con la calculadora.



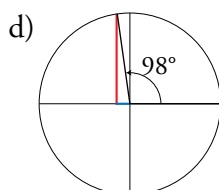
128°	
sen	+
cos	-
tg	-



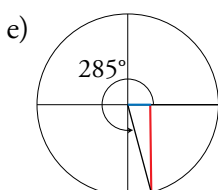
198°	
sen	-
cos	-
tg	+



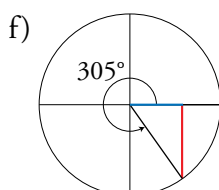
87°	
sen	+
cos	+
tg	+




98°	
sen	+
cos	-
tg	-



285°	
sen	-
cos	+
tg	-



305°	
sen	-
cos	+
tg	-

21.  Explica en qué cuadrante está el ángulo α en cada caso y calcula las razones trigonométricas que faltan:

- a) $\operatorname{sen} \alpha = 0,6$; $\operatorname{cos} \alpha < 0$ b) $\operatorname{cos} \alpha = -1/3$; $\operatorname{tg} \alpha > 0$
 c) $\operatorname{tg} \alpha = -2$; $\operatorname{sen} \alpha > 0$ d) $\operatorname{sen} \alpha = -2/3$; $\operatorname{tg} \alpha < 0$

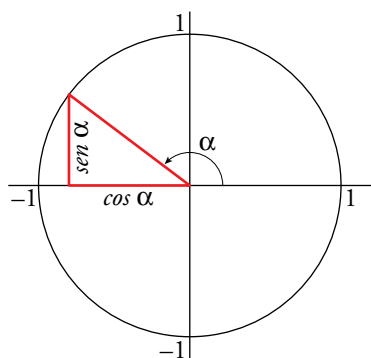
Representa el ángulo α en una circunferencia goniométrica en cada caso.

a) $\operatorname{sen} \alpha = 0,6 > 0 \rightarrow \alpha \in \text{I o II cuadrante}$
 $\operatorname{cos} \alpha < 0 \rightarrow \alpha \in \text{II o III cuadrante}$ } $\rightarrow \alpha \in \text{II cuadrante}$

• $\operatorname{sen}^2 \alpha + \operatorname{cos}^2 \alpha = 1 \rightarrow \operatorname{cos}^2 \alpha = 1 - \operatorname{sen}^2 \alpha \rightarrow \operatorname{cos}^2 \alpha = 1 - 0,6^2 \rightarrow \operatorname{cos}^2 \alpha = 0,64 \rightarrow$
 $\rightarrow \operatorname{cos} \alpha = -\sqrt{0,64} \rightarrow \operatorname{cos} \alpha = -0,8$

• $\operatorname{tg} \alpha = \frac{\operatorname{sen} \alpha}{\operatorname{cos} \alpha} \rightarrow \operatorname{tg} \alpha = \frac{0,6}{-0,8} \rightarrow \operatorname{tg} \alpha = -0,75$

- Representación de α en una circunferencia goniométrica:



$$\text{sen } \alpha = 0,6 \rightarrow \alpha = \begin{cases} 36^\circ 52' 12'' \\ 143^\circ 7' 48'' \end{cases} \rightarrow$$

$$\xrightarrow{\alpha \in \text{II cuadrante}} \alpha = 143^\circ 7' 48''$$

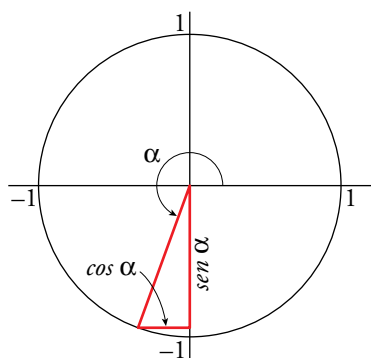
$$\text{b) } \left. \begin{array}{l} \cos \alpha = -\frac{1}{3} < 0 \rightarrow \alpha \in \text{II o III cuadrante} \\ \text{tg } \alpha > 0 \rightarrow \alpha \in \text{I o III cuadrante} \end{array} \right\} \rightarrow \alpha \in \text{III cuadrante}$$

$$\bullet \text{sen}^2 \alpha + \text{cos}^2 \alpha = 1 \rightarrow \text{sen}^2 \alpha = 1 - \text{cos}^2 \alpha \rightarrow \text{sen}^2 \alpha = 1 - \left(-\frac{1}{3}\right)^2 \rightarrow \text{sen}^2 \alpha = \frac{8}{9} \rightarrow$$

$$\rightarrow \text{sen } \alpha = -\sqrt{\frac{8}{9}} \rightarrow \text{sen } \alpha = -\frac{2\sqrt{2}}{3}$$

$$\bullet \text{tg } \alpha = \frac{\text{sen } \alpha}{\text{cos } \alpha} \rightarrow \text{tg } \alpha = \frac{-\frac{2\sqrt{2}}{3}}{-\frac{1}{3}} \rightarrow \text{tg } \alpha = 2\sqrt{2}$$

- Representación de α en la circunferencia goniométrica:



$$\cos \alpha = -\frac{1}{3} \rightarrow \alpha = \begin{cases} 109^\circ 28' 16'' \\ 250^\circ 31' 44'' \end{cases} \rightarrow$$

$$\xrightarrow{\alpha \in \text{III cuadrante}} \alpha = 250^\circ 31' 44''$$

$$\text{c) } \left. \begin{array}{l} \text{tg } \alpha = -2 < 0 \rightarrow \alpha \in \text{II o IV cuadrante} \\ \text{sen } \alpha > 0 \rightarrow \alpha \in \text{I o II cuadrante} \end{array} \right\} \rightarrow \alpha \in \text{II cuadrante}$$

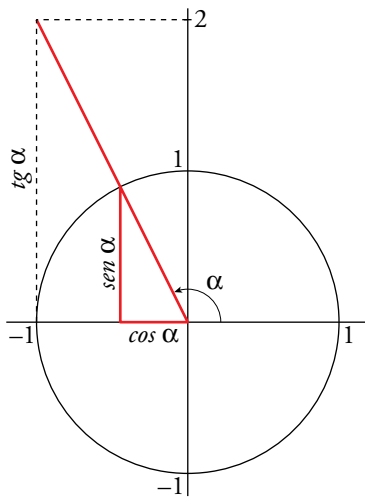
$$\bullet \left. \begin{array}{l} \frac{\text{sen } \alpha}{\text{cos } \alpha} = -2 \\ \text{sen}^2 \alpha + \text{cos}^2 \alpha = 1 \end{array} \right\} \rightarrow \text{sen } \alpha = -2 \text{cos } \alpha$$

$$(-2\text{cos } \alpha)^2 + \text{cos}^2 \alpha = 1 \rightarrow 4\text{cos}^2 \alpha + \text{cos}^2 \alpha = 1 \rightarrow 5\text{cos}^2 \alpha = 1 \rightarrow \text{cos}^2 \alpha = \frac{1}{5} \rightarrow$$

$$\rightarrow \text{cos } \alpha = -\frac{1}{\sqrt{5}} = -\frac{\sqrt{5}}{5}$$

$$\bullet \text{sen } \alpha = -2\text{cos } \alpha \rightarrow \text{sen } \alpha = \frac{2\sqrt{5}}{5}$$

- Representación de α en la circunferencia goniométrica:



$$tg \alpha = -2 \rightarrow \alpha = \begin{cases} 116^\circ 33' 54'' \\ 296^\circ 33' 54'' \end{cases} \rightarrow$$

$$\xrightarrow{\alpha \in \text{II cuadrante}} \alpha = 116^\circ 33' 54''$$

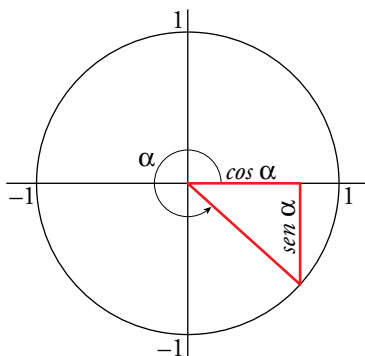
$$d) \left. \begin{array}{l} sen \alpha = -\frac{2}{3} < 0 \rightarrow \alpha \in \text{III o IV cuadrante} \\ tg \alpha < 0 \rightarrow \alpha \in \text{II o IV cuadrante} \end{array} \right\} \rightarrow \alpha \in \text{IV cuadrante}$$

$$\bullet sen^2 \alpha + cos^2 \alpha = 1 \rightarrow cos^2 \alpha = 1 - sen^2 \alpha \rightarrow cos^2 \alpha = 1 - \left(-\frac{2}{3}\right)^2 \rightarrow$$

$$\rightarrow cos^2 \alpha = \frac{5}{9} \rightarrow cos \alpha = \frac{\sqrt{5}}{3}$$

$$\bullet tg \alpha = \frac{sen \alpha}{cos \alpha} \rightarrow tg \alpha = \frac{-\frac{2}{3}}{\frac{\sqrt{5}}{3}} \rightarrow tg \alpha = -\frac{2}{\sqrt{5}} = -\frac{2\sqrt{5}}{5}$$

- Representación de α en la circunferencia goniométrica:



$$sen \alpha = -\frac{2}{3} \rightarrow \alpha = \begin{cases} 318^\circ 11' 23'' \\ 221^\circ 48' 37'' \end{cases} \rightarrow$$

$$\xrightarrow{\alpha \in \text{IV cuadrante}} \alpha = 318^\circ 11' 23''$$

22. Justifica en qué cuadrante está α , en cada caso, y calcula las restantes razones trigonométricas:

a) $sen \alpha = 4/5$; $\alpha < 90^\circ$

b) $cos \alpha = 2/3$; $\alpha > 270^\circ$

c) $tg \alpha = 3$; $\alpha > 180^\circ$

d) $cos \alpha = -3/4$; $\alpha < 180^\circ$

a) $sen \alpha = \frac{4}{5}$, $\alpha < 90^\circ \rightarrow \alpha \in \text{I cuadrante y } cos \alpha > 0$

$$\bullet sen^2 \alpha + cos^2 \alpha = 1 \rightarrow cos^2 \alpha = 1 - \left(\frac{4}{5}\right)^2 \rightarrow cos^2 \alpha = \frac{9}{25} \rightarrow cos \alpha = \sqrt{\frac{9}{25}} = \frac{3}{5}$$

$$\bullet tg \alpha = \frac{sen \alpha}{cos \alpha} \rightarrow tg \alpha = \frac{4/5}{3/5} = \frac{4}{3}$$

b) $\cos \alpha = \frac{2}{3}$, $\alpha > 270^\circ \rightarrow \alpha \in \text{IV cuadrante y } \text{sen } \alpha < 0$

• $\text{sen}^2 \alpha + \cos^2 \alpha = 1 \rightarrow \text{sen}^2 \alpha = 1 - \left(\frac{2}{3}\right)^2 \rightarrow \text{sen}^2 \alpha = \frac{5}{9} \rightarrow \text{sen } \alpha = -\sqrt{\frac{5}{9}} = -\frac{\sqrt{5}}{3}$

• $\text{tg } \alpha = \frac{\text{sen } \alpha}{\cos \alpha} \rightarrow \text{tg } \alpha = \frac{-\frac{\sqrt{5}}{3}}{\frac{2}{3}} = \frac{-\sqrt{5}}{2}$

c) $\text{tg } \alpha = 3$, $\alpha > 180^\circ \rightarrow \alpha \in \text{III cuadrante}$

• $\left. \begin{array}{l} \frac{\text{sen } \alpha}{\cos \alpha} = 3 \\ \text{sen}^2 \alpha + \cos^2 \alpha = 1 \end{array} \right\} \rightarrow \text{sen } \alpha = 3 \cos \alpha$

$(3 \cos \alpha)^2 + \cos^2 \alpha = 1 \rightarrow 9 \cos^2 \alpha + \cos^2 \alpha = 1 \rightarrow 10 \cos^2 \alpha = 1 \rightarrow \cos^2 \alpha = \frac{1}{10} \rightarrow$

$\rightarrow \cos \alpha = -\sqrt{\frac{1}{10}} = -\frac{1}{\sqrt{10}} = \frac{-\sqrt{10}}{10}$

• $\text{sen } \alpha = 3 \cos \alpha \rightarrow \text{sen } \alpha = -\frac{3\sqrt{10}}{10}$

d) $\cos \alpha = -\frac{3}{4}$, $\alpha < 180^\circ \rightarrow \alpha \in \text{II cuadrante y } \text{sen } \alpha > 0$

• $\text{sen}^2 \alpha + \cos^2 \alpha = 1 \rightarrow \text{sen}^2 \alpha = 1 - \cos^2 \alpha \rightarrow \text{sen}^2 \alpha = 1 - \left(-\frac{3}{4}\right)^2 \rightarrow$

$\rightarrow \text{sen}^2 \alpha = \frac{7}{16} \rightarrow \text{sen } \alpha = \sqrt{\frac{7}{16}} = \frac{\sqrt{7}}{4}$

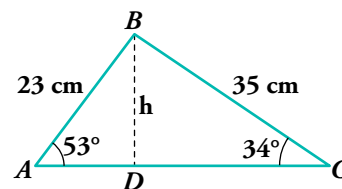
• $\text{tg } \alpha = \frac{\text{sen } \alpha}{\cos \alpha} \rightarrow \text{tg } \alpha = \frac{\frac{\sqrt{7}}{4}}{-\frac{3}{4}} = \frac{-\sqrt{7}}{3}$

Aplica lo aprendido

23.  Halla:

a) La longitud \overline{AC} .

b) El área del triángulo ABC .




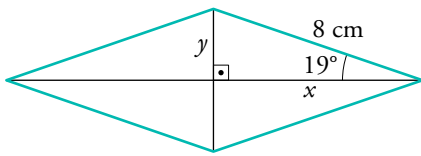
a) En \widehat{ABD} , $\cos 53^\circ = \frac{\overline{AD}}{23} \rightarrow \overline{AD} \approx 13,84 \text{ cm}$
 En \widehat{BDC} , $\cos 34^\circ = \frac{\overline{DC}}{23} \rightarrow \overline{DC} \approx 29 \text{ cm}$ } $\overline{AC} \approx 13,84 + 29 = 42,84 \text{ cm}$

b) Hallamos la altura h en el triángulo ABD :

$\text{sen } 53^\circ = \frac{h}{23} \rightarrow h \approx 18,37 \text{ cm}$

$A_{ABC} = \frac{\overline{AC} \cdot h}{2} = \frac{42,84 \cdot 18,37}{2} \approx 393,49 \text{ cm}^2$

24.  El lado de un rombo mide 8 cm y el ángulo menor es de 38° . ¿Cuánto miden las diagonales del rombo?




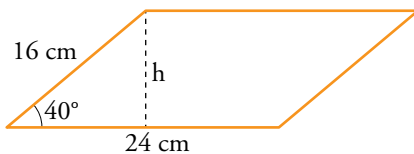
$$\bullet \operatorname{sen} 19^\circ = \frac{y}{8} \rightarrow y = 8 \cdot \operatorname{sen} 19^\circ \rightarrow y = 2,60 \text{ cm}$$

$$\text{Diagonal menor} = 2y = 5,20 \text{ cm}$$

$$\bullet \operatorname{cos} 19^\circ = \frac{x}{8} \rightarrow x = 8 \cdot \operatorname{cos} 19^\circ \rightarrow x = 7,56 \text{ cm}$$


$$\text{Diagonal mayor} = 2x = 15,12 \text{ cm}$$

25.  Halla el área de un paralelogramo cuyos lados miden 16 cm y 24 cm y forman un ángulo de 40° .



$$\operatorname{sen} 40^\circ = \frac{h}{16} \rightarrow h = 16 \cdot \operatorname{sen} 40^\circ \rightarrow h = 10,28 \text{ cm}$$


$$\text{Área} = 24 \cdot 10,28 = 246,72 \text{ cm}^2$$

26.  En una carretera de montaña, una señal indica una altitud de 785 m. Tres kilómetros más adelante, la altitud es de 1 065 m. Halla la pendiente media de la carretera y el ángulo que forma con la horizontal.

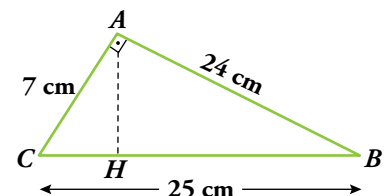


$$\operatorname{sen} \alpha = \frac{280}{3000} \rightarrow \operatorname{sen} \alpha = \frac{7}{75} \rightarrow \alpha = 5^\circ 21' 19''$$

$$\operatorname{tg} \alpha = 0,093 \rightarrow \text{pendiente} = 9,3\%$$

27.  a) En el triángulo ABC , rectángulo en A , calcula \overline{BH} y \overline{AH} .

- b) Halla las razones trigonométricas del ángulo \hat{B} en el triángulo ABC y en el triángulo ABH y comprueba que coinciden.



- a) Por el teorema del cateto:

$$24^2 = 25 \cdot \overline{BH} \rightarrow \overline{BH} = \frac{24^2}{25} \rightarrow \overline{BH} = 23,04 \text{ cm}$$

Por el teorema de Pitágoras:

$$\overline{AH}^2 = 24^2 - 23,04^2 \rightarrow \overline{AH} = \sqrt{24^2 - 23,04^2} \rightarrow \overline{AH} = 6,72 \text{ cm}$$

- b) Razones trigonométricas de \hat{B} en \widehat{ABH} :

$$\operatorname{sen} \hat{B} = \frac{\overline{AH}}{\overline{AB}} = \frac{6,72}{24} = 0,28$$

$$\operatorname{cos} \hat{B} = \frac{\overline{BH}}{\overline{AB}} = \frac{23,04}{24} = 0,96$$


$$\operatorname{tg} \hat{B} = \frac{\overline{AH}}{\overline{BH}} = \frac{6,72}{23,04} = 0,29$$

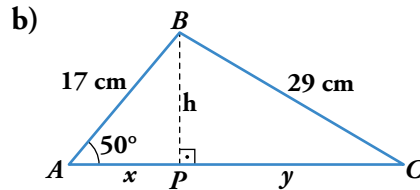
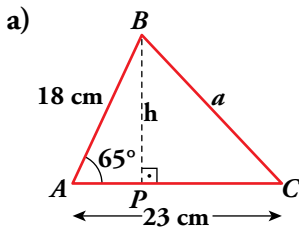
Razones trigonométricas de \hat{B} en \widehat{ABC} :

$$\operatorname{sen} \hat{B} = \frac{\overline{AC}}{\overline{BC}} = \frac{7}{25} = 0,28$$

$$\operatorname{cos} \hat{B} = \frac{\overline{AB}}{\overline{BC}} = \frac{24}{25} = 0,96$$

$$\operatorname{tg} \hat{B} = \frac{\overline{AC}}{\overline{AB}} = \frac{7}{24} = 0,29$$

28.  Halla, en cada triángulo, la altura y el lado desconocido:



a) En el triángulo ABP :

$$\operatorname{sen} 65^\circ = \frac{h}{18} \rightarrow h \approx 16,31 \text{ cm}$$

$$\operatorname{cos} 65^\circ = \frac{\overline{AP}}{18} \rightarrow \overline{AP} \approx 7,61$$

$$\overline{PC} = \overline{AC} - \overline{AP} = 23 - 7,61 = 15,39$$

$$a = \sqrt{h^2 + \overline{PC}^2} = \sqrt{16,31^2 + 15,39^2} \approx 22,42 \text{ cm}$$


b) En el triángulo ABP :

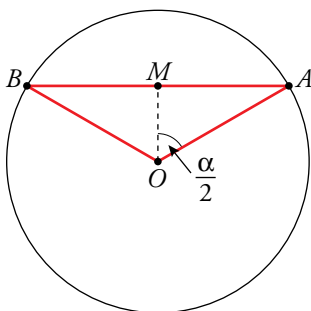
$$\operatorname{cos} 50^\circ = \frac{x}{17} \rightarrow x \approx 10,93 \text{ cm}$$

$$\operatorname{sen} 50^\circ = \frac{h}{17} \rightarrow h \approx 13,02 \text{ cm}$$

$$\text{En el triángulo } BCP: y = \sqrt{29^2 - h^2} = \sqrt{29^2 - 13,02^2} \approx 25,91 \text{ cm}$$

$$x + y \approx 36,84 \text{ cm}$$

29.  En una circunferencia de radio 6 cm trazamos una cuerda AB a 3 cm del centro O .
Halla el ángulo \widehat{AOB} .



$$\overline{OA} = \overline{OB} = 6 \text{ cm}; \overline{OM} = 3 \text{ cm}$$

$$\operatorname{cos} \frac{\alpha}{2} = \frac{3}{6} \rightarrow \operatorname{cos} \frac{\alpha}{2} = \frac{1}{2} \rightarrow \frac{\alpha}{2} = 60^\circ \rightarrow$$

$$\rightarrow \alpha = \widehat{AOB} = 120^\circ$$

30.  a) Expresa en radianes los ángulos de 30° , 45° , 60° y 90° a partir de la equivalencia $180^\circ = \pi \text{ rad}$.

b) Expresa en radianes los siguientes ángulos teniendo en cuenta que son múltiplos de los anteriores: 150° ; 135° ; 240° ; 300° y 270° .

$$\text{a) } 30^\circ = \frac{30\pi}{180} \text{ rad} = \frac{\pi}{6} \text{ rad}$$

$$\text{b) } 150^\circ = 5 \cdot 30^\circ = \frac{5\pi}{6} \text{ rad}$$

$$45^\circ = \frac{45\pi}{180} \text{ rad} = \frac{\pi}{4} \text{ rad}$$

$$135^\circ = 3 \cdot 45^\circ = \frac{3\pi}{4} \text{ rad}$$

$$60^\circ = \frac{60\pi}{180} \text{ rad} = \frac{\pi}{3} \text{ rad}$$

$$240^\circ = 4 \cdot 60^\circ = \frac{4\pi}{3} \text{ rad}$$

$$90^\circ = \frac{90\pi}{180} \text{ rad} = \frac{\pi}{2} \text{ rad}$$

$$300^\circ = 5 \cdot 60^\circ = \frac{5\pi}{3} \text{ rad}$$

$$270^\circ = 3 \cdot 90^\circ = \frac{3\pi}{2} \text{ rad}$$

Página 160

31. Expresa en grados los siguientes ángulos dados en radianes:

$$\frac{2\pi}{3}; \frac{3\pi}{2}; \frac{5\pi}{4}; \frac{7\pi}{6}; \frac{\pi}{9}; \frac{\pi}{5}$$

Teniendo en cuenta que $\pi \text{ rad} = 180^\circ$:

$$\begin{aligned} \frac{2\pi}{3} \text{ rad} &= \frac{2 \cdot 180^\circ}{3} = 120^\circ & \frac{3\pi}{2} \text{ rad} &= \frac{3 \cdot 180^\circ}{2} = 270^\circ \\ \frac{5\pi}{4} \text{ rad} &= \frac{5 \cdot 180^\circ}{4} = 225^\circ & \frac{7\pi}{6} \text{ rad} &= \frac{7 \cdot 180^\circ}{6} = 210^\circ \\ \frac{\pi}{9} \text{ rad} &= \frac{180^\circ}{9} = 20^\circ & \frac{\pi}{5} \text{ rad} &= \frac{180^\circ}{5} = 36^\circ \end{aligned}$$

32. a) En una circunferencia de 8 cm de radio, dibujamos un ángulo de 2,5 radianes. ¿Qué longitud tendrá el arco correspondiente?

b) Si en la misma circunferencia, un arco mide 12 cm, halla la medida del ángulo central en grados y en radianes.

a) Sabemos que si un ángulo mide 1 rad entonces el arco correspondiente tendrá una longitud igual al radio, por tanto, a un ángulo de 2,5 rad le corresponde un arco cuya longitud es 2,5 veces el radio. En nuestro caso:

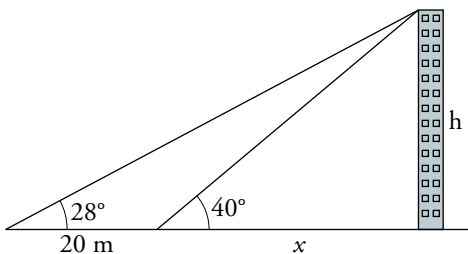
$$\text{Longitud del arco} = \alpha \cdot r = 2,5 \cdot 8 = 20 \text{ cm}$$

$$\left. \begin{array}{l} \text{Longitud del arco} = 12 \text{ cm} \\ \text{Radio} = 8 \text{ cm} \end{array} \right\} \rightarrow \alpha = \frac{\text{Longitud del arco}}{r} = \frac{12}{8} \text{ rad} = 1,5 \text{ rad}$$

$$\left. \begin{array}{l} 180^\circ \text{ — } \pi \text{ rad} \\ x \text{ — } 1,5 \text{ rad} \end{array} \right\} \rightarrow x = \frac{1,5 \cdot 180^\circ}{\pi} = 85^\circ 59' 14''$$

Resuelve problemas

33. Desde el punto donde estoy, la visual al punto más alto del edificio que tengo en frente forma un ángulo de 28° con la horizontal. Si me acerco 20 m, el ángulo es de 40° . ¿Cuál es la altura del edificio?



$$\left. \begin{array}{l} \text{tg } 40^\circ = \frac{h}{x} \\ \text{tg } 28^\circ = \frac{h}{20+x} \end{array} \right\} \begin{array}{l} h = \text{tg } 40^\circ \cdot x \\ h = \text{tg } 28^\circ \cdot (20+x) \end{array} \rightarrow$$

$$\rightarrow \text{tg } 40^\circ \cdot x = \text{tg } 28^\circ \cdot (20+x) \rightarrow \text{tg } 40^\circ \cdot x = 20 \cdot \text{tg } 28^\circ + \text{tg } 28^\circ \cdot x \rightarrow$$

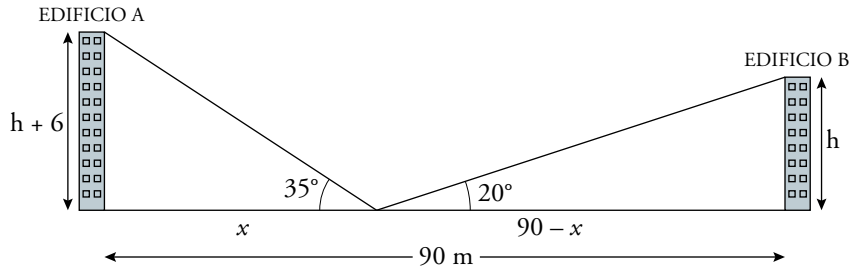
$$\rightarrow (\text{tg } 40^\circ - \text{tg } 28^\circ) \cdot x = 20 \cdot \text{tg } 28^\circ \rightarrow x = \frac{20 \cdot \text{tg } 28^\circ}{\text{tg } 40^\circ - \text{tg } 28^\circ} \rightarrow x = 34,59 \text{ m}$$

$$h = \text{tg } 40^\circ \cdot x \rightarrow h = 29,02 \text{ m}$$

Por tanto, el edificio mide 29,02 m.

34. Dos edificios distan entre sí 90 m. Desde un punto que está entre los dos edificios vemos que las visuales a los puntos más altos de estos forman con la horizontal ángulos de 35° y 20° . ¿Cuál es la altura de los edificios si sabemos que uno es 6 m más alto que el otro?

- Primera solución: el edificio A es más alto que el B.



$$\left. \begin{array}{l} \operatorname{tg} 35^\circ = \frac{h+6}{x} \\ \operatorname{tg} 20^\circ = \frac{h}{90-x} \end{array} \right\} \rightarrow \left. \begin{array}{l} h = \operatorname{tg} 35^\circ \cdot x - 6 \\ h = \operatorname{tg} 20^\circ \cdot (90-x) \end{array} \right\} \rightarrow \operatorname{tg} 35^\circ \cdot x - 6 = \operatorname{tg} 20^\circ \cdot (90-x) \rightarrow$$

$$\rightarrow \operatorname{tg} 35^\circ \cdot x - 6 = 90 \cdot \operatorname{tg} 20^\circ - \operatorname{tg} 20^\circ \cdot x \rightarrow \operatorname{tg} 35^\circ \cdot x + \operatorname{tg} 20^\circ \cdot x = 90 \cdot \operatorname{tg} 20^\circ + 6 \rightarrow$$

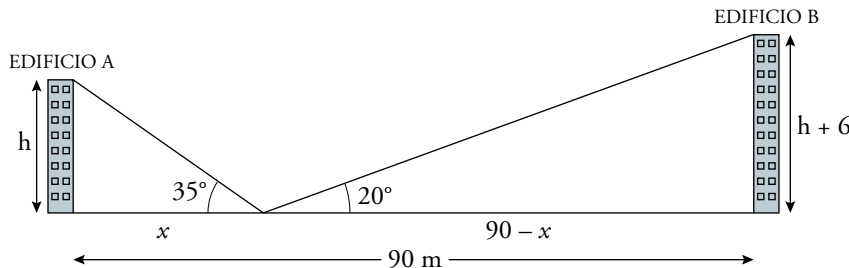
$$\rightarrow (\operatorname{tg} 35^\circ + \operatorname{tg} 20^\circ) \cdot x = 90 \cdot \operatorname{tg} 20^\circ + 6 \rightarrow x = \frac{90 \cdot \operatorname{tg} 20^\circ + 6}{\operatorname{tg} 35^\circ + \operatorname{tg} 20^\circ} \rightarrow x = 36,42 \text{ m}$$

$$h = \operatorname{tg} 35^\circ \cdot x - 6 \rightarrow h = 19,50 \text{ m}$$

$$\text{Altura del edificio A} = h + 6 = 25,50 \text{ m}$$

$$\text{Altura del edificio B} = h = 19,50 \text{ m}$$

- Segunda solución: el edificio B es más alto que el A.



$$\left. \begin{array}{l} \operatorname{tg} 35^\circ = \frac{h}{x} \\ \operatorname{tg} 20^\circ = \frac{h+6}{90-x} \end{array} \right\} \rightarrow \left. \begin{array}{l} h = x \cdot \operatorname{tg} 35^\circ \\ \operatorname{tg} 20^\circ \cdot (90-x) = h + 6 \end{array} \right\} \rightarrow \operatorname{tg} 20^\circ \cdot (90-x) = x \cdot \operatorname{tg} 35^\circ + 6 \rightarrow$$


$$\rightarrow 90 \cdot \operatorname{tg} 20^\circ - x \cdot \operatorname{tg} 20^\circ = x \cdot \operatorname{tg} 35^\circ + 6 \rightarrow 90 \cdot \operatorname{tg} 20^\circ - 6 = x \cdot (\operatorname{tg} 35^\circ + \operatorname{tg} 20^\circ) \rightarrow$$

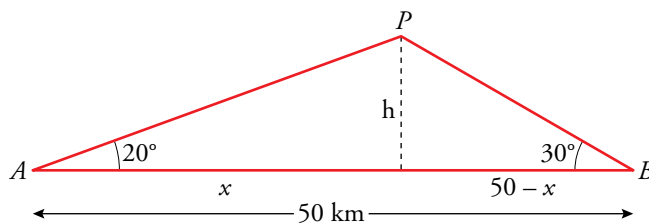
$$\rightarrow x = \frac{90 \cdot \operatorname{tg} 20^\circ - 6}{\operatorname{tg} 35^\circ + \operatorname{tg} 20^\circ} \rightarrow x = 25,14 \text{ m}$$

$$h = x \cdot \operatorname{tg} 35^\circ \rightarrow h = 17,60 \text{ m}$$

$$\text{Altura del edificio A} = h = 17,60 \text{ m}$$

$$\text{Altura del edificio B} = h + 6 = 23,60 \text{ m}$$

35.  Un avión P vuela entre dos ciudades A y B que distan entre sí 50 km. Desde el avión se miden los ángulos $\widehat{PAB} = 20^\circ$ y $\widehat{PBA} = 30^\circ$. ¿A qué altura está el avión?




$$\left. \begin{array}{l} \operatorname{tg} 20^\circ = \frac{h}{x} \\ \operatorname{tg} 30^\circ = \frac{h}{50-x} \end{array} \right\} \rightarrow \left. \begin{array}{l} h = \operatorname{tg} 20^\circ \cdot x \\ h = \operatorname{tg} 30^\circ \cdot (50-x) \end{array} \right\} \rightarrow \operatorname{tg} 20^\circ \cdot x = \operatorname{tg} 30^\circ \cdot (50-x) \rightarrow$$

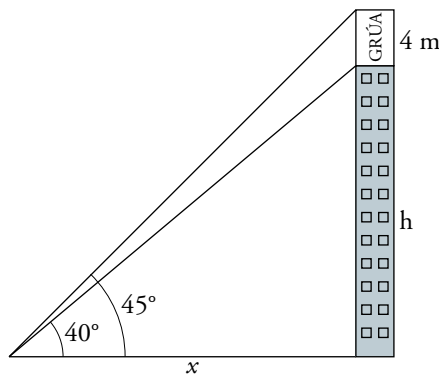
$$\rightarrow \operatorname{tg} 20^\circ \cdot x = 50 \cdot \operatorname{tg} 30^\circ - \operatorname{tg} 30^\circ \cdot x \rightarrow$$

$$\rightarrow x = \frac{50 \cdot \operatorname{tg} 30^\circ}{\operatorname{tg} 20^\circ + \operatorname{tg} 30^\circ} \rightarrow x = 30,67 \text{ km}$$

$$h = \operatorname{tg} 20^\circ \cdot x \rightarrow h = 11,16 \text{ km}$$

Por tanto, el avión vuela a 11,16 km de altura.

36.  En lo alto de un edificio en construcción hay una grúa de 4 m. Desde un punto del suelo se ve el punto más alto de la grúa bajo un ángulo de 45° con respecto a la horizontal y el punto más alto del edificio bajo un ángulo de 40° con la horizontal. Calcula la altura del edificio.




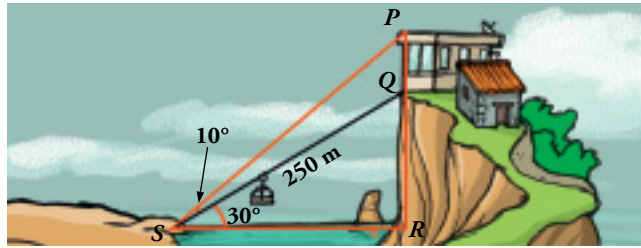
$$\left. \begin{array}{l} \operatorname{tg} 40^\circ = \frac{h}{x} \\ \operatorname{tg} 45^\circ = \frac{h+4}{x} \end{array} \right\} \rightarrow \left. \begin{array}{l} h = \operatorname{tg} 40^\circ \cdot x \\ h = \operatorname{tg} 45^\circ \cdot x - 4 \end{array} \right\} \rightarrow \operatorname{tg} 40^\circ \cdot x = \operatorname{tg} 45^\circ \cdot x - 4 \rightarrow$$

$$\rightarrow 4 = (\operatorname{tg} 45^\circ - \operatorname{tg} 40^\circ) \cdot x \rightarrow x = \frac{4}{\operatorname{tg} 45^\circ - \operatorname{tg} 40^\circ} \rightarrow x = 24,86 \text{ m}$$

$$h = \operatorname{tg} 40^\circ \cdot x \rightarrow h = 20,86 \text{ m}$$

Por tanto, el edificio mide 20,86 m de altura.

37.  Para calcular la altura del edificio, \overline{PQ} , hemos medido los ángulos que indica la figura. Sabemos que hay un funicular para ir de S a Q , cuya longitud es de 250 m. Halla \overline{PQ} .



- Calculamos \overline{SR} y \overline{RQ} en el triángulo \widehat{SRQ} :

$$\operatorname{sen} 30^\circ = \frac{\overline{RQ}}{250} \rightarrow \overline{RQ} = 250 \cdot \operatorname{sen} 30^\circ \rightarrow \overline{RQ} = 125 \text{ m}$$


$$\operatorname{cos} 30^\circ = \frac{\overline{SR}}{250} \rightarrow \overline{SR} = 250 \cdot \operatorname{cos} 30^\circ \rightarrow \overline{SR} = 125\sqrt{3} \text{ m}$$

- Calculamos \overline{RP} en el triángulo \widehat{SPR} :

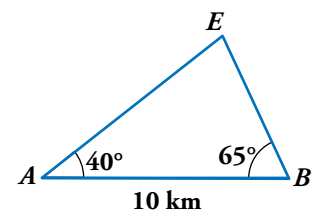
$$\operatorname{tg} 40^\circ = \frac{\overline{RP}}{\overline{SR}} \rightarrow \operatorname{tg} 40^\circ = \frac{\overline{RP}}{125\sqrt{3}} \rightarrow \overline{RP} = 125\sqrt{3} \cdot \operatorname{tg} 40^\circ \rightarrow \overline{RP} = 181,67 \text{ m}$$

Luego $\overline{PQ} = \overline{RP} - \overline{RQ} = 181,67 \text{ m} - 125 \text{ m} = 56,67 \text{ m}$

Por tanto, la altura del edificio es de 56,67 m.

38.  Para localizar una emisora clandestina, dos receptores, A y B , que distan entre sí 10 km, orientan sus antenas hacia el punto donde está la emisora.

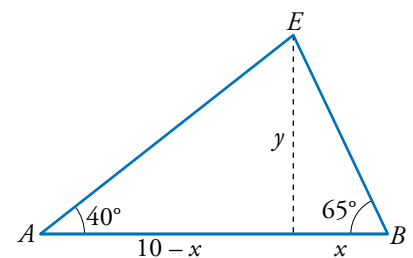
Estas direcciones forman con AB ángulos de 40° y 65° . ¿A qué distancia de A y B se encuentra la emisora?



$$\left. \begin{array}{l} \operatorname{tg} 65^\circ = \frac{y}{x} \\ \operatorname{tg} 40^\circ = \frac{y}{10-x} \end{array} \right\} \rightarrow \left. \begin{array}{l} y = \operatorname{tg} 65^\circ \cdot x \\ y = \operatorname{tg} 40^\circ \cdot (10-x) \end{array} \right\} \rightarrow$$

$$\rightarrow \operatorname{tg} 65^\circ \cdot x = \operatorname{tg} 40^\circ \cdot (10-x) \rightarrow \operatorname{tg} 65^\circ \cdot x = 10 \cdot \operatorname{tg} 40^\circ - \operatorname{tg} 40^\circ \cdot x \rightarrow$$

$$\rightarrow (\operatorname{tg} 65^\circ + \operatorname{tg} 40^\circ) \cdot x = 10 \cdot \operatorname{tg} 40^\circ \rightarrow x = \frac{10 \cdot \operatorname{tg} 40^\circ}{\operatorname{tg} 65^\circ + \operatorname{tg} 40^\circ} \rightarrow x = 2,81 \text{ km}$$



$$y = \operatorname{tg} 65^\circ \cdot x \rightarrow y = 6,03 \text{ km}$$

Conocidos x e y podemos hallar las distancias de A y B a la emisora.

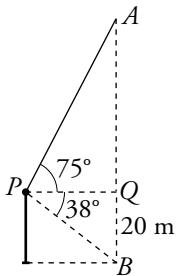
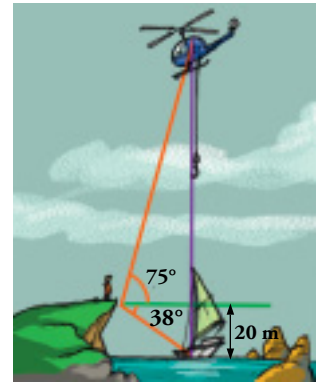
$$\operatorname{sen} 40^\circ = \frac{y}{\overline{AE}} \rightarrow \overline{AE} = \frac{y}{\operatorname{sen} 40^\circ} \rightarrow \overline{AE} = 9,38 \text{ km}$$

$$\operatorname{sen} 65^\circ = \frac{y}{\overline{BE}} \rightarrow \overline{BE} = \frac{y}{\operatorname{sen} 65^\circ} \rightarrow \overline{BE} = 6,65 \text{ km}$$

Por tanto, la emisora se encuentra a 9,38 km de A y a 6,65 km de B .

39. Desde un acantilado a 20 m sobre el nivel del mar, se observa un helicóptero en prácticas de salvamento.

Una persona desciende verticalmente hasta un barco en el que alguien está en peligro. Si los ángulos de observación son de 75° para el helicóptero y 38° para el barco, ¿cuánto medirá el cable que va desde el helicóptero al barco?

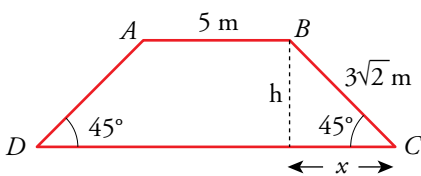


$$\text{En el triángulo } PQB \rightarrow \operatorname{tg} 38^\circ = \frac{20}{PQ} \rightarrow \overline{PQ} = 25,6 \text{ m}$$

$$\text{En el triángulo } PQA \rightarrow \operatorname{tg} 75^\circ = \frac{\overline{AQ}}{PQ} \rightarrow \overline{AQ} = 25,6 \cdot \operatorname{tg} 75^\circ = 95,5 \text{ m}$$

$$\text{Longitud del cable} = 95,5 + 20 = 115,5 \text{ m}$$

40. En un trapecio isósceles de bases AB y DC , conocemos los lados $\overline{AB} = 5 \text{ m}$ y $\overline{BC} = 3\sqrt{2} \text{ m}$, y los ángulos que forma la base mayor con los lados oblicuos, que son de 45° . Halla su área.



$$\operatorname{sen} 45^\circ = \frac{h}{3\sqrt{2}} \rightarrow h = 3 \text{ m}$$

$$\operatorname{cos} 45^\circ = \frac{x}{3\sqrt{2}} \rightarrow x = 3 \text{ m}$$

$$\text{Base mayor} = 5 + 3 + 3 = 11 \text{ m}$$

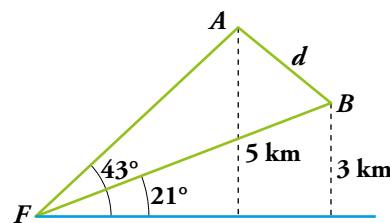
$$\text{Área} = \frac{(5 + 11) \cdot 3}{2} = 24 \text{ m}^2$$

41. Desde un faro F se observa un barco A bajo un ángulo de 43° con respecto a la línea de la costa; y un barco B , bajo un ángulo de 21° . El barco A está a 5 km de la costa, y el B , a 3 km. Calcula la distancia entre los barcos.

Calculamos \overline{FA} y \overline{FB} :

$$\operatorname{sen} 43^\circ = \frac{5}{\overline{FA}} \rightarrow \overline{FA} = \frac{5}{\operatorname{sen} 43^\circ} = 7,33 \text{ km}$$

$$\operatorname{sen} 21^\circ = \frac{3}{\overline{FB}} \rightarrow \overline{FB} = \frac{3}{\operatorname{sen} 21^\circ} = 8,37 \text{ km}$$



Para calcular d utilizamos el triángulo de la derecha:

$$\operatorname{sen} 22^\circ = \frac{h}{7,33}$$

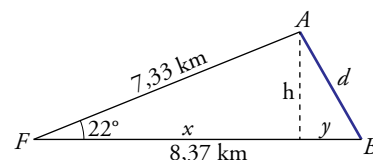
$$h = 7,33 \cdot \operatorname{sen} 22^\circ = 2,74 \text{ km}$$


$$\operatorname{cos} 22^\circ = \frac{x}{7,33} \rightarrow x = 7,33 \cdot \operatorname{cos} 22^\circ = 6,8 \text{ km}$$

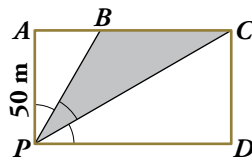
$$y = 8,37 - x \rightarrow y = 8,37 - 6,8 = 1,57 \text{ km}$$

$$\text{Utilizamos el teorema de Pitágoras: } d = \sqrt{h^2 + y^2} = \sqrt{2,74^2 + 1,57^2} = 3,16 \text{ km}$$

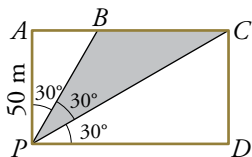
La distancia entre A y B es de 3,16 km.



42.  Para iluminar una parcela rectangular se han colocado tres focos en P de modo que los ángulos de iluminación \widehat{APB} , \widehat{BPC} y \widehat{CPD} son iguales.



Una avería apaga el foco central. ¿Cuál es el área y el perímetro de la zona oscurecida, si $\overline{AP} = 50$ m?



En el triángulo $PAB \rightarrow \operatorname{tg} 30^\circ = \frac{\overline{AB}}{50} \rightarrow \overline{AB} = 28,9$ m

En el triángulo $PAC \rightarrow \operatorname{tg} 60^\circ = \frac{\overline{AC}}{50} \rightarrow \overline{AC} = 86,6$ m

En el triángulo $PAC \rightarrow \cos 60^\circ = \frac{50}{\overline{PC}} \rightarrow \overline{PC} = 100$ m

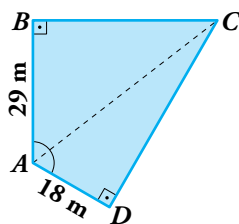
$$\left. \begin{array}{l} \text{Área rectángulo} = 50 \cdot 86,6 = 4\,330 \text{ m}^2 \\ \text{Área } APB = \frac{28,9 \cdot 50}{2} = 722,5 \text{ m}^2 \\ \text{Área } PDC = \frac{86,6 \cdot 50}{2} = 2\,165 \text{ m}^2 \end{array} \right\} \begin{array}{l} \text{Área de } PBC: \\ 4\,330 - (722,5 + 2\,165) = 1\,442,5 \text{ m}^2 \end{array}$$

Calculamos ahora el perímetro de PBC :

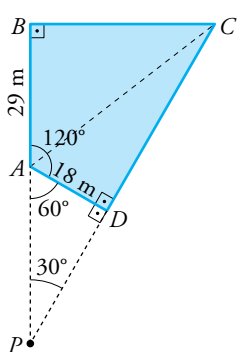
$$\left. \begin{array}{l} \text{En } APB, \cos 30^\circ = \frac{50}{\overline{PB}} \rightarrow \overline{PB} = 57,7 \text{ m} \\ \overline{BC} = 86,6 - 28,9 = 57,7 \text{ m} \end{array} \right\} \begin{array}{l} \text{Perímetro de } PBC: \\ \overline{PB} + \overline{BC} + \overline{PC} = 215,4 \text{ m} \end{array}$$

Página 161

43. En la parcela $ABCD$ conocemos $\hat{B} = \hat{D} = 90^\circ$; $\hat{A} = 120^\circ$; $\overline{AD} = 18$ m y $\overline{AB} = 29$ m. Queremos averiguar la longitud de la diagonal AC .



Un amigo topógrafo nos sugiere prolongar los lados BA y CD hasta que se corten en un punto P y averiguar cuánto mide el ángulo \widehat{APD} . Hazlo tú.



$$\widehat{PAD} = 180^\circ - 120^\circ = 60^\circ$$

$$\widehat{APD} = 90^\circ - 60^\circ = 30^\circ$$

En el triángulo APD , $\text{sen } 30^\circ = \frac{18}{AP} \rightarrow \overline{AP} = 36$ m

$$\overline{BP} = 29 + 36 = 65$$
 m

En el triángulo BPC : $\text{tg } 30^\circ = \frac{BC}{65} \rightarrow \overline{BC} = 37,5$ m

En el triángulo $ABC \rightarrow \overline{AC} = \sqrt{29^2 + 37,5^2} = 47,4$ m

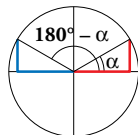
Problemas “+”

44. Sobre la circunferencia goniométrica señalamos un ángulo α en el primer cuadrante y a partir de él dibujamos los ángulos:

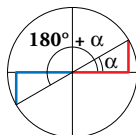
$$180^\circ - \alpha \quad 180^\circ + \alpha \quad 360^\circ - \alpha$$

Busca la relación que existe entre:

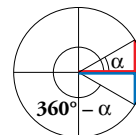
- a) $\text{sen}(180^\circ - \alpha)$ y $\text{sen } \alpha$
 $\text{cos}(180^\circ - \alpha)$ y $\text{cos } \alpha$
 $\text{tg}(180^\circ - \alpha)$ y $\text{tg } \alpha$



- b) $\text{sen}(180^\circ + \alpha)$ y $\text{sen } \alpha$
 $\text{cos}(180^\circ + \alpha)$ y $\text{cos } \alpha$
 $\text{tg}(180^\circ + \alpha)$ y $\text{tg } \alpha$




- c) $\text{sen}(360^\circ - \alpha)$ y $\text{sen } \alpha$
 $\text{cos}(360^\circ - \alpha)$ y $\text{cos } \alpha$
 $\text{tg}(360^\circ - \alpha)$ y $\text{tg } \alpha$



- a) $\text{sen}(180^\circ - \alpha) = \text{sen } \alpha$
 $\text{cos}(180^\circ - \alpha) = -\text{cos } \alpha$
 $\text{tg}(180^\circ - \alpha) = -\text{tg } \alpha$

- b) $\text{sen}(180^\circ + \alpha) = -\text{sen } \alpha$
 $\text{cos}(180^\circ + \alpha) = -\text{cos } \alpha$
 $\text{tg}(180^\circ + \alpha) = \text{tg } \alpha$

- c) $\text{sen}(360^\circ - \alpha) = -\text{sen } \alpha$
 $\text{cos}(360^\circ - \alpha) = \text{cos } \alpha$
 $\text{tg}(360^\circ - \alpha) = -\text{tg } \alpha$

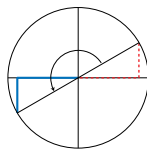
45.  Sitúa el ángulo dado sobre la circunferencia goniométrica y expresa sus razones trigonométricas utilizando un ángulo agudo como en el ejemplo:

- **Ángulo: 215°**

$$\text{sen } 215^\circ = -\text{sen } 35^\circ$$

$$\text{cos } 215^\circ = -\text{cos } 35^\circ$$

$$\text{tg } 215^\circ = \text{tg } 35^\circ$$



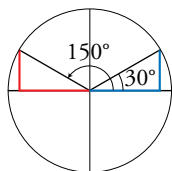
a) 150°

d) 225°

a) $\text{sen } 150^\circ = \text{sen } 30^\circ$

$$\text{cos } 150^\circ = -\text{cos } 30^\circ$$

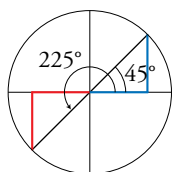
$$\text{tg } 150^\circ = -\text{tg } 30^\circ$$



d) $\text{sen } 225^\circ = -\text{sen } 45^\circ$

$$\text{cos } 225^\circ = -\text{cos } 45^\circ$$

$$\text{tg } 225^\circ = \text{tg } 45^\circ$$



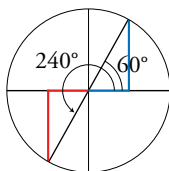
b) 240°

e) 100°

b) $\text{sen } 240^\circ = -\text{sen } 60^\circ$

$$\text{cos } 240^\circ = -\text{cos } 60^\circ$$

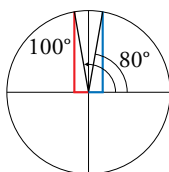
$$\text{tg } 240^\circ = \text{tg } 60^\circ$$



e) $\text{sen } 100^\circ = \text{sen } 80^\circ$

$$\text{cos } 100^\circ = -\text{cos } 80^\circ$$

$$\text{tg } 100^\circ = -\text{tg } 80^\circ$$



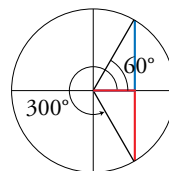
c) 300°

f) 320°

c) $\text{sen } 300^\circ = -\text{sen } 60^\circ$

$$\text{cos } 300^\circ = \text{cos } 60^\circ$$

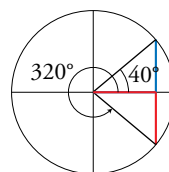
$$\text{tg } 300^\circ = -\text{tg } 60^\circ$$



f) $\text{sen } 320^\circ = -\text{sen } 40^\circ$

$$\text{cos } 320^\circ = \text{cos } 40^\circ$$

$$\text{tg } 320^\circ = -\text{tg } 40^\circ$$



46.  Halla los ángulos comprendidos entre 0° y 360° que verifican las siguientes ecuaciones, como en el ejemplo:

- $1 - 2\text{cos } x = 0 \rightarrow \text{cos } x = 1/2 \rightarrow x = 60^\circ; x = 300^\circ$

a) $2\text{sen } x = \sqrt{3}$

b) $2\text{sen } x = -\sqrt{2}$

c) $3\text{tg } x + 3 = 0$

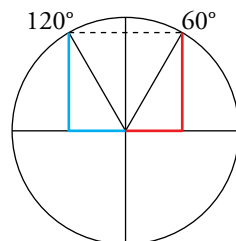
d) $(\text{sen } x)^2 = 1$

e) $(\text{sen } x)^2 - \text{sen } x = 0$

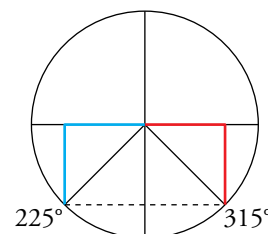
f) $4(\text{sen } x)^2 - 1 = 0$

g) $2(\text{cos } x)^2 - \text{cos } x - 1 = 0$

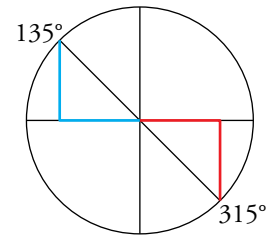
a) $2\text{sen } x = \sqrt{3} \rightarrow \text{sen } x = \frac{\sqrt{3}}{2} \rightarrow \begin{cases} x = 60^\circ \\ x = 120^\circ \end{cases}$



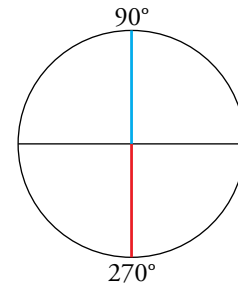
b) $2\text{sen } x = -\sqrt{2} \rightarrow \text{sen } x = -\frac{\sqrt{2}}{2} \rightarrow \begin{cases} x = 225^\circ \\ x = 315^\circ \end{cases}$



c) $3 \operatorname{tg} x + 3 = 0 \rightarrow 3 \operatorname{tg} x = -3 \rightarrow \operatorname{tg} x = -1 \rightarrow \begin{cases} x = 135^\circ \\ x = 315^\circ \end{cases}$



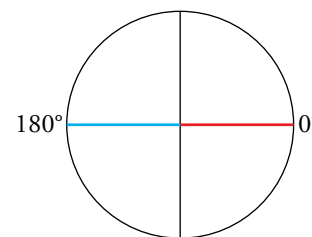
d) $\operatorname{sen}^2 x = 1 \rightarrow \operatorname{sen} x = \pm 1 \rightarrow \begin{cases} \operatorname{sen} x = 1 \rightarrow x = 90^\circ \\ \operatorname{sen} x = -1 \rightarrow x = 270^\circ \end{cases}$



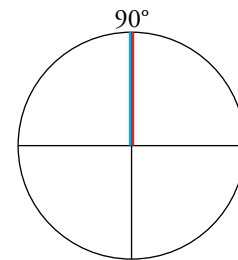
e) $(\operatorname{sen} x)^2 - \operatorname{sen} x = 0$

$\operatorname{sen} x \cdot (\operatorname{sen} x - 1) = 0$

• $\operatorname{sen} x = 0 \rightarrow \begin{cases} x = 0^\circ \\ x = 180^\circ \end{cases}$



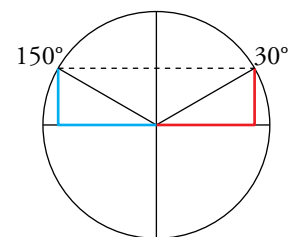
• $\operatorname{sen} x - 1 = 0 \rightarrow \operatorname{sen} x = 1 \rightarrow x = 90^\circ$



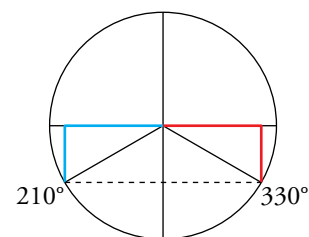
f) $4 \cdot (\operatorname{sen} x)^2 = 0 \rightarrow 4 \operatorname{sen}^2 x = 1 \rightarrow \operatorname{sen}^2 x = \frac{1}{4} \rightarrow$

$\rightarrow \operatorname{sen} x = \pm \frac{1}{2}$

• $\operatorname{sen} x = \frac{1}{2} \rightarrow \begin{cases} x = 30^\circ \\ x = 150^\circ \end{cases}$



• $\operatorname{sen} x = -\frac{1}{2} \rightarrow \begin{cases} x = 210^\circ \\ x = 330^\circ \end{cases}$



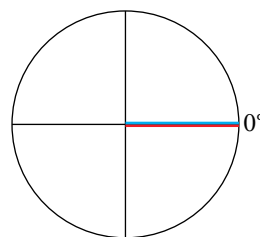
g) $2(\cos x)^2 - \cos x - 1 = 0$

Efectuamos el cambio de variable $\cos x = t \rightarrow 2t^2 - t - 1 = 0 \rightarrow$

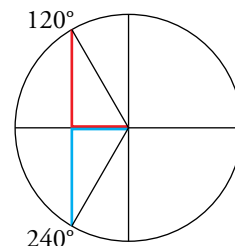
$$\rightarrow t = \frac{1 \pm \sqrt{1+8}}{4} = \frac{1 \pm 3}{4} = \begin{cases} t = 1 \\ t = -1/2 \end{cases}$$

Deshacemos el cambio de variable:

$t = 1 \rightarrow \cos x = 1 \rightarrow x = 0^\circ$



$$t = -\frac{1}{2} \rightarrow \cos x = -\frac{1}{2} \rightarrow \begin{cases} x = 120^\circ \\ x = 240^\circ \end{cases}$$



47. Usando las relaciones fundamentales, demuestra estas igualdades:

a) $(\operatorname{sen} \alpha + \operatorname{cos} \alpha)^2 + (\operatorname{sen} \alpha - \operatorname{cos} \alpha)^2 = 2$

b) $\frac{(\operatorname{sen} \alpha)^3 + \operatorname{sen} \alpha \cdot (\operatorname{cos} \alpha)^2}{\operatorname{sen} \alpha} = 1$

c) $\frac{(\operatorname{sen} \alpha)^3 + \operatorname{sen} \alpha \cdot (\operatorname{cos} \alpha)^2}{\operatorname{cos} \alpha} = \operatorname{tg} \alpha$

d) $1 + (\operatorname{tg} \alpha)^2 = \frac{1}{(\operatorname{cos} \alpha)^2}$


a) $(\operatorname{sen} \alpha + \operatorname{cos} \alpha)^2 + (\operatorname{sen} \alpha - \operatorname{cos} \alpha)^2 =$
 $= (\underbrace{\operatorname{sen}^2 \alpha + \operatorname{cos}^2 \alpha}_1 + 2\operatorname{sen} \alpha \operatorname{cos} \alpha) + (\underbrace{\operatorname{sen}^2 \alpha + \operatorname{cos}^2 \alpha}_1 - 2\operatorname{sen} \alpha \operatorname{cos} \alpha) =$
 $= 1 + 2\operatorname{sen} \alpha \operatorname{cos} \alpha + 1 - 2\operatorname{sen} \alpha \operatorname{cos} \alpha = 2$

b) $\frac{\operatorname{sen}^3 \alpha + \operatorname{sen} \alpha \cdot \operatorname{cos}^2 \alpha}{\operatorname{sen} \alpha} = \frac{\operatorname{sen} \alpha \cdot (\operatorname{sen}^2 \alpha + \operatorname{cos}^2 \alpha)}{\operatorname{sen} \alpha} = \operatorname{sen}^2 \alpha + \operatorname{cos}^2 \alpha = 1$

c) $\frac{\operatorname{sen}^3 \alpha + \operatorname{sen} \alpha \cdot \operatorname{cos}^2 \alpha}{\operatorname{cos} \alpha} = \frac{\operatorname{sen} \alpha \cdot (\operatorname{sen}^2 \alpha + \operatorname{cos}^2 \alpha)}{\operatorname{cos} \alpha} = \frac{\operatorname{sen} \alpha \cdot 1}{\operatorname{cos} \alpha} = \frac{\operatorname{sen} \alpha}{\operatorname{cos} \alpha} = \operatorname{tg} \alpha$

d) $1 + \operatorname{tg}^2 \alpha = 1 + \frac{\operatorname{sen}^2 \alpha}{\operatorname{cos}^2 \alpha} = \frac{\operatorname{cos}^2 \alpha + \operatorname{sen}^2 \alpha}{\operatorname{cos}^2 \alpha} = \frac{1}{\operatorname{cos}^2 \alpha}$

Reflexiona sobre la teoría

48.  ¿Verdadero o falso? Justifica y pon ejemplos.

- a) En un ángulo agudo, el seno es siempre mayor que la tangente.
- b) No existe ningún ángulo α tal que $\text{sen } \alpha = 3/5$ y $\text{tg } \alpha = 1/4$.
- c) El coseno de un ángulo de π radianes es igual a -1 .
- d) El valor máximo de la tangente de un ángulo es 1.
- e) Si $270^\circ < \alpha < 360^\circ$, entonces $\text{tg } \alpha < 0$ y $\text{cos } \alpha > 0$.
- f) No existe ningún ángulo α tal que: $\text{sen } \alpha + 2\text{cos } \alpha = 0$
- g) La altura de un triángulo es igual al producto de uno de sus lados por el seno del ángulo que forma dicho lado con la base.

a) Falso, por ejemplo, $\text{sen } 45^\circ = \frac{\sqrt{2}}{2} < \text{tg } 45^\circ = 1$.

b) Verdadero.

Si $\text{sen } \alpha = \frac{3}{5}$ y $\text{tg } \alpha = \frac{1}{4}$ entonces:

$$\text{tg } \alpha = \frac{\text{sen } \alpha}{\text{cos } \alpha} \rightarrow \text{cos } \alpha = \frac{\text{sen } \alpha}{\text{tg } \alpha} \rightarrow \text{cos } \alpha = \frac{12}{5}, \text{ imposible.}$$

c) Verdadero.

d) Falso, la tangente de un ángulo puede tomar cualquier valor real.

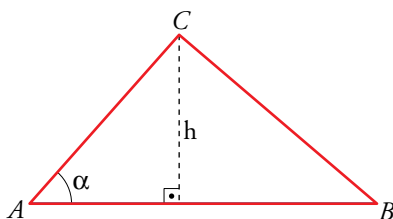
e) Verdadero.

f) Falso:


$$\text{sen } \alpha + 2\text{cos } \alpha = 0 \rightarrow \text{sen } \alpha = -2\text{cos } \alpha \rightarrow \frac{\text{sen } \alpha}{\text{cos } \alpha} = -2 \rightarrow$$

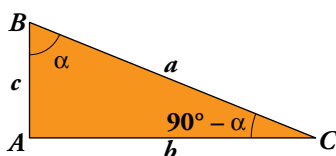
$$\rightarrow \text{tg } \alpha = -2 \rightarrow \begin{cases} \alpha = 116^\circ 33' 54'' \\ \alpha = 296^\circ 33' 54'' \end{cases}$$

g) Verdadero.



$$\text{sen } \alpha = \frac{h}{AC} \rightarrow h = AC \cdot \text{sen } \alpha$$

49.  Los dos ángulos agudos de un triángulo rectángulo se llaman complementarios porque su suma es uno recto. Observa la figura, copia y completa la tabla, y expresa simbólicamente lo que obtienes:



	α	$90^\circ - \alpha$
sen	b/a	c/a
cos	c/a	b/a
tg	b/c	c/b

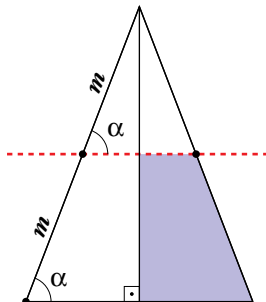
$$\text{sen } \alpha = \text{cos } (90^\circ - \alpha)$$

$$\text{cos } \alpha = \text{sen } (90^\circ - \alpha)$$

$$\text{tg } \alpha = \frac{1}{\text{tg } (90^\circ - \alpha)}$$

Entrénate resolviendo problemas

- ¿Qué fracción de la superficie del triángulo se ha coloreado?



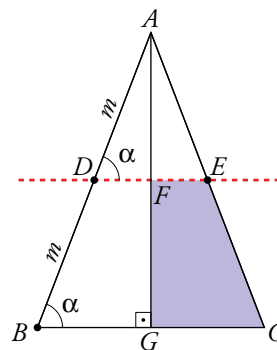
Los triángulos \widehat{ABC} y \widehat{ADE} están en posición de Tales, son semejantes y la razón de semejanza es $\frac{\overline{AD}}{\overline{AB}} = \frac{m}{2m} = \frac{1}{2}$.

Si la razón de semejanza es $\frac{1}{2}$:

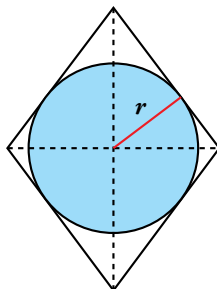
$$\text{Área } \widehat{ADE} = \frac{1}{4} \text{ Área } \widehat{ABC} \rightarrow \text{Área } \widehat{AFE} = \frac{1}{4} \text{ Área } \widehat{AGC}$$

Por tanto:

$$\begin{aligned} \text{Área } \widehat{FEGC} &= \text{Área } \widehat{AGC} - \text{Área } \widehat{AFE} = \text{Área } \widehat{AGC} - \frac{1}{4} \text{ Área } \widehat{AGC} = \frac{3}{4} \text{ Área } \widehat{AGC} = \\ &= \frac{3}{4} \left[\frac{1}{2} \text{ Área } \widehat{ABC} \right] = \frac{3}{8} \text{ Área } \widehat{ABC} \end{aligned}$$



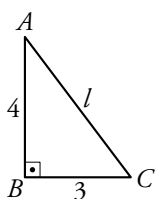
- El rombo tiene una superficie de 24 cm^2 , y su diagonal menor es igual a los tres cuartos de la mayor. Calcula el área del círculo inscrito.



- En primer lugar hallaremos la longitud de las diagonales y del lado del rombo.

$$\left. \begin{array}{l} \text{Diagonal mayor} = x \\ \text{Diagonal menor} = \frac{3}{4}x \\ \text{Área rombo} = 24 \text{ cm}^2 \end{array} \right\} \rightarrow \frac{1}{2} \cdot \left(x \cdot \frac{3}{4}x \right) = 24 \rightarrow \frac{3x^2}{8} = 24 \rightarrow x^2 = 64 \rightarrow x = 8 \text{ cm}$$

Luego: Diagonal mayor = 8 cm; Diagonal menor = 6 cm

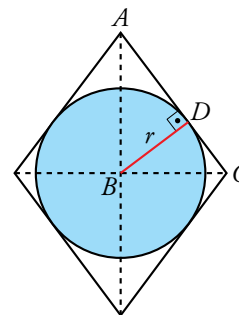


Por el teorema de Pitágoras: $l = \sqrt{4^2 + 3^2} \rightarrow l = 5 \text{ cm}$

Por tanto, el lado del rombo mide 5 cm.

- Ahora hallaremos la longitud del radio del círculo.

El círculo es tangente al rombo en $D \rightarrow BD \perp AC$, es decir, BD es la altura sobre la hipotenusa del triángulo rectángulo \widehat{ABC} y divide a este en otros dos triángulos rectángulos, \widehat{ABD} y \widehat{BCD} .



$$\left. \begin{array}{l} \text{En } \widehat{ABC}: \operatorname{sen} \hat{A} = \frac{3}{5} \\ \text{En } \widehat{ABD}: \operatorname{sen} \hat{A} = \frac{BD}{4} \end{array} \right\} \rightarrow \frac{3}{5} = \frac{BD}{4} \rightarrow BD = \frac{3 \cdot 4}{5} = 2,4 \text{ cm} \rightarrow \text{El radio del círculo es } \frac{BD}{2} = 1,2 \text{ cm.}$$

- Finalmente hallamos el área del círculo: $\text{Área} = \pi \cdot 2,4^2 = 5,76\pi \text{ cm}^2 = 18,09 \text{ cm}^2$

Infórmate

Eclipses

- Completa en tu cuaderno los datos que faltan en la tabla, y comprueba que el ángulo β es similar si se calcula a partir de los datos relativos a la Luna o de los relativos al Sol.

	DIÁMETRO (km)	DISTANCIA MEDIA A LA TIERRA (km)	$\operatorname{tg} \alpha$	β
LUNA	3 500	384 000	?	?
SOL	1 399 000	149 600 000	?	?

LUNA:

Diámetro = 3 500 km $\rightarrow R = 1 750 \text{ km}$

$$\operatorname{tg} \alpha = \frac{1750}{384000} = 0,004557 \rightarrow \alpha = 0^\circ 15' 40'' \rightarrow \beta = 2\alpha = 0^\circ 31' 20''$$

SOL:

Diámetro = 1 399 000 $\rightarrow R' = 699 500$

$$\operatorname{tg} \alpha = \frac{699500}{149600000} = 0,004676 \rightarrow \alpha = 0^\circ 16' 4'' \rightarrow \beta = 0^\circ 32' 9''$$

	DIÁMETRO (km)	DISTANCIA MEDIA A LA TIERRA (km)	$\operatorname{tg} \alpha$	β
LUNA	3 500	384 000	0,004557	0° 31' 20"
SOL	1 399 000	149 600 000	0,004676	0° 32' 9"

Autoevaluación

1. a) Si $\cos \alpha = 0,52$ y $\alpha < 90^\circ$, calcula $\sin \alpha$ y $\operatorname{tg} \alpha$.

b) Si $\operatorname{tg} \beta = \frac{12}{5}$ y $\beta < 90^\circ$, calcula $\sin \beta$ y $\cos \beta$.

a) $\sin \alpha = \sqrt{1 - (\cos \alpha)^2} = \sqrt{1 - 0,52^2} = 0,85$; $\operatorname{tg} \alpha = 0,85/0,52 = 1,63$

$$\left. \begin{array}{l} \text{b) } \operatorname{tg} \beta = \frac{\sin \beta}{\cos \beta} = \frac{12}{5} \\ (\sin \beta)^2 + (\cos \beta)^2 = 1 \end{array} \right\} \begin{array}{l} \sin \beta = (12/5) \cos \beta \\ \frac{144}{25} (\cos \beta)^2 + (\cos \beta)^2 = 1 \rightarrow \frac{169}{25} (\cos \beta)^2 = 1 \rightarrow \\ \rightarrow (\cos \beta)^2 = \frac{25}{169} \rightarrow \cos \beta = \frac{5}{13} \end{array}$$

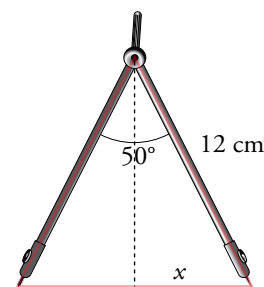
$$\cos \beta = \frac{5}{13} \rightarrow \sin \beta = \frac{12}{5} \cdot \frac{5}{13} = \frac{12}{13}$$

2. Los brazos de un compás, que miden 12 cm, forman un ángulo de 50° .

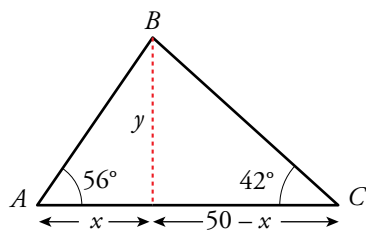
¿Cuál es el radio de la circunferencia que puede trazarse con esa abertura?

$$\sin 25^\circ = \frac{x}{12} \rightarrow x \approx 5,07 \text{ cm}$$

Radio de la circunferencia $\approx 10,14$ cm



3. Para medir la anchura de un río, hemos tomado las medidas indicadas en la figura. Hállala.



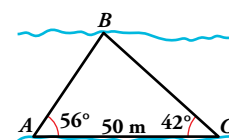
$$\operatorname{tg} 56^\circ = \frac{y}{x} \rightarrow y = x \operatorname{tg} 56^\circ$$

$$\operatorname{tg} 42^\circ = \frac{y}{50 - x} \rightarrow y = (50 - x) \operatorname{tg} 42^\circ$$

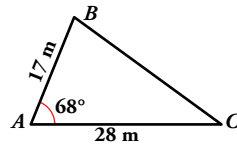
$$x \operatorname{tg} 56^\circ = (50 - x) \operatorname{tg} 42^\circ \rightarrow x = \frac{50 \cdot \operatorname{tg} 42^\circ}{\operatorname{tg} 56^\circ + \operatorname{tg} 42^\circ} \approx 18,89$$

$$y = x \operatorname{tg} 56^\circ \approx 28 \text{ m}$$

El río tiene 28 m de anchura.



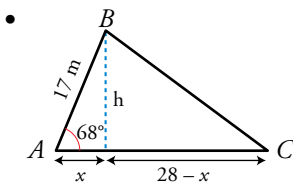
4. En este triángulo, halla la altura sobre AC , el área del triángulo y el ángulo \hat{C} .



- Altura sobre $AC \rightarrow h$

$$\text{sen } 68^\circ = \frac{h}{17} \rightarrow h = 15,76 \text{ m}$$

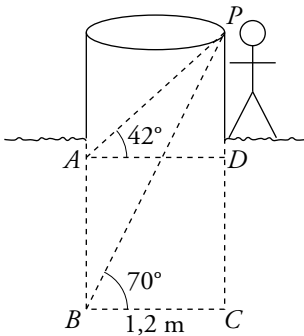
- Área del triángulo = $\frac{28 \cdot 15,76}{2} = 220,64 \text{ m}^2$



$$\cos 68^\circ = \frac{x}{17} \rightarrow x = 6,37 \text{ m}; 28 - x = 21,63 \text{ m}$$

$$\text{tg } \hat{C} = \frac{h}{28 - x} = 0,729 \rightarrow \hat{C} = 36^\circ 5' 31'' \approx 36^\circ$$

5. En un huerto hay un pozo de 1,2 m de ancho. Cuando está vacío vemos, desde el brocal, el borde opuesto del fondo bajo un ángulo de 70° con la horizontal. Cuando el agua sube, vemos el borde opuesto del agua bajo un ángulo de 42° . ¿Cuál es la altura del pozo? ¿Cuánto subió el agua?



$$\text{En el triángulo } PBC \rightarrow \text{tg } 70^\circ = \frac{\overline{PC}}{1,2} \rightarrow \overline{PC} = 3,3 \text{ m}$$

$$\text{En el triángulo } PAD \rightarrow \text{tg } 42^\circ = \frac{\overline{PD}}{1,2} \rightarrow \overline{PD} = 1,1 \text{ m}$$

$$\text{Altura del pozo: } \overline{PC} = 3,3 \text{ m}$$

$$\text{Altura del agua: } \overline{AB} = \overline{PC} - \overline{PD} = 3,3 - 1,1 = 2,2 \text{ m}$$

6. Si $\cos \alpha = -1/5$ y $\text{tg } \alpha < 0$, indica en qué cuadrante está el ángulo α y calcula sus restantes razones trigonométricas.

$$\left. \begin{array}{l} \cos \alpha = -\frac{1}{5} < 0 \rightarrow \alpha \in \text{II o III cuadrante} \\ \text{tg } \alpha < 0 \rightarrow \alpha \in \text{II o IV cuadrante} \end{array} \right\} \rightarrow \alpha \in \text{II cuadrante}$$

$$\bullet \text{sen}^2 \alpha + \cos^2 \alpha = 1 \rightarrow \text{sen}^2 \alpha = 1 - \cos^2 \alpha \rightarrow \text{sen}^2 \alpha = 1 - \left(-\frac{1}{5}\right)^2 \rightarrow$$

$$\rightarrow \text{sen}^2 \alpha = \frac{24}{25} \rightarrow \text{sen } \alpha = \sqrt{\frac{24}{25}} \rightarrow \text{sen } \alpha = \frac{2\sqrt{6}}{5}$$

$$\bullet \text{tg } \alpha = \frac{\text{sen } \alpha}{\cos \alpha} \rightarrow \text{tg } \alpha = \frac{\frac{2\sqrt{6}}{5}}{-\frac{1}{5}} \rightarrow \text{tg } \alpha = -2\sqrt{6}$$

$$\text{Por tanto, } \text{sen } \alpha = \frac{2\sqrt{6}}{5}, \cos \alpha = -\frac{1}{5} \text{ y } \text{tg } \alpha = -2\sqrt{6}.$$