

Nombre:

Apellidos:

1.- Completa el texto escribiendo las palabras que faltan. (0,25 x 4= 1 punto)

Los seres humanos tenemos en común con todos los seres vivos dos características:

1.1 Realizamos las funciones básicas de \_\_\_\_\_ ,  
\_\_\_\_\_ y \_\_\_\_\_.

1.2 Estamos formados por cuerpo microscópicos llamados

\_\_\_\_\_

2.- ¿Qué nombre reciben los organismos formados por más de una célula? (0,25 x 3 = 0,75)

.....

Pon dos ejemplos de este tipo de seres vivos.

.....

3.- ¿Qué instrumento se necesita para observar las células? ¿Por qué? (0,25 x 2= 0,5)

.....

.....

4.- Ordena desde el menos complejo al más complejo. (0,25 x 5= 1,25)

aparato

célula

organismo

órgano

tejido

1. \_\_\_\_\_

2. \_\_\_\_\_

3. \_\_\_\_\_

4. \_\_\_\_\_

5. \_\_\_\_\_

5.- Enumera los reinos de los seres vivos. (0,25 x 5= 1,25)

1. \_\_\_\_\_

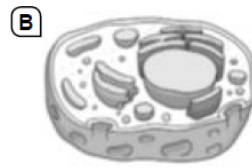
2. \_\_\_\_\_

3. \_\_\_\_\_

4. \_\_\_\_\_

5. \_\_\_\_\_

6.- Observa las imágenes y escribe el tipo de célula al que corresponde cada una (0,30 x 2= 0,6 punto)



A. \_\_\_\_\_

B. \_\_\_\_\_

7.- Observa los seres vivos de las siguientes fotografías e indica a que reino pertenece cada uno. (0,25 x 4 = 1 punto)



\_\_\_\_\_

\_\_\_\_\_

\_\_\_\_\_

\_\_\_\_\_

8.- Relaciona mediante flechas. (0,15 x 8= 1,2 punto)

- |                      |                  |                         |
|----------------------|------------------|-------------------------|
|                      | • musgos •       |                         |
| plantas con flores • | • angiospermas • | • No producen semillas. |
| plantas sin flores • | • helechos •     | • Producen semillas.    |
|                      | • gimnospermas • |                         |

9.- Escribe V si es verdadero y F si es falso (0,25 x 5 = 1,25 puntos)

Escribe V si es verdadero o F si es falso.

- Los animales vertebrados tienen un esqueleto interno formado por huesos.
- La columna vertebral es la parte central del esqueleto.
- Los mamíferos no son animales vertebrados.
- La mayoría de los invertebrados son vivíparos.
- Los insectos tienen un esqueleto externo.

10.- Escribe dos órganos relacionados con cada uno de los siguientes aparatos del cuerpo humano. (0,1 X 8 = 0,8)

Después escribe debajo de cada dibujo el aparato correspondiente. (0,1 X 4 = 0,4) total: 1,2

Aparato respiratorio    Aparato excretor    Aparato circulatorio    Aparato digestivo

.....

.....

.....

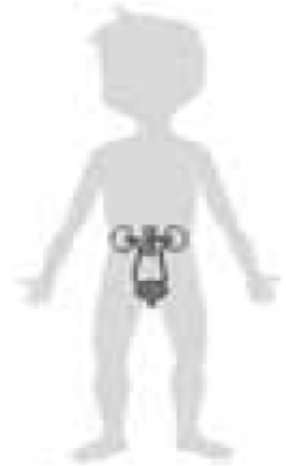
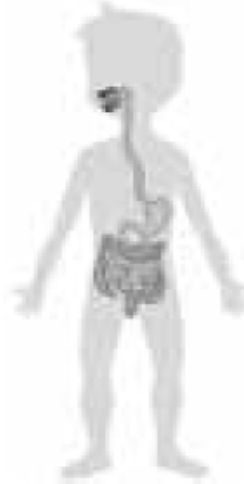
.....

.....

.....

.....

.....



.....

.....

.....

.....