

## RECUERDA


Antes de resolver un problema:

- 1.º Lee y comprende el enunciado y la pregunta que se plantea.
- 2.º Piensa qué operaciones hay que hacer.
- 3.º Calcula las operaciones.
- 4.º Comprueba la solución.

En un teatro, el viernes vendieron 345 entradas y el sábado vendieron el doble. ¿Cuántas entradas vendieron el sábado?

Alicia ha hecho un puzle de 150 piezas. Le han regalado otro con el triple de piezas. ¿Cuántas piezas tiene el puzle que le han regalado?

A un concierto de música han asistido 2.850 personas. El precio de la entrada es de 24 €. ¿Cuánto se ha recaudado en total?





- ¿Cuánto costarán 3 cámaras de fotos aproximadamente?
- ¿Cuánto costarán 2 equipos de sonido aproximadamente?

Relaciona cada situación con la división correspondiente. Después, contesta.

Marta reparte 16 caramelos en partes iguales entre 3 bolsas.

$$\begin{array}{r} 16 \overline{) 4} \\ 0 \ 4 \end{array}$$

Eva reparte en partes iguales 16 lápices entre 4 botes.

$$\begin{array}{r} 16 \overline{) 3} \\ 1 \ 5 \end{array}$$

- ¿Cuántos lápices pone Eva en cada bote?
- ¿Cuántos caramelos pone Marta en cada bolsa? ¿Cuántos caramelos le sobran?
- Alejandra tiene 24 cromos y los va a colocar en su álbum. En cada página pega 4 cromos. ¿Cuántas páginas llena?

- Marcos tiene una colección de 25 cuentos. Los reparte en partes iguales entre sus 3 nietos. ¿Cuántos cuentos da a cada uno? ¿Cuántos sobran?



- Nuria reparte 72 vasos en partes iguales entre 6 mesas. ¿Cuántos vasos coloca en cada una?

- Luis compra un televisor por 860 € y lo va a pagar en partes iguales en 5 meses. ¿Cuánto tiene que pagar cada mes?

- María tenía ahorrados 928 €. Se gastó un cuarto del dinero en una bicicleta. ¿Cuánto dinero le quedó?




- El número de la tarjeta de Ana es la mitad del número de la tarjeta de Miguel. ¿Qué número tiene la tarjeta de Ana?

- El número de la tarjeta de Pablo es un tercio del número de la tarjeta de Miguel. ¿Qué número tiene la tarjeta de Pablo?

Fernando tiene que recorrer 67 kilómetros desde su casa hasta su trabajo.  
Ya ha recorrido 34 kilómetros.  
¿Cuántos kilómetros le faltan por recorrer?

**Respuesta:**

Le faltan por recorrer \_\_\_\_\_ kilómetros.



En un tonel hay 49 litros de vino.  
Si le faltan 23 litros para llenarse,  
¿cuántos litros caben en el tonel?


**Respuesta:**

En el tonel caben \_\_\_\_\_ litros.

- Teresa compra una mesa y 4 sillas iguales por un total de 670 €. Si la mesa le ha costado 250 €, ¿cuánto vale cada silla?



- Sergio coloca 76 botellas de zumo de piña y 124 de naranja en partes iguales en 4 estanterías. ¿Cuántas botellas pone en cada una?

Beatriz leyó un libro de 96 páginas  
y Raquel leyó otro libro de 80 páginas.  
¿Cuántas páginas leyó Beatriz más que Raquel?


**Respuesta:**

Beatriz leyó \_\_\_\_\_ páginas más que Raquel.

Observa los árboles que han plantado en la finca de Juan Manuel.

	 Manzanos	 Cerezos
Lunes	31	16
Martes	17	34

¿Cuántos árboles han plantado cada día?

**Respuesta:** Han plantado \_\_\_\_\_ árboles el lunes  
y \_\_\_\_\_ árboles el martes.

¿Qué día han plantado más árboles?

**Respuesta:** Han plantado más árboles  
el \_\_\_\_\_

¿Cuántos manzanos han plantado en total?

**Respuesta:**  
\_\_\_\_\_

¿Cuántos cerezos han plantado en total?

**Respuesta:**  
\_\_\_\_\_

¿Cuántos cerezos más que manzanos  
han plantado?

**Respuesta:**  
\_\_\_\_\_

¿Cuántos manzanos faltan por plantar si en total  
deben quedar 61 manzanos?

**Respuesta:**  
\_\_\_\_\_