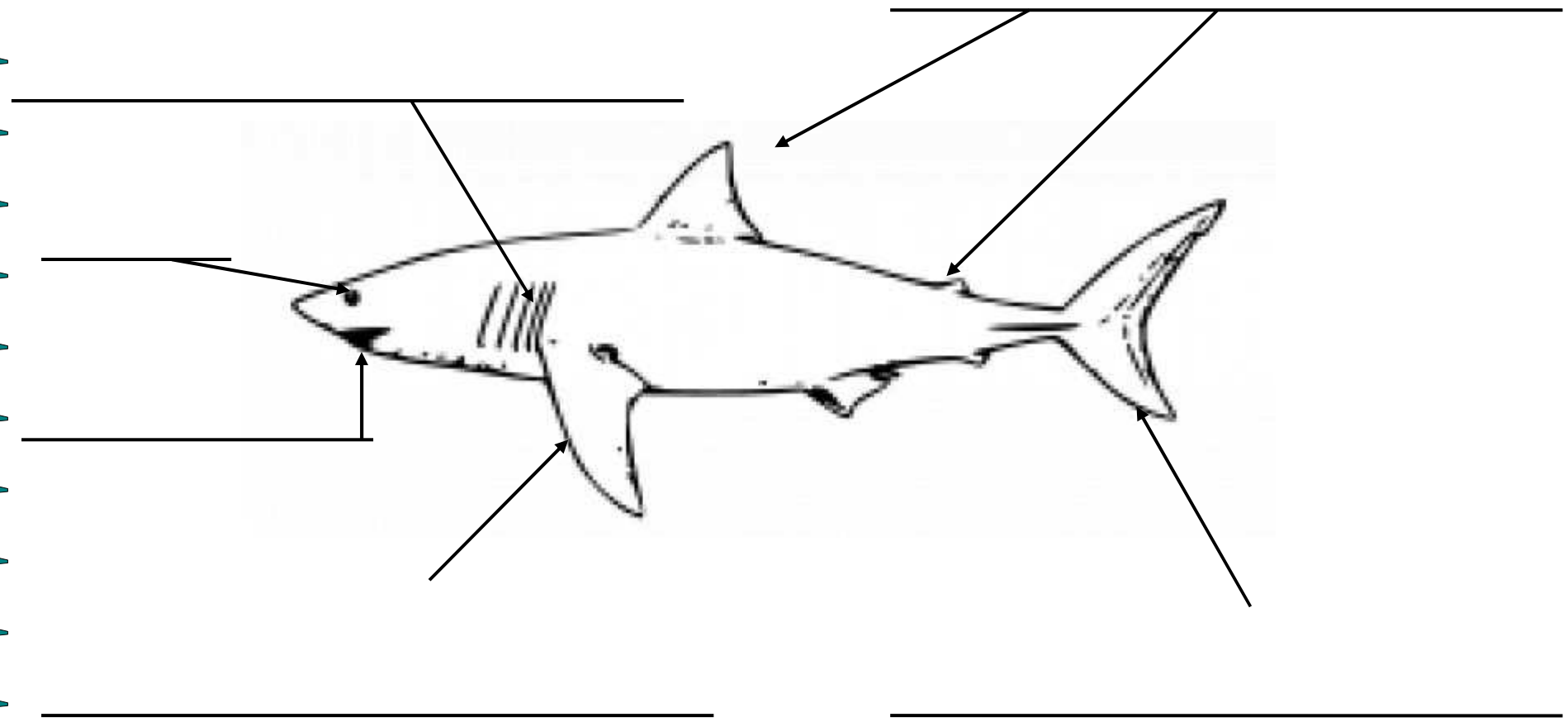
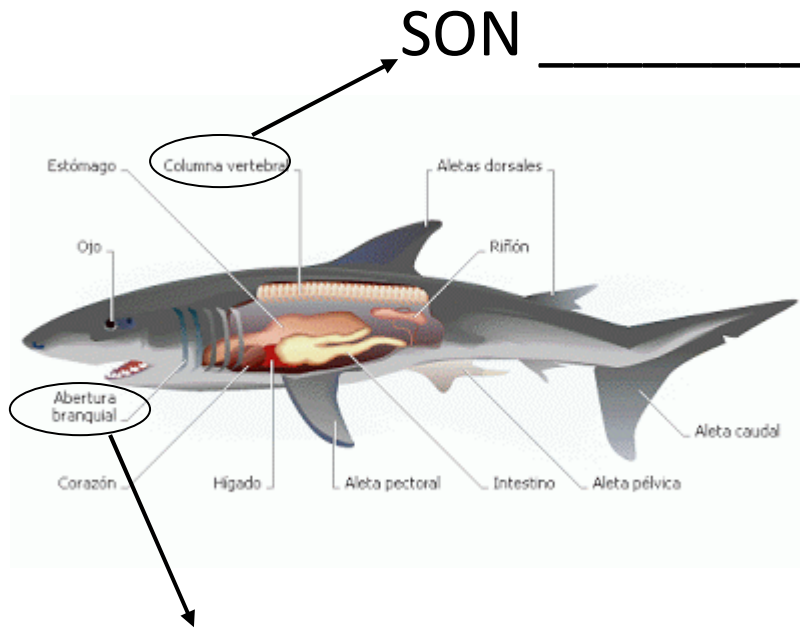


ANATOMÍA EXTERNA DO TIBURÓN



ANATOMÍA INTERNA DO TIBURÓN



O SEU ESQUELETE É _____

ALIMENTACIÓN



OS TIBURÓNS SON _____

ALIMÉNTANSE DOUTROS ANIMAIS. CAZAN SÓS E NALGÚNS
CASOS PODEN CHEGAR A COMERSE ENTRE ELES

REPRODUCCIÓN

PODEN REPRODUCIRSE DE _____ FORMAS:

- _____ : NACEN DE OVOS



- _____ : NACEN DA NAI



- _____ : NACEN DE OVOS

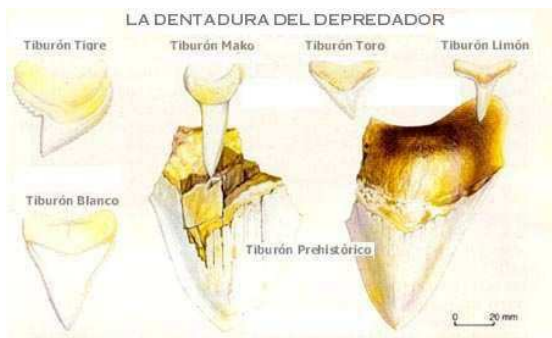
QUE SE INCUBAN NA BARRIGA DA NAI



DENTADURA



PODEN TER MÁIS DE _____
DENTES AO LONGO DA SÚA VIDA
OS SEUS _____ DISPÓÑENSE
EN LONGAS FILAS, E CADA VEZ QUE
PERDEN UN SAELLES OUTRO NO SEU
LUGAR



ESPECIES DE TIBURÓNS

EXISTEN MÁIS DE _____ ESPECIES:

- _____

- _____

- _____

