


Nome _____ Data _____

- 1 Debusca un obxecto que se mova coa forza do vento.



- 2 Como é a auga? Completa.

líquido

vapor

xeo

A auga é un

Cando arrefría moito, convértese en

Cando quece, transfórmase en

- 3 Escribe o nome do estado da auga que corresponda.

xeo

líquido

vapor




4 Onde hai auga nesta paisaxe? Escribe.

neve


río

mar

nubes




5 Marca os comportamentos que axudan a aforrar auga.



Nome _____ Data _____

1 Escribe V (verdadero) ou F (falso).

- O aire é invisible.
- O aire é un líquido.
- O vento é aire en movemento.
- O aire é necesario para a vida.
- Todos os obxectos están cheos de aire.




2 Observa e completa.



Cando quece, a auga

transformase en



Cando arrefría, a auga

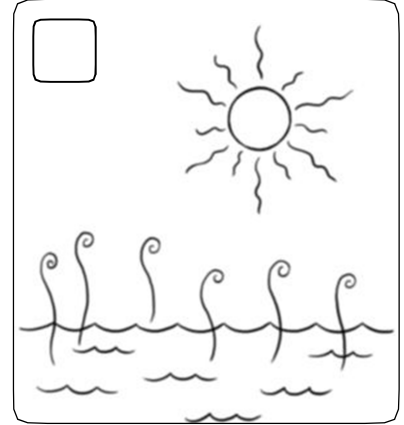

transformase en

3 Pensa e completa.

Na natureza hai auga no

4 Escribe 1, 2 e 3 para ordenar o ciclo da auga.

Despois, completa.



1. O Sol quenta a auga do mar e transfórmaa

en

2. O vapor, ao arrefriar, transfórmasse en pequenas

gotiñas de auga que forman as

3. A auga das nubes cae á terra en forma

de ou de

5 Escribe polo menos dous usos distintos da auga.

