


Multiplicar por dos cifras

Nombre _____ Fecha _____

1 Calcula. Después, fíjate en los resultados y colorea la bandera de cada país.


435×24

negro	amarillo	rojo
-------	----------	------




617×53

azul	blanco	rojo
------	--------	------




816×62

verde	blanco	rojo
-------	--------	------



920×74

azul	amarillo	rojo
------	----------	------



Francia
32.701



Italia
50.592



Bélgica
10.440



Rumanía
68.080

La tienda de bisutería

Nombre _____ Fecha _____

1 Observa el pedido que ha hecho Marisa. Después, resuelve.

COLLARES
9 €



ANILLOS 8 €



PENDIENTES 6 €



PULSERAS
5 €



PEDIDO

- 80 pulseras
- 90 collares
- 201 anillos
- 110 pendientes



• ¿Cuánto pagará Marisa por cada tipo de artículo que ha pedido?



OPERACIONES

SOLUCIONES

• La temporada pasada vendió 60 pulseras y el doble de anillos. ¿Cuántos anillos vendió?

• La semana pasada vendió 30 pendientes y el triple de collares. ¿Cuántos collares vendió?

DATOS _____

DATOS _____

OPERACIÓN _____

OPERACIÓN _____

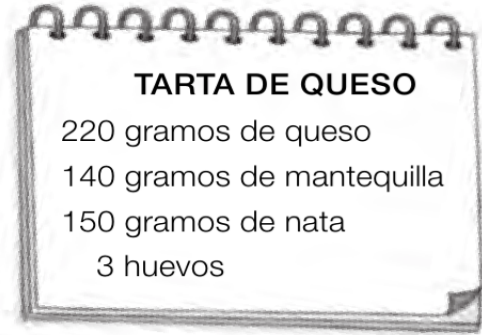
SOLUCIÓN _____

SOLUCIÓN _____

La pastelería

Nombre _____ Fecha _____


1 Lee y resuelve.



- Raquel quiere hacer 3 tartas. Tiene 450 g de mantequilla y 250 g de nata. ¿Tiene suficiente cantidad de mantequilla y de nata?

DATOS _____

OPERACIONES




SOLUCIÓN _____

- Hoy Raquel ha vendido 9 tartas de queso a 12 € cada una y 5 de chocolate a 11 € cada una. ¿Cuánto ha recaudado en total?

DATOS _____



OPERACIONES



SOLUCIÓN _____

Los colegios de mi barrio

Nombre _____ Fecha _____

1 Observa la tabla y resuelve los problemas.


En mi barrio hay tres colegios. En esta tabla está recogido el número de alumnos de cada uno.

COLEGIO	ALUMNADO	
	niños	niñas
Sándalo	589	611
Aldera	343	257
Natura	413	520

- ¿Qué colegio tiene más alumnos y alumnas?
¿Cuántos tiene en total?

DATOS

OPERACIÓN




SOLUCIÓN

- ¿Cuántos niños más tendría que haber en Natura para que hubiera el mismo número de niños y niñas?

DATOS

OPERACIÓN




SOLUCIÓN

- ¿Cuántos niños y niñas tendrían que matricularse en Aldera para que hubiera 1.000 alumnos?

DATOS

OPERACIONES



SOLUCIÓN

En las rebajas

Nombre _____ Fecha _____

1 Observa el dibujo, fíjate bien en el cartel y calcula.



- Nuria compra 3 camisetas. ¿Cuánto pagará en total?

OPERACIONES _____

SOLUCIÓN _____

- Antonio quiere comprar un pantalón y un jersey. ¿Cuánto le costarán?

OPERACIONES _____




SOLUCIÓN _____

OPERACIONES _____

SOLUCIÓN _____

- Carlos tiene 25 € y quiere comprarse camisetas. ¿Cuántas camisetas como máximo se puede comprar? ¿Le sobraré dinero? ¿Cuánto?

OPERACIONES



SOLUCIÓN _____

