

# Divisiones con divisor de una cifra

Primera cifra del dividendo menor que el divisor

1 Calcula las divisiones.

•  $173 : 2$

•  $276 : 3$

•  $464 : 5$

•  $584 : 6$

•  $2.472 : 4$

•  $3.916 : 7$

•  $7.648 : 8$

•  $8.345 : 9$

2 Calcula cada división y relaciona.

DIVIDENDO ▶ 2.365  
DIVISOR ▶ 5

DIVIDENDO ▶ 5.903  
DIVISOR ▶ 7

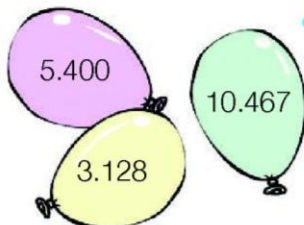
DIVIDENDO ▶ 6.588  
DIVISOR ▶ 9

COCIENTE ▶ 843  
RESTO ▶ 2

COCIENTE ▶ 732  
RESTO ▶ 0

COCIENTE ▶ 473  
RESTO ▶ 0

3 Observa los números y calcula.



• Un tercio del número mayor.

• Un cuarto del número menor.

4 **Calcula y completa la tabla.**







- ¿Cuántas bolsas de 2 kg se llenarán con las manzanas de cada caja?



- ¿Cuántas bolsas de 5 kg se llenarán con las manzanas de cada caja?



			
Bolsas de 2 kilos			
Bolsas de 5 kilos			



5 **Resuelve.**

- Cristina compra un coche por 8.685 € y lo va a pagar en 9 mensualidades iguales. ¿Cuánto pagará cada mes?

SOLUCIÓN \_\_\_\_\_  
\_\_\_\_\_

- Un supermercado ha recibido un total de 475 litros de agua en bidones de 5 litros. ¿Cuántos bidones ha recibido?

SOLUCIÓN \_\_\_\_\_  
\_\_\_\_\_