

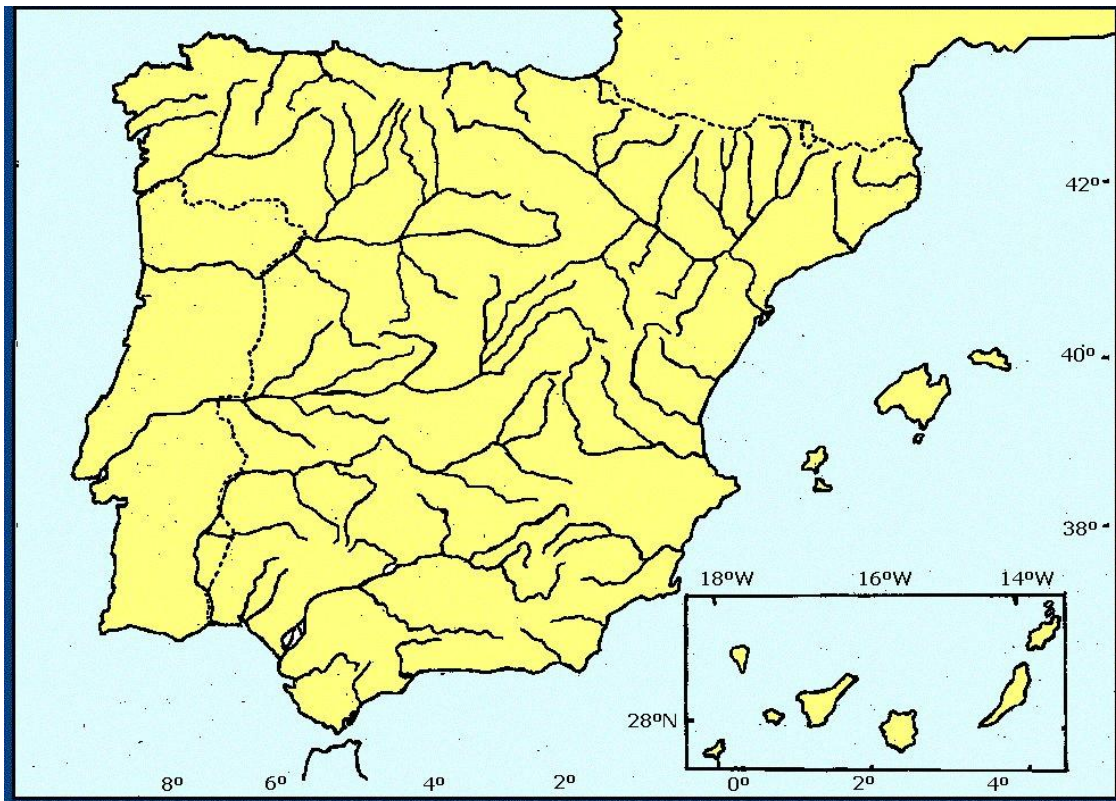
5- Entre montañas e zonas húmidas. O medio físico de España:



MAPA FÍSICO DE ESPAÑA:

Hai que saber indicar as seguintes unidades de relevo:

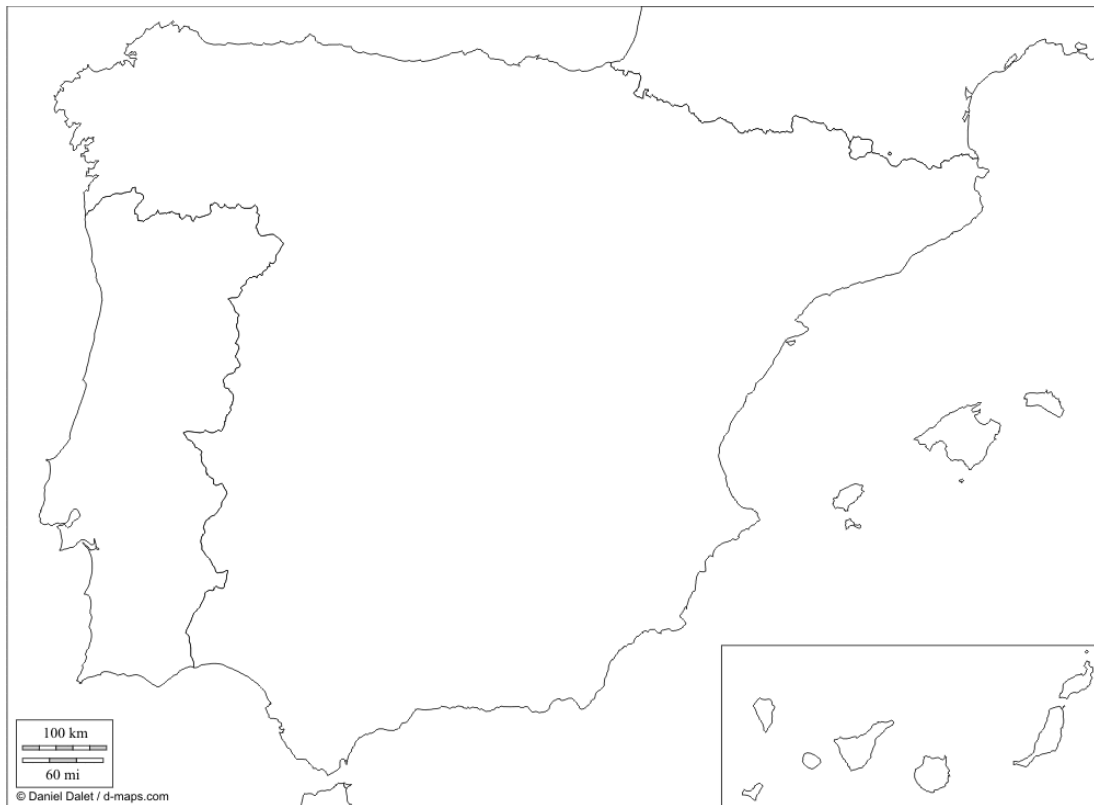
- Submeseta norte
- Submeseta sur
- Sistema Central
- Montes de Toledo
- Macizo Galaico-Leonés
- Cordilleira Cantábrica
- Montes Vascos
- Sistema Ibérico
- Serra Morena
- Pireneos
- Sistema Costeiro-Catalán
- Sistemas Béticos
- depresión do Ebro
- depresión do Guadalquivir
- Illas Baleares: Mallorca, Menorca, Ibiza e Formentera
- Illas Canarias: Lanzarote, Fuerteventura, Gran Canaria, Tenerife, La Gomera, La Palma e El Hierro.



MAPA EN BRANCO DE ESPAÑA (RÍOS):

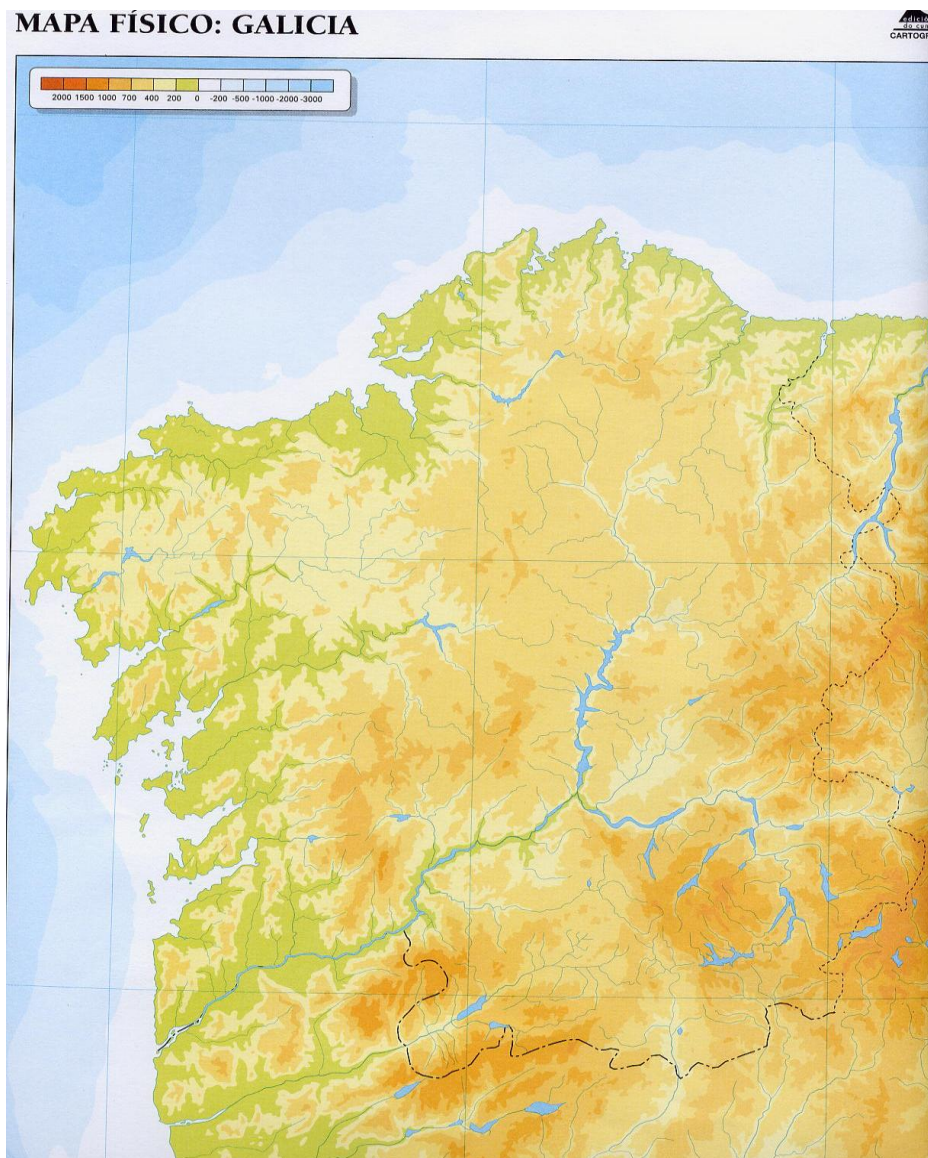
Hai que situar os seguintes ríos:

- Navia
- Narcea
- Nalón
- Besaya
- Nervión
- Bidasoa
- Miño
- Sil
- Douro (cun par de afluentes)
- Texo (cun par de afluentes)
- Guadiana (cun par de afluentes)
- Guadalquivir (cun par de afluentes)
- Ebro (cun par de afluentes)
- Turia
- Xúquer
- Segura



MAPA MUDO DE ESPAÑA: Señalar nel co bolígrafo as zonas onde predomina un medio natural (oceánico, mediterráneo, subtropical, de montaña)

6- O medio físico de Galicia:



MAPA FÍSICO DE GALICIA: Sinalar nel as seguintes unidades de relevo:

- Serras: da Faladoira, Xistral, Ancares, Courel, do Eixe, Queixa e a Dorsal Galega. Ademais, os picos de Pena Trevinca e Cabeza de Manzaneda.
- Fosa Meridiana e a Terra Chá.
- Rías: Ribadeo, Foz, Viveiro, Ares e Betanzos, Muros e Noia, Arousa, Pontevedra e Vigo.
- Ríos: Eo, Masma, Eume, Anllóns, Xallas, Tambre, Ulla, Miño e Sil.
- Illas: Arousa, Cíes e Ons.

