

LENGUA CASTELLANA.

ACTIVIDAD 1. DEL LIBRO DE TEXTO DEL TERCER TRIMESTRE.

Pág. 182, 2

Deben de **haber** llegado esta mañana.

Tienen que **haber** cerrado ya.

Voy **a ver** qué cerezas has comprado.

Pág., 183, 3.

Simples: avisaré, ordenaron, entregabais, saludan.

Compuestas: he terminado, habrá salido, han servido, habían vivido.

Pág. 188, 4.

Tras el sonido del cencerro se oyó un **mugido**.

La lava **surgió** de pronto del cráter del volcán.

EL jurado fue muy **exigente** con los participantes.

Hemos **elegido** a Elena y a Juan para representarnos.

Pág. 200, 1,3.

1.

Mascarilla

Alfombra

Bordillo

Barbilla

Toldillo

Colmillo

3.

A ver si entre todos buscamos la llave.

Al **haber** tanta gente, no pude encontrarlo.

Voy **a ver** cuántas fichas faltan.

Creía **haber** acabado, pero no es así.

ACTIVIDAD 2. ¿Comprendemos lo que leemos?

1. Luis vivía con sus padres en un pequeño pueblo de la montaña. Una mañana el tío Ramón llamó al padre de Luis avisándole de que llegaba y que fuera a buscarle a la estación; así que el padre de Luis no pudo acompañar a su hijo al partido de fútbol, como le había prometido, pues tuvo que salir corriendo a recoger al tío Ramón.

¿Quién hizo una promesa? **El padre de Luis.**

¿A quién hizo esa promesa? **A Luis.**

¿Cuál fue la promesa? **Que iría al partido de fútbol de Luis.**

¿La promesa se cumplió? **No.**

¿Por qué? **Porque el padre fue a recoger al tío Ramón a la estación.**

2. Si llueve no podremos ir a bañarnos, aunque, de todas maneras, me compraré el bañador que vi el otro día.

Si llueve ¿se comprará el bañador? **Sí.**

3. Mira a ver si quedan huevos en la nevera y hacemos un pastel de queso, y si no, preparamos unos macarrones.

¿Qué tiene que pasar para que hagan macarrones para comer? **Si no quedan huevos en la nevera.**

4. Marisa no era la más lista, sino la que más estudiaba; la que mejores notas sacaba, Maribel; aunque Pepi, sin duda alguna, por mucha rabia que les diese a Marisa y Maribel, era la más lista.

¿Quién estudiaba más? **Marisa.**

¿Quién tenía mejores notas? **Maribel.**

¿Quién era la más lista? **Pepi.**

ACTIVIDAD 4. GENTILICIOS. Completa con el nombre de la comunidad autónoma. Recuerda, son nombres propios, siempre empiezan por mayúscula. Y recuerda poner tilde si es necesario. Si lo necesitas mira el mapa del libro de soci de la página 68.

<u>SI ERES DE LA COMUNIDAD AUTÓNOMA DE....</u>	<u>ERES....</u>
Andalucía	andaluz/a.
Aragón	aragonés/a.
Asturias	asturiano/a.
Cantabria	cántabro/a.
Castilla y León	castellanoleonés/a.
Castilla la Mancha	castellanomanchego/a.
Cataluña	catalán/a.
Madrid	madriileño/a
Comunidad de Valencia	valenciano/a.
Extremadura	extremeño/a.
Galicia	gallego/a.
Islas Baleares	balear.
Islas Canarias	canario/a.
La Rioja	riojano/a.
Navarra	navarro/a.
País Vasco	vasco/a.
Murcia	murciano/a.
<u>De la ciudad autonómica de ...Ceuta</u>	ceutí.
<u>De la ciudad autonómica de ...Melilla</u>	melillense.

LINGUA GALEGA

ACTIVIDADE 1. DO LIBRO DE TEXTO DO TERCEIRO TRIMESTRE.

Páx.177, ORSERVO E FALO. OBTEÑO INFORMACIÓN.

- a) 23,95 euros
- b) A Coruña
- c) 19:30
- d) 20:38
- e) 9C
- f) 26-06-2015

Páx. 183, 7.

- escribiron
- vives
- describes
- serve
- percibe
- viñeron

Páx. 197, 5, 7.

5. Varias respostas posibles, pero a mais evidente sería...

- debaixo
- dentro
- cerca
- fóra
- aquí

7.

Non rompín o prato **adrede**, foi sen querer.

Baixa as escaleiras **amodo**, non vaías caer.

Saín **rapidamente** da clase e esquecín o estoxo.

Por comprar un tren de xoguete, déronme outro **gratis**.

Páx. 206, 3.

- O **adestrador** felicitou ós seus xogadores.
- Estas vacación van ser un **descanso**.
- Necesitamos sacos de durmir para ir de **acampada**.
- Están rodando unha **película** en Cambados.
- Batín a miña propia **marca**!
- Decoramos o ximnasio con **carteis** de deportistas.

ACTIVIDADE 3. Le detidamente e busca os 3 elementos que non aparecen no debuxo.

Aquela cociña estaba un pouco desordenada. A mesa, que era redonda, estaba no centro e sobre ela había dous vasos, un par de garfos, un pano de mesa e **un prato, aínda con restos de comida**. Apoiados na mesa esta o recolledor e a vasoira. Á esquerda atopábase o fregadoiro. A billa non estaba ben pechada e **dela caía un fío de auga**. Na fronte, víase a cociña, de catro fogóns. Sobre un deles había unha ola da que sobresaía o mando dun cullerón. Un pouco máis á dereita, na parede, había dous andeis con louza: varias xerras, unha copa e varios pratos. **Caída no chan había unha culler**.



Era unha praia ben bonita e o día, soleado. No mar, case na liña do horizonte, víase un pesqueiro que parecía volver ao porto. Voando tras el, divisábanse as siluetas de **tres gaivotas**. Preto da beira había un veleiro ancorado. Na proa, podía lerse o seu nome: **"Andoriña III"**. Naquel momento tiña as velas recollidas e os seus tripulantes estaban todos sentados na popa. Na orella da praia, había un neno e unha nena xogando á pelota e, á súa dereita, un neno facía castelos de area. Xusto ao lado destes nenos, un mozo e unha moza con **bikini de raías** metíanse na auga collidos pola man.



MATEMÁTICAS

ACTIVIDAD 1.

Aquí tenéis el vídeo del tipo de divisiones que tenemos para esta semana. Miradlo bien y con atención.

<https://www.youtube.com/watch?v=hxMU2xppjKc>

Ahora os toca a vosotros.

$$7364 : 24 = 306$$

$$2691 : 13 = 207$$

$$7128 : 35 = 203$$

$$4631 : 15 = 308$$

$$1632 : 16 = 102$$

$$7650 : 25 = 306$$

ACTIVIDAD 2. Ticket de compra.

DESCRIPCION	CANT.	P.V.P.	IMPORTE
Cacao Nesquik instantáneo 800 g			10%
000033	1	3,98	3,98
Caramelo Mentos Frutas stick 38 g			10%
009109	1	0,69	0,69
Erik 10 Mapas Mudos España MMP101			4%
039392	1	2,50	2,50
Revistas y Periódicos 4%			4%
033700	1	2,50	2,50
Revistas y Periódicos 4%			4%
033700	1	2,99	2,99
Crema Froiz vinagre balsámico móderna 10%			10%
012456-	1	1,95	1,95
Libro "La Nena" RHM			4%
209281-	1	18,91	18,91
Libro "Tierra" RHM			4%
208676-	1	18,90	18,90
*Total:			52,42 Eur.
Entrega:			52,42 Eur.
A devolver:			0,00 Eur.
	Base	C.IVA	Total
4,00%	44,04	1,76	45,80
10,00%	6,02	0,60	6,62

¿En qué cadena de supermercados hice esta compra? **Froiz.**

¿En qué localidad se encuentra? **Vilagarcía de Arousa.**

Mira un mapa político de Galicia. ¿Es una localidad costera o de interior? **Costera.**

¿Esta localidad está al norte o al sur de Vigo? **Al norte de Vigo.**

¿A qué provincia pertenece? **Pontevedra.**

¿Qué día hice esta compra? **30 - 05 - 2020.**

¿A qué hora hice el pago? **19:28**

¿Esa hora, es de mañana o de tarde? **De tarde.**

¿Cuánto pesa el bote de Nesquik que compré? **800 gramos.**

¿Esa cantidad, es más de un kilo o menos? **Menos que un kilo.**

¿Cuánto pagué por el bote de Nesquik? **3,98 euros.**

Me compré un libro para mí y otro para el papá de Noa. ¡Tenemos gustos muy diferentes! En la nota puedes leer sus títulos. El que compré para mí vale 1 céntimo menos. ¿Cuál elegí? **Tierra.**









¿Cuánto pagué en total? **52,42 euros.**

Fíjate en el concepto "A devolver", ¿qué pone? **0 euros** ¿Qué puede significar eso? **Que pagué la cantidad justa o que pagué con tarjeta y no tienen que darme vuelta.**









¿Cuántos productos compré? **8 artículos.**

¿Cuál fue el producto más "económico"? **Los caramelos Mentos.**

ACTIVIDAD 3.



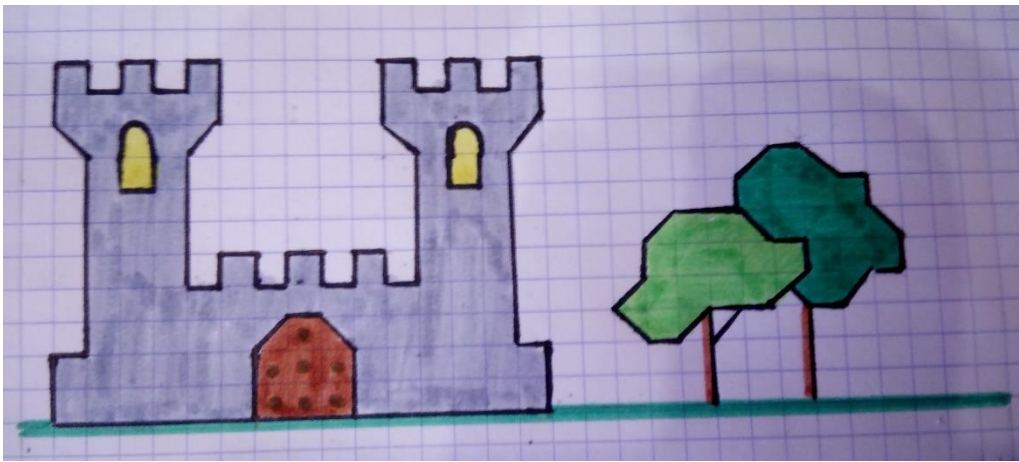
	+		=	14	6
	+		=	10	
	+		=	8	
	+		=	?	

vaca: 7 caballo: 3 pollito:5 Solución: 12









	+		=	20	7
	+		=	25	
	+		=	65	
	+		=	?	









tarta: 10 pastel (muffin, magdalena): 15 copa de helado: 50 Solución: 60

ACTIVIDAD 4. Dibujo geométrico.


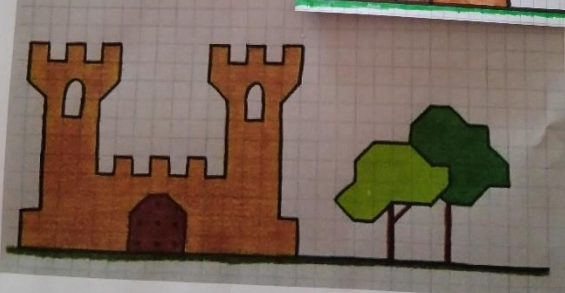



ACTIVIDAD 3.

	+		=	14	(B)
	+		=	10	
	+		=	8	
	+		=	12?	

	+		=	20	(7)
	+		=	25	
	+		=	65	
	+		=	60?	

ACTIVIDAD 4. Dibujo geométrico.



CIENCIAS

ACTIVIDADE 4. Que bocadillo pertence ao Paleolítico, ao Neolítico e á Idades dos Metais?

Levo todo o día facendo xoias de cobre. Vou intentar cámbialas por unha ola de barro. Ao outro lado desta muralla podo ver un mehir que un home talla

Idade dos Metais

Por fin deixei de estar dun lado para outro, era unha vida difícil. Agora vivo neste lugar onde coido dos meus animais e planto cereais. O que máis me gusta facer é tecer no tear fermosas roupas. Queres vir comigo na barca ?

Neolítico

Ando todo o día dun lado para outro na procura de alimento. Vivo en covas, que decoramos con orixinais debuxos.

Paleolítico

Desde que descubrimos o lume a nosa vida é moito máis doada. Non pasamos tanto frío nas covas.

