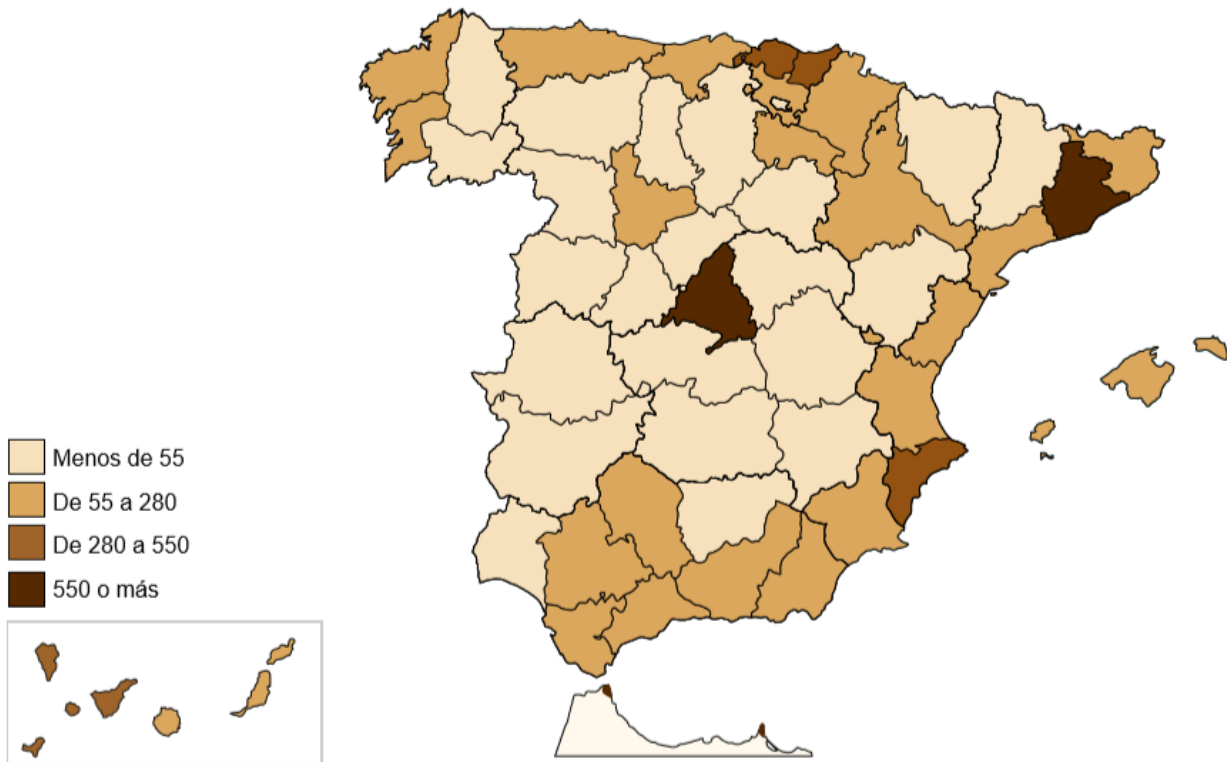


SOCIAIS

ACTIVIDADE 1. Mira este mapa de **densidade de poboación** que collín da web do INE coa que traballastes fai un par de semanas. Este é un mapa de densidade de poboación, é dicir, canta xente vive por cada kilómetro cuadrado de terreo. Tendes a explicación no libro de soci na páxina 80. Se unha zona ten máis densidade de poboación que outra, é que vive mais xente na mesma cantidade de espacio. Un kilómetro cuadrado é un espacio de forma cuadrada que ten por lado 1 km.

Densidad de población 2019 - Personas por km²



Mira ben o mapa de España e a lenda do mapa (que significan as cores). Ten aberto tamén o libro de soci na páxina 68 para recordar os nomes das provincias.

1. As provincias de marrón máis escuro son as máis densas de poboación ou menos?
2. Cales son as dúas provincias nas que hai máis densidade de poboación?
3. Mira todo o mapa en xeral. Vive máis xente na costa de España ou no interior?(fíxate se as provincias que teñen costa son en xeral, máis escuras que as de interior)
4. Fíxate agora en Galicia e nas súas catro provincias. Que dúas provincias teñen máis densidade de poboación?

Que dúas están menos poboadas?

5. Na provincia de Ourense viven menos de 55 persoas nun kilómetro cadrado?
6. Busca a provincia de León. Que densidade de poboación ten segundo a lenda do mapa?

E Cádiz?

7. As illas Baleares e as Illas Canarias teñen máis densidade de poboación que Lugo ou menos?

ACTIVIDADE 2. IMOS AGORA A TRABALLAR CON ESTE **MAPA DE GALICIA**. Este é un mapa político, xa que aparecen as provincias e nosmes de localidades. Inda que se te fixas aparecen algúns dos ríos máis importantes de Galicia.



CUESTIONARIO:

Que comunidade autónoma está representada neste mapa?

Cantas provincias ten?..... Cales?

En que localidade vivimos nós? En que provincia está?

Vigo está, ao norte ou ao sur de Galicia?

Vigo está, ao oeste ou ao leste de Galicia?

Cal é a capital de Galicia?.....En que provincia está?

Vigo está na costa ou no interior?

Santiago de Compostela, está na costa ou no interior?

Que está máis lonxe de Vigo, Santiago de Compostela ou a cidade de A Coruña?

Que provincia é a que non ten nada de costa?

Localiza o Río Miño. En que provincia nace? En que provincia desemboca?.....

O Miño pasa polas cidades de Lugo e Ourense?

A localidade de o Carballiño é famosa polo seu polbo á feira, o cal é moi curioso, por que?
Busca esta localidade no mapa.

Cal cres ti que é a provincia de Galicia con menos superficie?

ACTIVIDADE 3. TRABALLO CO LIBRO. Abre o libro polas páxinas 82 e 83 e le en que consisten os traballos do sector primario e secundario.

Agora mira este **vídeo** relacionados .

<https://happylearning.tv/el-trabajo-y-su-clasificacion-el-sector-primario-secundario-y-terciario/>

ACTIVIDADE 4.

Poño enlace a un xogo interactivo para repasar as comunidades autónomas.

<https://happylearning.tv/puzzle-comunidades-espana/>

CIENCIAS NATURAIS

ACTIVIDADE 1.

Póñovos uns enlaces a uns cuestionarios interactivos para repasar algúns dos grupos de vertebrados e invertebrados.

VERTEBRADOS

<https://happylearning.tv/quiz-mamiferos/>

<https://happylearning.tv/quiz-reptiles/>

<https://happylearning.tv/quiz-aves/>

<https://happylearning.tv/quiz-los-anfibios/>

INVERTEBRADOS

<https://happylearning.tv/quiz-artropodos/>

ACTIVIDADE 2.

LINKS A VÍDEOS INTERESANTES.

SOBRE O OMBLIGO : <https://www.youtube.com/watch?v=2pR7OLE7Onk>

AGORA ESTE QUE VOS GUSTARA TANTO

<https://www.youtube.com/watch?v=vNAAwokQtM>

ACTIVIDADE 3.

Deixovos o enlace a unha das webs que sigo. Aquí tendes unhas actividades moi chulas (algunhas iamos facelas no cole) relacionadas coa luz, que é un dos temas que nos quedaba de natu. Propóño-vos que elixades unha e nos enviades fotos co resultado.

http://www.tierraenlasmanos.com/ideas-jugar-con-luz-sol-y-sombras/?fbclid=IwAR1oWkIjQD0X15Z62cbLQsvYpCUd3kaeFe-_rLsyZ8Np3Pqxs-muA1aLEic

MATEMÁTICAS

ACTIVIDAD 1. PÍXELES



ACTIVIDAD 2. De la web del INE saqué esta infografía con datos de las ciudades más pobladas de España.

Las ciudades más pobladas (01/01/2019)

Madrid

3.266.126

Barcelona

1.636.762

València

794.288

Sevilla

688.592

Zaragoza

674.997

Fuente: Estadística del Padrón continuo. INE - España

Abril 2020











1. ¿Cuál es la ciudad con más población?
2. ¿Cuántos habitantes más tiene Barcelona que Valencia?
3. Las ciudades de Sevilla y Valencia juntas, ¿tienen más habitantes que Barcelona?
4. ¿Sería correcto decir que la ciudad de Madrid tiene más o menos el doble de habitantes que la ciudad de Barcelona?
5. Abre Google Maps. Escribe el nombre de estas 5 ciudades y anota el tiempo que te llevaría ir en coche desde tu casa y cuantos km hay que hacer. Elige la ruta que te recomienda Google Maps para que todos tengamos resultados similares. Primero pones el nombre del sitio al que quieres ir, por ejemplo, Madrid, y luego le das a "Como llegar". Pones como punto de partida tu casa, escribiendo la calle en la que vives.


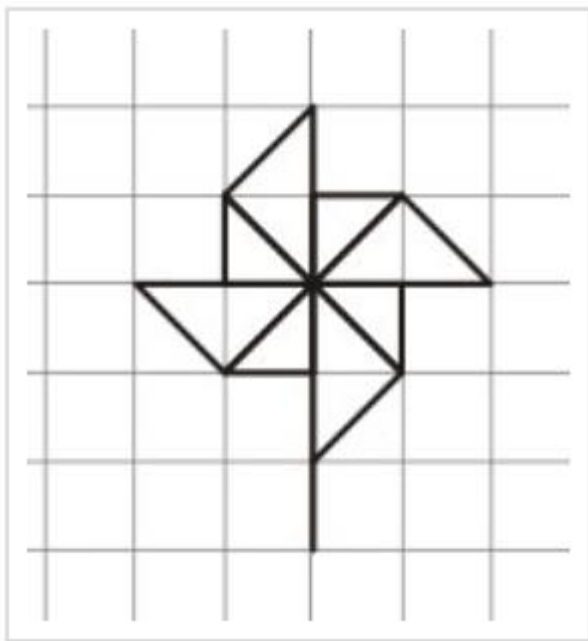
 Google Maps	TIEMPO DE VIAJE	KM A RECORRER
MADRID		
BARCELONA		
VALENCIA		
SEVILLA		
ZARAGOZA		

ACTIVIDAD 3. ACERTIJO MATEMÁTICO

1

	+		=	6
	+		=	8
	+		=	9
	+		=	?

ACTIVIDAD 4. DIBUJO GEOMÉTRICO.



ACTIVIDAD 5. Del libro del tercer trimestre. Página 189, el 18 y el 25. Recordad hacer primero la operación que está dentro del paréntesis.

Ejemplo:

$$\begin{array}{l} 2 \times (6 \times 4) \\ 2 \times 24 \\ 48 \end{array}$$

LENGUA CASTELLANA

ACTIVIDAD 1.

Aquí tenéis tres juegos interactivos para repasar las tildes.

<https://happylearning.tv/quiz-palabras-agudas/>

<https://happylearning.tv/quiz-palabras-esdrujulas/>

<https://happylearning.tv/quiz-palabras-agudas/>

ACTIVIDAD 2. Letras bonitas para practicar para hacer títulos, nombres... Practica a escribir nombres de tus compis que seguro les hace ilusión este mini homenaje.



ACTIVIDAD 3. Del libro. Página 129 "TALLER LITERARIO". Página 134, 2, 3 y 4.

ACTIVIDAD 4. Otra infografía que descargué de la página web del INE, esta vez con los nombres más comunes en los recién nacidos del 2018. Completa esta tabla con los datos de la imagen. Fíjate bien en las tildes.

NOMBRES

más frecuentes de los recién nacidos en España. 2018



	♀	♂
GALICIA		
ASTURIAS		
CANTABRIA		
PAÍS VASCO		
LA RIOJA		
NAVARRA		
ARAGÓN		
CATALUÑA		
VALENCIA		
CASTILLA LA MANCHA		
MADRID		
CASTILLA Y LEÓN		
EXTREMADURA		
ANDALUCÍA		
MURCIA		
VALENCIA		
BALEARES		
CANARIAS		
Ceuta		
Melilla		

ACTIVIDAD 5.

Elimina "muy + adjetivo" por otro de estos adjetivos intentando mantener el significado.

suculento - huraño - vigorosa - esquelético - osada - frágil - diminuta - angustiada - intransigente - sabia- ruin - calada - horroroso - robusto - muda - agotado - grosero - vasto - peligroso - aterrada.

Ejemplo: Perdernos en el bosque ha sido una experiencia muy desagradable.

Perdernos en el bosque ha sido una experiencia infernal.

1. Laura es una niña **muy energética** y siempre se esfuerza mucho. ¿A qué sí, Sandra?
2. El plato que ha preparado la famosa chef Aitana era **muy sabroso**.
3. Mi vecino había sido siempre **muy antipático** así que nadie lo echaba de menos.
4. El perrito de Candela y Roi después de estar 3 días sin comer estaba **muy delgado**. Ahora ya está recuperado. ¡Menos mal que Catalina y Hugo lo encontraron en casa de André!
5. Sabela es **muy atrevida** y no tuvo reparos en presentarse voluntaria para protagonizar la obra de teatro. Diego será el otro protagonista. Es también muy bueno actuando.
6. El abuelito estaba **muy débil**. Han decidido llevarlo al hospital para hacerle una revisión.
7. Ese día había sido **muy testarudo** y no entraba en razón. Luego se tranquilizó y lo pensó mejor.
8. La profe estaba **muy preocupada** porque faltaban demasiados niños y niñas a clase. ¡Algo no iba bien!
9. Era una mujer **muy inteligente** que siempre daba buenos consejos. ¡Me gustaba hablar con ella! Se llamaba Manuela. Era una maravillosa escritora de cuentos.
10. Empezó a llover muy fuerte y llegué a casa **muy mojada**.
11. ¡Esa broma ha sido **muy malvada**! Se asustó de verdad. ¡No tuvo gracia!
12. Anxo llegó **muy cansado** a casa después de la carrera y aún se puso a hacer un Lego.
13. ¡No sé dibujar! ¡Mira que perro **más feo** me ha salido! Iván, ¿me enseñas a dibujarlo bien?
14. Ese roble es **muy fuerte**. Podríamos construir una casa del árbol en él. A Helder y a Saray seguro que les gusta la idea. Siempre quisieron tener una para venir a jugar por las tardes.
15. Podría decirse que la mascota de Alba era **muy pequeña**. Cogía en la palma de su mano.
16. No me gustó lo que ha hecho. Ha sido maleducado y **muy descortés**.
17. El castillo del rey Izan estaba construido en medio de un **muy extenso** bosque.
18. ¿Qué te pasa hoy? ¿Estás **muy callada**? ¿Estás preocupada por algo?

19. Ese experimento es **muy arriesgado**. Mejor elegimos otro. ¿Te parece bien, Pedro?

20. ¡Quedó atrapada en el ascensor! Estaba **muy asustada**. ¡Pobre Irene! ¡Menos mal que llegaron Dani e Iago para avisar!

LINGUA GALEGA

ACTIVIDADE 1.

DO LIBRO DO SEGUNDO TRIMESTRE.

PÁXINA 137. LER O POEMA DO EXERCICIO 4.

PÁXINA 138. EXERCICIO 3 (SÓ UNIR O DEBUXO COA PALABRA)

DO LIBRO DE TERCEIRO TRIMESTRE.

PÁXINA 143. LER O POEMA. BUSCAR AS PALABRAS QUE RIMAN EN CADA ESTROFA.

PÁXINA 144. EXERCICIO 2 E 3.

PÁXINA 146. EXERCICIO 1, 2 E 3.

ACTIVIDADE 2.

VÍDEO DE PAPIROFLEXIA. Atrévete? Segue as instrucións. Vai parando o vídeo cando o precises. Xa sei que temos expertos en clase en papiroflexia, e non é a profe seguro. Jaja! Mándanos fotos das túas creacións.

https://www.youtube.com/watch?v=5XIsNNB0pKQ&feature=emb_logo

