

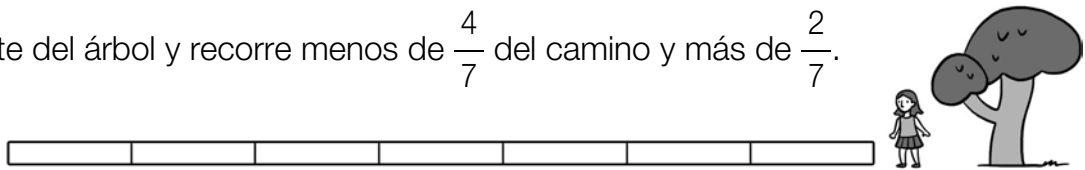
Nombre \_\_\_\_\_ Fecha \_\_\_\_\_

**1** Señala en rojo el tramo del camino que ha podido recorrer cada niño.

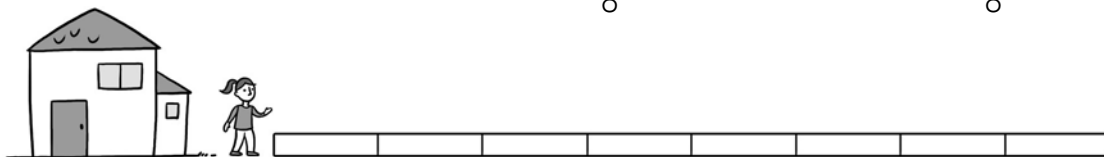
- Juan sale de la casa y recorre más de  $\frac{3}{5}$  del camino y menos de  $\frac{4}{5}$ .



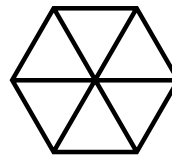
- Adela parte del árbol y recorre menos de  $\frac{4}{7}$  del camino y más de  $\frac{2}{7}$ .



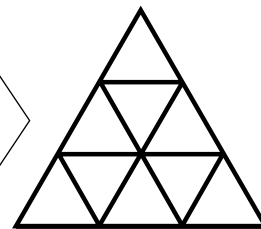
- Cristina sale de la casa y recorre más de  $\frac{3}{8}$  del camino y menos de  $\frac{7}{8}$ .

**2** Sigue las indicaciones y colorea.

Colorea  $\frac{2}{6}$  de la figura, de tal forma que la parte sin colorear sean dos rombos.



Colorea  $\frac{3}{9}$  de la figura, de tal forma que la parte sin colorear sea un hexágono.

**3** Observa la figura y colorea.

- $\frac{5}{10}$  en rojo.
- $\frac{3}{10}$  en verde.



■ Ahora, escribe la fracción de la figura que has pintado en total. \_\_\_\_\_