

1 Descompón estos números.

476 → C, D y U

517 → C, D y U

529 → C, D y U

428 → C, D y U

341 → C, D y U

276 → C, D y U

2 Completa la serie sumando 5.

496	501	<input type="text"/>	<input type="text"/>	<input type="text"/>	<input type="text"/>	<input type="text"/>	<input type="text"/>
-----	-----	----------------------	----------------------	----------------------	----------------------	----------------------	----------------------

3 Ordena de menor a mayor.

465	498	431	429	→	<input type="text"/>	<	<input type="text"/>	<	<input type="text"/>	<	<input type="text"/>
-----	-----	-----	-----	---	----------------------	---	----------------------	---	----------------------	---	----------------------

568	590	543	513	→	<input type="text"/>	<	<input type="text"/>	<	<input type="text"/>	<	<input type="text"/>
-----	-----	-----	-----	---	----------------------	---	----------------------	---	----------------------	---	----------------------

502	499	486	470	→	<input type="text"/>	<	<input type="text"/>	<	<input type="text"/>	<	<input type="text"/>
-----	-----	-----	-----	---	----------------------	---	----------------------	---	----------------------	---	----------------------

4 Escribe los nombres de estos números.463 → 598 → 574 → 431 →

5 Nombre y apellidos:


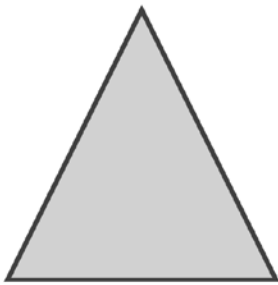
5 ¿Qué número soy? Escribe.

Tengo 4 C, 4 D y 9 U = Tengo 3 D más que 413 = Tengo 513 unidades = Tengo 2 D menos que 576 =


6 Escribe el número anterior y el posterior.

<input type="text"/>	← Quinientos cincuenta y siete →	<input type="text"/>
<input type="text"/>	← Cuatrocientos nueve →	<input type="text"/>
<input type="text"/>	← Quinientos setenta →	<input type="text"/>


7 Traza los ejes de simetría de estas figuras y escribe cuántos tiene cada una.




8 Dibuja estas líneas.



Dos curvas cerradas.



Una poligonal abierta.



Tres rectas.

1 Suma y resta.

$589 - 237 = \square$

$493 - 161 = \square$

$525 - 301 = \square$

$276 + 211 = \square$

$176 + 223 = \square$

$353 + 145 = \square$

2 Coloca los números y resta. Después, haz la prueba.

$421 - 385$

Prueba

$513 - 195$

Prueba

3 Averigua el minuendo de estas restas.

$$\begin{array}{r} \square \\ - 179 \\ \hline 344 \end{array}$$

$$\begin{array}{r} \square \\ - 217 \\ \hline 254 \end{array}$$

$$\begin{array}{r} \square \\ - 148 \\ \hline 268 \end{array}$$

$$\begin{array}{r} \square \\ - 284 \\ \hline 269 \end{array}$$
