



Nombre: _____ Fecha: _____

LAS DOS GOTITAS

Las dos gotitas de agua vivían en una gran nube. Comenzó a llover y la gotita pequeña no quería caer, le daba mucho miedo. Su mamá le contó que era muy divertido, que un día cayó en una flor, otro día en una casa y otro día en una calle muy bonita. La gotita pequeña, con mucho miedo, agarró de la mano a su mamá, cerró los ojos y se dejó caer.

Las dos gotitas de agua cayeron junto con las demás, formando una gran lluvia plateada. La mamá mojó la hoja de un árbol, se resbaló y cayó al suelo produciendo un gran ruido: "plaf". Su hija, como era más delgadita, tardó más en caer, se posó sobre un paraguas rojo, haciendo un ruidito: "clic". Después resbaló y cayó en el gorro de una niña, "clic", se deslizó por su nariz para más tarde gotear en su impermeable azul. Al final acabó en unas botas de agua. Estuvo un buen rato en la bota hasta que la niña comenzó a andar y cayó a un gran charco que había en el suelo. Allí encontró a su mamá a quien le dio un gran abrazo. Después de contarse el largo viaje, quedaron fundidas en el gran charco de agua. Más tarde, salió el sol, se reflejó en el charco y apareció un bonito arco iris.

PRUEBA DE COMPRENSIÓN LECTORA

★ ¿Dónde vivían las dos gotitas?

.....
.....
.....

★ ¿Por qué no quería caer la gota pequeña?

.....
.....
.....

★ ¿En qué tres sitios contó la mamá gota que había caído?

.....
.....
.....
.....
.....

★ ¿Qué formaron todas las gotas al caer?

.....
.....
.....

★ ¿Qué ruido hizo mamá gota al caer?

.....
.....
.....



★ La gotita pequena se posó primero en _____

después resbaló y cayó en _____

se deslizó por _____ hasta _____

al final acabó en _____

★ ¿Cómo llegó la gotita pequenita al charco? _____

★ ¿Qué hizo la gotita cuando encontró a su mamá? _____

★ ¿Cuándo salió el sol y se reflejó en el charco que apareció en el cielo? _____

El armario mágico



Ayer cuando abriste tu armario para vestirme descubriste que era mágico y que podrías viajar el lugar que quisieras solo con pensar en él y allí ver a la persona que quisieras antes de abrirlo. ¿Dónde irías?, ¿Se lo contarías a alguien?, ¿A quién te gustaría ver cuando lo abrieras?

.....



Nombre:

■ Pablo compró dos cajas de bombones. Cada caja contiene tres bombones y cada uno vale 7 euros . ¿Cuánto pagó por los bombones?

Datos

Operaciones

Resultado

Pablo pagó

.....



■ Ignacio está contento porque sabe que cada día su fortuna se duplica. Si el lunes tenía 10 euros. ¿Cuántos euros tendrá el sábado?

Datos y operaciones

Resultado

<i>lunes</i>	<i>martes</i>	<i>miércoles</i>	<i>jueves</i>	<i>viernes</i>	<i>sábado</i>

Ignacio tendrá el

sábado euros.

■ El dueño de una frutería compró ayer 400 kg de melocotones. Esta mañana ha vendido 135 kg y esta tarde 85 kg. ¿Cuántos kilos le quedan al frutero?

Datos

Operaciones

Resultado

Le quedan kilos.



■ Andrea hace 4 viajes al día en autobús. Si un billete cuesta 75 euros , ¿cuánto gasta en 5 días? *Calcula primero lo que te gastas en un día.*

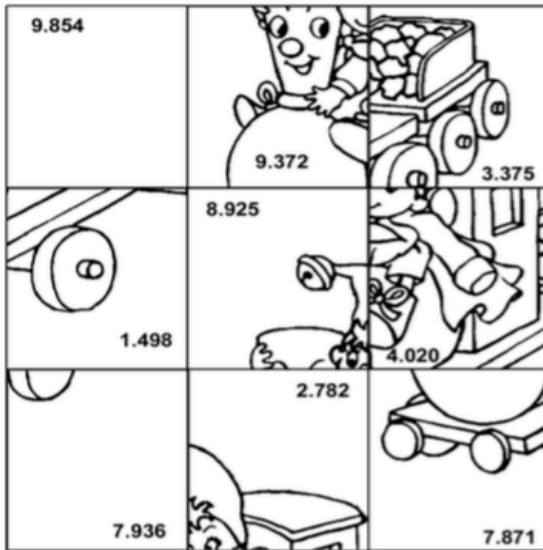
Datos

Operaciones

Resultado

NOMBRE Y APELLIDOS:

 (Recorta y pega esta etiqueta detrás del puzzle)





MULTIPLICACIÓN

Calcula las siguientes operaciones y pega la pieza según el resultado. Al final colorea el dibujo. ¡Aprendero muy rápido!

$425 \times 21 =$	$214 \times 13 =$	$379 \times 26 =$
$132 \times 71 =$	$402 \times 10 =$	$135 \times 25 =$
$463 \times 17 =$	$214 \times 7 =$	$128 \times 62 =$



Dibuja el camino empezando por el 3 y acabando por el 300, contando de tres en tres.

			3	6	9	72	75	78	
			30	27	12	69	66	81	84
			33	24	15	60	63	90	87
147	144	141	36	21	18	57	54	93	96
150	153	138	39	42	45	48	51	102	99
159	156	135	132	129	126	123	120	105	108
162	165	168	267	270	273	276	117	114	111
189	186	171	264	261	258	279	288	291	294
192	183	174	249	252	255	282	285	300	297
195	180	177	246	243	234	231			
198	201	210	213	240	237	228			
	204	207	216	219	222	225			