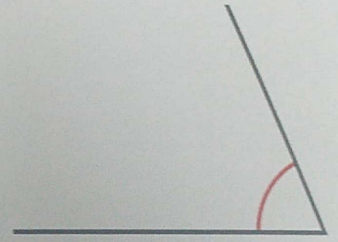




9

Ángulos

Medida de ángulos

1 Utiliza el transportador y escribe la medida de cada ángulo. Después, relaciona.



Recto

Agudo

Obtuso

Llano

Completo

