

Nome _____ Data _____

REPASA ESTA INFORMACIÓN.

O **traballo** é calquera actividade pola que se obtén un soldo. Segundo o traballo, as persoas poden ser **activas** ou **inactivas**. Os traballos pódense clasificar en tres sectores: **primario**, **secundario** e **terciario**.

1 Quen forma o grupo da poboación activa? E o da inactiva?

2 Escribe (A) para poboación activa ou (I) para poboación inactiva onde corresponda.

- | | | |
|-------------------------------------|--------------------------------------|------------------------------------|
| <input type="checkbox"/> parado | <input type="checkbox"/> informático | <input type="checkbox"/> xubilado |
| <input type="checkbox"/> agricultor | <input type="checkbox"/> economista | <input type="checkbox"/> estudante |

3 Que é unha empresa? Como se clasifican segundo o seu tamaño?

4 Escribe a que sector económico (primario, secundario ou terciario) corresponde cada imaxe.



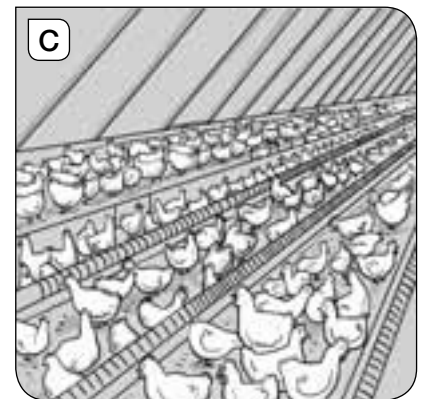
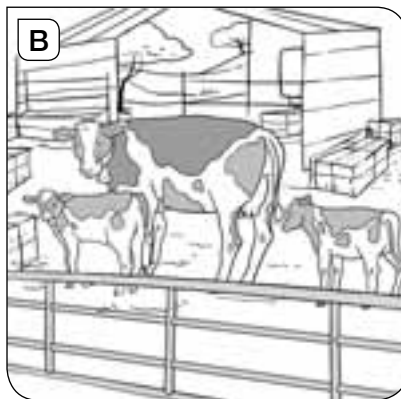

Nome _____ Data _____

REPASA ESTA INFORMACIÓN.

A **gandería** é a cría de animais para obter alimentos e outros produtos. Pode ser **intensiva** ou **extensiva**.

A **pesca** é a captura de peixes e doutros animais acuáticos no mar, nos ríos e nos lagos. A pesca marítima pode ser de **altura** ou de **baixura**.

1 Escribe o tipo de gando que representa cada debuxo.



2 Cal das ilustracións representa a gandería extensiva? Por que o sabes?

O debuxo _____ representa a gandería extensiva, porque _____

3 Relaciona as oracións.

A pesca fluvial...

A pesca de altura...

A pesca de baixura...

A acuicultura...

ESTE NON O FAGADES

...s barcos.

...consiste no cultivo de plantas e animais acuáticos.

...practícase preto da costa con pequenos barcos.

...practícase en ríos.