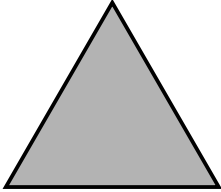
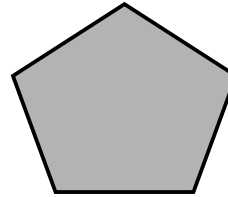
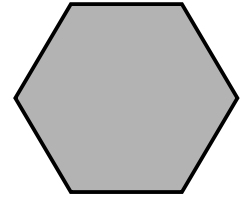


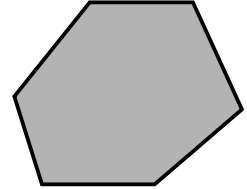
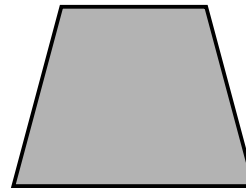
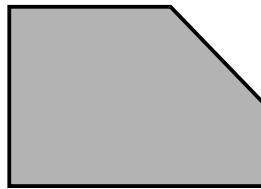
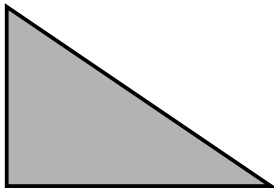
Nombre _____ Fecha _____

RECUERDA

Según su número de lados, los polígonos se clasifican en:

Triángulo
3 ladosCuadrilátero
4 ladosPentágono
5 ladosHexágono
6 lados**1** Escribe cuántos lados tiene cada polígono.

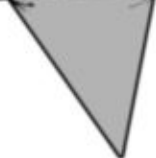
- Triángulo ►
- Cuadrilátero ►
- Pentágono ►
- Hexágono ►

2 Cuenta el número de lados y clasifica estos polígonos.**3** ¿Qué forma tiene cada banderín? Clasifícalos.

1



2



3



4



1 ►

2 ►

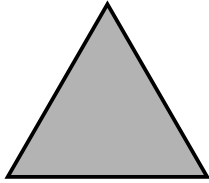
3 ►

4 ►

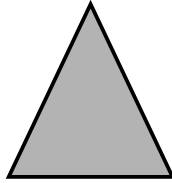
Nombre _____ Fecha _____

RECUERDA

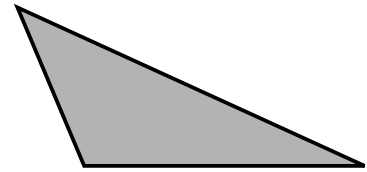
- El triángulo equilátero tiene los tres lados iguales.
- El triángulo isósceles tiene dos lados iguales.
- El triángulo escaleno tiene los tres lados desiguales.



Triángulo equilátero



Triángulo isósceles

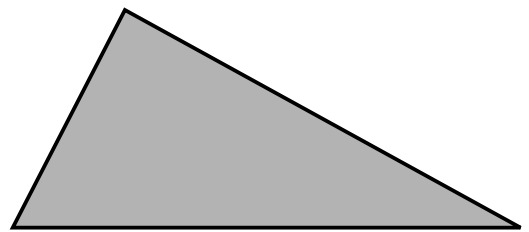
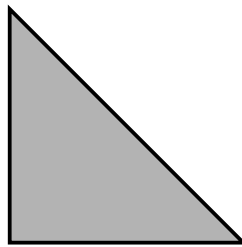
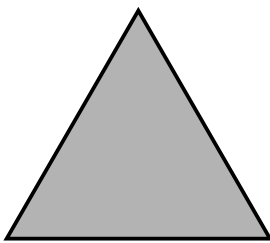


Triángulo escaleno

1 Escribe cómo son los lados de cada triángulo.

- Triángulo equilátero ► _____
- Triángulo isósceles ► _____
- Triángulo escaleno ► _____

2 Mide los lados de cada triángulo y clasifícalos.



3 Clasifica los triángulos que forman la figura.

