





Repaso sumas y restas


1 Opera y colorea el dibujo según las claves.


 $635 + 125$


 $367 - 85$


 $378 + 31$


 $238 + 85$



 $525 + 96$

 $132 - 65$

 $174 + 169$

 $234 - 156$





EL OTOÑO



Vamos a descubrir una curiosidad matemática; para ello, tienes que prestar mucha atención.

- Resta estos números. Después, observa cómo son sus cifras:

321 - 123		
100	221	23
20	201	3
3	198	0

210 - 12		

432 - 234		

- ¿Observas algo en las soluciones?



- ¿Cuál o cuáles de estas restas tienen 198 como solución? Rodéalas y luego compruébalo.



643 - 346		

543 - 345		

421 - 124		



- ¿Has descubierto cómo conseguir esa solución? ¡Eureka!

Completa estas restas para que tengan como resultado 198:

543 - <input type="text"/>		

654 - <input type="text"/>		

