

Números de tres cifras

1 Escribe cómo se leen los siguientes números:

440 →
 404 →



2 Y ahora al revés. Escribe el número.

doscientos veinte →

seiscientos ochenta →

quinientos sesenta →

doscientos cinco →

3 Ayuda a los osos a llegar a la cueva para hibernar.
 Para ello, pinta cada camino en el orden de las soluciones.




0 C 10 D 11 U = 1 3 C 22 D 28 U = 2 4 C 31 D 19 U = 3
 4 C 42 D 43 U = 4 2 C 42 D 37 U = 5 6 C 32 D 12 U = 6



1 C 14 D 156 U = 1
 1 C 22 D 168 U = 2
 2 C 22 D 255 U = 3
 3 C 13 D 137 U = 4
 2 C 32 D 215 U = 5
 4 C 32 D 221 U = 6

992	202	400	504	861	111		
822	216	329	222	548	168		
659	182	235	729	416	657	792	555
542	374	285	182	863	932	666	190
792	729	486	276	291		304	802
564	992	564	295			685	472
			792				
			114	902	941	171	834
			396	112	203	735	180
			900	488	600	567	822
			115	325	675	329	992





Nombre: _____

Fecha: _____



SUMAS^{ABN}

Sumas de 3 sumandos "con llevadas"*
en las unidades

Colorea los resultados de las siguientes operaciones
y descubrirás un dibujo oculto.
Los números pueden estar repetidos.

Rojo **236 + 127**

Verde oscuro **124 + 228**

Verde claro **309 + 234**

Verde claro **245 + 237**

Verde claro **413 + 237**

Verde claro **328 + 328**

Amarillo **125 + 225**

Verde oscuro **382 + 208**


Verde oscuro **242 + 149**

Verde oscuro **166 + 126**

Verde oscuro **533 + 207**

Amarillo **444 + 147**

Marrón **248 + 225**





Resuelvo problemas

En un jardín hay 230 rosas. Hay también 50 margaritas más que rosas. ¿Cuántas margaritas hay?



Hay margaritas.

En una bocadillería hacen cada día 412 bocadillos de queso y 86 menos de atún. ¿Cuántos bocadillos de atún hacen?



Hacen bocadillos de atún.

Si hay 535 personas que quieren ver una película y en la sala solamente caben 350, ¿cuántas personas se quedarán sin entrada?



Se quedarán sin entrada personas.

En un rebaño hay 121 ovejas blancas y 101 ovejas negras. ¿Cuántas ovejas negras menos que blancas hay en el rebaño?



Hay ovejas negras menos que blancas.

Cuento el doble de tiempo

1 Dibuja las horas a las que los cerditos empezaron y acabaron de construir sus casas.



Yo empecé mi casa de paja a las 9:00 de la mañana y acabé dos horas después.

EMPEZÓ




TERMINÓ







Yo empecé mi casa de madera a las 11:30 y tardé el doble que mi hermano pequeño.

EMPEZÓ




TERMINÓ





Yo empecé mi casa de ladrillos a las 10:00 y tardé el doble que mi hermano mediano.

EMPEZÓ



TERMINÓ



2 Fíjate en los ejemplos y escribe el doble de cada tiempo.

2 horas y cuarto	4 horas y media	2 horas y media	5 horas
5 horas y cuarto		5 horas y media	
10 horas y cuarto		10 horas y media	



Cuento la mitad de tiempo

1 Dibuja las horas a las que el lobo empezó y terminó sus acciones.

Empecé a soplar la casa de paja a las 6:00 de la mañana y tardé en tirarla cuatro horas.

EMPEZÓ

TERMINÓ

Empecé a soplar la casa de madera a las 11:00 y tardé en tirarla la mitad de tiempo que la de paja.

EMPEZÓ

TERMINÓ

Me metí por la chimenea de la casa de ladrillos a las 11 de la noche y me chamusqué media hora después.

EMPEZÓ

TERMINÓ

2 Fíjate en los ejemplos y completa escribiendo la mitad de cada tiempo.

2 horas y media	1 hora y cuarto	3 horas	1 hora y media
6 horas y media		7 horas	
10 horas y media		11 horas	





Nombre: _____

Fecha: _____



RESTAS ^{ABN}

DIBUJO OCULTO

Resuelve las restas y colorea según el resultado para descubrir el dibujo oculto.

Café **120 - 100**

Azul **430 - 228**

Verde **158 - 109**

Amarillo **209 - 57**

Amarillo **119 - 117**

Rojo **229 - 116**

Amarillo **100 - 50**

Naranja **520 - 52**

Morado **352 - 98**



MAESTRO JESÚS GONZÁLEZ MOLINA