

¿Qué oculta este dibujo?

1 Resuelve las operaciones y colorea según las claves para descubrir el dibujo oculto.

$$2C + 10D + 3U = \square$$

$$3C + 12D + 105U = \square$$

$$5C + 20D + 10U = \square$$

$$4C + 11D + 23U = \square$$

$$3C + 5D + 20U = \square$$

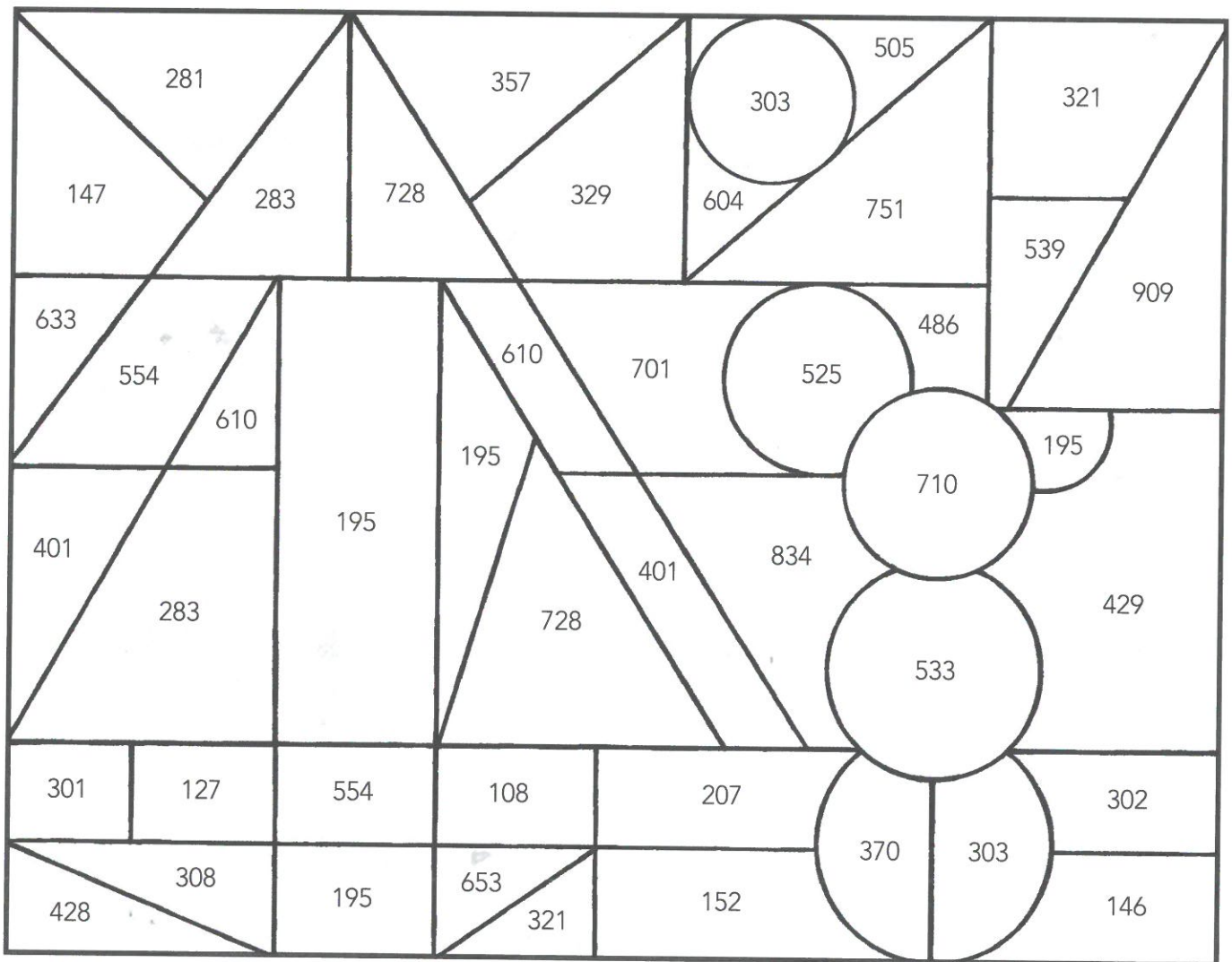
$$1C + 15D + 33U = \square$$

$$5C + 10D + 128U = \square$$

$$4C + 3D + 124U = \square$$

$$1C + 1D + 500U = \square$$

$$7D + 125U = \square$$



SUMAS ABN



Nombre: _____ Fecha: _____

Resuelve las sumas y colorea el dibujo según el resultado.

Amarillo Suma $134 + 219$

Negro Suma $226 + 317$

Rojo Suma $454 + 257$

Azul Suma $301 + 419$

Rosa Suma $127 + 294$




algorithmos **abn** POR UNAS MATEMÁTICAS DIVERTIDAS

Marrón Suma $514 + 219$

Naranja Suma $319 + 226$

Verde claro Suma $109 + 219$

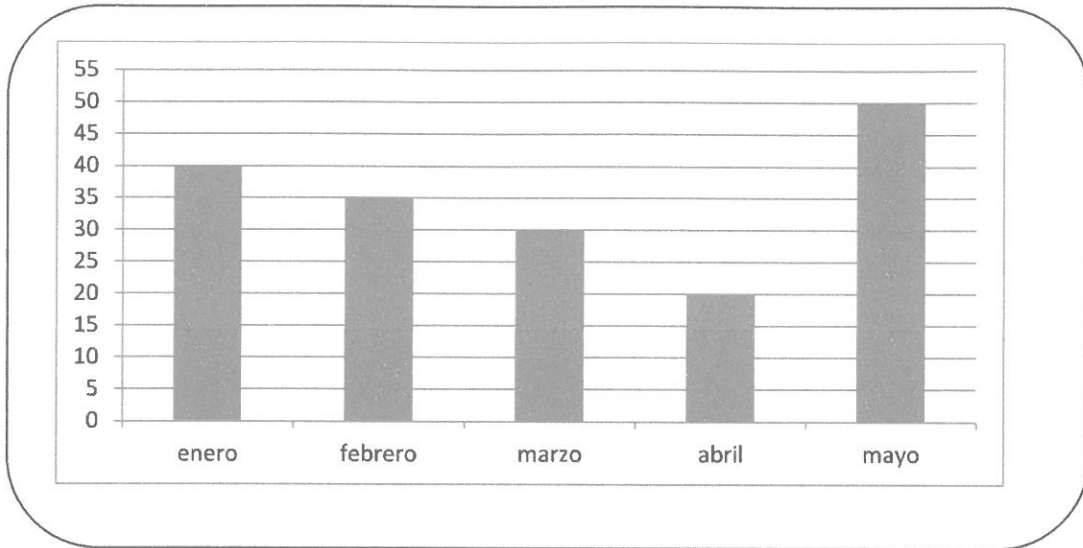
Celeste Suma $127 + 503$





TABLAS Y GRÁFICAS

Los euros que hemos gastado en teléfono en mi casa durante cinco meses, están anotados en la siguiente tabla:



Señala las respuestas correctas:

- En marzo gastamos 30 euros.
- El mes que menos gastamos fue abril.
- En mayo gastamos menos dinero que en febrero.
- Entre enero y febrero gastamos 85 euros.

Si la factura del mes de mayo la pagamos con un billete de 100 euros, ¿cuánto dinero nos devolvieron?

Solución:





Antes de comenzar, rodea los datos y subraya las preguntas.

★ En una estantería de un almacén había una caja con 56 latas de tomate. Si Metí 42 latas más, ¿cuántas latas de tomate hay ahora en la caja?

■ DATOS

- En la caja había _____ latas de tomate.
- Metí _____ latas más.

■ OPERACIÓN



■ SOLUCIÓN


- En total en la caja hay _____ latas de tomate.

★ De los 89 cromos de fútbol que tenía repetidos le regalé a mi hermano 47. ¿Con cuántos cromos me quedé?

■ DATOS

- Al principio tenía _____ cromos de fútbol repetidos.
- Regalé a mi hermano _____ cromos.

■ OPERACIÓN



■ SOLUCIÓN

- Me quedé con _____ cromos.

El tiempo

1 Dibuja las horas. Fíjate en si es por la mañana (M) o por la tarde (T).

He montado el belén en 2 horas y cuarto.




EMPEZÓ



11:00

ACABÓ



EMPEZÓ




01:00

He tardado 1 hora en preparar una tarta.



ACABÓ



He puesto el árbol en tres cuartos de hora.




EMPEZÓ



10:00

ACABÓ



EMPEZÓ




01:30

Ha estado lloviendo un cuarto de hora.




ACABÓ



He dormido una siesta de media hora.




EMPEZÓ



08:15

ACABÓ



EMPEZÓ




05:30

La fiesta duró 2 horas y cuarto.



ACABÓ



Jugué un partido 1 hora y media.




EMPEZÓ



06:30

ACABÓ



EMPEZÓ




04:30

Ha estado nevando 45 minutos.



ACABÓ



Nombre: _____

Fecha: _____

RESTAS

Ayuda a los Nicktoons a encontrar los resultados de las siguientes operaciones.

350 - 229

160 - 47

200 - 149

280 - 264

250 - 227

200 - 82

300 - 188


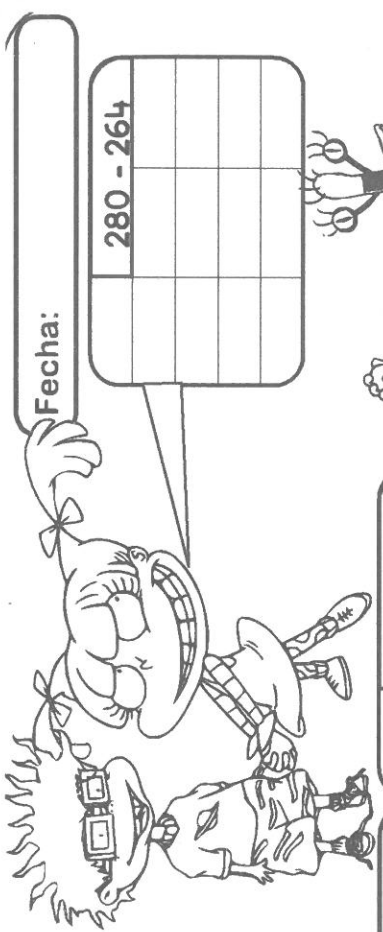

G	V	I	L	A	T	A	N	E	S	A	C	P	I	C
F	E	C	L	E	R	D	O	L	E	X	O	I	E	I
C	I	N	T	E	O	R	A	E	T	O	E	N	S	N
E	I	M	A	R	C	I	N	C	O	G	R	T	O	R
N	T	R	E	A	F	E	N	T	A	E	R	A	D	I
O	S	A	A	T	O	C	E	N	D	S	A	E	O	E
S	I	A	A	T	O	A	S	O	E	I	A	C	A	C
E	F	U	R	C	O	I	Y	O	P	E	R	S	I	O
T	E	L	A	N	E	I	U	H	R	C	O	S	C	H
C	C	O	S	J	C	P	A	S	O	R	A	H	O	A
C	I	E	N	T	O	V	E	I	N	T	I	U	N	O

460 - 255

210 - 134

300 - 193

Nombre: _____



Imágenes: Nickelodeon Animation Studios. nick.com