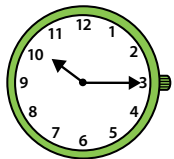
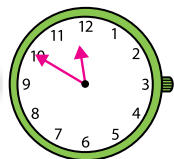
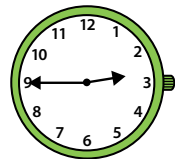
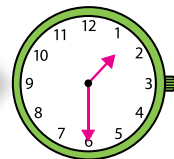

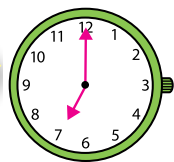

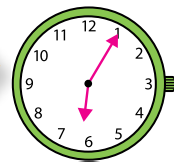
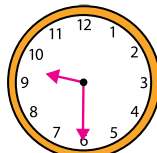
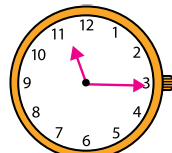
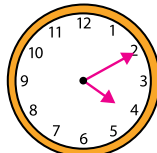
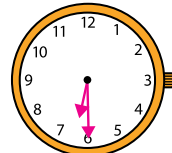


El reloj

1 Dibuja las manecillas de cada reloj.

	1 hora y 35 minutos después			1 hora y 15 minutos antes	
	2 horas y 45 minutos después			3 horas y 35 minutos antes	

2 Representa la hora en los relojes y calcula.

SALIÓ	REGRESÓ
	
9 : 30	11 : 15
ENTRÓ	SALIÓ
	
16 : 10	18 : 30

- Manuel salió de compras a las 9 y media de la mañana y regresó a las 11 y cuarto de la mañana. ¿Cuánto tiempo estuvo fuera Manuel?

Estuvo fuera 1 hora y tres cuartos.

- Sandra entró en el cine a las 4 y diez de la tarde y salió a las 6 y media. ¿Cuánto tiempo estuvo Sandra en el cine?

Estuvo 2 horas y 20 minutos.

3 Lee y resuelve.

Alberto y Eva van a visitar a sus abuelos, que viven en un pueblo. El autobús sale a las 5 y cuarto de la tarde y llega al pueblo a las 8 menos cuarto de la tarde. Ese día, el autobús salió con 20 minutos de retraso y llegó al pueblo 20 minutos más tarde.

¿A qué hora salió y llegó el autobús? ¿Cuánto tiempo duró el viaje?

SALIÓ: El autobús salió a las 6 menos veinticinco de la tarde.

LLEGÓ: El autobús llegó a las 8 y cinco de la tarde.

El viaje duró 2 horas y 30 minutos.

