

1 Une.

- | | | | |
|-----------------------------|---|---|-----|
| Quinientos veintiséis | • | • | 534 |
| Quinientos cinco | • | • | 562 |
| Quinientos cuarenta y tres | • | • | 550 |
| Quinientos sesenta y dos | • | • | 526 |
| Quinientos treinta y cuatro | • | • | 505 |
| Quinientos cincuenta | • | • | 543 |

2 Completa.

Número	Cómo se lee	C, D y U
570	<input type="text"/>	5 C y 7 D
	quinientos ochenta y siete	
515	<input type="text"/>	
	<input type="text"/>	5 C y 9 D
	quinientos cincuenta y tres	

3 Escribe el ordinal que corresponda.

Patricia vive un piso debajo del 8.º →

Saúl vive un piso encima del 11.º →

Sandra vive entre el 14.º y el 16.º →

Juan vive un piso encima del 19.º →

1 Colorea según el valor que tenga la cifra 7: 7 U: rojo 70 U: verde 700 U: azul

doscientos setenta y cinco

$$700 + 50 + 4$$

5 C, 4 D y 7 U

setecientos sesenta y dos

$$300 + 70 + 9$$

7 C, 2 D y 3 U

quinientos treinta y siete

$$700 + 10 + 6$$

7 C, 8 D y 4 U

ciento setenta y ocho

$$600 + 80 + 7$$


4 C y 7 D

2 Escribe los números del 689 al 712.

689							

- Rodea el número $700 + 7$
- Subraya el anterior a 700
- Tacha el número posterior a $700 + 10$

3 Clasifica los números siguientes:



N.º pares

N.º impares

1 Escribe el valor de la cifra 4 y ordena los números de mayor a menor.

482 → unidades.

346 → unidades.

234 → unidades.

174 → unidades.

142 → unidades.

405 → unidades.

○ ○ ○ ○ ○

2 Escribe la descomposición de cada número en suma de unidades.

cuatrocientos sesenta: +

167: + +

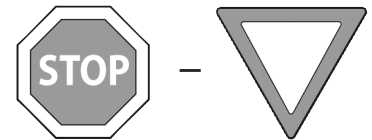

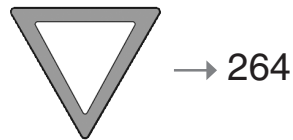
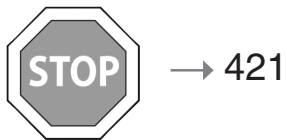
doscientos seis: +

439: + +

cuatrocientos nueve: +

358: + +

3 Resuelve según se indica.



4 Corrige las restas que están mal resueltas.

$$\begin{array}{r} 308 \\ - 235 \\ \hline 33 \end{array}$$

$$\begin{array}{r} 424 \\ - 257 \\ \hline 167 \end{array}$$




$$\begin{array}{r} 135 \\ - 87 \\ \hline 48 \end{array}$$

$$\begin{array}{r} 213 \\ - 134 \\ \hline 69 \end{array}$$

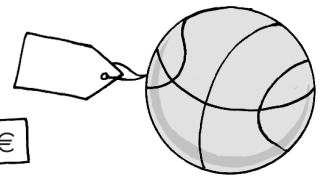


$$\begin{array}{r} 440 \\ - 293 \\ \hline 158 \end{array}$$

5 Completa las etiquetas que faltan.

He pagado por todo 30 €. ¿Cuánto vale el estuche?



Mi madre ha pagado en total 40 €. ¿Cuánto vale la pelota?



6 ¿Cuánto les falta? Completa.




Tengo 1 billete de 5 €
y 6 monedas de 2 €.

Me faltan euros.



Tengo 2 billetes de 10 €
y 5 monedas de 1 €.

Me faltan euros.



Tengo 1 billete de 5 €
y 2 monedas de 50 cts.

Me faltan euros.