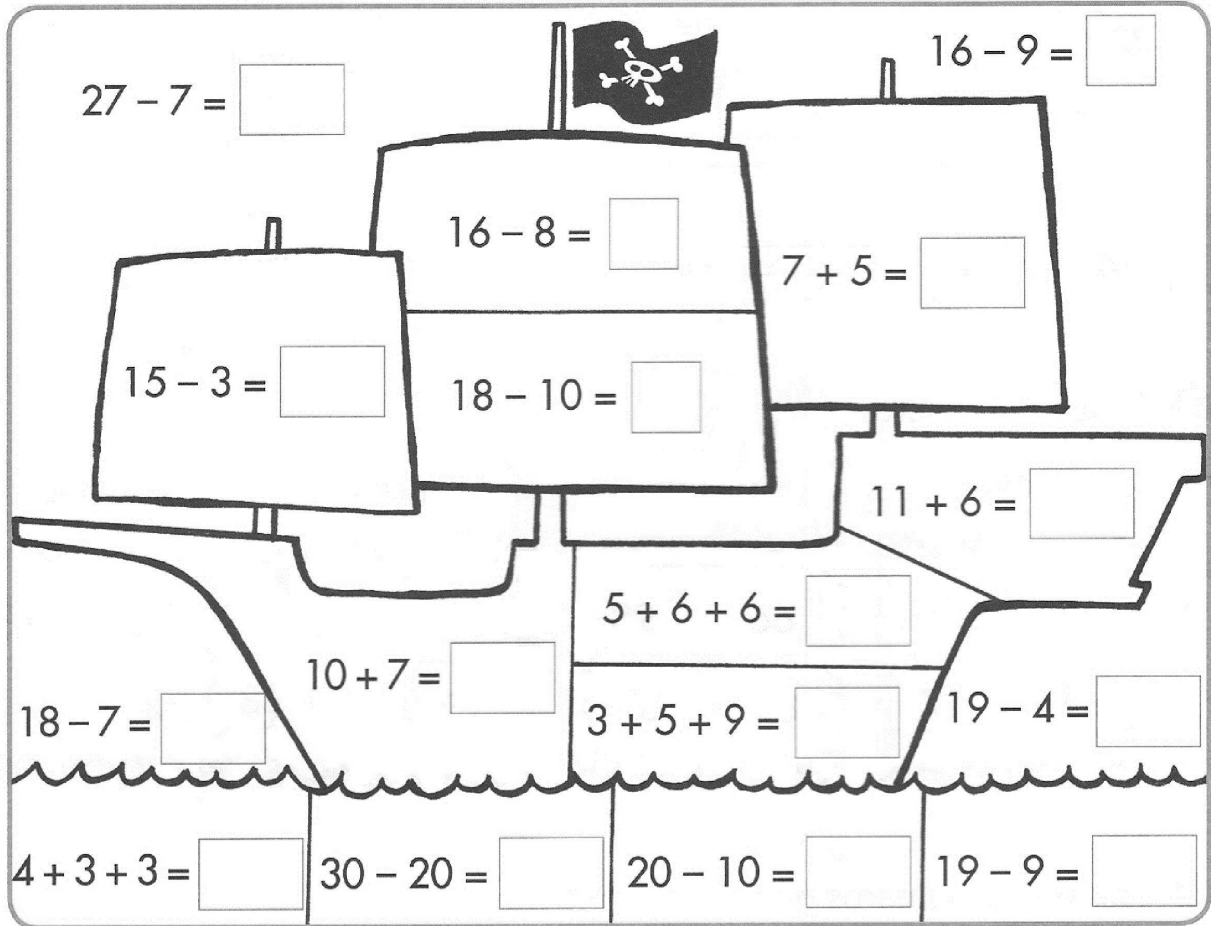


Nombre: _____ Fecha: _____

● Colorea como se indica los espacios cuyos resultados sean:

17 → marrón 12 → amarillo 8 → rosa 10 → verde




● Completa los términos de las sumas.

$$\begin{array}{l} \square + \square = 9 \\ \square + \square = 6 \end{array} \left. \vphantom{\begin{array}{l} \square + \square = 9 \\ \square + \square = 6 \end{array}} \right\} \begin{array}{l} \square + \square = 13 \\ \square + \square = 15 \end{array} \left. \vphantom{\begin{array}{l} \square + \square = 13 \\ \square + \square = 15 \end{array}} \right\} \begin{array}{l} \square + \square = 7 \\ \square + \square = 5 \end{array}$$


● Resta siempre 3.

45							24
----	--	--	--	--	--	--	----

CONTAMOS HACIA ATRÁS


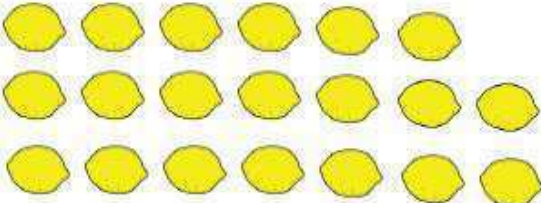



Ayúdame a llegar a mi caseta.
Tengo que recoger los huesos y las
galletas de dos en dos desde el
número 40 hasta el 2 y encontrará
el camino.
Colorea los huesos y el camino cuando
lo encuentres. ¡ GUAU !



Nombre: _____ Fecha: _____

Cuenta y escribe:

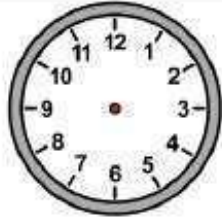
	<input type="text"/> <input type="text"/> <input type="text"/>
	<input type="text"/> <input type="text"/> <input type="text"/>
	<input type="text"/> <input type="text"/> <input type="text"/>

¿Cuántos limones hay más que fresas?

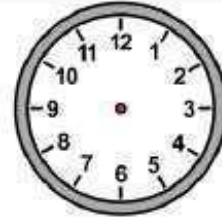
¿Cuántas frutas son de color rojo?

¿Cuánta fruta hay en total?

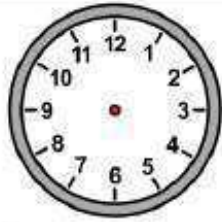
Dibuja las agujas en estos relojes.



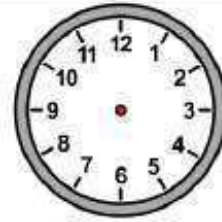
Las nueve en punto.



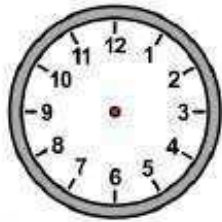
Las seis en punto.



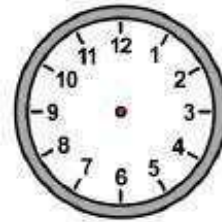
Las dos en punto.



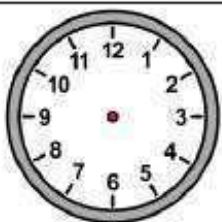
Las siete en punto.



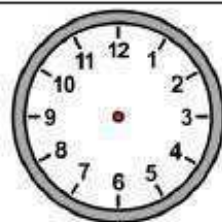
Las doce en punto.



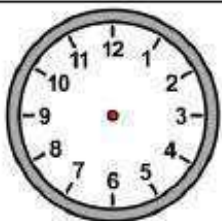
La una en punto.



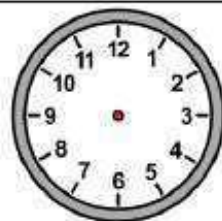
Las tres en punto.



Las ocho en punto.



Las cinco en punto.



Las once en punto.

Calcula.

$54 + 25$

○	
<hr/>	

$61 + 19$

○	
<hr/>	

$36 + 47$

○	
<hr/>	

$28 + 49$

○	
<hr/>	

$67 + 12$

○	
<hr/>	

$47 + 27$

○	
<hr/>	

$45 + 25$

○	
<hr/>	

$12 + 39$

○	
<hr/>	

$24 + 17$

○	
<hr/>	

$36 + 18$

○	
<hr/>	

$45 + 5$

○	
<hr/>	

$12 + 29$

○	
<hr/>	

Coloca y resta.

$35 - 27$

○	
<hr/>	

$45 - 16$

○	
<hr/>	

$58 - 49$

○	
<hr/>	

$52 - 28$

○	
<hr/>	