



matemáticas básicas



Cálculo de diferencias sin llevadas. Problemas de sumas y diferencias sin llevadas

matemáticas básicas 2

proyecto educativo faro

Ilustración

Antonio Perera

Impresión

Brosmac, S.L.

ISBN cuaderno: 978-84-92795-25-3


Depósito Legal:

© Proyecto Educativo Faro

© **DYLAR Ediciones**

www.dylar.es
E-mail: dylar@dylar.es
Tel.: 902 44 44 13

1 Repasa y completa.



2 peces

menos



1 pez



1 pez



3 globos


menos



2 globos



1 globo



5 peras

menos



3 peras



2 =



7 setas

menos




4 setas



3 =



2 Repasa, completa y calcula.



$$4 \dots 1 = 3$$

Quedan manzanas



$$6 \dots 2 = 4$$

Quedan flores.

3 Calcula.

$\begin{array}{r} 4 \\ - 1 \\ \hline \square \end{array}$	$\begin{array}{r} 4 \\ - 2 \\ \hline \square \end{array}$	$\begin{array}{r} 5 \\ - 1 \\ \hline \square \end{array}$
$\begin{array}{r} 6 \\ - 3 \\ \hline \square \end{array}$	$\begin{array}{r} 3 \\ - 2 \\ \hline \square \end{array}$	$\begin{array}{r} 5 \\ - 2 \\ \hline \square \end{array}$

4 Completa las series.



5 Calcula.

$5 - 1 = \square$ $7 - 2 = \square$ $9 - 4 = \square$
 $4 - 3 = \square$ $6 - 5 = \square$ $8 - 6 = \square$
 $9 - 7 = \square$ $5 - 4 = \square$ $7 - 3 = \square$

6 Une con flechas.

5 decenas + 3 unidades	67	veintinueve
3 decenas + 5 unidades	53	cincuenta y tres
6 decenas + 7 unidades	29	treinta y cinco
2 decenas + 9 unidades	35	sesenta y siete

7 Calcula.

$\begin{array}{r} 6 \\ - 2 \\ \hline \square \end{array}$ $\begin{array}{r} 7 \\ - 1 \\ \hline \square \end{array}$ $\begin{array}{r} 5 \\ - 4 \\ \hline \square \end{array}$
 $\begin{array}{r} 8 \\ - 5 \\ \hline \square \end{array}$ $\begin{array}{r} 7 \\ - 3 \\ \hline \square \end{array}$ $\begin{array}{r} 4 \\ - 4 \\ \hline \square \end{array}$

8 Colorea en cada círculo.

- De rojo el número mayor.
- De verde el número menor.

Circle 1: 19, 12, 21, 18
Circle 2: 38, 17, 8, 28
Circle 3: 48, 40, 41, 43

9 Si a cada mono le damos un plátano, ¿cuántos plátanos quedarán?

Datos

Cálculo



Quedarán plátanos.

10 Escribe con letras.

18 _____

53 _____

35 _____

61 _____

40 _____

74 _____

11 Calcula.



$\begin{array}{r} 2 \\ - 2 \\ \hline \end{array}$	$\begin{array}{r} 8 \\ - 1 \\ \hline \end{array}$	$\begin{array}{r} 9 \\ - 3 \\ \hline \end{array}$	$\begin{array}{r} 7 \\ - 4 \\ \hline \end{array}$	$\begin{array}{r} 6 \\ - 5 \\ \hline \end{array}$	$\begin{array}{r} 7 \\ - 6 \\ \hline \end{array}$	$\begin{array}{r} 5 \\ - 5 \\ \hline \end{array}$
<input type="text"/>	<input type="text"/>	<input type="text"/>	<input type="text"/>	<input type="text"/>	<input type="text"/>	<input type="text"/>
$\begin{array}{r} 9 \\ - 4 \\ \hline \end{array}$	$\begin{array}{r} 9 \\ - 5 \\ \hline \end{array}$	$\begin{array}{r} 9 \\ - 6 \\ \hline \end{array}$	$\begin{array}{r} 8 \\ - 7 \\ \hline \end{array}$	$\begin{array}{r} 8 \\ - 5 \\ \hline \end{array}$	$\begin{array}{r} 9 \\ - 1 \\ \hline \end{array}$	$\begin{array}{r} 9 \\ - 2 \\ \hline \end{array}$
<input type="text"/>	<input type="text"/>	<input type="text"/>	<input type="text"/>	<input type="text"/>	<input type="text"/>	<input type="text"/>





12 Rodea a los deportistas que tienen el balón a su derecha.



13 Calcula mentalmente.

$18 - 7 =$	
$-$	$-$
$16 - 5 =$	
$=$	$=$

$14 - 5 =$	
$-$	$-$
$8 - 2 =$	
$=$	$=$


14 Calcula.

19	28	25	8	35	9	17
$- 15$	$- 21$	$- 10$	$- 0$	$- 23$	$- 8$	$- 16$
<input type="text"/>	<input type="text"/>	<input type="text"/>	<input type="text"/>	<input type="text"/>	<input type="text"/>	<input type="text"/>
42	37	9	29	49	33	36
$- 11$	$- 27$	$- 9$	$- 22$	$- 38$	$- 13$	$- 24$
<input type="text"/>	<input type="text"/>	<input type="text"/>	<input type="text"/>	<input type="text"/>	<input type="text"/>	<input type="text"/>

- 15 Calcula el número de páginas del libro de la derecha si tiene 13 páginas más que el de la izquierda.

Datos

Cálculo



El libro de la derecha tiene páginas.

- 16 Calcula.

48	57	65
$- 26$	$- 34$	$- 53$
<hr/>	<hr/>	<hr/>
<input type="text"/>	<input type="text"/>	<input type="text"/>
46	55	63
$- 20$	$- 5$	$- 40$
<hr/>	<hr/>	<hr/>
<input type="text"/>	<input type="text"/>	<input type="text"/>
51	64	59
$- 31$	$- 50$	$- 18$
<hr/>	<hr/>	<hr/>
<input type="text"/>	<input type="text"/>	<input type="text"/>
74	47	58
$- 41$	$- 30$	$- 45$
<hr/>	<hr/>	<hr/>
<input type="text"/>	<input type="text"/>	<input type="text"/>

- 17 Rodea la respuesta correcta.

