


Nombre _____ Fecha _____

1 Completa las preguntas con signos de interrogación. Por qué corre Yamil Dónde estaba Cómo se ha caído la Luna Quién ha resuelto el problema **2 Separa las palabras y escribe las exclamaciones.**

Qué bonita es la nieve

Esto es muy divertido

3 Copia cada pregunta con su respuesta.

¿Qué animal te gustaría tener?

¿Cuándo será la fiesta?

La fiesta es el próximo lunes 19.

Me gustan los gatos de color blanco.

4 Escribe una exclamación para decir que te diviertes mucho.

Nombre _____ Fecha _____

1 Completa con verbos en presente.

tiene actúan celebra

Los payasos _____ esta tarde.

El nuevo vecino _____ su cumpleaños.

El barrio _____ casas muy altas.

2 ¿Qué hace Laura? Escribe verbos en presente.





3 ¿Qué hacen? Explica con verbos en presente.

Carmen _____

_____.

Pablo _____

_____.

4 ¿Qué haces tú? Completa.

Yo ahora mismo _____.

Yo todos los días _____.

Nombre _____ Fecha _____

1 Repasa y copia.

bombilla



lámpara



lombriz

2 Completa las palabras con *mp* o *mb* y copia.

ca _____ o

ca _____ ana

va _____ ivo


ala _____ re

tro _____ eta

so _____ ra

3 Copia.Amparo compró una  .

Humberto pidió  .

Ambrosio lleva una  .

Nombre _____ Fecha _____

1 Repasa y copia los verbos en pasado.

La cigarra *tocó* el violín durante el invierno.

El ratón *no quiso* visitar a la cigarra.

El topo y la cigarra *quisaron* comidas ricas.

2 ¿Qué hizo ayer Juan? Escribe verbos en pasado.





3 Escribe qué hizo ayer Lina.

Debes elegir dos actividades que te gusten.

nadar en el mar

montar en bicicleta

tomar un helado


pasear por el campo



Ayer Lina _____

y _____

3 Imagina que tienes treinta años. Dibújate y completa.



Me llamo _____.


Tengo _____ años. Vivo en
_____.

Trabajo en _____
_____.

Me gusta _____
_____.

4 Inventa y escribe sobre este pianista.

Me llamo _____



3 Lee y completa.

Un racimo de

Una lata de

Un tarro de

Una bolsa de

_____ uvas.

_____ patatas.

_____ miel.

_____ sardinas.

4 ¿Qué tienes que llevar mañana al colegio? Haz una lista.

PARA EL COLE

5 Haz una lista con lo que necesites para una fiesta de cumpleaños.



4 ¿Cómo es Rosa?



Miguel Rosa Álex

más alta

más baja

Rosa es _____
que _____ y _____
_____ que _____.

5 Compara a tres amigos tuyos usando las siguientes expresiones.

más ágil

menos fuerte

más travieso

Mi amigo _____ es _____
que _____

_____.

6 Dibuja y describe a quien quieras.



Nombre _____ Fecha _____

1 Cuenta y completa.

¿Cuántos pétalos tienen en total?

Suma ► + =

Multiplicación ► × =

Tienen pétalos.




¿Cuántos globos hay en total?

Suma ► + + =

Multiplicación ► × =

Hay globos.

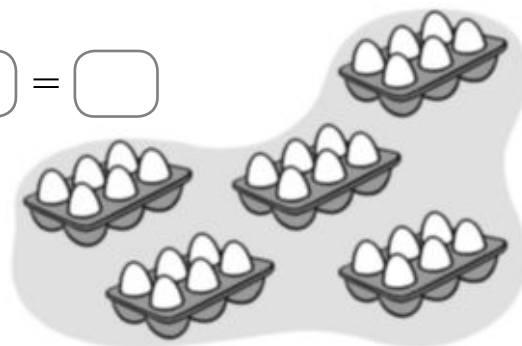


¿Cuántos huevos hay en total?

Suma ► + + + + =

Multiplicación ► × =

Hay huevos.



2 Completa.

$6 \times 4 = \square$

$6 \times 6 = \square$

$6 \times 0 = \square$

$6 \times 10 = \square$

$6 \times 8 = \square$

$6 \times 9 = \square$

$6 \times 1 = \square$

$6 \times 7 = \square$

Nombre _____ Fecha _____

1 ¿Cuánto dinero ha gastado cada niño? Completa.



Victor ha gastado _____



Alba ha gastado _____

2 ¿Cuántos céntimos faltan para tener 1 euro? Calcula.

1 euro = 100 céntimos



100	
○	
—	

Faltan _____



100	
○	
—	

Faltan _____

Nombre _____ Fecha _____

1 Lee detenidamente y completa.

Catalina tiene 47 cromos de mariposas y 24 de peces. Le regala a su hermano 33 cromos. ¿Cuántos cromos le quedan?



Sumamos para calcular cuántos cromos tiene en total.

Después, restamos para calcular cuántos cromos le quedan.

	○	□	□
	□	□	□
	□	□	□
	□	□	□
	□	□	□
	□	□	□
	□	□	□
	□	□	□
	□	□	□


José tiene 54 sellos y se encuentra 18 sellos más. Después, pierde 25 sellos. ¿Cuántos sellos tiene ahora José?

	○	□	□
	□	□	□
	□	□	□
	□	□	□




Roberto ha comprado unos patines por 65 € y un casco por 47 €. Ha pagado con 120 €. ¿Cuánto dinero le ha sobrado?

	○	□	□
	□	□	□
	□	□	□
	□	□	□



Nombre _____ Fecha _____

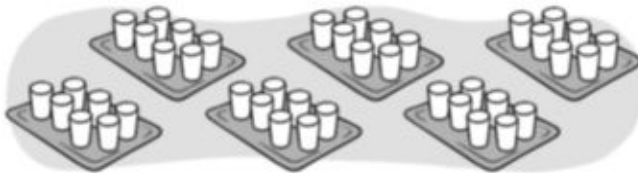
1 ¿Cuántos vasos hay en total? Completa.



Hay bandejas
con vasos cada una.

$$\square + \square + \square + \square = \square \blacktriangleright \square \times \square = \square$$

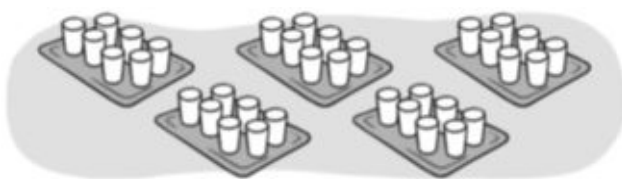
Hay vasos en total.



Hay bandejas
con vasos cada una.

$$\square + \square + \square + \square + \square + \square = \square \blacktriangleright \square \times \square = \square$$

Hay vasos en total.



Hay bandejas
con vasos cada una.

$$\square + \square + \square + \square + \square = \square \blacktriangleright \square \times \square = \square$$

Hay vasos en total.

2 Completa.

$7 \times 2 = \square$

$7 \times 3 = \square$

$7 \times 0 = \square$

$7 \times 10 = \square$

$7 \times 8 = \square$


$7 \times 9 = \square$

$7 \times 1 = \square$

$7 \times 7 = \square$

Nombre _____ Fecha _____


1 ¿Cuántas pelotas hay en total? Completa.



Hay bolsas
con pelotas cada una.

+ + + = ► × =


En total hay pelotas.



Hay bolsas
con pelotas cada una.

+ + + + = ► × =

En total hay pelotas.



Hay bolsas
con pelotas cada una.

+ = ► × =

En total hay pelotas.

2 Completa.

$8 \times 3 =$

$8 \times 6 =$

$8 \times 0 =$

$8 \times 10 =$

$8 \times 8 =$


$8 \times 9 =$

$8 \times 1 =$

$8 \times 7 =$

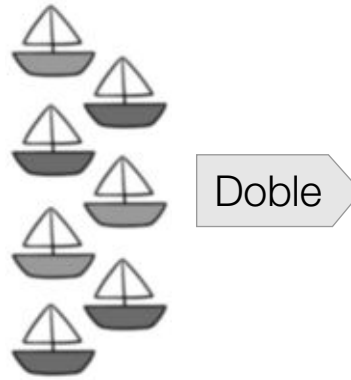
Nombre _____ Fecha _____

1 Dibuja y completa.



$$\square \times \square = \square$$


El doble de 4 es .



$$\square \times \square = \square$$

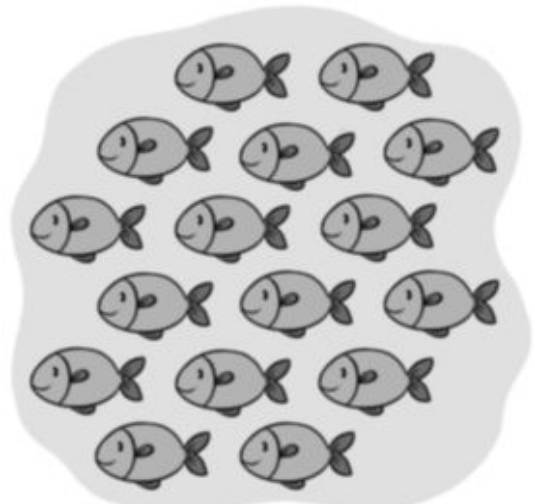
El doble de es .

2 Rodea formando dos grupos iguales en cada dibujo y completa.



$$\square : \square = \square$$

La mitad de 12 es .




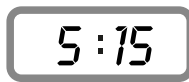
$$\square : \square = \square$$


La mitad de es .

Nombre _____ Fecha _____

1 Escribe qué hora marca cada reloj.



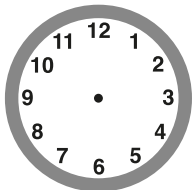







2 Representa cada hora en los dos relojes.

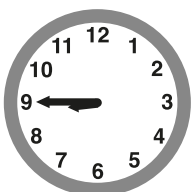
Las 7 menos cuarto



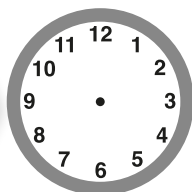
Las 8 y cuarto



3 ¿Qué hora será? Completa cada reloj.



2 horas después



3 horas antes

5:15

4 Escribe a qué hora terminó la clase de dibujo.

Clase de dibujo ▶ Empezó a las 3 menos cuarto y duró media hora.

Clase de fotografía ▶ Empezó a las 6 y cuarto y duró 1 hora y media.
