

Venres 29 de maio do 2020

Matemáticas

- Continuamos repasando. Al final del documento encontraréis las actividades.

Lingua Galega

- Hoxe toca repaso da unidade 10. Xa sabedes que os que non tedes impresora podeades facer as actividades na libreta de pauta.

Nome _____ Data _____

1 **Risca as palabras que non sexan un verbo.**

vestido chorar ver taller tusir canle correr pedra

2 **Que fan? Elixe e completa as oracións cos verbos correspondentes.**

come

xogan

• Os rapaces _____ ao fútbol.



• A rapaza _____ un bocadillo.



3 **Subliña a opción correcta.**

- As cousas que pasan AGORA escíbense en presente.
- As cousas que pasaron ANTES escíbense en presente.

4 **Arrodea o verbo en presente e marca a imaxe que corresponde.**

- Onte, Pedro preparou espaguetes.
- Hoxe, Pedro pasea en bici.
- Mañá, Pedro escribirá un conto.



5 **Elixe e completa cos verbos que están en presente.**

debuxa

debuxará

pintou

pinta

Neves _____ e Xosé _____.







6 Que letras representan estes símbolos: s ou x? Completa.

peí♣e • man♣ión • aga♣allo • quei♣o • ♣oño • ♣oves • con♣ello

♣ representa o

♣ representa o

7 Completa os ocios con s ou con x.



iraol

cereia

espona

ano

paaro

8 Completa con estas palabras.

material

Reciclar

é volver utilizar un que xa foi usado.

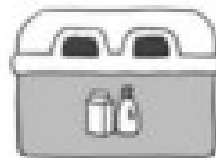


9 De que cor son os colectores? Escribe.

papel

envases

vidro



10 Por que é importante reciclar? Marca a opción correcta.

Porque así gastamos menos enerxía ca se fabricásemos materiais novos.

Porque cómpre utilizar os diferentes colectores que hai na rúa.

Ciencias da Natureza

Xa rematamos o libro de Ciencias da Natureza, pero aínda quedaron algunhas cousas sen facer. Deixámolas para o final porque son contidos novos. Podedes ler as páxinas que aparecen a continuación e intentar facer os exercicios. Como son cousas novas, deixámolas de forma voluntaria, para quen estea interesado.


- Lectura da páxina 80.

- Facer os exercicios 1 e 2 da páxina 81.

Pódese completar a explicación co seguinte vídeo: <https://www.youtube.com/watch?v=bv89Bs187aU> (Fuerza y movimiento: Elesapiens).


Números del 200 al 399

1 Completa y relaciona.




$$\square \text{ C} + \square \text{ D} + \square \text{ U}$$

$$\square + \square + \square = \square$$




$$\square \text{ C} + \square \text{ D}$$

$$\square + \square = \square$$



$$\square \text{ C} + \square \text{ D}$$

$$\square + \square = \square$$



$$\square \text{ C} + \square \text{ U}$$

$$\square + \square = \square$$

2 Colorea igual las cartelas que expresan un mismo número.

$$2 \text{ C} + 1 \text{ D} + 9 \text{ U}$$

350

Doscientos noventa y uno

305

$$3 \text{ C} + 5 \text{ U}$$

Doscientos diecinueve

291

Trescientos cincuenta

$$3 \text{ C} + 5 \text{ D}$$

Trescientos cinco

219

$$2 \text{ C} + 9 \text{ D} + 1 \text{ U}$$

3 Escribe cada número.

Doscientos tres ▶

Trescientos ochenta y uno ▶

Doscientos catorce ▶

Trescientos noventa ▶


279 ▶

345 ▶

260 ▶

307 ▶

4 Completa el número anterior y el posterior.



5 Piensa y completa.

