

Refuerzo

Matemáticas

- Números hasta del 80 al 99.
- Ordinales.
- Pares e impares.
- Tabla decenas y unidades

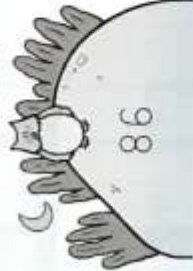
Nombre _____ Fecha _____

1 Completa y escribe cómo se lee cada número.



$80 + \square = \square$

decenas y unidades



$\square + \square = \square$

decenas y unidades



$\square + \square = \square$

decenas y unidades



$\square + \square = \square$

decenas y unidades


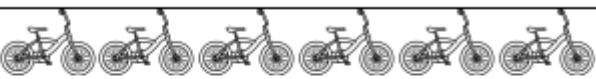

Nombre _____ Fecha _____

1 ¿Qué puesto ocupa cada caracol? Observa la carrera y escribe el ordinal que corresponda.

Ahora escribe con letra qué puesto ocupan estos caracoles.



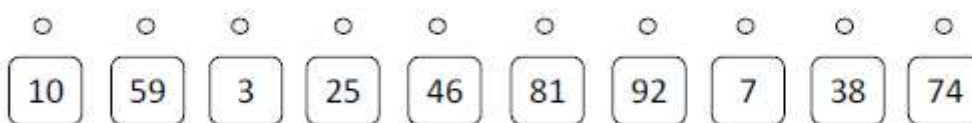
2.- Rodea los objetos de dos en dos para ver si son pares o impares:

	par	impar
		
		
		

Números pares (0, 2, 4, 6, 8) y Números impares (1, 3, 5, 7, 9)



3.- Lleva cada número a su casa:



4.- Pinta de verde los dados pares y de rojo los impares:



