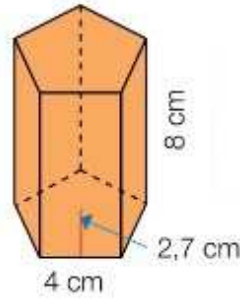
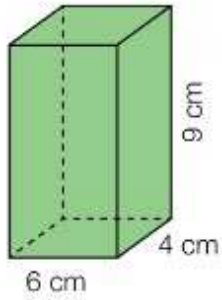
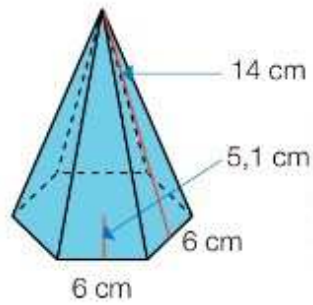
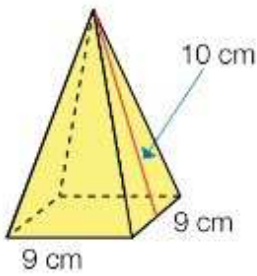


## Áreas de prismas, pirámides y cuerpos redondos

1 Calcula el área de cada prisma.



2 Calcula el área de cada pirámide.



3 Piensa y calcula el área.

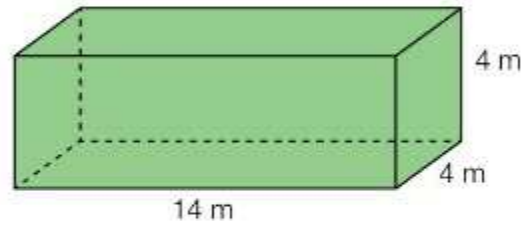
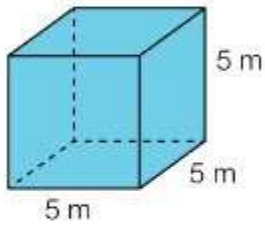
- De un cilindro de radio 9 cm y altura 15 cm.

- De un cono de radio 8 cm y generatriz 15 cm

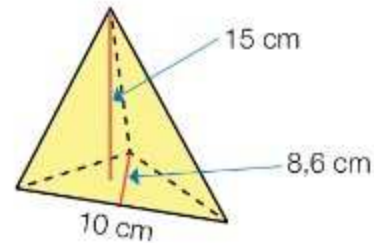
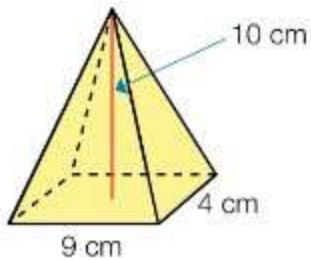
- De una esfera de radio 12 cm.

## Volúmenes de prismas, pirámides y cuerpos redondos

1 Calcula el volumen de cada prisma.



2 Calcula el volumen de cada pirámide.



3 Calcula el volumen de cada cuerpo redondo.

