


ALUMNOS DE LA ESCUELA FRESCA

(CLASIFICACIÓN DE LOS POLIGONOS SEGÚN SUS LADOS)

Cuenta en cada polígono el número de lados y en las claves encontrarás el nombre de cada polígono y el nombre de cada alumno pecezuelo, luego colorea.



Nombre: _____



Tiene lados.

se llama:



Nombre: _____

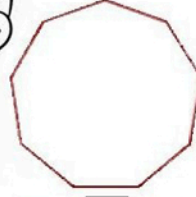


Tiene lados.

se llama:




Nombre: _____

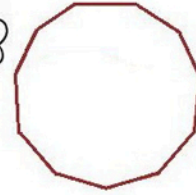


Tiene lados.

se llama:




Nombre: _____

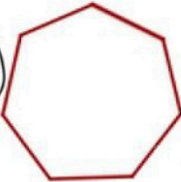


Tiene lados.

se llama:




Nombre: _____




Tiene lados.

se llama:



Nombre: _____



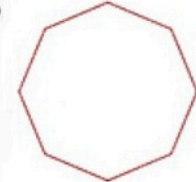
Tiene lados.

se llama:

REYNALDO CARTOLIN R.




Nombre: _____




Tiene lados.

se llama:



Nombre: _____

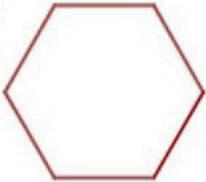


Tiene lados.

se llama:



Nombre: _____

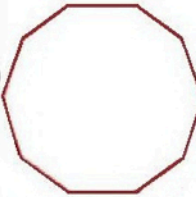


Tiene lados.

se llama:



Nombre: _____



Tiene lados.

se llama:



Nombre: _____



Tiene lados.

se llama:



Nombre: _____



Tiene lados.

se llama:

CLAVES

- 3 lados: triángulo
 - 4 lados: cuadrilátero
 - 5 lados: pentágono
 - 6 lados: hexágono
 - 7 lados: heptágono
 - 8 lados: octágono
 - 9 lados: eneágono
 - 10 lados: decágono
 - 11 lados: endecágono
 - 12 lados: dodecágono
 - 13 lados: tridecágono
 - 14 lados: tetradecágono
- 3 lados: triángulo Hugh Edmondson
 4 lados: cuadrilátero Oscar
 5 lados: pentágono Bo Gregory
 6 lados: hexágono Ostrencia
 7 lados: heptágono Pulpleito
 8 lados: octágono Bea
 9 lados: eneágono Albert
 10 lados: decágono Aletina
 11 lados: endecágono Almejandra
 12 lados: dodecágono Steve Jackson
 13 lados: tridecágono Milo
 14 lados: tetradecágono Piráñica