

1 Une mediante frechas os seguintes corpos celestes coa súa definición correspondente:

- | | |
|---------------|--|
| 1. Asteroides | a) Corpos que xiran ao redor dun planeta. |
| 2. Satélites | b) Corpos rochosos que xiran ao redor dunha estrela. |
| 3. Cometas | c) Asteroides que chocan con planetas ou satélites. |
| 4. Meteoritos | d) Bólas de po e xeo. |

2 Clasifica os seguintes elementos da Vía Láctea no seu lugar correspondente:

Mercurio - Xúpiter - Venus - Saturno - Terra - Urano - Marte -
Neptuno - Plutón - Ceres - Iris - Halley - Hale Boop

PLANETAS	PLANETAS ANANOS	COMETAS	SATÉLITES	ASTEROIDES

3 Une con frechas segundo corresponda:

Rotación movemento arredor do Sol dura 24 horas As estacións

Translación movemento sobre si mesma 365 días e 6 horas Días e noites

4 Completa as seguintes frases sobre as estacións no hemisferio norte utilizando a estación do ano correcta:

- a) Entre o vinte e tres de setembro e o vinte e un de decembro, os raios do Sol son oblicuos, as temperaturas son suaves, é
- b) Entre o vinte e un de decembro e o vinte de marzo, os raios chegan moi oblicuos, as temperaturas son baixas, e as noites máis longas que os días, é
- c) Entre o vinte de marzo e o vinte e un de xuño, os raios chegan un pouco oblicuos, as temperaturas son suaves e a duración do día e a noite igúalanse, é
- d) Entre o vinte e un de xuño e o vinte e tres de setembro, os raios do Sol chegan perpendiculares, as temperaturas son altas e os días son máis longos, é

5 Que é a Lúa? Que é a Terra? Que relación existe entre elas?

.....

.....

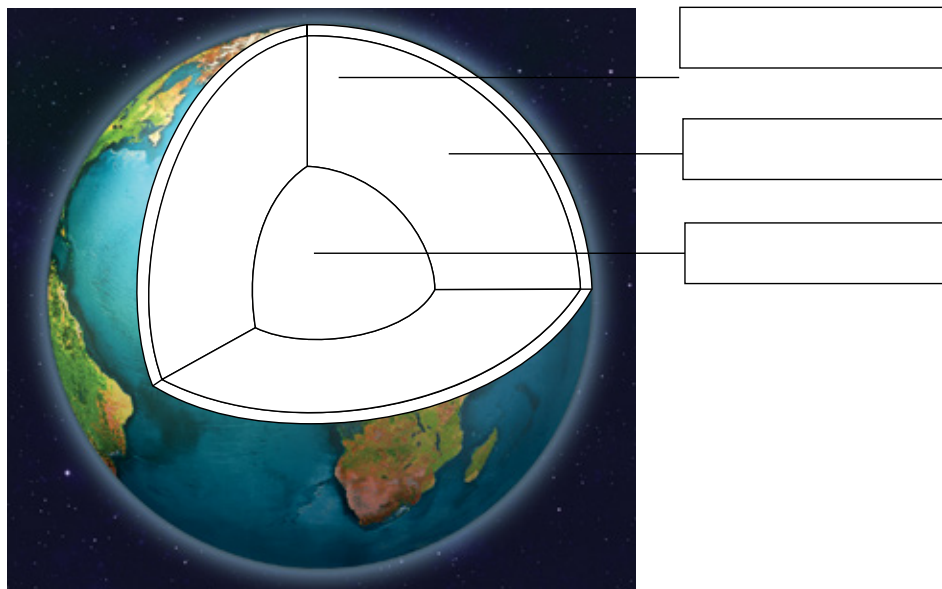
.....

.....

.....

.....

6 Observa o debuxo da Terra e pon o nome das diferentes capas da xeosfera.



7 Define os seguintes fenómenos meteorolóxicos:

a) Ventos:

.....

b) Nubes:

.....

c) Precipitacións:

.....

d) Tormentas:

.....

8 Completa utilizando as seguintes palabras:

toponimia - símbolos ou signos convencionais - escala - lenda - marcas de orientación

- a) Liñas que permiten situar o plano respecto ao ámbito que representa:
- b) Debuxos, números, textos e cores que se empregan nos planos para representar a realidade:
- c) Zona do plano na que se explica o significado dos símbolos ou signos convencionais:
- d) Informa de cantas veces se reduciu a realidade no plano:
- e) Conxunto de nomes de lugares, rúas... que aparecen no plano:

9 Rodea no plano con lapis de cores os seguintes elementos:

ELEMENTOS DUN PLANO

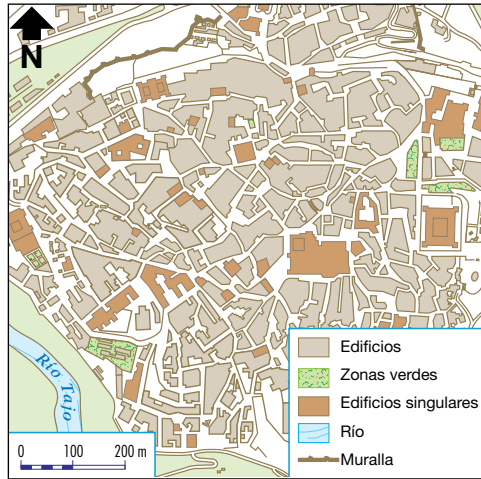
- a) Marcas de orientación (en vermello).
- b) Algún símbolo ou signo convencionais (en azul).
- c) Lenda (en verde).
- d) Escala (en amarelo).
- e) Toponimia (en laranxa).



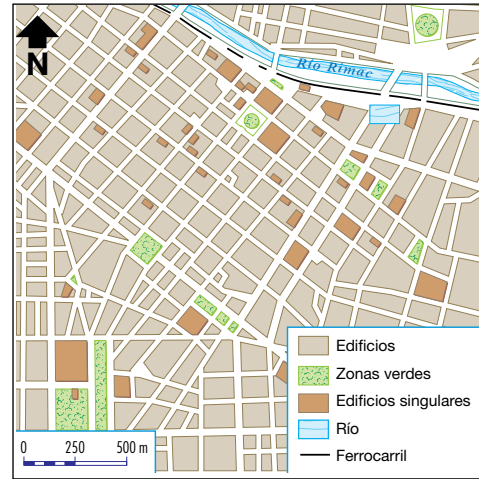
10 Relaciona segundo corresponda:

- | | |
|---------------------------|--|
| 1. Plano ortogonal | a. Utilizado para representar localidades de forma alongada asociadas a unha vía de comunicación ou estrada. |
| 2. Plano lineal | b. Serven para representar localidades que carecen dunha forma definida. |
| 3. Plano radioconcéntrico | c. Empregados para localidades onde o trazado das rúas se realizou en ángulo recto. |
| 4. Plano irregular | d. Empregados para localidades que contan con avenidas circulares e rúas ou avenidas radioconcéntricas. |

11 Señala a que tipo de plano corresponden as seguintes imaxes:



a



b

.....

.....

12 Observa o plano e responde:



a) De que tipo de plano se trata?

.....

b) Fíxate na lenda do plano. A que fan referencia os diferentes símbolos?

.....

.....

.....

c) Escribe a escala do plano e indica de que tipo se trata.

.....

13 Utilizando os seguintes grupos de palabras, forma unha oración con cada un deles:

a) territorio extenso - visto desde arriba - representación xeográfica - mapa - escala - terra.

b) plano - representación xeográfica - visto desde arriba - tamaño reducido - lugar

a)

.....

b)

.....

14 Le as seguintes definicións e indica se se trata dun plano ou dun mapa.

- a) Representación xeográfica que indica ou marca situacións dunha localidade, un lugar dela, un edificio, unha casa, unha sala ou un obxecto a tamaño reducido tal e como se vería desde arriba:
- b) Representación dun territorio extenso da superficie da terra ou mesmo de toda a superficie terrestre, vista desde arriba ou realizado a escala. Proporciónanos información xeográfica dun territorio e do que podemos encontrar nel:

15 Completa a táboa sobre os tipos de planos e mapas, utilizando para iso as seguintes palabras.

Temático - Lineal - Radioconcéntrico - Físico - Irregular - Ortogonal - Político

TIPOS DE PLANOS	TIPOS DE MAPAS

16 Fíxate nas seguintes imaxes e sinala a que tipo de mapa corresponde cada unha. Razona a túa resposta.



a)

.....

.....



b)

.....

.....



c)

.....

.....