


ESCRIBE OS NÚMEROS DO 1-10





ESCRIBE OS NÚMEROS DO 11-20



Anterior y Posterior





ESCRIBE EL NÚMERO ANTERIOR Y POSTERIOR EN EL CÍRCULO



ORDENAMOS NÚMEROS

ORDENA DE MAYOR A MENOR LOS SIGUIENTES NÚMEROS



DESCUBRE EL NÚMERO

¿QUÉ NÚMERO ES CADA DINOSAURIO?

1	2	3		5	6	7	8	9	10
11	12	13	14	15	16	17	18		20
21	22	23	24	25		27	28	29	30



