

Estimadas familias,

Aquí de nuevo, con muchas ganas de ver el final de todo esto, y esperando a la vez que todos lo llevéis lo mejor posible, aquí os mando algunas tareas de los temas del 1º y 2º trimestre, y que si alguna pregunta no sabéis, tampoco pasa nada.

Ánimo

Saludos Paco

UNIDAD 1
Conocimiento del Medio

AR

Nombre y apellidos:
Curso: Fecha:

1 Completa estas frases:

- a) El tiempo es el estado de la atmósfera en un
 dado.
- b) El de una zona es el conjunto de condiciones
 a lo largo de un

2 ¿Qué es una estación meteorológica? ¿Qué instrumentos suele haber en ella?


.....
.....

3 Completa la información que aparece en esta tabla de los climas de España.

Tipo de clima	Características
Subtropical	
Mediterráneo	
Continental	Típico de zonas costeras del Atlántico. Precipitaciones abundantes durante todo el año. Temperaturas suaves incluso en invierno.
	Típico de regiones elevadas. Temperaturas muy frías en invierno y suaves o frescas en verano. Abundantes precipitaciones, a menudo en forma de nieve.

4 Si en Buenos Aires (Argentina) es verano, ¿en qué estación estarán en París (Francia)? ¿Por qué?

.....
.....



UNIDAD 2
Conocimiento del Medio

AR

Nombre y apellidos:
Curso: Fecha:

1 Completa esta tabla en la que aparecen formas del relieve.

Elemento	Es...
Muela	
Cabo	Entrante muy pequeño del mar en la tierra.
Llanura	Conjunto de montañas alineadas.
Acantilado	Grupo de montañas no alineadas.
	Valle estrecho y con paredes muy verticales.

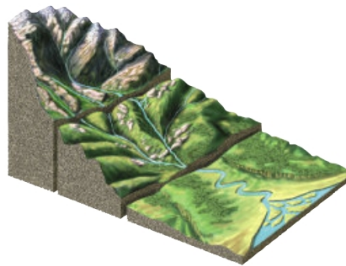
2 Escribe en el dibujo los nombres de los tramos de un río.

a) ¿En qué tramo bajan más rápidas las aguas de un río?

.....

b) Nombra masas de hielo y di en qué lugares de la superficie de la corteza terrestre se encuentran.

.....
.....




3 Escribe en el dibujo los nombres de los puntos cardinales.

a) ¿Cómo se llama la estrella que señala el Norte en nuestro hemisferio?


.....

b) ¿Qué es un brújula?

.....
.....



© GRUPO ANAYA, S.A. Conocimiento del Medio 4.º Educación Primaria. Material fotocopiable autorizado.



UNIDAD 3 Conocimiento del Medio	AR
Nombre y apellidos:	
Curso:	Fecha:

1 Completa esta tabla.

Tipo de roca	Características
	Roca muy dura. Está formada por tres minerales: cuarzo, feldespato y mica.
Pizarra	
	Colores blanco, grisáceo o crema. El mineral que la forma se llama calcita. Puede contener fósiles.
Basalto	

2 Escribe los nombres de los agentes atmosféricos que producen cambios en las rocas.

3 Clasifica estos cambios en el paisaje según sean lentos o rápidos.

- La formación de un valle por un río.
- Los surcos excavados en una ladera por las aguas de una tormenta muy fuerte.
- Los cambios que se producen en la ladera de un volcán cuando expulsa lava.
- La formación de una playa.

Son cambios lentos	Son cambios rápidos

4 Indica dónde se forman los basaltos.

.....

5 Describe cómo se obtiene el vidrio.

.....

.....



UNIDAD 8
Conocimiento del Medio

AR

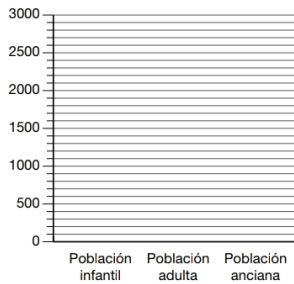
Nombre y apellidos:
Curso: Fecha:

1 Explica esta frase: «Los inmigrantes de esta localidad son emigrantes en otras localidades».

.....

2 Confecciona un gráfico de barras con estos datos de una localidad.

Población infantil: 1 500
Población adulta: 2 950
Población anciana: 2 100




- a) ¿Cuántos habitantes tiene la localidad a la que se refieren los datos?
- b) ¿Cuál es la diferencia entre la población infantil y la anciana?

3 Una persona de cuarenta y ocho años trabaja en una fábrica de televisores haciendo soldaduras de circuitos eléctricos. Todos los meses le pagan un sueldo.

- a) ¿A qué grupo de la población pertenece por su edad?
.....
- b) Por su trabajo, ¿a qué grupo de la población pertenece?
.....
- c) ¿A qué sector de producción pertenece la actividad que desempeña?
.....
- d) ¿Es un trabajo remunerado? ¿Por qué?

© GRUPO ANAYA, S.A. Conocimiento del Medio 4.º Educación Primaria. Material fotocopiable autorizado.



UNIDAD 9	AR
Conocimiento del Medio	
Nombre y apellidos:	
Curso: Fecha:	

1 Completa esta tabla.

Concepto	Es...
	El lugar en el que vivimos.
	El conjunto de las personas que están gobernadas por un mismo ayuntamiento.
Término municipal	
	El conjunto de las personas que viven en el mismo municipio.
Ayuntamiento	

2 ¿Cómo se elige al alcalde o a la alcaldesa?

.....

3 Adivina, adivinanza..., ¿de qué comunidades se habla? Consulta tu libro y completa la tabla.

Es la que más al noroeste está.	
Son dos ciudades y están en África.	
Limita con Portugal y, al sur, con Andalucía.	
Limita con Cantabria, La Rioja y Navarra.	
Su capital está en Sevilla.	
Es la comunidad uniprovincial que más al sur está.	
Una de sus provincias es Ciudad Real.	
Limita con Francia y sus costas dan al Mediterráneo.	
Una de sus provincias es Castellón.	
Es la más céntrica de la península.	
Su capital es Logroño.	
La sede de su gobierno está en Pamplona.	
Es la que más provincias tiene.	

4 ¿Qué quiere decir que la Unión Europea promueve la igualdad económica entre los países miembros?

.....

