

Nombre \_\_\_\_\_ Fecha \_\_\_\_\_

• **Resuelve.**

$\begin{array}{r} 7050 \\ - 899 \\ \hline \end{array}$	$\begin{array}{r} 4295 \\ 3102 \\ + 1879 \\ \hline \end{array}$	$\begin{array}{r} 2956 \\ 3971 \\ + 1239 \\ \hline \end{array}$	$\begin{array}{r} 6227 \\ - 582 \\ \hline \end{array}$
$\begin{array}{r} 7321 \\ 970 \\ + 403 \\ \hline \end{array}$	$\begin{array}{r} 5324 \\ - 3421 \\ \hline \end{array}$	$\begin{array}{r} 2153 \\ 515 \\ + 109 \\ \hline \end{array}$	$\begin{array}{r} 6323 \\ - 346 \\ \hline \end{array}$

• **Coloca y suma.**

$7.960 + 367 + 28$	$495 + 1.672 + 54$	$5.598 + 627 + 3$

• **Coloca y resta.**

$77.549 - 14.504$	$40.917 - 17.963$	$33.740 - 29.962$

• **Calcula.**



Nombre \_\_\_\_\_ Fecha \_\_\_\_\_

La tía de Amparo tiene un álbum con 34 fotos. La semana pasada colocó 15 fotos más y hoy ha colocado otras 17.  
¿Cuántas fotos tiene en el álbum?

**1. Comprende.**


Pregunta: \_\_\_\_\_

\_\_\_\_\_

Datos: \_\_\_\_\_

\_\_\_\_\_

**3. Calcula.**



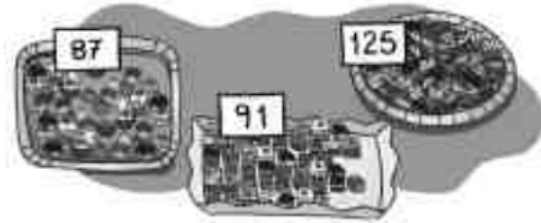
**2. Piensa qué hay que hacer.**

- una suma.
- una multiplicación.
- una suma y una multiplicación.

Respuesta:

\_\_\_\_\_

En la pastelería *La palmera* hoy han hecho estas 3 bandejas de pasteles.  
¿Cuántos pasteles han hecho en total?



**1. Comprende.**


Pregunta: \_\_\_\_\_

\_\_\_\_\_

Datos: \_\_\_\_\_

\_\_\_\_\_

**3. Calcula.**



**2. Piensa qué hay que hacer.**

- una resta.
- una multiplicación.
- una suma.

Respuesta:

\_\_\_\_\_

Nombre \_\_\_\_\_ Fecha \_\_\_\_\_

• **Multiplica.**

$$\begin{array}{r} 222 \\ \times 3 \\ \hline \end{array}$$

$$\begin{array}{r} 323 \\ \times 3 \\ \hline \end{array}$$

$$\begin{array}{r} 120 \\ \times 2 \\ \hline \end{array}$$

$$\begin{array}{r} 421 \\ \times 3 \\ \hline \end{array}$$

$$\begin{array}{r} 143 \\ \times 2 \\ \hline \end{array}$$

$$\begin{array}{r} 302 \\ \times 3 \\ \hline \end{array}$$

$$\begin{array}{r} 210 \\ \times 4 \\ \hline \end{array}$$

$$\begin{array}{r} 112 \\ \times 4 \\ \hline \end{array}$$

• **Multiplica.**

$$\begin{array}{r} 1243 \\ \times 2 \\ \hline \end{array}$$

$$\begin{array}{r} 2312 \\ \times 3 \\ \hline \end{array}$$

$$\begin{array}{r} 2020 \\ \times 4 \\ \hline \end{array}$$

$$\begin{array}{r} 2130 \\ \times 3 \\ \hline \end{array}$$

$$\begin{array}{r} 3210 \\ \times 3 \\ \hline \end{array}$$

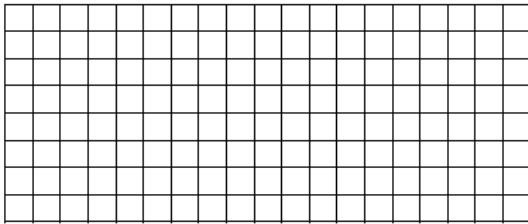
$$\begin{array}{r} 1201 \\ \times 4 \\ \hline \end{array}$$

$$\begin{array}{r} 3421 \\ \times 2 \\ \hline \end{array}$$

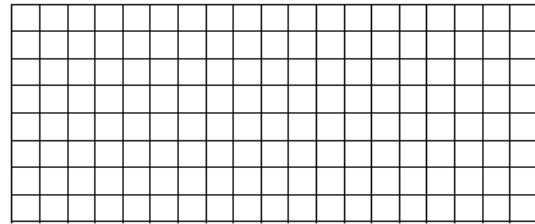
$$\begin{array}{r} 1232 \\ \times 3 \\ \hline \end{array}$$

• **Coloca y multiplica.**

$$432 \times 3$$



$$3.203 \times 3$$


• **Multiplica el número mayor por el número menor en cada caso.**

141

2.102

12

3



25

4.203

2

3.200

