

Xoves 26/03/2020

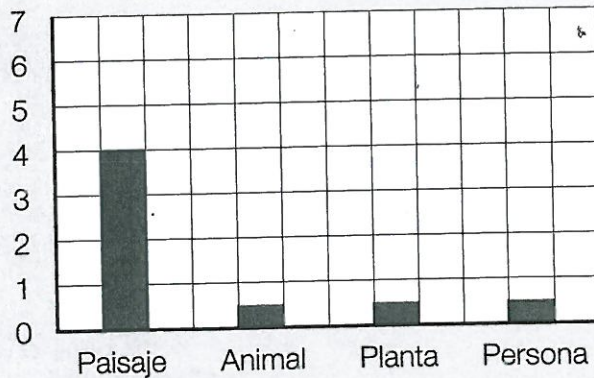
1ª sesión	<b>Matemáticas</b>	<i>Representación de datos en gráficos de barras</i>
2ª sesión	<b>Lengua</b>	<i>Ejercicios sobre las lenguas de España</i>
3ª sesión	<b>Lingua</b>	Saber facer: A carta dun restaurante (2ª parte)
4ª sesión		
5ª sesión		

## Representación de datos en gráficos de barras

Roberto quiere representar en el gráfico las fotos de cada tipo que ha hecho en la excursión al río.

Completa el gráfico y contesta.

Paisaje ▶	4
Animal ▶	5
Planta ▶	3
Persona ▶	6



• ¿De qué ha hecho más fotos?

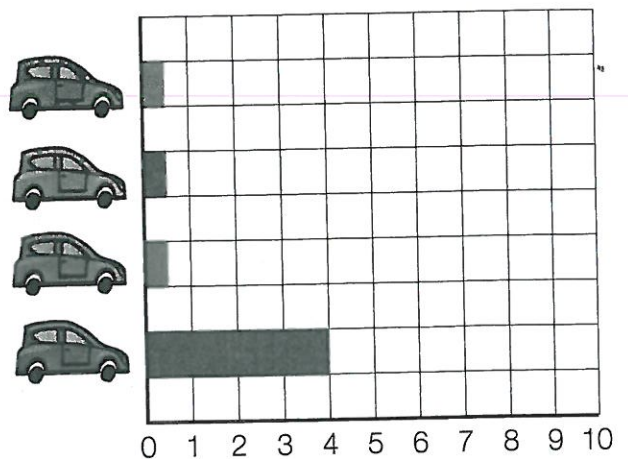
¿Y menos fotos?

### 1 Representa los datos de la tabla en el gráfico de barras.

Raquel ha anotado en la tabla el número de coches de cada color que hay en un aparcamiento.



Color	Número de coches
Verde	4
Rojo	7
Azul	6
Gris	9



17. Colorea cada frase del color de su lengua:

*Verde*  
catalán

*Azul*  
castellano

*Amarillo*  
gallego

euskera

Buenos días

Bos días

Bon dia

Egun on

Boas noites

Bona nit

Gabon

Buenas noches

¡No te olvides de pasar por el Gimnasio para practicar algunos ejercicios!



Cuaderno

- Fíjate en estos niños y niñas y en las lenguas que hablan. Investiga y completa las oraciones:

Bilbao

Tarragona

Salamanca

A Coruña



Aintxane naiz.

Aintxane es de...



Soc en Joan.

Joan es de...



Soy Alberto.

Alberto es de...



Son Sabela.

Sabela es de...

4 En cales destas seccións ou grupos incluírías os seguintes pratos?  
Escribe a letra que corresponda.

E. Entrantes

C. Carnes

P. Peixes

S. Sobremesas

biscoito de tres chocolates

croquetas de bacallau

costela asada con cogomelos

xoubas fritidas con patacas

ensalada primavera

peixe sapo en salsa de vieira

torta de limón

albóndegas de vitela

5 Inventa o nome dun restaurante e deseña a súa carta.


Divídeala nas catro seccións do exercicio 4 e escribe dous pratos en cada unha.



RESTAURANTE \_\_\_\_\_

*Menú*

ENTRANTES




\_\_\_\_\_

\_\_\_\_\_

\_\_\_\_\_

\_\_\_\_\_

\_\_\_\_\_



\_\_\_\_\_



\_\_\_\_\_

\_\_\_\_\_

\_\_\_\_\_

\_\_\_\_\_