

Miércoles, 13-mayo

Matemáticas - (1) Ejercicios. Pág. 22.

L. Castellana - (2) Actividades de refuerzo.
Pág. 7.

L. Galega - (3) Ejercicios. Pág. 14.

Nombre _____ Fecha _____

1 Ordena.


247	425
353	499

< < <

207	347
470	370

> > >

2 Representa un número mayor que el número representado y completa.

C	D	U
<input type="checkbox"/> <input type="checkbox"/>		<input type="checkbox"/>

C	D	U

<

>




3 Coloca los números y calcula.

$462 - 247$ <div style="margin-left: 40px;"> <input style="width: 60px; height: 25px; border: 1px solid black;" type="text"/> <input style="width: 60px; height: 25px; border: 1px solid black;" type="text"/> <hr style="width: 100%; border: 0.5px solid black;"/> <input style="width: 60px; height: 25px; border: 1px solid black;" type="text"/> </div>	$391 - 324$ <div style="margin-left: 40px;"> <input style="width: 60px; height: 25px; border: 1px solid black;" type="text"/> <input style="width: 60px; height: 25px; border: 1px solid black;" type="text"/> <hr style="width: 100%; border: 0.5px solid black;"/> <input style="width: 60px; height: 25px; border: 1px solid black;" type="text"/> </div>	$475 - 268$ <div style="margin-left: 40px;"> <input style="width: 60px; height: 25px; border: 1px solid black;" type="text"/> <input style="width: 60px; height: 25px; border: 1px solid black;" type="text"/> <hr style="width: 100%; border: 0.5px solid black;"/> <input style="width: 60px; height: 25px; border: 1px solid black;" type="text"/> </div>
$438 - 272$ <div style="margin-left: 40px;"> <input style="width: 60px; height: 25px; border: 1px solid black;" type="text"/> <input style="width: 60px; height: 25px; border: 1px solid black;" type="text"/> <hr style="width: 100%; border: 0.5px solid black;"/> <input style="width: 60px; height: 25px; border: 1px solid black;" type="text"/> </div>	$327 - 164$ <div style="margin-left: 40px;"> <input style="width: 60px; height: 25px; border: 1px solid black;" type="text"/> <input style="width: 60px; height: 25px; border: 1px solid black;" type="text"/> <hr style="width: 100%; border: 0.5px solid black;"/> <input style="width: 60px; height: 25px; border: 1px solid black;" type="text"/> </div>	$469 - 270$ <div style="margin-left: 40px;"> <input style="width: 60px; height: 25px; border: 1px solid black;" type="text"/> <input style="width: 60px; height: 25px; border: 1px solid black;" type="text"/> <hr style="width: 100%; border: 0.5px solid black;"/> <input style="width: 60px; height: 25px; border: 1px solid black;" type="text"/> </div>

Nombre: _____

Fecha: _____

1 Resuelve el crucigrama. Todas las palabras se escriben con «c» o «qu».



2 Completa con «c» o «qu».

mos a mante illa u urucho es eleto par e
 bar o es uela os illas irófano

3 Completa con «c» o «qu» y resuelve estas adivinanzas.

Se hace con leche de va a,
 de oveja y de abra,
 y sabe a beso.

¿é es eso?

La artera, ompañera,
 me a ompaña on fre uencia,
 voy de portal en portal
 llevando orrespondencia.


<http://www.adivinancero.com/>

Vivo dentro de ella
 y el ara ol también.
 Él la lleva a uestas
 y yo num a podré.



Nome:

Data:



1 Escribe onde corresponda o nome dalgúns dos animais que se ven na imaxe:



2 Observa a imaxe e risca o nome do animal que vive no río:

Dragón

Griño

Crocodilo

3 Une con frechas o masculino e o feminino dos seguintes nomes de animais.

porco

osa

oso

porca

raposa

mono

mona

raposo

4 Os animais do debuxo aparecen nun campo pero na vida real non viven todos aí. Rodea enriba os debuxos dos animais que poden vivir no campo e colore, debaixo, as palabras que sexan da familia de campo:

acampar

campiña

campesiño

campamento

campa

campionato

compás