

## TRABALLOS PARA 2º DE E.P. SEMANA DO 4 DE MAIO

Ola nenos!!!:

Seguides todos ben? Esperamos que sexa así de corazón. Continuade coas táboas e os ditados.

Para ler aconsellamos poñades en google: < CONTOS PARA VER E LER >, hai uns 150 videocontos moi, moi, moi entretidos.

### 1ª MISIÓN: Le e contesta.

#### LA CONTAMINACIÓN



¿Quién es el señor que hay en el dibujo?

\_\_\_\_\_

¿Qué está haciendo?

\_\_\_\_\_

¿Por qué lleva un micrófono en la mano?

\_\_\_\_\_

¿Qué ha pasado?

\_\_\_\_\_

Inventa un nombre para el señor del dibujo.

\_\_\_\_\_

¿Nos está contando una buena noticia? ¿cómo la sabes?

\_\_\_\_\_

\_\_\_\_\_

#### ME DUELE LA GARGANTA



Ángel es mi médico y no me da miedo. Siempre que mi madre me lleva me da una piruleta. Lo que no me gusta nada es que me ponga ese palo en la boca y que me diga: Marta di aaaaaaaa. Tampoco me gustan los jarabes.

Contesta:

¿Cómo se titula la lectura?

\_\_\_\_\_

¿Cómo se llama la protagonista de esta historia?

\_\_\_\_\_

¿Cómo se llaman los médicos de los niños?

\_\_\_\_\_

¿Le asusta a Marta ir al médico?

\_\_\_\_\_

¿Por qué quiere el ángel que diga la a?

\_\_\_\_\_

¿Cómo se llama el lugar donde se compran las medicinas?

\_\_\_\_\_

Escribe el nombre de alguna medicina que conozcas.

\_\_\_\_\_

**2ª MISIÓN:** **Adivinanzas** Pista: Son profesiones. Añadirlas al fichero que creasteis. Recordar enviarnos las respuestas como siempre, nosotras las colgaremos el viernes en ABALAR.

1.- Preparo el terreno y la semilla siembro; siempre esperando que el sol y la lluvia lleguen a tiempo.	4.- Caminar es su destino y, yendo de casa en casa, de su valija de cuero saca paquetes y cartas.
2.- No soy bombero, pero tengo manguera y alimento a los coches por la carretera.	5.- Persona valiente que tiene la intrepidez de enseñar a la niñez.
3.- Se puede quedar sin duros por culpa de los peludos.	6.- Bajo la bandera para iniciar la carrera.



## 5ª MISIÓN:

# ADIVINA DE QUÉ CUENTO SE TRATA

Te proponemos varios trozos de texto de varios cuentos. Tienes que adivinar el título del cuento al que pertenece cada trozo. No son muy difíciles. El viernes colgaremos en ABALAR las respuestas correcta junto con las de las adivinanzas.



1

Sopló y la casita voló. Después hundió a empujones la de troncos. Pero corrieron a casa de su hermano mayor, que estaba hecha de ladrillos.

2

Al llegar a casa, el niño jugó con los soldados. Los puso formados encima de la mesa y vio que uno de ellos era cojo.

-¡Anda -exclamó-, si sólo tiene una pierna!

3

-Gran Señor -se presentaba- traigo este regalo de parte del Marqués de Carabás.

Dejando al rey complacido, volvió junto a su amo.

6

Había una vez un hombre muy pobre y muy inocente. Pero, he aquí que en su huertecillo crecía una mata de habas muy especial, que subía hasta el cielo cuantas veces se lo pedía.

4

La niña se levantaba muy temprano, servía el desayuno a unos animalillos amigos suyos, a la madrastra y a sus hermanastras.

7

Mientras, al lobo se le hacía la boca agua y se relajaba pensando en el manjar que serían las tiernas y apetitosas cabritas.

5

Al día siguiente se dispuso a hacer unos zapatos con el trocito de piel que le quedaba. Pero... ¡qué extraño! El zapatero vio que los zapatos estaban cosidos y acabados.



## 6ª MISIÓN: Resuelve todos estos problemas matemáticos que te proponemos.

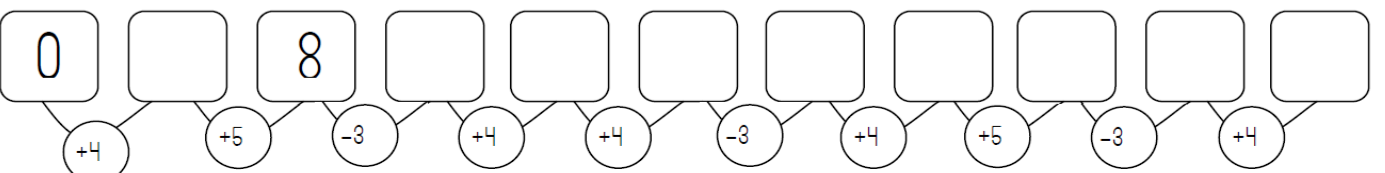
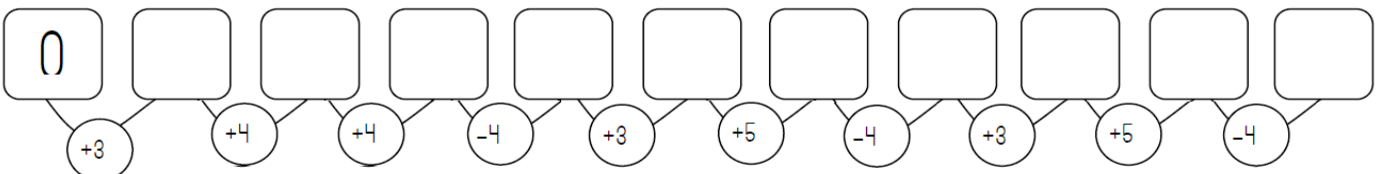
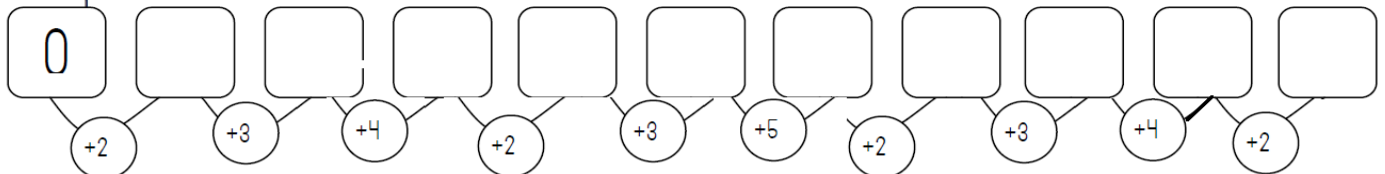
$4 + 6 + 3 =$

$8 + 5 + 7 =$

$4 + 1 + 2 =$

$79 - 7 =$

Completa las series:





¿Cuántos pétalos tienen en total?

Suma ▶  $6 + \underline{\quad} = 12$

Multiplicación ▶  $6 \times \underline{\quad} = \underline{\quad}$

Tienen          pétalos.



$$\begin{array}{r} 5 \ 5 \ 4 \\ -3 \ 8 \ 7 \\ \hline \square \ \square \ \square \end{array}$$

$$\begin{array}{r} 4 \ 3 \ 4 \\ -2 \ 3 \ 6 \\ \hline \square \ \square \ \square \end{array}$$

$$\begin{array}{r} 3 \ 4 \ 2 \\ -1 \ 5 \ 4 \\ \hline \square \ \square \ \square \end{array}$$

¿Cuántos globos hay en total?

Suma ▶  $\underline{\quad} + \underline{\quad} + \underline{\quad} = \underline{\quad}$

Multiplicación ▶  $\underline{\quad} \times \underline{\quad} = \underline{\quad}$

Hay          globos.



$$\begin{array}{r} 4 \ 2 \ 3 \\ -3 \ 6 \ 4 \\ \hline \square \ \square \ \square \end{array}$$

$$\begin{array}{r} 5 \ 4 \ 1 \\ -3 \ 5 \ 7 \\ \hline \square \ \square \ \square \end{array}$$

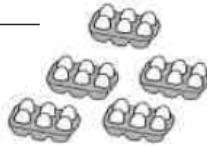
$$\begin{array}{r} 5 \ 0 \ 4 \\ -2 \ 3 \ 6 \\ \hline \square \ \square \ \square \end{array}$$

¿Cuántos huevos hay en total?

Suma ▶  $\underline{\quad} + \underline{\quad} + \underline{\quad} + \underline{\quad} + \underline{\quad} = \underline{\quad}$

Multiplicación ▶  $\underline{\quad} \times \underline{\quad} = \underline{\quad}$

Hay          huevos.



$$\begin{array}{r} 5 \ 3 \ 0 \\ -2 \ 5 \ 4 \\ \hline \square \ \square \ \square \end{array}$$

$$\begin{array}{r} 4 \ 2 \ 1 \\ -1 \ 6 \ 5 \\ \hline \square \ \square \ \square \end{array}$$

$$\begin{array}{r} 5 \ 5 \ 7 \\ -2 \ 7 \ 9 \\ \hline \square \ \square \ \square \end{array}$$

Escribe las multiplicaciones que se indican.

- Dos veces seis ▶  $\underline{\quad} \times \underline{\quad} = \underline{\quad}$
- Cuatro veces seis ▶  $\underline{\quad} \times \underline{\quad} = \underline{\quad}$
- Siete veces seis ▶  $\underline{\quad} \times \underline{\quad} = \underline{\quad}$
- Nueve veces seis ▶  $\underline{\quad} \times \underline{\quad} = \underline{\quad}$

Lee y escribe el dorsal de cada corredor y después completa

63

91

34

49

69


Mi dorsal es mayor que 30 y menor que 40.

Mi dorsal está entre 40 y 50.

Yo tengo un dorsal con 9 decenas.

El mío está más cerca de 70 que de 60.

El mío está más cerca de 60 que de 70.



Completa:

- Los dorsales mayores que 50 ▶
- Los dorsales menores que 50 ▶
- Los cinco dorsales ordenados de menor a mayor.

Relaciona las columnas como en el ejemplo:

Número	Decenas entre las que se encuentra	Decena más cercana
56	10 y 20	90
24	50 y 60	60
13	20 y 30	10
87	80 y 90	20

Colorea la decena más cercana

18	10	20	53	50	60	89	80	90
37	30	40	81	80	90	46	40	50

**Feliz semana !!!**