

Unidad 8. Muchas felicidades

Nombre: _____ Curso: _____ Fecha: _____

¿Te acuerdas?

4. ¿Qué número tiene cada niño en su camiseta? Lee y escribe el número de cada jugador.

20

81

40


38

19

Mi número está
entre 16 y 24

Yo tengo el número
con 8 D

El número de
mi camiseta es
el siguiente al
39



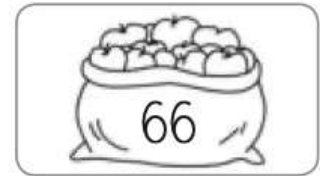

El número de mi
camiseta tiene 9 U

Mi número es
el resultado
de $15 + 23$

Números del 50 al 69

Alumno: _____ Curso: _____ Fecha: _____

1 Escribe con letra la cantidad de cada producto.



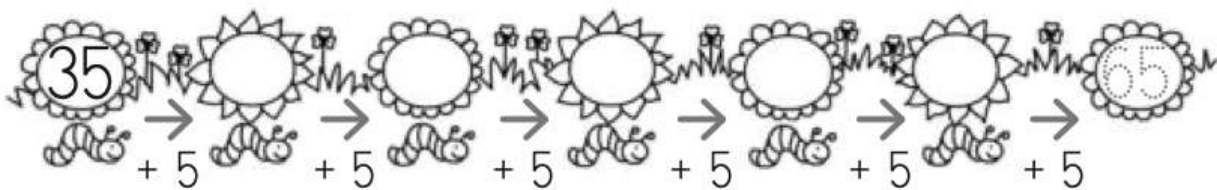
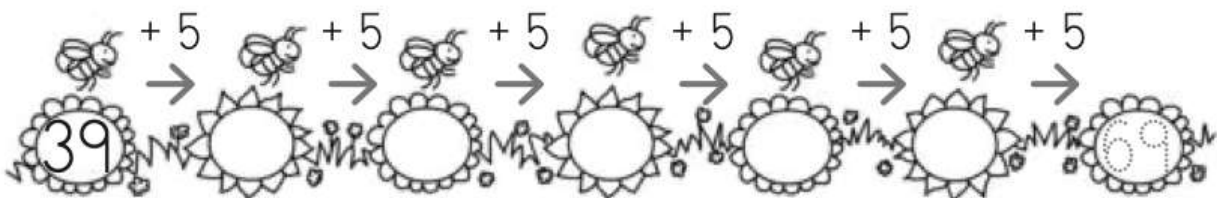




2 Completa los números que faltan.

50	51		53	54			57		59
	61			64	65				69

3 Continúa cada serie.



Alumno: _____ Curso: _____ Fecha: _____

1 Completa las sumas y calcula.



$$\begin{array}{r} 13 \\ + \square \\ \hline \square \end{array}$$

$$\square + 11 = \square$$

2 Calcula estas sumas.

$$22 + 37 = \square$$

$$\begin{array}{r} 16 \\ + 43 \\ \hline \square \end{array}$$

$$\begin{array}{r} 33 \\ + 26 \\ \hline \square \end{array}$$

$$38 + 21 = \square$$

3 Colorea la operación correcta y resuelve.

Saíd recoge 23  y 34 .


¿Cuántas frutas recoge en total?

$$\square \bigcirc \square = \square$$

$$23 + 34$$

$$34 - 23$$

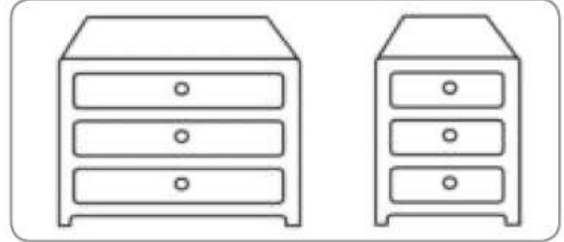
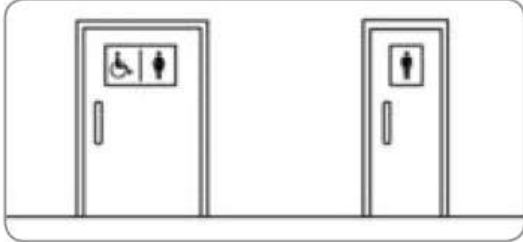
En total recoge \square frutas.




Ancho y estrecho

Alumno: _____ Curso: _____ Fecha: _____


1 Rodea en cada caso el objeto más ancho.



2 ¿Qué pantalón le gusta más a Ana? Colorea el cartel correcto.

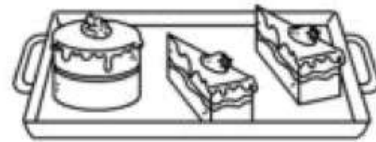
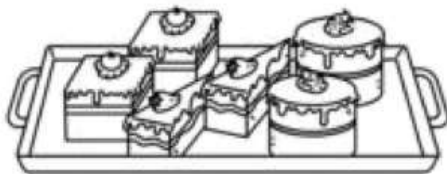



El más estrecho.



El más ancho.

3 Completa con ancha o estrecha.



La bandeja más tiene
 más  que la más .

Derecha e izquierda

Alumno: _____ Curso: _____ Fecha: _____

- 1 Observa dónde está la  y repasa la palabra correcta.



derecha

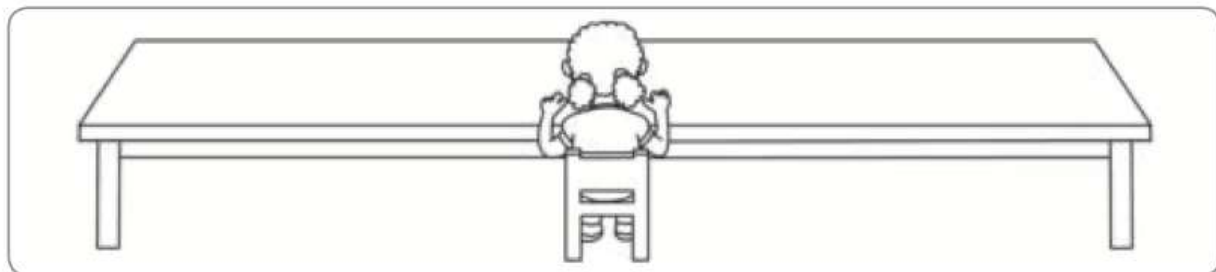
izquierda




derecha

izquierda

- 2 Dibuja 2  a la derecha de Ana.



- 3 Une con flechas correctamente.



derecha



izquierda

Ficha 2: Atención

AI

Alumno: _____ Curso: _____ Fecha: _____

1 Rodea las dieciséis diferencias en el dibujo de abajo.




Activación de la inteligencia Lógica Tratamiento de la información Geometría y orientación Medida Operaciones Números



VALOR POSICIONAL

Completa los cuadros

	D	U
56		
23		
58		
78		
68		
34		



Imágenes
Educativas.com

	D	U
	8	9
	2	4
	0	3
	7	9
	3	4
	4	7

	D	U
quince		
cuarenta y tres		
noventa y nueve		
cincuenta y cuatro		
treinta y cinco		
noventa y ocho		

- 71 Colecciono monedas. Tengo 86 y me regalan 12.
¿Cuántas monedas tengo en total?

Escribe aquí el resultado


R = _____
monedas



- 72 Tengo 98 monedas y regalo 23. ¿Cuántas monedas me quedan?

Escribe aquí el resultado


R = _____
monedas



- 73 La biblioteca de mi clase tiene 89 libros. Hemos prestado 17 libros para leerlos el fin de semana.
¿Cuántos libros quedan?

Escribe aquí el resultado

R = _____
libros



- 74 Tengo 45 gusanos de seda y me regalan 43.
¿Cuántos gusanos tengo ahora?

Escribe aquí el resultado

R = _____
gusanos

