

8

Práctica de la división

1 Divide:

$83 \overline{)5}$

$83 \overline{)6}$

$84 \overline{)5}$

$82 \overline{)2}$

$57 \overline{)5}$

$92 \overline{)8}$

$58 \overline{)4}$

$96 \overline{)7}$

$62 \overline{)3}$

$64 \overline{)7}$

$75 \overline{)5}$

$96 \overline{)8}$

$79 \overline{)7}$

$69 \overline{)2}$

$47 \overline{)3}$

2 Resuelve:

a. ¿Cuántas cajas de 6 magdalenas pueden llenarse con 96 magdalenas?

.....

b. Quiero repartir 65 globos entre 5 amigos. ¿Cuántos globos tendré que dar a cada uno?




.....

c. Una bolsa tiene 6 caramelos. ¿Cuántas bolsas hay que comprar para tener 84 caramelos?

.....

d. Si reparto 64 cromos entre 3 amigos, ¿cuántos cromos sobrarán?



.....

Nome _____ Data _____

- 1** A poboación rural é a que vive...
 - a. nas cidades.
 - b. nas vilas.
 - c. nas aldeas.
- 2** Nas aldeas e nas vilas...
 - a. as rúas son largas e longas.
 - b. hai casas baixas e edificios de pouca altura.
 - c. hai edificios de máis de cinco pisos.
- 3** O ensanche nas cidades son os barrios...
 - a. situados arredor do centro histórico.
 - b. máis antigos da cidade.
 - c. máis modernos da cidade.
- 4** Os parques, as zonas de ocio e os centros comerciais adoitan estar...
 - a. no centro histórico.
 - b. no ensanche.
 - c. na periferia.
- 5** A maior parte da poboación urbana traballa...
 - a. na agricultura.
 - b. nas fábricas.
 - c. nos servizos.
- 6** O Concello está formado polo alcalde e os...
 - a. concelleiros.
 - b. deputados.
 - c. senadores.
- 7** Os membros do Concello elíxense nas eleccións...
 - a. xerais.
 - b. autonómicas.
 - c. municipais.
- 8** O pleno está formado...
 - a. polo alcalde e os concelleiros elixidos por el.
 - b. o alcalde e todos os concelleiros elixidos polos cidadáns.
 - c. os concelleiros elixidos polo alcalde.
- 9** Os empregados municipais...
 - a. traballan para os concelleiros.
 - b. deciden en que van gastar o orzamento do Concello.
 - c. votan as ordenanzas municipais.
- 10** A recollida de residuos é un servizo municipal de...
 - a. urbanismo.
 - b. ocio.
 - c. saneamento.

Por la tierra y el cielo

Hace mucho tiempo, los seres vivos vagaban por el mundo. Nadie tenía un lugar fijo donde vivir. Un espíritu bueno los reunió a todos y les dijo:

–Amigos míos, quiero daros a cada uno de vosotros un hogar donde vivir.

Todos los seres vivos estuvieron encantados con la idea. Un hombre fue el primero en hablar.

–Dame una casa y un terrenito –le pidió al espíritu.

Luego los animales fueron desfilando uno tras otro ante él.

–Yo querría vivir en el cielo.

–Yo prefiero la oscuridad del bosque.

–Déjame vivir bajo la tierra.

Unos animales elegían la sabana o la estepa; otros, el agua de los ríos, los lagos o el mar. Cada uno expresaba sus preferencias y el espíritu iba dando su aprobación.


Hablaron todos los seres vivos. Excepto el camaleón.

–¿Tú no has escogido nada? –dijo el espíritu.

El animal pareció dudar. Por fin, habló:

–Es que a mí me gusta vivir en todas partes. Me adapto al lugar donde estoy en cada momento.

Desde entonces, los seres vivos están repartidos por la tierra, las aguas y los cielos. Pero el camaleón tiene su casa en cualquier lugar. Si salta sobre una hoja verde, se vuelve verde. Si corretea por una rama, se pone de color gris... Porque el color del camaleón es el de todos los colores del mundo.



¿Qué significa que los seres vivos vagaban por el mundo? Copia lo correcto.

- Que los seres vivos no tenían un trabajo fijo.
- Que los seres vivos iban de un sitio a otro sin rumbo fijo.
- Que los seres vivos estaban muy aburridos.

2 Contesta.

¿Qué problema tenían los seres vivos al principio?

¿Quién se interesó por el problema? ¿Qué propuso para solucionarlo?

3 ¿Quién respondió primero al espíritu? ¿Qué pidió?


4 ¿Qué animal crees que querría vivir en cada lugar?

En el cielo ▶ _____


En el bosque ▶ _____

Bajo tierra ▶ _____

En el mar ▶ _____



5 Contesta.



¿Qué animal es?

¿Dónde quería vivir?


6 ¿Qué quieren decir estas palabras del cuento? Explica.

El color del camaleón es el de todos los colores del mundo.

El número de los sustantivos

1 Clasifica los sustantivos según su número.




- acera ▪ peatones ▪ ajetreo ▪ luz
- ruido ▪ calle ▪ meses ▪ alegría
- niños ▪ voces ▪ coches ▪ comercios



Sustantivos en singular

Sustantivos en plural

2 Escribe sustantivos.



3 Escribe el plural de los sustantivos anteriores.

4 Completa las oraciones con el plural de estos sustantivos:



planta

guante

árbol

El jardinero poda los .

Hugo riega las .

Los son resistentes.

5 Escribe el singular de estas palabras:

- pañuelos ▪ bañadores ▪ flotadores ▪ hamacas

Nome _____ Data _____

REPASA ESTA INFORMACIÓN.

Os animais achégannos diversos beneficios. Os principais son:

- Alimento, como a carne, o peixe, os ovos, o leite e o mel.
- Vestido, como a la e o coiro.

Ademais, proporcionánnos outros beneficios: a compañía, a defensa ou o lecer.

1 Pensa e responde estas preguntas.

- De que animais comemos principalmente a súa carne? E o peixe?

- De que animais proceden os ovos? E o leite? E o mel?

2 Os animais proporcionánnos vestido. Completa as oracións sobre este tema.

- A la obtense do _____
dalgúns animais.

A la máis empregada é

a da _____.



- O coiro obtense a partir da _____
dalgúns animais.

Moitas das nosas roupas de _____

están feitas de coiro.



A VEXETACIÓN

Forma as oracións e escribeas debaixo da fotografía que corresponda.

Os bosques están formados por...

Nos desertos crecen...

Nas matogueiras hai...

As pradarias están formadas por...

Os ecosistemas de auga salgada son...

Os ecosistemas de auga doce son...

... moi poucas plantas, pois hai moi pouca humidade.

... os mares e os océanos.

... os ríos, lagos, lagoas, estanques...

... árbores que medran cerca unhas das outras.

... herbas con moi poucas árbores ou arbustos.

... arbustos, pois o terreo é pobre ou hai pouca humidade.













Nome _____ Data _____

REPASA ESTA INFORMACIÓN.

O **Concello** é a institución que goberna o territorio dun municipio. O Goberno municipal está formado polo **alcalde** e os **concelleiros**.

1 Escribe se son verdadeiras (V) ou falsas (F) as seguintes afirmacións. Despois, copia correctamente as oracións falsas.

- O alcalde ou alcaldesa encárgase de dirixir o Goberno municipal.
- O Goberno municipal está composto polo pleno.
- O pleno compóñeno o alcalde e todos os concelleiros do concello.

2 Numera de 1 a 4 o proceso que se segue nas eleccións municipais.



Os concelleiros elixen de entre eles o alcalde.



Os candidatos presentan o seu programa electoral.



As persoas maiores de 18 anos votan os candidatos.



Os candidatos máis votados son nomeados concelleiros.

Nome _____ Data _____

REPASA ESTA INFORMACIÓN.

As persoas que viven nas cidades son a **poboación urbana**, e a que vive nas aldeas, a **rural**. A poboación dun lugar pode aumentar ou diminuír segundo o número de **nacementos** ou de **mortes** e do número de **emigrantes** ou de **inmigrantes**.

1 Observa as imaxes. A que tipo de poboación corresponde cada unha, urbana ou rural? A que actividades se dedican principalmente?

2 Se nunha localidade vivise moita poboación anciá, como sería a mortalidade?

3 Que factores aumentan e diminúen a poboación?

4 Explica as diferenzas entre a inmigración e a emigración.

Descomposición de números de tres cifras

Nombre _____ Fecha _____

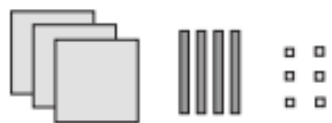


RECUERDA

Los números de tres cifras están formados por centenas, decenas y unidades.

1 Relaciona cada número con su descomposición.

367	$6 C + 8 D + 9 U$
689	$7 C + 6 D + 3 U$
763	$8 C + 9 D + 6 U$
896	$3 C + 6 D + 7 U$

2 Cuenta y completa.

	<table border="1" data-bbox="606 1097 893 1209"> <thead> <tr><th>C</th><th>D</th><th>U</th></tr> </thead> <tbody> <tr><td> </td><td> </td><td> </td></tr> </tbody> </table>	C	D	U				$3 C + _ D + _ U$ $300 + _ + _$
C	D	U						
	<table border="1" data-bbox="606 1254 893 1366"> <thead> <tr><th>C</th><th>D</th><th>U</th></tr> </thead> <tbody> <tr><td> </td><td> </td><td> </td></tr> </tbody> </table>	C	D	U				$_ C + _ D$ $_ + _$
C	D	U						
	<table border="1" data-bbox="606 1411 893 1523"> <thead> <tr><th>C</th><th>D</th><th>U</th></tr> </thead> <tbody> <tr><td> </td><td> </td><td> </td></tr> </tbody> </table>	C	D	U				$_ C + _ U$ $_ + _$
C	D	U						

3 Escribe cada número y haz su descomposición.

- Un número de tres cifras cuya cifra de las centenas es 4.

 ► _____

- Un número de tres cifras cuya cifra de las decenas es 9.

 ► _____

Comparación de números de tres cifras

Nombre _____ Fecha _____

RECUERDA

Para comparar números de tres cifras, se comparan las centenas, si son iguales se comparan las decenas, y si también son iguales, se comparan las unidades.

1 Compara los números y utiliza el signo correspondiente.

- 345 ○ 340
- 812 ○ 834
- 409 ○ 904
- 615 ○ 150
- 745 ○ 742
- 530 ○ 538
- 789 ○ 779
- 296 ○ 302
- 880 ○ 890

2 En cada grupo, rodea del color indicado.

ROJO El número mayor.

AZUL El número menor.



3 Piensa y escribe.

Cuatro números mayores que 500 ▶ _____

Cuatro números menores que 400 ▶ _____

4 Ordena y utiliza el signo adecuado.

De menor a mayor

- 234, 329, 432
- 809, 890, 880

De mayor a menor

- 547, 514, 584
- 650, 659, 654

3

A oración: suxeito e predicado

Nome _____ Data _____

LEMBRA

As **oracións** son mensaxes que expresan as nosas ideas e os nosos sentimentos por medio da linguaxe. Están formadas por palabras colocadas nunha orde determinada.

As oracións teñen **suxeito** e **predicado**.

1 Marca cunha barra (/) o final de cada oración e responde.

A durmir!

Xa hai un anaco que papá e mais eu ceamos.
Agora vou lavar os dentes e irei correndo para a cama. Onde deixaría o pixama?
Ai, que sono teño!



- Que signos che axudaron a saber onde acababa cada oración? _____

2 Copia cada oración nunha liña e anota cantas palabras ten.

As cegoñas fan niños enormes. Gústanlles as torres.
Alá arriba séntense moi ben.


_____ ▶ _____

_____ ▶ _____

_____ ▶ _____



3 Escribe oracións engadíndolles predicados aos seguintes suxeitos.



As abellas _____

Meu irmán e mais eu _____

3

Palabras polisémicas

Nombre _____ Fecha _____

1 Escribe la palabra polisémica que corresponde.

1. Vaso con pie en forma de campana.
2. Premio que se da al ganador de una competición.
3. Parte más alta de un árbol.

▶ _____

2 ¿Qué son? Escribe una oración con cada significado.



▶ _____



▶ _____



_____ ▶



_____ ▶



3 Escribe dos palabras polisémicas.



4 Explica los dos significados de la palabra destacada.

- Según la receta hay que separar la clara de la **yema**.
- Me clavé una espina en la **yema** del dedo.
