

1

Proba de control

MODELO A

Nome _____ Data _____

- 1 Observa estas dúas fotografías da mesma familia e escribe antes ou despois, segundo corresponda.





- 2 Observa a familia de Laura e une.

avó

pai



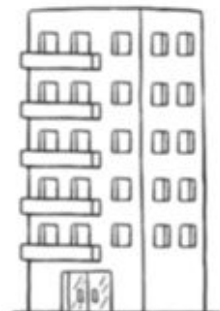
irmán

nai


- 3 Que tipo de casa é? Le e completa.

Esta casa ten _____ pisos.

Vivirán nela _____ familias.



4 Escribe o nome destes cuartos da casa.



5 En que cuarto poñerías cada cousa? Une.



sala



cociña



dormitorio



baño



6 Escribe unha actividade que realices no teu dormitorio.

Nome _____ Data _____

1 Observa e escribe onde corresponda.

praza

parque

avenida



2 Observa e escribe aldea ou cidade segundo corresponda.





3 Marca as características dunha cidade.



 Nela viven moitas persoas.

 As súas rías son estreitas.

 Os edificios adoitan ser altos.

 Hai abundante tráfico.

4 Completa.



Para coller un barco hai que ir _____


Para coller un tren hai que ir _____

Para coller un avión hai que ir _____

5 Arrodea de verde os transportes individuais e de azul os transportes colectivos.



6 Como deben estar os semáforos para que a nena poida cruzar a rúa? Coloréaos.



Nome _____ Data _____

1 Colorea en cada caso o que corresponda.

As aldeas son localidades .

Teñen casas



e entre elas hai .

As cidades son localidades .

En xeral, as súas rías son



Os edificios das cidades son .

2 Arrodea e escribe só as profesións que se encargan de coidar a localidade.



3 Observa e completa.



Nas rúas, os _____

circulan pola _____



Nas rúas, os _____

circulan pola _____

4 Arrodea os sinais de tráfico.



5 Debuxa un transporte colectivo e explica o que saibas del.



Nome _____ Data _____

1 Escribe outros parentescos da familia de Alberte.



Alberte





fillo












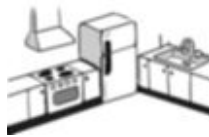
2 Completa o encrucillado.

cociña

sala

baño

dormitorio




Nome _____ Data _____

1 Pensa e escribe máis ou menos en cada caso.



Nunha aldea hai
habitantes ca nunha vila.



Nunha cidade hai
edifícios ca nunha vila.

2 Marca a aldea.




3 Observa e colorea os semáforos segundo corresponda.



Nome _____ Data _____

1 Observa e completa.

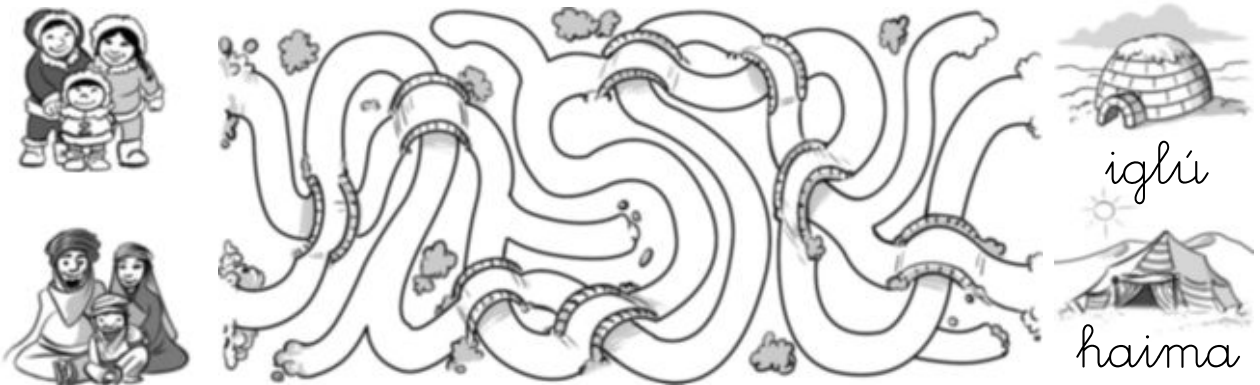


Icia é filla de _____.

Luis é fillo de _____ e de _____.

Manuel e Adela son o papá e a mamá de _____ e de _____.

2 Colorea cada camiño cunha cor diferente e pescuda onde vive cada familia.



Nome _____ Data _____

- 1** Pensa na túa localidade e colorea en cada caso o que corresponda. Despois, completa o cartel.

A localidade onde vivo é

grande mediana pequena .

As vivendas son casas edificios .

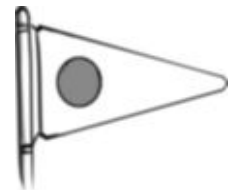
Entre elas hai rías camiños .



aldea
vila
cidade

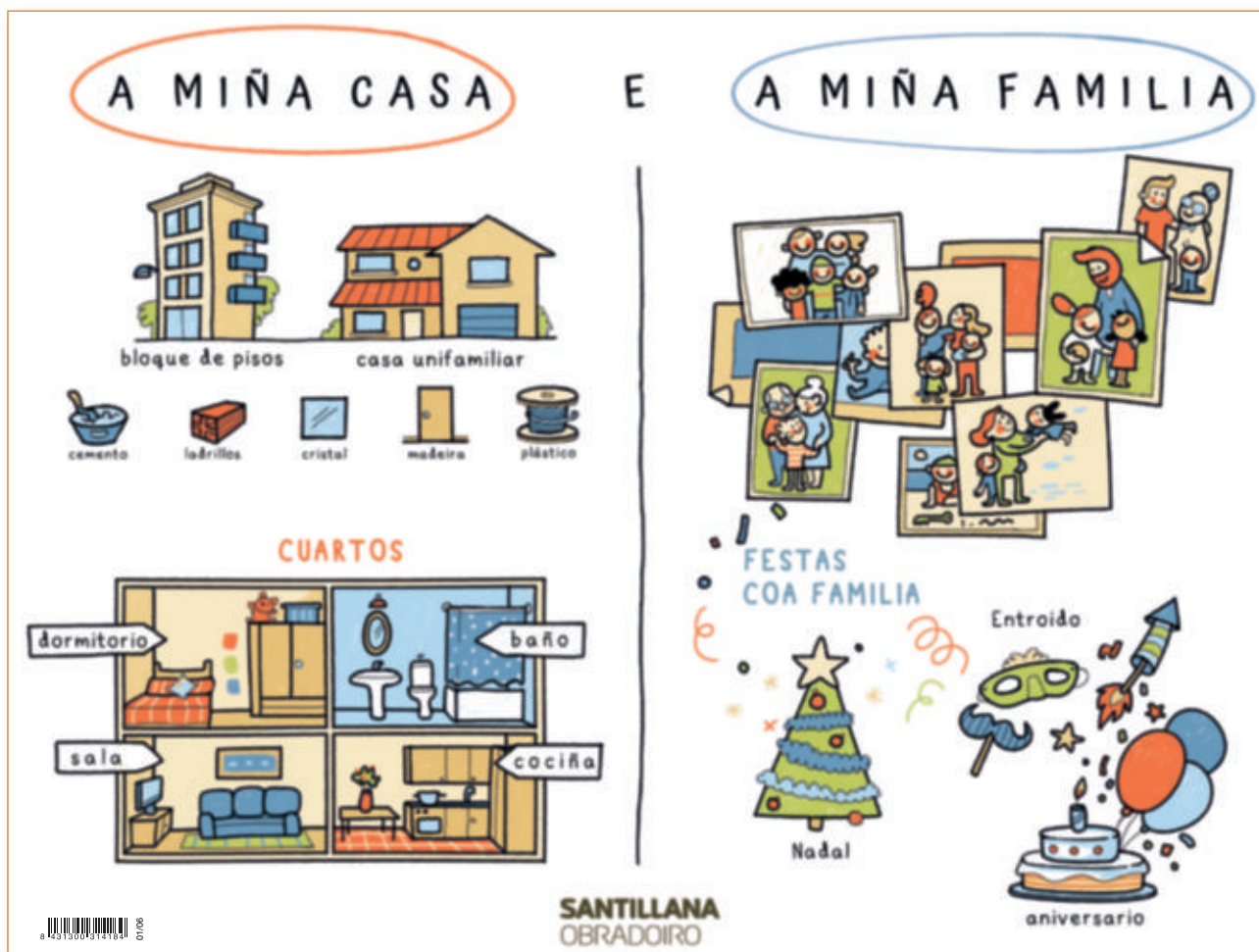
Benvido á miña _____!

- 2** Colorea os sinais que teñen que ver co tráfico.



Láminas de pensamento visual

Lámina 1. A miña casa e a miña familia



Todos temos unha **familia**.

Os nosos pais, nais, irmáns, irmás, avós, avoas, curmáns, curmás, tíos e tías forman parte da nosa familia.

Hai **familias moi diferentes**. Por exemplo, hai familias formadas por pai, nai e varios fillos ou fillas; e outras formadas por un só pai ou nai e un fillo.

A MIÑA CASA



As persoas vivimos en casas moi diferentes.

Hai edificios en que vive unha soa familia: son as **casas unifamiliares**. Tamén hai edificios en que viven moitas familias: son os **bloques de pisos**.

As casas constrúense con materiais moi diversos: ladrillos, cemento, cristal, madeira, plástico...



Nas casas hai distintos **cuartos**.

Os principais cuartos dunha casa son o salón, a cociña, o baño e os dormitorios.



As persoas organizamos **festas** coa nosa familia, cos nosos amigos e amigas, cos nosos veciños e veciñas...

Xuntos celebramos acontecementos importantes.

Lámina 2. O colexio



No **colexio** pasamos gran parte do noso tempo. Imos ao colexio para **aprender** cousas novas e coñecer novos **amigos e amigas**.

No colexio compartimos **a aula** cos compañeiros e coas compañeiras **e co profesor ou coa profesora**.



Ademais dos profesores e das profesoras, no colexio tamén traballan **outras persoas**, que se encargan de dirixir o colexio, abrilo ou pechalo, mantelo limpo e ordenado...



Para traballar na aula utilizamos diferentes materiais, como as tesoiras, a regra ou os rotuladores. Na clase tamén hai outros obxectos, como os colgadoiros, os estantes ou o encerado.



Ademais da nosa clase, no colexio hai **outros lugares**: outras aulas, o patio do recreo, o ximnasio, a biblioteca... Neles podemos realizar moitas **actividades** diferentes, como ler, facer deporte, xogar cos nosos amigos e coas nosas amigas, e incluso celebrar festas.

Lámina 3. A localidade



As persoas vivimos nunha **localidade**, que pode ser unha **aldea**, unha **vila** ou unha **cidade**.

Unha localidade e o terreo que hai ao seu arredor forman un **municipio**.



As **aldeas** son localidades moi pequenas onde viven poucas persoas.

As persoas que viven nas aldeas adoitan **traballar na natureza**.



As **vilas** e as **ciudades** son localidades máis grandes ca as aldeas, porque teñen moitos habitantes.

As persoas que viven nas cidades e nas vilas traballan, principalmente en **fábricas, comercios, hostalaría e oficinas**.



Nas cidades e nas vilas grandes, as rúas e os edificios próximos agrúpanse en **barrios**. Nun barrio hai vivendas, colexios, tendas, prazas...

As persoas que viven nunha mesma localidade ou barrio son os **veciños** e as **veciñas**. Os veciños axúdanse e respectan as normas de convivencia.



Un municipio está gobernado polo **concello**. O concello está formado polo alcalde ou a alcaldesa e os concelleiros e as concelleiras. Tamén se chama concello o edificio onde traballan estas persoas.

Para atender as necesidades dos habitantes do municipio, o concello organiza **servizos municipais**, como a recollida do lixo, a iluminación das rúas, o coidado dos parques e xardíns...